

Development Administration in Tamil Nadu



Match the following statement, and choose the correct option

Industries

Location

a) Textile

1. Ariyalur

b) Cement

2. Tiruchirappalli

c) Electronics

3. Karur

d) Paper

4. Vellore

	a	b	c	d
(A)	3	1	2	4
(B)	4	1	2	3
(C)	1	2	3	4
(D)	4	3	2	1
(E)	Answer not known			



பின்வரும் அறிக்கையைப் பொருத்தவும், சரியான விருப்பத்தைத் தேர்வு செய்யவும்
தொழில்களின் இடம்

a) ஜவுளி

1. அரியலூர்

b) சிமெண்ட்

2. திருச்சிராப்பள்ளி

c) எலக்ட்ரானிக்ஸ்

3. கரூர்

d) தாள்


4. வேலூர்

	a	b	c	d
(A)	3	1	2	4
(B)	4	1	2	3
(C)	1	2	3	4
(D)	4	3	2	1
(E)	பதில் தெரியவில்லை			

Which one of the following statements is/are correct about Tamil Nadu M-sand policy 2023?

- i. It aims to ensure zero waste quarrying in the State
- ii. As per the policy, the M-sand units are classified into three groups

- (A) i only
- (B) i and ii
- (C) both i and ii
- (D) neither i nor ii
- (E) Answer not known



தமிழ்நாடு எம்-சாண்ட் கொள்கை 2023 பற்றி பின்வரும் கூற்றுகளில் எது

சரியானது/சரியானது?

i. இது மாநிலத்தில் பூஜ்ஜிய கழிவு குவாரிகளை உறுதி செய்வதை நோக்கமாகக் கொண்டுள்ளது

ii. கொள்கையின்படி, எம்-சாண்ட் அலகுகள் மூன்று குழுக்களாக

வகைப்படுத்தப்பட்டுள்ளன


(A) i மட்டும்

(B) i மற்றும் ii

(C) i மற்றும் ii இரண்டும்

(D) நான் அல்லது ii இல்லை

(E) பதில் தெரியவில்லை



Anna Co-Operative Spinning Mills Limited is in

- (A) Chennai
- (B) Thoothukudi
- (C) Madurai
- (D) Theni
- (E) Answer not known

அண்ணா கோ-ஆபரேட்டிவ் ஸ்பின்னிங் மில்ஸ் லிமிடெட் உள்ளது

- (A) சென்னை
- (B) தூத்துக்குடி
- (C) மதுரை
- (D) பிறகு நான்
- (E) பதில் தெரியவில்லை



Which one of the following statements is/are correct about MusQan?

- i. It aims to provide high-quality and safe Child-Friendly Services in Public Health Facilities
- ii. It specifically focuses on the care around birth provided in the Labor room and Maternity Operation Theater

- (A) i only
- (B) i and ii
- (C) both i and ii
- (D) neither i nor ii
- (E) Answer not known



முஸ்கான் பற்றிய பின்வரும் கூற்றுகளில் எது சரியானது/சரியானது?

- i. இது பொது சுகாதார வசதிகளில் உயர்தர மற்றும் பாதுகாப்பான குழந்தை நட்பு சேவைகளை வழங்குவதை நோக்கமாகக் கொண்டுள்ளது
- ii இது குறிப்பாக லேபர் ரூம் மற்றும் மகப்பேறு அறுவை சிகிச்சை அரங்கில் வழங்கப்படும் பிரசவத்தின் மீது கவனம் செலுத்துகிறது

- (A) நான் மட்டும்
- (B) i மற்றும் ii
- (C) i மற்றும் ii இரண்டும்
- (D) நான் அல்லது ii இல்லை
- (E) பதில் தெரியவில்லை

Central Leprosy Teaching and Research Institute is in

- (A) Madurai
- (B) Chengalpattu
- (C) Tirunelveli
- (D) Nilgiris
- (E) Answer not known

மத்திய தொழுநோய் கற்பித்தல் மற்றும் ஆராய்ச்சி நிறுவனம் உள்ளது

- (A) மதுரை
- (B) செங்கல்பட்டு
- (C) திருநெல்வேலி
- (D) நீலகிரி
- (E) பதில் தெரியவில்லை



Arrange the following events in Chronological order

I. Anti Hindi Agitation

II. State Reorganization Act

III. State Autonomy Resolution

IV. Madras renamed as Chennai

(A) I, II, III, IV

(C) IV, III, II, I

(E) Answer not known

(B) III, II, I, IV

(D) II, IV, III, I

பின்வரும் நிகழ்வுகளை காலவரிசைப்படி வரிசைப்படுத்தவும்

I. இந்தி எதிர்ப்பு போராட்டம்

II. மாநில மறுசீரமைப்பு சட்டம்

III. மாநில சுயாட்சி தீர்மானம்

IV. மெட்ராஸ் சென்னை என்று பெயர் மாற்றப்பட்டது

(A) I, II, III, IV

(B) III, II, I, IV

(C) IV, III, II, I

(D) II, IV, III, I

(E) பதில் தெரியவில்லை

The First Official Census in India was conducted in

- (A) 1880
- (B) 1881
- (C) 1882
- (D) 1883
- (E) Answer not known

இந்தியாவில் முதல் அதிகாரப்பூர்வ மக்கள் தொகை கணக்கெடுப்பு நடத்தப்பட்டது

- (A) 1880
- (B) 1881
- (C) 1882
- (D) 1883
- (E) பதில் தெரியவில்லை



The Non-Brahmin Manifesto in 1916 was published by

- (A) Congress party
- (B) Justice party
- (C) Dravidar Kazhagam
- (D) Communist party
- (E) Answer not known

பிராமணரல்லாத அறிக்கை 1916 இல் வெளியிடப்பட்டது

- (A) காங்கிரஸ் கட்சி
- (B) நீதிக்கட்சி
- (C) திராவிடர் கழகம்
- (D) கம்யூனிஸ்ட் கட்சி



In India, the Reservations are placed under

- (A) Fourth schedule (B) Seventh schedule
(C) Ninth schedule (D) Eleventh schedule
(E) Answer not known

இந்தியாவில், முன்பதிவுகள் கீழ் வைக்கப்பட்டுள்ளன


- (A) நான்காவது அட்டவணை (B) ஏழாவது அட்டவணை
(C) ஒன்பதாவது அட்டவணை (D) பதினொன்றாவது அட்டவணை
(E) பதில் தெரியவில்லை

The Tamil Nadu is providing ____ % reservation for the people of its state

- (A) 33
- (B) 49
- (C) 51
- (D) 69
- (E) Answer not known

தமிழ்நாடு தனது மாநில மக்களுக்கு ____% இடஒதுக்கீடு வழங்குகிறது

- (A) 33
- (B) 49
- (C) 51
- (D) 69
- (E) பதில் தெரியவில்லை



Which of the following statement(s) is /are correct about Indra Sawhney Case?

- i. The total reservation should not exceed 50%
- ii. The reservation in carry forward should not exceed 50%
- iii. Reservation in promotions is allowed.
- iv. The concept of creamy layer was introduced for scheduled caste.

- (A) iii only
- (B) i and ii only
- (C) ii and iii only
- (D) ii and iv only
- (E) Answer not known

இந்திரா சாஹ்னி வழக்கைப் பற்றி பின்வரும் கூற்று(கள்) எது சரியானது?

- i. மொத்த இட ஒதுக்கீடு 50%க்கு மிகாமல் இருக்க வேண்டும்
- ii. கேரி ஃபார்வேர்டில் முன்பதிவு 50%க்கு மேல் இருக்கக்கூடாது
- iii. பதவி உயர்வுகளில் இட ஒதுக்கீடு அனுமதிக்கப்படுகிறது
- iv. கிரீமி லேயர் என்ற கருத்து அட்டவணை சாதியினருக்காக அறிமுகப்படுத்தப்பட்டது

(A) iii மட்டும்

(B) i மற்றும் ii மட்டுமே

(C) ii மற்றும் iii மட்டும்

(D) ii மற்றும் iv மட்டும்

(E) பதில் தெரியவில்லை

Which city is known as the textile capital of Tamil Nadu

- (A) Coimbatore
- (B) Salem
- (C) Tiruppur
- (D) Karur
- (E) Answer not known

தமிழ்நாட்டின் ஜவுளித் தலைநகரம் என்று அழைக்கப்படும் நகரம் எது?

- (A) கோயம்புத்தூர்
- (B) சேலம்
- (C) திருப்பூர்
- (D) கரூர்
- (E) பதில் தெரியவில்லை



Which one of the following statements is/are correct about State Industries Promotion Corporation of Tamil Nadu Ltd (SIPCOT)?

- i. It was established in the year 1971 to develop industrial growth in Tamil Nadu
- ii. It acts as a Nodal Agency of the government in the sanction / disbursement of Structured Package of Assistance to large and small industrial units

- (A) i only
- (B) i and ii
- (C) both i and ii
- (D) neither i nor ii
- (E) Answer not known

தமிழ்நாடு மாநில தொழில்கள் மேம்பாட்டுக் கழகம் (SIPCOT) பற்றி பின்வரும் கூற்றுகளில் எது சரியானது/சரியானது?

- i. தமிழ்நாட்டில் தொழில் வளர்ச்சியை மேம்படுத்துவதற்காக 1971 ஆம் ஆண்டு நிறுவப்பட்டது
- ii. இது பெரிய மற்றும் சிறிய தொழில்துறை அலகுகளுக்கு கட்டமைக்கப்பட்ட உதவித்தொகையை அனுமதிப்பதில் / வழங்குவதில் அரசாங்கத்தின் நோடல் ஏஜன்சியாக செயல்படுகிறது.

- (A) i மட்டும்
- (B) i மற்றும் ii
- (C) i மற்றும் ii இரண்டும்
- (D) i அல்லது ii இல்லை
- (E) பதில் தெரியவில்லை

Which is called the Detroit of Asia?

- (A) Erode
- (B) Madurai
- (C) Vellore
- (D) Chennai
- (E) Answer not known

ஆசியாவின் டெட்ராய்ட் என்று ஏன் அழைக்கப்படுகிறது?

- (A) ஈரோடு
- (B) மதுரை
- (C) வேலூர்
- (D) சென்னை
- (E) பதில் தெரியவில்லை



Which of the following pair is matched incorrectly

Dam

District

- (A) Kallanai – Tiruchirappalli
- (B) Vaigai – Theni
- (C) Bhavanisagar – Erode
- (D) Kodaganar - Dindigul
- (E) Answer not known

பின்வரும் ஜோடிகளில் எது தவறாகப் பொருந்துகிறது

அணை

மாவட்டம்

- (A) கல்லணை - திருச்சிராப்பள்ளி
- (B) வைகை - தேனி
- (C) பவானிசாகர் - ஈரோடு
- (D) கோடகனார் - திண்டுக்கல்
- (E) பதில் தெரியவில்லை

Tamil Nadu Co-operative Silk Producers Federation Ltd is headquarter at

- (A) Erode
- (B) Tiruppur
- (C) Kancheepuram
- (D) Salem
- (E) Answer not known

தமிழ்நாடு கூட்டுறவு பட்டு உற்பத்தியாளர்கள் கூட்டமைப்பு லிமிடெட் தலைமையகம்

- (A) ஈரோடு
- (B) திருப்பூர்
- (C) காஞ்சிபுரம்
- (D) சேலம்
- (E) பதில் தெரியவில்லை



Which city is known as the gateway of Tamil Nadu?

- (A) Chennai
- (B) Kanyakumari
- (C) Nagapattinam
- (D) Tuticorin
- (E) Answer not known

தமிழ்நாட்டின் நுழைவாயில் என்று அழைக்கப்படும் நகரம் எது?

- (A) சென்னை
- (B) கன்னியாகுமரி
- (C) நாகப்பட்டினம்
- (D) தூத்துக்குடி

The total Coastal length of Tamil Nadu is

- (A) 998 km
- (B) 1076 km
- (C) 1221 km
- (D) 1316 km
- (E) Answer not known

தமிழகத்தின் மொத்த கடற்கரை நீளம்

- (A) 998 கி.மீ
- (B) 1076 கி.மீ
- (C) 1221 கி.மீ
- (D) 1316 கி.மீ
- (E) பதில் தெரியவில்லை



Which of the following pair is matched incorrectly

Postal Zone – City

- (A) Chennai – Chennai
- (B) Western – Coimbatore
- (C) Central – Thanjavur
- (D) Southern – Madurai
- (E) Answer not known



பின்வரும் ஜோடிகளில் எது தவறாகப் பொருந்துகிறது

அஞ்சல் மண்டலம் - நகரம்

(A) சென்னை - சென்னை

(B) மேற்கு - கோயம்புத்தூர்

(C) மத்திய - தஞ்சாவூர்

(D) தெற்கு - மதுரை

(E) பதில் தெரியவில்லை



As per 2011 census, what is the Sex Ratio in Tamil Nadu?

- (A) 954
- (B) 962
- (C) 995
- (D) 1002
- (E) Answer not known



2011 மக்கள் தொகை கணக்கெடுப்பின்படி, தமிழ்நாட்டில் பாலின விகிதம் என்ன?

- (A) 954
- (B) 962
- (C) 995
- (D) 1002
- (E) பதில் தெரியவில்லை



THANK YOU