


TNPSC COMBINED



DIRECT CLASS



ONLINE CLASS

Available

**SINGLE FEE
MULTIPLE EXAMS**

₹19,999

**ADMISSION OPEN
JOIN NOW**



Time Tracker



Audio Study Materials



Easy EMI



Speed Maths



Book Set Materials - Count

+91 8939 144 344 | +91 8939 244 344




We Shine Academy

SINCE 2013

guiding you to get through

TNPSC | TNUSRB | RRB | SSC | BANK EXAM

MATHS



பின்வரும் தொடரில் அடுத்து வரும் எண்ணை காண்க

Find the next number in the following series

4, 6, 9, $13\frac{1}{2}$



பின்வரும் தொடரில் அடுத்து வரும் எண்ணை காண்க

Find the next number in the following series

4, 6, 9, $13\frac{1}{2}$

(A) $20\frac{1}{4}$

(B) $22\frac{3}{4}$

(C) 19

(D) $17\frac{1}{2}$

முதல் n இயல் எண்களின் திட்டவிலக்கம் என்ன?

What is the standard deviation of the first n natural numbers?



முதல் n இயல் எண்களின் திட்டவிலக்கம் என்ன?

What is the standard deviation of the first n natural numbers?

✓ (A) $\sqrt{\frac{n^2 - 1}{12}}$

(B) $\sqrt{\frac{n^2 + 1}{12}}$

(C) $\sqrt{\frac{n(n + 1)}{2}}$

(D) $\sqrt{\frac{n(n + 1)(2n + 1)}{6}}$

6 4 1 2 2 8 7 4 2 1 5 3 8 6 2 1 7 1 4 1 3 2 8 6.

என்ற தொடரில் ஒன்றுவிட்டு ஒன்று எண்களாக எத்தனை ஜோடிகளின் வித்தியாசம் 2 எனக் காண்க.

In the series

6 4 1 2 2 8 7 4 2 1 5 3 8 6 2 1 7 1 4 1 3 2 8 6

How many pairs of alternate numbers have a difference of 2?

6 4 1 2 2 8 7 4 2 1 5 3 8 6 2 1 7 1 4 1 3 2 8 6.

என்ற தொடரில் ஒன்றுவிட்டு ஒன்று எண்களாக எத்தனை ஜோடிகளின் வித்தியாசம் 2 எனக் காண்க.

In the series

6 4 1 2 2 8 7 4 2 1 5 3 8 6 2 1 7 1 4 1 3 2 8 6

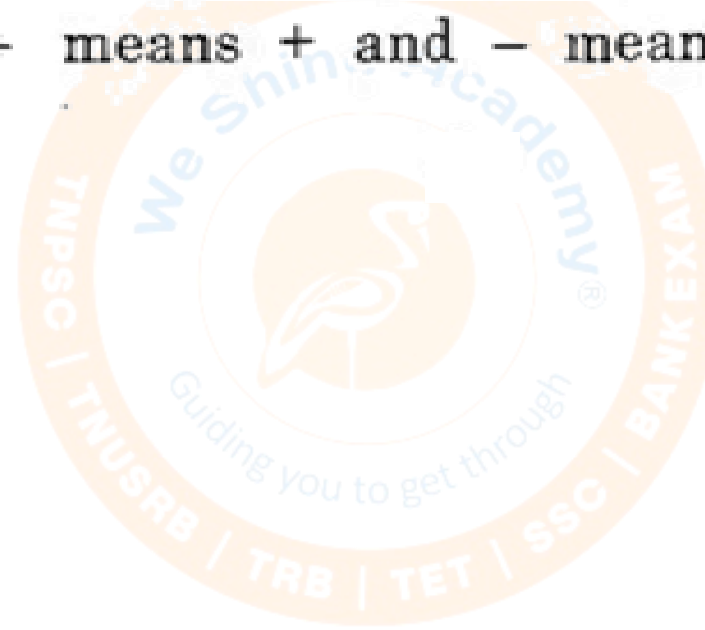
How many pairs of alternate numbers have a difference of 2?

- (A) 2 (B) 4 (C) 6 (D) 8

+ என்பது \times , \times என்பது $-$, \div என்பது $+$ மற்றும் $-$ என்பது \div எனில்

$(175 - 25) \div (5 + 20) \times (3 + 10)$ ன் மதிப்பு யாது?

If $+$ means \times , \times means $-$, \div means $+$ and $-$ means \div then what is the value of $(175 - 25) \div (5 + 20) \times (3 + 10)$



+ என்பது \times , \times என்பது $-$, \div என்பது $+$ மற்றும் $-$ என்பது \div எனில்

$(175 - 25) \div (5 + 20) \times (3 + 10)$ ன் மதிப்பு யாது?

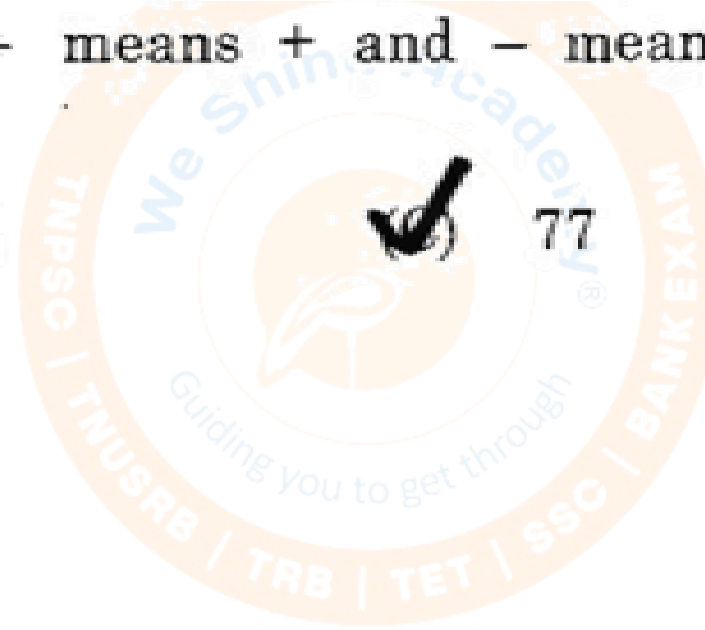
If $+$ means \times , \times means $-$, \div means $+$ and $-$ means \div then what is the value of $(175 - 25) \div (5 + 20) \times (3 + 10)$

(A) 265

(B) 78

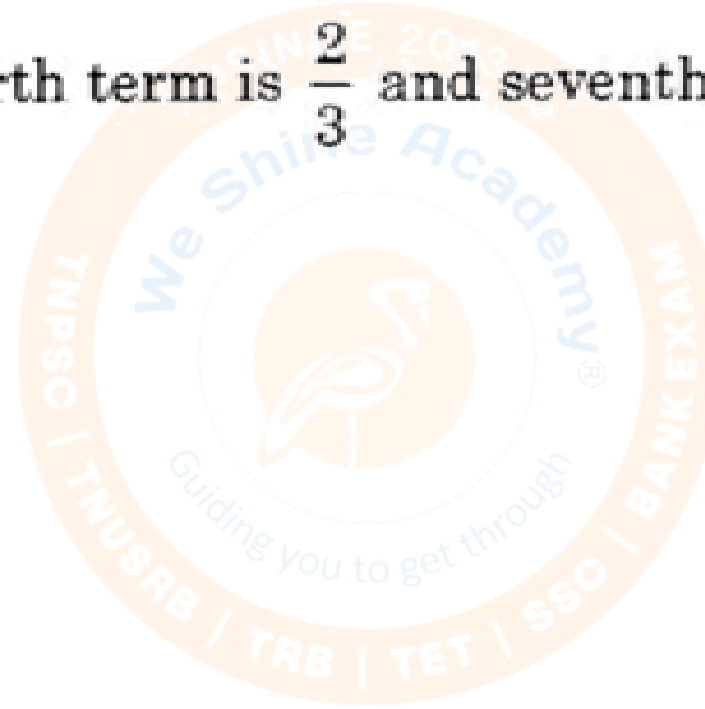
(C) 77

(D) 354



ஒரு பெருக்குத் தொடர் வரிசையின் நான்காவது உறுப்பு $\frac{2}{3}$ மற்றும் அதன் ஏழாவது உறுப்பு $\frac{16}{81}$ எனில் அந்த வரிசையின் முதல் உறுப்பு என்ன?

In a geometric series, if the fourth term is $\frac{2}{3}$ and seventh term is $\frac{16}{81}$, then what is the first term of the series?



ஒரு பெருக்குத் தொடர் வரிசையின் நான்காவது உறுப்பு $\frac{2}{3}$ மற்றும் அதன் ஏழாவது உறுப்பு $\frac{16}{81}$ எனில் அந்த வரிசையின் முதல் உறுப்பு என்ன?

In a geometric series, if the fourth term is $\frac{2}{3}$ and seventh term is $\frac{16}{81}$, then what is the first term of the series?

(A) $\frac{2}{3}$

(B) $\frac{4}{9}$

(C) $\frac{8}{27}$

✓ (D) $\frac{9}{4}$

ஒரு முக்கோணத்தின் ஒவ்வொரு பக்கமும் இரு மடங்காக அதிகரிக்கப்பட்டால், அந்த முக்கோணத்தின் பரப்பளவு எத்தனை சதவீதம் அதிகரித்திருக்கும்?

Find the percentage increase in the area of a triangle if its each side is doubled.



ஒரு முக்கோணத்தின் ஒவ்வொரு பக்கமும் இரு மடங்காக அதிகரிக்கப்பட்டால், அந்த முக்கோணத்தின் பரப்பளவு எத்தனை சதவீதம் அதிகரித்திருக்கும்?

Find the percentage increase in the area of a triangle if its each side is doubled.

- (A) 100 % (B) 200 % (C) 300 % (D) 400 %

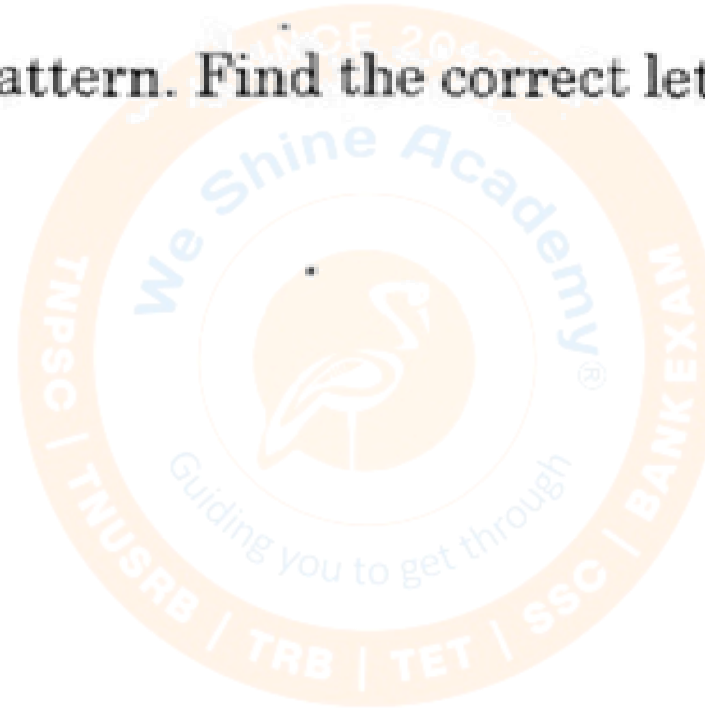


கீழே உள்ள வரிசை ஒரு முறையான மாதிரியைச் சார்ந்தது. கேள்விக்குறி இட்ட இடத்தில், சரியான எழுத்தைக் கொண்டு நிறைவு செய்க.

C E I K O Q ?

The sequence follow a regular pattern. Find the correct letter for question mark, to complete the sequence .

C E I K O Q ?



கீழே உள்ள வரிசை ஒரு முறையான மாதிரியைச் சார்ந்தது. கேள்விக்குறி இட்ட இடத்தில், சரியான எழுத்தைக் கொண்டு நிறைவு செய்க.

C E I K O Q ?

The sequence follow a regular pattern. Find the correct letter for question mark, to complete the sequence .

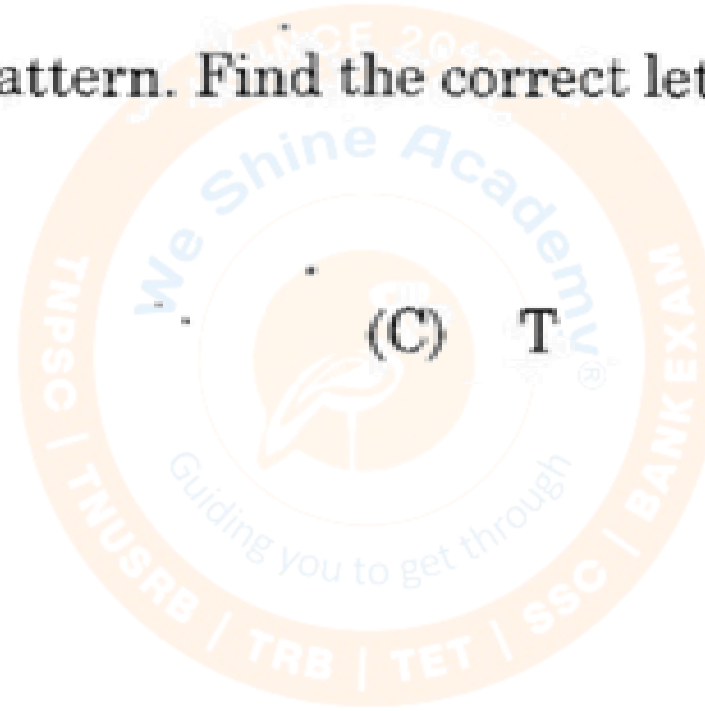
C E I K O Q ?

(A) R

(B) S

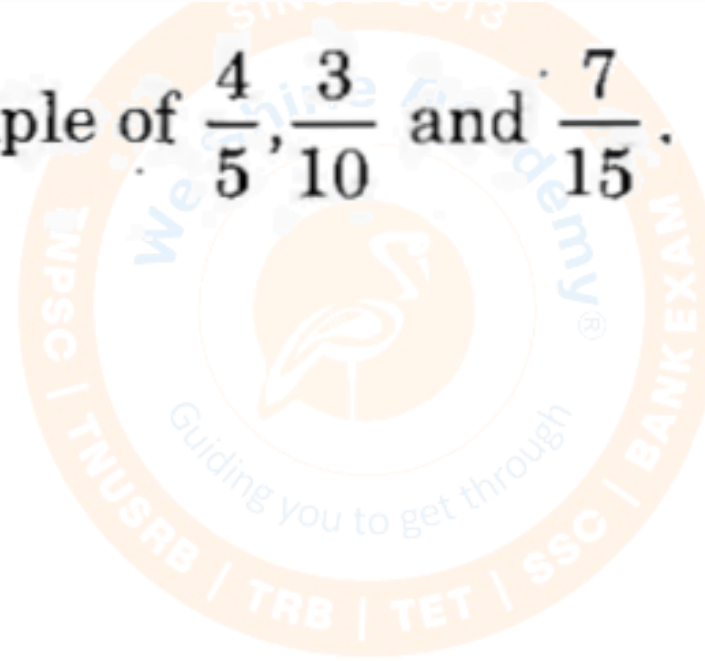
(C) T

(D) U



$\frac{4}{5}$, $\frac{3}{10}$ மற்றும் $\frac{7}{15}$ ஆகியவற்றின் மீச்சிறு பொது மடங்கை காண்.

Find Least Common Multiple of $\frac{4}{5}$, $\frac{3}{10}$ and $\frac{7}{15}$.



$\frac{4}{5}$, $\frac{3}{10}$ மற்றும் $\frac{7}{15}$ ஆகியவற்றின் மீச்சிறு பொது மடங்கை காண்.

Find Least Common Multiple of $\frac{4}{5}$, $\frac{3}{10}$ and $\frac{7}{15}$.



$\frac{84}{5}$

(B)

$\frac{5}{84}$

(C)

$\frac{2}{15}$

(D)

$\frac{12}{15}$

மூன்று எண்கள் 1 : 2 : 3 என்ற விகிதத்தில் உள்ளன. அவற்றின் மீப்பெரு பொது காரணி (H.C.F) 12 எனில் அந்த எண்கள் யாவை?


Three numbers are in the ratio 1 : 2 : 3. Their highest common factor is 12. Find the numbers



மூன்று எண்கள் 1 : 2 : 3 என்ற விகிதத்தில் உள்ளன. அவற்றின் மீப்பெரு பொது காரணி (H.C.F) 12 எனில் அந்த எண்கள் யாவை?

Three numbers are in the ratio 1 : 2 : 3. Their highest common factor is 12. Find the numbers

- ✓ (A) 12, 24, 36 (B) 24, 48, 72 (C) 12, 24, 48 (D) 48, 60, 72



இரண்டு எண்களின் விகிதம் 2 : 3. அவ்வெண்களின் மீப்பெரு பொது காரணி மற்றும் மீச்சிறு பொது மடங்கு ஆகியவற்றின் பெருக்குத் தொகை 150 எனில், அந்த இரு எண்களின் கூட்டுத் தொகை யாது?

If the two numbers are in the ratio of 2 : 3 and the product of their highest common factor and least common multiple is 150, then find the sum of the numbers.



இரண்டு எண்களின் விகிதம் 2 : 3. அவ்வெண்களின் மீப்பெரு பொது காரணி மற்றும் மீச்சிறு பொது மடங்கு ஆகியவற்றின் பெருக்குத் தொகை 150 எனில், அந்த இரு எண்களின் கூட்டுத் தொகை யாது?

If the two numbers are in the ratio of 2 : 3 and the product of their highest common factor and least common multiple is 150, then find the sum of the numbers.

(A) 5

(B) 10

(C) 20

(D) 25





SINCE 2013
We Shine Academy®
 guiding you to get through
 ISO 9001-2015 Certified Educational Institution

**உங்களின்
 அரசு வேலை
 கனவிற்கான முதற்படியை
 இன்றே தொடங்குங்கள்!***

*Guaranteed Central or State Government jobs
 within 6 months of course completion

**TNPSC
 GROUP I
 23rd
 RANK**

Our Central and State
GOVERNMENT OFFICERS
 TNPSC | TNUSRB | TET | SSC | BANK EXAM

 Illakiya	 Suganya	 Alshwarya	 Kesavan K	 Mayuri Priya	 M Esther Angeline	 Shankarl	 Nantha kumar	 K Anu Priya
 Sakthi	 MadhuMathi	 Sri Ganesh	 Subanya S	 Kingsley J	 Arul Mozhi	 J Jeya	 M Umopathy	 P Balaji
 Dharani K	 Alex Pandian	 Kavitha	 Vishnu Priya	 Nisha	 Kalaiselvi	 Bala Vignesh Raj	 Muthu Selvi C	 Karthick
 Suresh	 B Jeenath	 by Joint Commissioner			 Kishore	 K Revathy	 Sankaragomathy S	
 M Pandiyarajan	 S Thanga Mani				 D Parthiban	 M Mahindravarmam	 Michael Priyanka	
 Wasin N	 Sundar Rajan	 Interview Panel Members			 Rajasekar	 Vimala	 Lashmanan	

* Terms and conditions apply

OUR GOVERNMENT OFFICERS



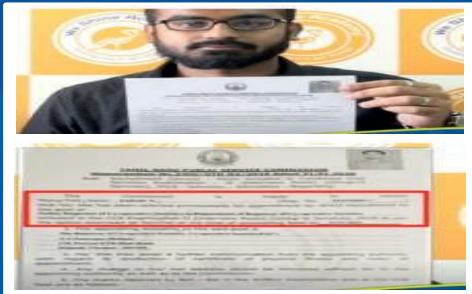
K. THANGA MEENA DEVI

இந்து சமய அறநிலையத் துறை,
உதவியாளர் பணி



இந்து சமய அறநிலையத் துறையின் அமைச்சுப்பணியில் உதவியாளர் பணியிடங்கள்!

STUDENTS WITH APPOINTMENT ORDER



CONGRATULATIONS
ON SUCCESSFULLY GETTING PLACED IN



Angaleswaran
Sub Inspector



Barkavi. K
Educational Dept.



Anandhalakshmi J
IBPS RRB clerk



Sankara Gomathy.S
Village
Administrative Officer



Jeeva. R
Chennai High court



Harisankar K
Police Contable



Vinoth
District Court



Adityan
Agriculture Dept.

Our Central and State GOVERNMENT OFFICERS



Thennarasu
TNUSRB Police



Sangeetha
TNPSC GROUP II
Exam Cleared



Aathithyan G
TNPSC Exam
Agriculture Dept.



Kumari
SBI (PO)



Bala Kumaran V
TNPSC Exam
Agriculture Dept.



Bhavya Shree R
Cleared NICL -
Prelims Exam



Kameshwaran
TNPSC GROUP II
Exam Cleared



Michael Priyanka
IBPS SCALE-II
Officer



Murali
Indian Bank



Jeyanthi
TNPSC GROUP IV



Nirmala S
Group II Interview
Post



Varun Kumar M
SSC GD



Anjali
IBPS SO
(IT OFFICER)



Manimegalai
TNPSC
Judriery
Department



Pankajavalli
TNPSC
Stenographer



Parasuraman
Sub Inspector



Abdul Rahman
SSC - MTS



Pradeepraj N
Group 2 A prelims



Aswini
SSC & BANK



Thennarasu
TNUSRB Police



Veera Perumal
TNPSC GROUP II
Exam Cleared



Sivaranjani
TNPSC GROUP II
Exam Cleared



Manimozhi
TNPSC GROUP II
Exam Cleared



Harisankar K
Police Constable



Kavitha
TNUSRB Police
Exam Cleared



B. Benazir Banu
TNUSRB Police
Exam Cleared



Aswin Kumar
Tamilnadu
Post Office



Divya
TNPSC Group II
Exam Cleared



Mathumathi P
Assistant Inspector
of Labour



Manimaran N
Sub Inspector



KAMARAJ
Sub Inspector



THE WESHINE JOURNEY.

Our Central and State GOVERNMENT OFFICERS



Gayathri
RBI



Aswin Kumar, S
TN Postal Dept.



Yesu Amirtham
TNPSC HIGH COURT



M.Esther Angeline
Police Constable



Madhumathi
TNPSC GROUP 1
Exam Cleared



Sabeen Banu
TNPSC HIGH COURT



D.Vignesh
Police Constable



Rahmath Nisha
Labour Dept.



GOKUL S
SSC/BANK



JAI GANESH
SSC/BANK



C.Muthu Selvi
Police Constable



SOWMEYA.S
SSC/BANK



Fahad
Social Welfare
Dept.



KIRAN KUMAR
SSC/BANK



Hari Shankar. P
LIC



Parasuraman
Police Constable



PADMA PRIYA PT
LIC



SURESH .R
LIC



P. Bharathkumar
TNSRB SI



Naveen .D
SSC/BANK



HARI SHANKAR.P
LIC



S.Madhavan
Police Constable



Anjali .R
SSC/BANK



M. Sivasubbu
Police Constable



Also We provide internal coaching for

Trusted Partnership with



www.weshineacademy.com

8939 144 344 | 8939 244 344



SINCE 2013
We Shine Academy[®]

guiding you to get through

TNPSC | TNUSRB | TET | SSC | BANK EXAM

TNPSC GROUP-I Express TEST SERIES

Starts on:
Saturday | 07-02-2026

Features:

- ✓ 5000+ Questions
- ✓ 37 Total Tests
- ✓ 21 General Studies Tests
- ✓ 05 Revision Tests
- ✓ 11 Full-Length Mock Tests



Offline: ₹5,999/-



Online: ₹4,999/-



Offer:


We Shine Old Students -
FREE!



Teachers Recruitment Board

Perasiriyar Anbazhagan Kalvi Valagam, College Road, Chennai - 600006.

Hall Ticket for OMR Examination (Objective Type)
for the Tamil Nadu Teacher Eligibility Test, Paper - II - 2025
[Notification No. 03/2025 Dated: 11.08.2025]

விண்ணப்பதாரரின் பெயர் / Candidate's Name	SUBASHINI A	  A. Subashini
விண்ணப்பதாரரின் தேர்வு எண். / Candidate's Roll No.	25T21103570127	
விண்ணப்பதாரரின் விண்ணப்ப எண். / Candidate's Application No.	TETP2117329	
பிறந்த தேதி / Date of Birth	19-11-2002	
தந்தை / தாய் பெயர் Father / Mother Name	ANNADURAI R	
பாலினம் / Gender	FEMALE	
மாற்றுத்திறனாளி / Differently abled	NO	
சொல்வதை எழுதுபவர் / Scribe	-	
விண்ணப்பித்த மொழி / Language Applied for	Tamil	
விண்ணப்பித்த விருப்பப் பாடம் / Optional Subject for	Mathematics and Science	
விண்ணப்பதாரரின் முகவரி / Address of the Candidate:	7/128, ARUNTHATHIYAR STRRET, VANAKARANPUDUR, THATHAIYANGARPATTI (PO), NAMAKKAL, NAMAKKAL, NAMAKKAL, PIN - 637014	



Teachers Recruitment Board

Perasiriyar Anbazhagan Kalvi Valagam, College Road, Chennai - 600006.

Hall Ticket for OMR Examination (Objective Type)
for the Tamil Nadu Teacher Eligibility Test, Paper - II - 2025
[Notification No. 03/2025 Dated: 11.08.2025]

விண்ணப்பதாரரின் பெயர் / Candidate's Name	NAGAMMAL A	  A. Nagamma
விண்ணப்பதாரரின் தேர்வு எண். / Candidate's Roll No.	25T21103820131	
விண்ணப்பதாரரின் விண்ணப்ப எண். / Candidate's Application No.	TETP2132346	
பிறந்த தேதி / Date of Birth	10-04-1990	
தந்தை / தாய் பெயர் Father / Mother Name	AYYAPPAN PILLAI SS	
பாலினம் / Gender	FEMALE	
மாற்றுத்திறனாளி / Differently abled	NO	
சொல்வதை எழுதுபவர் / Scribe	-	
விண்ணப்பித்த மொழி / Language Applied for	Tamil	
விண்ணப்பித்த விருப்பப் பாடம் / Optional Subject for	Mathematics and Science	
விண்ணப்பதாரரின் முகவரி / Address of the Candidate:	FLAT.NO:148,TNHB COLONY,TAMBARAM SANATORIUM, CHENNAI, CHENGALPATTU, PIN - 600047	
மையக் குறியீட்டுடன் தேர்வு மையம் பெயர், முகவரி மற்றும் மாவட்டம்: / Centre code, Name and Address of the Examination Centre with District:	Centre Code: 0382 District: CHENNAI GRT MAHALAKSHMI VIDYALAYA MATRIC HSS,NO-76,7TH AVENU,ASHOK NAGAR,CHENNAI 600083.	

Schedule of Examination

Date of Exam	Reporting Time	Gate Closing Time	Examination Timings
16.11.2025	8.30 a.m.	9.30 a.m.	10.00 a.m. to 01.00 p.m. - All candidates 10.00 a.m. to 02.00 p.m. - PWD candidates



Teachers Recruitment Board

Perasiriyar Anbazhagan Kalvi Valagam, College Road, Chennai - 600006.

Hall Ticket for OMR Examination (Objective Type)
for the Tamil Nadu Teacher Eligibility Test, Paper - II - 2025
[Notification No. 03/2025 Dated: 11.08.2025]

விண்ணப்பதாரரின் பெயர் / Candidate's Name	RAM PRIYA M
விண்ணப்பதாரரின் தேர்வு எண். / Candidate's Roll No.	25T21203240436
விண்ணப்பதாரரின் விண்ணப்ப எண். / Candidate's Application No.	TETP2196836
பிறந்த தேதி / Date of Birth	04-05-1993
தந்தை / தாய் பெயர் Father / Mother Name	MUTHURAJ G
பாலினம் / Gender	FEMALE
மாற்றுத்திறனாளி / Differently abled	NO
சொல்வதை எழுதுபவர் / Scribe	-
விண்ணப்பித்த மொழி / Language Applied for	Tamil
விண்ணப்பித்த விருப்பப் பாடம் / Optional Subject for	Social Science
விண்ணப்பதாரரின் முகவரி / Address of the Candidate:	1/525, 1ST FLOOR, 1ST BLOCK, MUGAPPAIR WEST, CHENNAI, THIRUVALLUR, PIN - 600037
மையக் குறியீட்டுடன் தேர்வு மையம் பெயர், முகவரி மற்றும் மாவட்டம்: / Centre code, Name and Address of the Examination Centre with District:	Centre Code: 0324 District: CHENNAI CHENNAI GIRLS HIGHER SECONDARY SCHOOL, NO-2A, SCHOOL ROAD, M H ROAD, PERAMBUR, CHENNAI-600 011.



Ram Priya M



Schedule of Examination

Date of Exam	Reporting Time	Gate Closing Time	Examination Timings
16.11.2025	8.30 a.m.	9.30 a.m.	10.00 a.m. to 01.00 p.m. - All candidates 10.00 a.m. to 02.00 p.m. - PWD candidates



Teachers Recruitment Board

Perasiriyar Anbazhagan Kalvi Valagam, College Road, Chennai - 600006.

Hall Ticket for OMR Examination (Objective Type)
for the Tamil Nadu Teacher Eligibility Test, Paper - II - 2025
[Notification No. 03/2025 Dated: 11.08.2025]

விண்ணப்பதாரரின் பெயர் / Candidate's Name	GOWTHAMI S
விண்ணப்பதாரரின் தேர்வு எண். / Candidate's Roll No.	25T21133240072
விண்ணப்பதாரரின் விண்ணப்ப எண். / Candidate's Application No.	TETP2037725
பிறந்த தேதி / Date of Birth	16-05-1990
தந்தை / தாய் பெயர் Father / Mother Name	SOUNDARAJAN P
பாலினம் / Gender	FEMALE
மாற்றுத்திறனாளி / Differently abled	NO
சொல்வதை எழுதுபவர் / Scribe	-
விண்ணப்பித்த மொழி / Language Applied for	Tamil
விண்ணப்பித்த விருப்பப் பாடம் / Optional Subject for	Mathematics and Science
விண்ணப்பதாரரின் முகவரி / Address of the Candidate:	NO 268, NACHARKUPPAM, NACHARKUPPAM POST, TIRUPATHUR, TIRUPATHUR, PIN - 635710
மையக் குறியீட்டுடன் தேர்வு மையம் பெயர், முகவரி மற்றும் மாவட்டம்: / Centre code, Name and Address of the Examination Centre with District:	Centre Code: 3324 District: TIRUPATTUR MARY IMMACULATE GIRLS HR SEC SCHOOL TIRUPATTUR LONDON MISSION ROAD, TIRUPATTUR-635601



S. Gowthami








Teachers Recruitment Board

Perasiriyar Anbazhagan Kalvi Valagam, College Road, Chennai - 600006.

Hall Ticket for OMR Examination (Objective Type)
for the Tamil Nadu Teacher Eligibility Test, Paper - II - 2025
[Notification No. 03/2025 Dated: 11.08.2025]


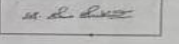

விண்ணப்பதாரரின் பெயர் / Candidate's Name	PRABHA K	 
விண்ணப்பதாரரின் தேர்வு எண். / Candidate's Roll No.	25T21102160228	
விண்ணப்பதாரரின் விண்ணப்ப எண். / Candidate's Application No.	TETP2077164	
பிறந்த தேதி / Date of Birth	24-01-1988	
தந்தை / தாய் பெயர் Father / Mother Name	KUMANAN C	
பாலினம் / Gender	FEMALE	
மாற்றுத்திறனாளி / Differently abled	NO	
சொல்வதை எழுதுபவர் / Scribe	.	
விண்ணப்பித்த மொழி / Language Applied for	Tamil	
விண்ணப்பித்த விருப்பப் பாடம் / Optional Subject for	Mathematics and Science	
விண்ணப்பதாரரின் முகவரி / Address of the Candidate:	NO 24. RAMAIYA NAGAR, MEDAVAKKAM, CHENNAI, KANCHEEPURAM, PIN - 600100	



Teachers Recruitment Board

Perasiriyar Anbazhagan Kalvi Valagam, College Road, Chennai - 600006.

Hall Ticket for OMR Examination (Objective Type)
for the Tamil Nadu Teacher Eligibility Test, Paper - II - 2025
[Notification No. 03/2025 Dated: 11.08.2025]

விண்ணப்பதாரரின் பெயர் / Candidate's Name	SHIVASANKARI S	 
விண்ணப்பதாரரின் தேர்வு எண். / Candidate's Roll No.	25T21138190024	
விண்ணப்பதாரரின் விண்ணப்ப எண். / Candidate's Application No.	TETP2045008	
பிறந்த தேதி / Date of Birth	18-08-1997	
தந்தை / தாய் பெயர் Father / Mother Name	SIVANU M	
பாலினம் / Gender	FEMALE	
மாற்றுத்திறனாளி / Differently abled	NO	
சொல்வதை எழுதுபவர் / Scribe	.	
விண்ணப்பித்த மொழி / Language Applied for	Tamil	
விண்ணப்பித்த விருப்பப் பாடம் / Optional Subject for	Mathematics and Science	
விண்ணப்பதாரரின் முகவரி / Address of the Candidate:	1/884, PALANI ANDAVAR NAGAR, DHARAPURAM ROAD, K.CHETTIPALAYAM, TIRUPPUR, TIRUPPUR, PIN - 641604	
மையக் குறியீட்டுடன் தேர்வு மையம் பெயர், முகவரி மற்றும் கூட்டம்: / Centre code, Name and Address of the Examination Centre with District:	Centre Code: 3819 District: VIRUDHUNAGAR CSI GIRLS HR SEC SCHOOL, CSI CHURCH COMPOUND, MADURAI MAINROAD, ARUPPUKOTTAI-626101	

Schedule of Examination

Date of Exam	Reporting Time	Gate Closing Time	Examination Timings
16.11.2025	8.30 a.m.	9.30 a.m.	10.00 a.m. to 01.00 p.m. - All candidates 10.00 a.m. to 02.00 p.m. - PWD candidates

PLEASE READ THE FOLLOWING IMPORTANT INSTRUCTIONS CAREFULLY

- Candidates should download their Hall Ticket through online only as no separate physical copy of this Hall Ticket will be dispatched.
- Candidates should check their Hall Ticket for the information furnished therein and in case of any discrepancy, it should be immediately reported to the TRB, Chennai for necessary action.
- The candidates appearing for the examination in their own interest, should check their eligibility in all respects to avoid disappointment if any at later stage and their candidature for this examination is "PURELY PROVISIONAL".
- Please note that this Hall Ticket does not constitute any offer of employment.
- NO REQUEST FOR CHANGE OF EXAMINATION CENTRE WILL BE CONSIDERED UNDER ANY CIRCUMSTANCES.
- No candidate will be allowed to enter into the Examination Hall after gate closing time 09:30 a.m. and should not leave the Examination Hall before 01.00 p.m. for all candidates and 02.00 p.m. for PWD candidates.
- The candidate must bring this Hall Ticket to the Examination Centre. No candidate will be allowed entry without this Hall Ticket.
- The candidate is also instructed to bring any one of the following Photo Identification Cards in original viz.
 - Aadhar Card
 - PAN Card



Teachers Recruitment Board

Perasiriyar Anbazhagan Kalvi Valagam, College Road, Chennai - 600006.

Hall Ticket for OMR Examination (Objective Type)
for the Tamil Nadu Teacher Eligibility Test, Paper - II - 2025
[Notification No. 03/2025 Dated: 11.08.2025]

விண்ணப்பதாரரின் பெயர் / Candidate's Name	DEEPA AM	 
விண்ணப்பதாரரின் தேர்வு எண். / Candidate's Roll No.	25T21103070159	
விண்ணப்பதாரரின் விண்ணப்ப எண். / Candidate's Application No.	TETP2331329	
பிறந்த தேதி / Date of Birth	30-04-1990	
தந்தை / தாய் பெயர் Father / Mother Name	MUNUSAMY A	
பாலினம் / Gender	FEMALE	
மாற்றுத்திறனாளி / Differently abled	NO	
சொல்வதை எழுதுபவர் / Scribe	-	
விண்ணப்பித்த மொழி / Language Applied for	Tamil	
விண்ணப்பித்த விருப்பப் பாடம் / Optional Subject for	Mathematics and Science	
விண்ணப்பதாரரின் முகவரி / Address of the Candidate:	NO 67 A THULUKKANATHAMMAN KOVIL STREET BHARATHI NAGAR ZAMIN PALLAVARAM, CHENNAI, KANCHEEPURAM CHENGALPET, PIN - 600043	
மையக் குறியீட்டுடன் தேர்வு மையம் பெயர், முகவரி மற்றும் மாவட்டம்: / Centre code, Name and Address of the Examination Centre with District:	Centre Code: 0307 District: CHENNAI PERUNTHALAIVAR KAMARAJAR GOVERNMENT GIRLS HIGHER SECONDARY SCHOOL,NORTH PARK STREET, VENKATAPURAM .AMBATTUR,CHENNAI-600 053.	

Schedule of Examination



Date of Exam	Reporting Time	Gate Closing Time	Examination Timings
16.11.2025	8.30 a.m.	9.30 a.m.	10.00 a.m. to 01.00 p.m. - All candidates 10.00 a.m. to 02.00 p.m. - PWD candidates



Teachers Recruitment Board

Perasiriyar Anbazhagan Kalvi Valagam, College Road, Chennai - 600006.

Hall Ticket for OMR Examination (Objective Type)
for the Tamil Nadu Teacher Eligibility Test, Paper - II - 2025
[Notification No. 03/2025 Dated: 11.08.2025]

விண்ணப்பதாரரின் பெயர் / Candidate's Name	NIRUBA MAYIL V	 
விண்ணப்பதாரரின் தேர்வு எண். / Candidate's Roll No.	25T21230060158	
விண்ணப்பதாரரின் விண்ணப்ப எண். / Candidate's Application No.	TETP2052064	
பிறந்த தேதி / Date of Birth	12-06-1981	
தந்தை / தாய் பெயர் Father / Mother Name	VEERAPERUMAL R	
பாலினம் / Gender	FEMALE	
மாற்றுத்திறனாளி / Differently abled	NO	
சொல்வதை எழுதுபவர் / Scribe	-	
விண்ணப்பித்த மொழி / Language Applied for	Tamil	
விண்ணப்பித்த விருப்பப் பாடம் / Optional Subject for	Social Science	
விண்ணப்பதாரரின் முகவரி / Address of the Candidate:	5/90 MIDDLE STREET SRI MOOLAKARAI SRIVAIKUNDAM TALUK, THOOTHUKUDI, THOOTHUKUDI, PIN - 628620	



Hall Ticket for OMR Examination (Objective Type)

for the Tamil Nadu Teacher Eligibility Test, Paper - II - 2025

[Notification No. 03/2025 Dated: 11.08.2025]

விண்ணப்பதாரரின் பெயர் / Candidate's Name	SANGEETHA R
விண்ணப்பதாரரின் தேர்வு எண். / Candidate's Roll No.	25T21127200028
விண்ணப்பதாரரின் விண்ணப்ப எண். / Candidate's Application No.	TETP2051771
பிறந்த தேதி / Date of Birth	01-07-1982
தாய் பெயர் / Mother Name	RAJA B
பாலினம் / Gender	FEMALE
மாற்றுத்திறனாளி / Differently abled	NO
சொல்வதை எழுதுபவர் / Scribe	-
விண்ணப்பித்த மொழி / Language Applied for	Tamil
விண்ணப்பித்த விருப்பப் பாடம் / Optional Subject for	Social Science
விண்ணப்பதாரரின் முகவரி / Address of the Candidate:	24/1 KANCHIPURAM HIGH ROAD , NO 65 PALUR VILLAGE AND POST, PALUR, CHENGALPATTU, PIN - 603101
மையக் குறியீட்டுடன் தேர்வு மையம் பெயர், முகவரி மற்றும் மாவட்டம்: / Centre code, Name and Address of the Examination Centre with District:	Centre Code: 0207 District: CHENGALPATTU GOVT GIRLS HR SEC SCHOOL, ORAGADAM SALAI(OPPOSITE TO TALUK OFFICE) THIRUKALUKUNDRAM, CHENGALPATTU DIST -603109



Teachers Recruitment Board

Perasiriyar Anbazhagan Kalvi Valagam, College Road, Chennai - 600006.

Hall Ticket for OMR Examination (Objective Type)

for the Tamil Nadu Teacher Eligibility Test, Paper - II - 2025

[Notification No. 03/2025 Dated: 11.08.2025]

விண்ணப்பதாரரின் பெயர் / Candidate's Name	LAKSHMI R
விண்ணப்பதாரரின் தேர்வு எண். / Candidate's Roll No.	25T21202070216
விண்ணப்பதாரரின் விண்ணப்ப எண். / Candidate's Application No.	TETP2145208
பிறந்த தேதி / Date of Birth	18-05-1985
தந்தை / தாய் பெயர் / Father / Mother Name	RASPAL P
பாலினம் / Gender	FEMALE
மாற்றுத்திறனாளி / Differently abled	NO
சொல்வதை எழுதுபவர் / Scribe	-
விண்ணப்பித்த மொழி / Language Applied for	Tamil
விண்ணப்பித்த விருப்பப் பாடம் / Optional Subject for	Social Science
விண்ணப்பதாரரின் முகவரி / Address of the Candidate:	24/1 KANCHIPURAM HIGH ROAD , NO 65 PALUR VILLAGE AND POST, PALUR, CHENGALPATTU, PIN - 603101
மையக் குறியீட்டுடன் தேர்வு மையம் பெயர், முகவரி மற்றும் மாவட்டம்: / Centre code, Name and Address of the Examination Centre with District:	Centre Code: 0207 District: CHENGALPATTU GOVT GIRLS HR SEC SCHOOL, ORAGADAM SALAI(OPPOSITE TO TALUK OFFICE) THIRUKALUKUNDRAM, CHENGALPATTU DIST -603109



L. Lakshmi





Teachers Recruitment Board

Perasiriyar Anbazhagan Kalvi Valagam, College Road, Chennai - 600006.

Hall Ticket for OMR Examination (Objective Type)
for the Tamil Nadu Teacher Eligibility Test, Paper - II - 2025
[Notification No. 03/2025 Dated: 11.08.2025]

விண்ணப்பதாரரின் பெயர் / Candidate's Name	DEEPA AM	 
விண்ணப்பதாரரின் தேர்வு எண். / Candidate's Roll No.	25T21103070159	
விண்ணப்பதாரரின் விண்ணப்ப எண். / Candidate's Application No.	TETP2331329	
பிறந்த தேதி / Date of Birth	30-04-1990	
தந்தை / தாய் பெயர் Father / Mother Name	MUNUSAMY A	
பாலினம் / Gender	FEMALE	
மாற்றுத்திறனாளி / Differently abled	NO	
சொல்வதை எழுதுபவர் / Scribe	-	
விண்ணப்பித்த மொழி / Language Applied for	Tamil	
விண்ணப்பித்த விருப்பப் பாடம் / Optional Subject for	Mathematics and Science	
விண்ணப்பதாரரின் முகவரி / Address of the Candidate:	NO 67 A THULUKKANATHAMMAN KOVIL STREET BHARATHI NAGAR ZAMIN PALLAVARAM, CHENNAI, KANCHEEPURAM CHENGALPET, PIN - 600043	
மையக் குறியீட்டுடன் தேர்வு மையம் பெயர், முகவரி மற்றும் மாவட்டம்: / Centre code, Name and Address of the Examination Centre with District:	Centre Code: 0307 District: CHENNAI PERUNTHALAIVAR KAMARAJAR GOVERNMENT GIRLS HIGHER SECONDARY SCHOOL,NORTH PARK STREET, VENKATAPURAM .AMBATTUR,CHENNAI-600 053.	

Schedule of Examination



Date of Exam	Reporting Time	Gate Closing Time	Examination Timings
16.11.2025	8.30 a.m.	9.30 a.m.	10.00 a.m. to 01.00 p.m. - All candidates 10.00 a.m. to 02.00 p.m. - PWD candidates



Teachers Recruitment Board

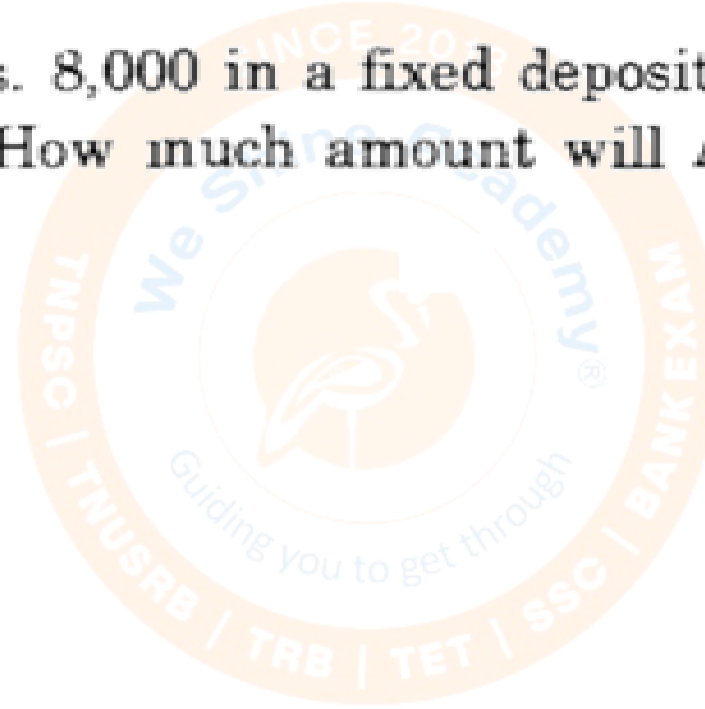
Perasiriyar Anbazhagan Kalvi Valagam, College Road, Chennai - 600006.

Hall Ticket for OMR Examination (Objective Type)
for the Tamil Nadu Teacher Eligibility Test, Paper - II - 2025
[Notification No. 03/2025 Dated: 11.08.2025]

விண்ணப்பதாரரின் பெயர் / Candidate's Name	NIRUBA MAYIL V	 
விண்ணப்பதாரரின் தேர்வு எண். / Candidate's Roll No.	25T21230060158	
விண்ணப்பதாரரின் விண்ணப்ப எண். / Candidate's Application No.	TETP2052064	
பிறந்த தேதி / Date of Birth	12-06-1981	
தந்தை / தாய் பெயர் Father / Mother Name	VEERAPERUMAL R	
பாலினம் / Gender	FEMALE	
மாற்றுத்திறனாளி / Differently abled	NO	
சொல்வதை எழுதுபவர் / Scribe	-	
விண்ணப்பித்த மொழி / Language Applied for	Tamil	
விண்ணப்பித்த விருப்பப் பாடம் / Optional Subject for	Social Science	
விண்ணப்பதாரரின் முகவரி / Address of the Candidate:	5/90 MIDDLE STREET SRI MOOLAKARAI SRIVAIKUNDAM TALUK, THOOTHUKUDI, THOOTHUKUDI, PIN - 628620	

ஆண்டுக்கு 5% என்ற கூட்டு வட்டியில், 2 ஆண்டுகளுக்கு அலெக்ஸ் என்பவர் ரூ. 8,000-ஐ நிரந்தர வைப்பு திட்டத்தில் முதலீடு செய்கின்றார். அந்த முதலீடு முதிர்வு அடையும் பொழுது, அலெக்ஸ் பெறும் தொகையாது?

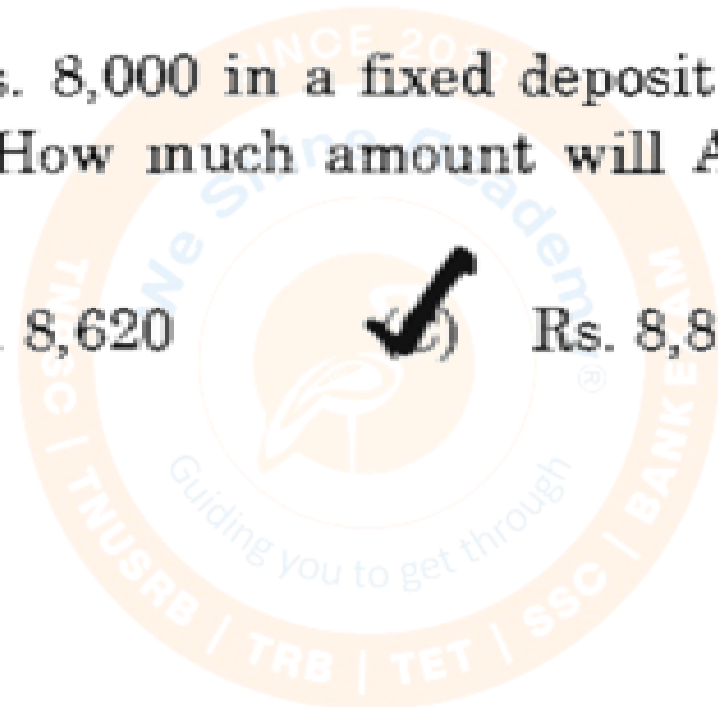
Alex invested an amount of Rs. 8,000 in a fixed deposit scheme for 2 years at compound interest rate 5% per annum. How much amount will Alex get on maturity of the fixed deposit?



ஆண்டுக்கு 5% என்ற கூட்டு வட்டியில், 2 ஆண்டுகளுக்கு அலெக்ஸ் என்பவர் ரூ. 8,000-ஐ நிரந்தர வைப்பு திட்டத்தில் முதலீடு செய்கின்றார். அந்த முதலீடு முதிர்வு அடையும் பொழுது, அலெக்ஸ் பெறும் தொகையாது?


Alex invested an amount of Rs. 8,000 in a fixed deposit scheme for 2 years at compound interest rate 5% per annum. How much amount will Alex get on maturity of the fixed deposit?

- (A) Rs. 8,600 (B) Rs. 8,620 (C) Rs. 8,820 (D) Rs. 8,840



இரண்டு ஆண்டுகளுக்கு, ஆண்டுக்கு 8% வட்டி வீதத்தில், ஒரு தொகையின் கூட்டு வட்டி மற்றும் தனிவட்டிகளுக்கு இடையே உள்ள வித்தியாசம் ரூ.240 எனில் அந்த தொகையின் மதிப்பு என்ன?


The difference between the compound interest and simple interest on a certain sum at 8% per annum for 2 years is Rs. 240. Find the sum.



இரண்டு ஆண்டுகளுக்கு, ஆண்டுக்கு 8% வட்டி வீதத்தில், ஒரு தொகையின் கூட்டு வட்டி மற்றும் தனிவட்டிகளுக்கு இடையே உள்ள வித்தியாசம் ரூ.240 எனில் அந்த தொகையின் மதிப்பு என்ன?

The difference between the compound interest and simple interest on a certain sum at 8% per annum for 2 years is Rs. 240. Find the sum.

- (A) Rs. 35,000 (B) Rs. 35,700 (C) Rs. 37,500 (D) Rs. 40,000



ஆண்டுக்கு 12% தனி வட்டி வீதத்தில் ரூ 6,000-ஐ ஒராண்டு வட்டியாக கொடுக்கும் தொகையைக் காண்க.


If the rate of simple interest is 12% per annum, then find the amount that would get interest of Rs. 6,000 per annum.



ஆண்டுக்கு 12% தனி வட்டி வீதத்தில் ரூ 6,000-ஐ ஒராண்டு வட்டியாக கொடுக்கும் தொகையைக் காண்க.


If the rate of simple interest is 12% per annum, then find the amount that would get interest of Rs. 6,000 per annum.

- (A) Rs. 82,000 (B) Rs. 50,000 (C) Rs. 72,000 (D) Rs. 45,000



6 செ.மீ., 8 செ.மீ., 10 செ.மீ. பக்கமுள்ள மூன்று உலோகத்தாலான திண்ம கனசதுரங்கள் உருக்கப்பட்டு ஒரு புதிய கனசதுரம் செய்யப்படுகிறது எனில் புதிய கனசதுரத்தின் பக்கத்தின் நீளம் யாது?

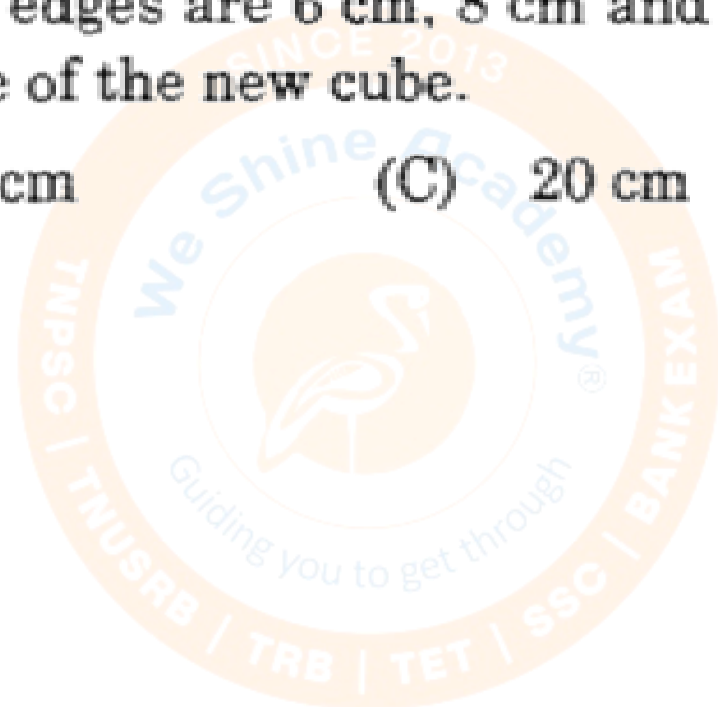
Three solid metal cubes, whose edges are 6 cm, 8 cm and 10 cm are melted and a new cube is made. Find the length of edge of the new cube.



6 செ.மீ., 8 செ.மீ., 10 செ.மீ. பக்கமுள்ள மூன்று உலோகத்தாலான திண்ம கனசதுரங்கள் உருக்கப்பட்டு ஒரு புதிய கனசதுரம் செய்யப்படுகிறது எனில் புதிய கனசதுரத்தின் பக்கத்தின் நீளம் யாது?

Three solid metal cubes, whose edges are 6 cm, 8 cm and 10 cm are melted and a new cube is made. Find the length of edge of the new cube.

- ✓ (A) 12 cm (B) 24 cm (C) 20 cm (D) 48 cm



கேள்விக் குறியிட்ட இடத்தில் வரும் எண்ணைக் காண்க :

Find the number in the place of question mark :

21, 25, 34, 50, ?, 111, 160



கேள்விக் குறியிட்ட இடத்தில் வரும் எண்ணைக் காண்க :

Find the number in the place of question mark :

21, 25, 34, 50, ?, 111, 160

(A) 86

(B) 72




(C) 75

(D) 59



A ஒரு வேலையை 10 நாட்களிலும், B அதை 15 நாட்களிலும் செய்து முடிப்பார். இருவரும் சேர்ந்து அவ்வேலையைச் செய்து ரூ. 1,500-ஐ ஈட்டினால், அத்தொகையை எவ்வாறு பிரித்துக் கொள்வார்?

A can do a work in 10 days and B can do the same work in 15 days. They earn Rs. 1,500 together. How will they share this amount?



A ஒரு வேலையை 10 நாட்களிலும், B அதை 15 நாட்களிலும் செய்து முடிப்பார். இருவரும் சேர்ந்து அவ்வேலையைச் செய்து ரூ. 1,500-ஐ ஈட்டினால், அத்தொகையை எவ்வாறு பிரித்துக் கொள்வார்?

A can do a work in 10 days and B can do the same work in 15 days. They earn Rs. 1,500 together. How will they share this amount?

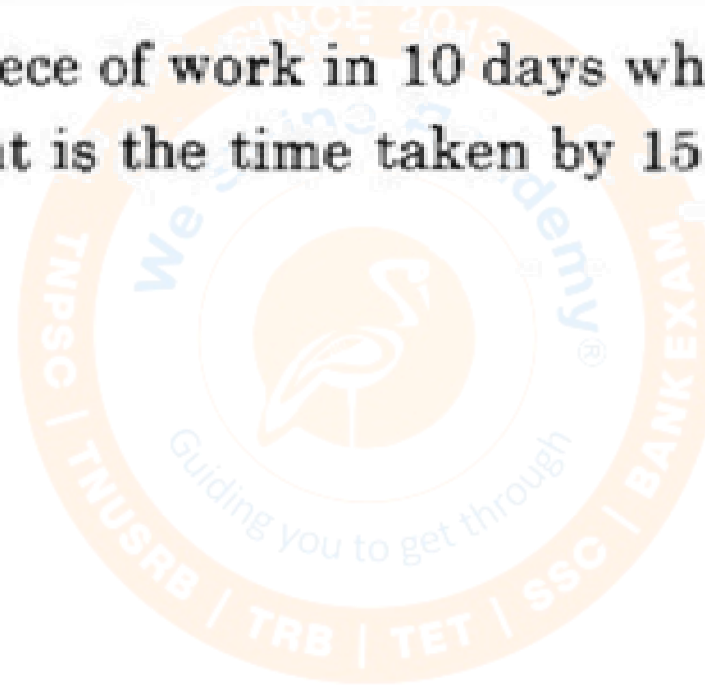
- (A) Rs. 850 and Rs. 650
(C) Rs. 950 and Rs. 550



- (B) Rs. 900 and Rs. 600
(D) Rs. 1,000 and Rs. 500

6 ஆண்கள், 8 சிறுவர்கள் இணைந்து ஒரு வேலையைச் செய்ய, 10 நாட்கள் தேவைப்படும்; மற்றும் 26 ஆண்கள், 48 சிறுவர்கள் இணைந்து அதே வேலையை 2 நாட்களில் செய்வர் எனில், 15 ஆண்கள், 20 சிறுவர்கள் சேர்ந்து அதே வேலையைச் செய்ய எத்தனை நாட்கள் தேவைப்படும்?

If 6 men and 8 boys can do a piece of work in 10 days while 26 men and 48 boys can do the same work in 2 days, then what is the time taken by 15 men and 20 boys to complete the same type of work?



6 ஆண்கள், 8 சிறுவர்கள் இணைந்து ஒரு வேலையைச் செய்ய, 10 நாட்கள் தேவைப்படும்; மற்றும் 26 ஆண்கள், 48 சிறுவர்கள் இணைந்து அதே வேலையை 2 நாட்களில் செய்வர் எனில், 15 ஆண்கள், 20 சிறுவர்கள் சேர்ந்து அதே வேலையைச் செய்ய எத்தனை நாட்கள் தேவைப்படும்?

If 6 men and 8 boys can do a piece of work in 10 days while 26 men and 48 boys can do the same work in 2 days, then what is the time taken by 15 men and 20 boys to complete the same type of work?

- (A) 4 days (B) 5 days (C) 6 days (D) 7 days

“NOIDA” என்பது 39658 என எழுதப்பட்டால் “INDIA” என்பதை எவ்வாறு எழுதலாம்?

If “NOIDA” is written as 39658, how will “INDIA” be written?



“NOIDA” என்பது 39658 என எழுதப்பட்டால் “INDIA” என்பதை எவ்வாறு எழுதலாம்?

If “NOIDA” is written as 39658, how will “INDIA” be written?

(A) 36568

(C) 63569

(B) 63568

(D) 65368



பின்வரும் கூற்றுகளைப் படிக்க

1. A-யும் B-யும் சமவயதுடையவர்கள் அல்லது A ஆனவர் B-ஐ விட பெரியவர்
2. C-யும் D-யும் சமவயதுடையவர்கள் அல்லது D ஆனவர் C-ஐ விட பெரியவர்
3. B ஆனவர் C-ஐ விட பெரியவர்

மேலே உள்ள கூற்றுகளிலிருந்து நாம் காணும் தீர்மானம் யாது?

Read the following statements :

1. Either A and B are of the same age or A is older than B
2. Either C and D are of the same age or D is older than C
3. B is older than C

பின்வரும் கூற்றுகளைப் படிக்க

1. A-யும் B-யும் சமவயதுடையவர்கள் அல்லது A ஆனவர் B-ஐ விட பெரியவர்
2. C-யும் D-யும் சமவயதுடையவர்கள் அல்லது D ஆனவர் C-ஐ விட பெரியவர்
3. B ஆனவர் C-ஐ விட பெரியவர்

மேலே உள்ள கூற்றுகளிலிருந்து நாம் காணும் தீர்மானம் யாது?

Read the following statements :

1. Either A and B are of the same age or A is older than B
2. Either C and D are of the same age or D is older than C
3. B is older than C

Which one of the conclusions can be drawn from the above statements?

- (A) A is older than C
- (B) D is older than C
- (C) A is older than B
- (D) B and D are of the same age

ஒரு கடிகாரத்தின் நிமிட மற்றும் மணி முள்களின் நீளம் முறையே 14 செ.மீ மற்றும் 7 செ.மீ. 30 நிமிடங்களில் நிமிட முள் மற்றும் மணி முள் எவ்வளவு தூரம் நகரும்?

The minute hand of a circular clock is 14 cm long and that of hour hand is 7 cm. Find how far does the tip of the minute and hour hand move in 30 minutes?



ஒரு கடிகாரத்தின் நிமிட மற்றும் மணி முள்களின் நீளம் முறையே 14 செ.மீ மற்றும் 7 செ.மீ. 30 நிமிடங்களில் நிமிட முள் மற்றும் மணி முள் எவ்வளவு தூரம் நகரும்?

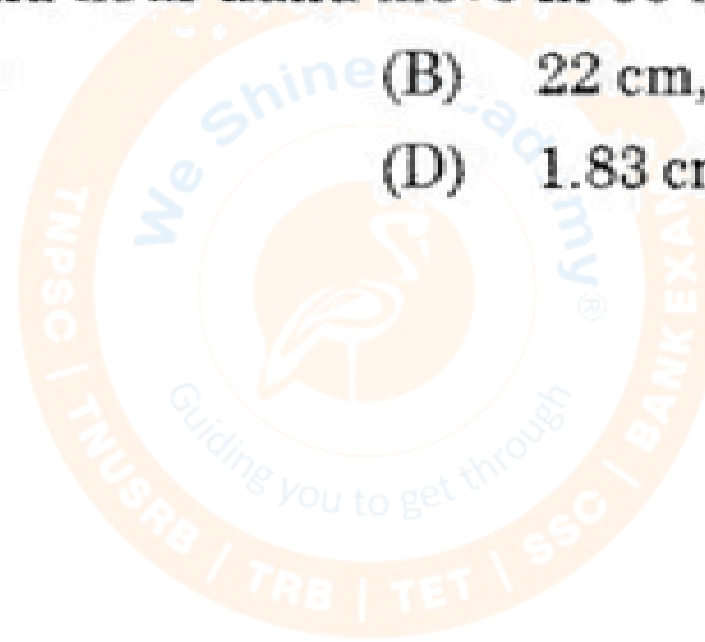
The minute hand of a circular clock is 14 cm long and that of hour hand is 7 cm. Find how far does the tip of the minute and hour hand move in 30 minutes?

(A) 88 cm, 3.66 cm

(C) 44 cm, 1.83 cm

(B) 22 cm, 0.915 cm

(D) 1.83 cm, 88 cm



A large, faint watermark of the Weshine Academy logo is centered in the background. It is a circular emblem with an orange border. The text 'Weshine Academy' is written in a blue, serif font across the top. Below it, 'SINCE 2013' is written in a smaller, orange font. At the bottom, 'TNUSRB | TRB | TET | SSC | BANK EXAMINATIONS' is written in orange. In the center of the circle, there is a blue starburst graphic with the text 'Guiding you to get through' written in a light blue font below it.

Thank You