

TNPSC COMBINED

**SINGLE FEE
MULTIPLE EXAMS**

₹19,999

**ADMISSION OPEN
JOIN NOW**

 **DIRECT CLASS**
 **ONLINE CLASS**
Available

-  **Time Tracker**
-  **Audio Study Materials**
-  **Easy EMI**
-  **Speed Maths**
-  **Book Set Materials - Count**

+91 8939 144 344 | +91 8939 244 344



SINCE 2013
We Shine Academy
guiding you to get through

TNPSC | TNUSRB | RRB | SSC | BANK EXAM

The logo watermark is circular with an orange border. It contains the text 'SINCE 2013' at the top, 'Weshine Academy' in the center, and 'Guiding you to get through' at the bottom. The border also lists various exams: 'CSC | TNUSRB | TRB | TET | SSC | BANK EXAM'.

MATHS

ஒரு உருளை வடிவ தொட்டியின் கொள்ளளவு 1848 மீ^3 மற்றும் அதன் அடிப்பக்க விட்டம் 14 m எனில் அத்தொட்டியின் ஆழம் காண்க.

If the volume of a cylindrical tank is 1848 m^3 and the diameter of its base is 14 m , then find the depth of the tank.



ஒரு உருளை வடிவ தொட்டியின் கொள்ளளவு 1848 மீ^3 மற்றும் அதன் அடிப்பக்க விட்டம் 14 m எனில் அத்தொட்டியின் ஆழம் காண்க.

If the volume of a cylindrical tank is 1848 m^3 and the diameter of its base is 14 m , then find the depth of the tank.

- (A) 8 m
8 மீ
- (B) 9 m
9 மீ
- (C) 12 m
12 மீ
- (D) 13 m
13 மீ



A 26 B 25 C 24 D 23.....Z1 என நாம் எழுதும் போது 2 என்ற இலக்கத்தின் அருகே வரும் ஆங்கில எழுத்துகள் எத்தனை?

When we write like this A 26 B 25 C 24 D 23.....Z1 How many English alphapets will be near to the digit 2?



A 26 B 25 C 24 D 23.....Z1 என நாம் எழுதும் போது 2 என்ற இலக்கத்தின் அருகே வரும் ஆங்கில எழுத்துகள் எத்தனை?

When we write like this A 26 B 25 C 24 D 23.....Z1 How many English alphapets will be near to the digit 2?

(A) 7

(B) 8

(C) 9

(D) 10

ஒரு குறிப்பிட்ட தொகை ஆண்டிற்கு எந்த வட்டி விகிதத்தில் இருந்தால், அந்த தொகை 16 வருடங்களில் இரு மடங்காகும்?

At what rate of percentage per annum will a sum of money double in 16 years?



ஒரு குறிப்பிட்ட தொகை ஆண்டிற்கு எந்த வட்டி விகிதத்தில் இருந்தால், அந்த தொகை 16 வருடங்களில் இரு மடங்காகும்?

At what rate of percentage per annum will a sum of money double in 16 years?

(A) $7\frac{3}{4}\%$

(B) $6\frac{3}{4}\%$

(C) $8\frac{2}{3}\%$

(D) $6\frac{1}{4}\%$

இரு பகடைகள் ஒரு சேர உருட்டப்படுகின்றன. முக எண்களைக் கொண்டு அமைக்கப்படும் ஈரிலக்க எண் 4 ஆல் வகுபடும் எண்ணாக இருப்பதற்கான நிகழ்தகவு காண்க.

Two dice are thrown together. Find the Probability that the two digit number formed with the two numbers turning up is divisible by 4.



இரு பகடைகள் ஒரு சேர உருட்டப்படுகின்றன. முக எண்களைக் கொண்டு அமைக்கப்படும் ஈரிலக்க எண் 4 ஆல் வகுபடும் எண்ணாக இருப்பதற்கான நிகழ்தகவு காண்க.

Two dice are thrown together. Find the Probability that the two digit number formed with the two numbers turning up is divisible by 4.

(A) $\frac{1}{2}$

(C) $\frac{1}{36}$

(B) $\frac{1}{4}$

(D) $\frac{1}{6}$

If $\frac{x}{5} = \frac{y}{8}$ then $(x + 5) : (y + 8)$ is equal to

$\frac{x}{5} = \frac{y}{8}$ எனில் $(x + 5) : (y + 8)$ ன் மதிப்பு



If $\frac{x}{5} = \frac{y}{8}$ then $(x + 5) : (y + 8)$ is equal to

$\frac{x}{5} = \frac{y}{8}$ எனில் $(x + 5) : (y + 8)$ ன் மதிப்பு

(A) 5 : 8

(B) 8 : 5

(C) 2 : 5

(D) 5 : 2



SINCE 2013
We Shine Academy®
 guiding you to get through
 ISO 9001-2015 Certified Educational Institution

**உங்களின்
 அரசு வேலை
 கனவிற்கான முதற்படியை
 இன்றே தொடங்குங்கள்!***

*Guaranteed Central or State Government jobs
 within 6 months of course completion

**TNPSC
 GROUP I
 23rd
 RANK**

Our Central and State
GOVERNMENT OFFICERS
 TNPSC | TNUSRB | TET | SSC | BANK EXAM

 Illakiya	 Suganya	 Alshwarya	 Kesavan K	 Mayuri Priya	 M Esther Angeline	 Shankarl	 Nantha kumar	 K Anu Priya
 Sakthi	 MadhuMathi	 Sri Ganesh	 Subanya S	 Kingsley J	 Arul Mozhi	 J Jeya	 M Umapathy	 P Balaji
 Dharani K	 Alex Pandian	 Kavitha	 Vishnu Priya	 Nisha	 Kalaiselvi	 Bala Vignesh Raj	 Muthu Selvi C	 Karthick
 Suresh	 B Jeenath	 by Joint Commissioner			 Kishore	 K Revathy	 Sankaragomathy S	
 M Pandiyarajan	 S Thanga Mani				 D Parthiban	 M Mahindravarman	 Michael Priyanka	
 Wasin N	 Sundar Rajan	 Interview Panel Members			 Rajasekar	 Vimala	 Lashmanan	

* Terms and conditions apply



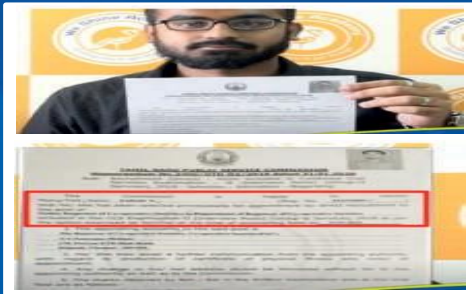
OUR GOVERNMENT OFFICERS

K. THANGA MEENA DEVI

இந்து சமய அறநிலையத் துறை,
உதவியாளர் பணி



STUDENTS WITH APPOINTMENT ORDER



CONGRATULATIONS
ON SUCCESSFULLY GETTING PLACED IN



Angaleswaran
Sub Inspector



Barkavi. K
Educational Dept.



Anandhalakshmi J
IBPS RRB clerk



Sankara Gomathy.S
Village
Administrative Officer



Jeeva. R
Chennai High court



Harisankar K
Police Contable



Vinoth
District Court



Adityan
Agriculture Dept.

Our Central and State GOVERNMENT OFFICERS



Thennarasu
TNUSRB Police



Sangeetha
TNPSC GROUP II
Exam Cleared



Aathithyan G
TNPSC Exam
Agriculture Dept.



Kumari
SBI (PO)



Bala Kumaran V
TNPSC Exam
Agriculture Dept.



Bhavya Shree R
Cleared NICL -
Prelims Exam



Kameshwaran
TNPSC GROUP II
Exam Cleared



Michael Priyanka
IBPS SCALE-II
Officer



Murali
Indian Bank



Jeyanthi
TNPSC GROUP IV



Nirmala S
Group II Interview
Post



Varun Kumar M
SSC GD



Anjali
IBPS SO
(IT OFFICER)



Manimegalai
TNPSC
Judery
Department



Pankajavalli
TNPSC
Stenographer



Parasuraman
Sub Inspector



Abdul Rahman
SSC - MTS



Pradeepraj N
Group 2 A prelims



Aswini
SSC & BANK



Thennarasu
TNUSRB Police



Veera Perumal
TNPSC GROUP II
Exam Cleared



Sivaranjani
TNPSC GROUP II
Exam Cleared



Manimozhi
TNPSC GROUP II
Exam Cleared



Harisankar K
Police Constable



Kavitha
TNUSRB Police
Exam Cleared



B. Benazir Banu
TNUSRB Police
Exam Cleared



Aswin Kumar
Tamilnadu
Post Office



Divya
TNPSC Group II
Exam Cleared



Mathumathi P
Assistant Inspector
of Labour



Manimaran N
Sub Inspector



KAMARAJ
Sub Inspector



N. PRASHANTH



THE WESHINE JOURNEY.

Our Central and State GOVERNMENT OFFICERS



Gayathri
RBI



Aswin Kumar, S
TN Postal Dept.



Yesu Amirtham
TNPSC HIGH COURT



M.Esther Angeline
Police Constable



Madhumathi
TNPSC GROUP 1
Exam Cleared



Sabeen Banu
TNPSC HIGH COURT



D.Vignesh
Police Constable



Rahmath Nisha
Labour Dept.



GOKUL S
SSC/BANK



JAI GANESH
SSC/BANK



C.Muthu Selvi
Police Constable



SOWMEYA.S
SSC/BANK



Fahad
Social Welfare
Dept.



KIRAN KUMAR
SSC/BANK



Hari Shankar. P
LIC



Parasuraman
Police Constable



PADMA PRIYA PT
LIC



SURESH .R
LIC



P. Bharathkumar
TNSRB SI



Naveen .D
SSC/BANK



HARI SHANKAR.P
LIC



S.Madhavan
Police Constable



Anjali .R
SSC/BANK



M. Sivasubbu
Police Constable



Also We provide internal coaching for

Trusted Partnership with



www.weshineacademy.com

8939 144 344 | 8939 244 344



SINCE 2013
We Shine Academy[®]

guiding you to get through

TNPSC | TNUSRB | TET | SSC | BANK EXAM

TNPSC GROUP-I Express TEST SERIES

Starts on:
Saturday | 07-02-2026

Features:

- ✓ 5000+ Questions
- ✓ 37 Total Tests
- ✓ 21 General Studies Tests
- ✓ 05 Revision Tests
- ✓ 11 Full-Length Mock Tests



Offline: ₹5,999/-



Online: ₹4,999/-



Offer:

We Shine Old Students -
FREE!






Teachers Recruitment Board

Perasiriyar Anbazhagan Kalvi Valagam, College Road, Chennai - 600006.

Hall Ticket for OMR Examination (Objective Type)

for the Tamil Nadu Teacher Eligibility Test, Paper - II - 2025

[Notification No. 03/2025 Dated: 11.08.2025]

விண்ணப்பதாரரின் பெயர் / Candidate's Name	SUBASHINI A	 
விண்ணப்பதாரரின் தேர்வு எண். / Candidate's Roll No.	25T21103570127	
விண்ணப்பதாரரின் விண்ணப்ப எண். / Candidate's Application No.	TETP2117329	
பிறந்த தேதி / Date of Birth	19-11-2002	
தந்தை / தாய் பெயர் Father / Mother Name	ANNADURAI R	
பாலினம் / Gender	FEMALE	
மாற்றுத்திறனாளி / Differently abled	NO	
சொல்வதை எழுதுபவர் / Scribe	-	
விண்ணப்பித்த மொழி / Language Applied for	Tamil	
விண்ணப்பித்த விருப்பப் பாடம் / Optional Subject for	Mathematics and Science	
விண்ணப்பதாரரின் முகவரி / Address of the Candidate:	7/128, ARUNTHATHIYAR STRRET, VANAKARANPUDUR, THATHAIYANGARPATTI (PO), NAMAKKAL, NAMAKKAL, NAMAKKAL, PIN - 637014	



Teachers Recruitment Board

Perasiriyar Anbazhagan Kalvi Valagam, College Road, Chennai - 600006.

Hall Ticket for OMR Examination (Objective Type)

for the Tamil Nadu Teacher Eligibility Test, Paper - II - 2025

[Notification No. 03/2025 Dated: 11.08.2025]

விண்ணப்பதாரரின் பெயர் / Candidate's Name	NAGAMMAL A	 	
விண்ணப்பதாரரின் தேர்வு எண். / Candidate's Roll No.	25T21103820131		
விண்ணப்பதாரரின் விண்ணப்ப எண். / Candidate's Application No.	TETP2132346		
பிறந்த தேதி / Date of Birth	10-04-1990		
தந்தை / தாய் பெயர் Father / Mother Name	AYYAPPAN PILLAI SS		
பாலினம் / Gender	FEMALE		
மாற்றுத்திறனாளி / Differently abled	NO		
சொல்வதை எழுதுபவர் / Scribe	-		
விண்ணப்பித்த மொழி / Language Applied for	Tamil		
விண்ணப்பித்த விருப்பப் பாடம் / Optional Subject for	Mathematics and Science		
விண்ணப்பதாரரின் முகவரி / Address of the Candidate:	FLAT.NO:148,TNHB COLONY,TAMBARAM SANATORIUM, CHENNAI, CHENGALPATTU, PIN - 600047		
மையக் குறியீட்டுடன் தேர்வு மையம் பெயர், முகவரி மற்றும் மாவட்டம்: / Centre code, Name and Address of the Examination Centre with District:	Centre Code: 0382 District: CHENNAI GRT MAHALAKSHMI VIDYALAYA MATRIC HSS,NO-76,7TH AVENU,ASHOK NAGAR,CHENNAI 600083.		
Schedule of Examination			
Date of Exam	Reporting Time	Gate Closing Time	Examination Timings
16.11.2025	8.30 a.m.	9.30 a.m.	10.00 a.m. to 01.00 p.m. - All candidates 10.00 a.m. to 02.00 p.m. - PWD candidates



Teachers Recruitment Board

Perasiriyar Anbazhagan Kalvi Valagam, College Road, Chennai - 600006.

Hall Ticket for OMR Examination (Objective Type)
for the Tamil Nadu Teacher Eligibility Test, Paper - II - 2025
[Notification No. 03/2025 Dated: 11.08.2025]

விண்ணப்பதாரரின் பெயர் / Candidate's Name	RAM PRIYA M
விண்ணப்பதாரரின் தேர்வு எண். / Candidate's Roll No.	25T21203240436
விண்ணப்பதாரரின் விண்ணப்ப எண். / Candidate's Application No.	TETP2196836
பிறந்த தேதி / Date of Birth	04-05-1993
தந்தை / தாய் பெயர் Father / Mother Name	MUTHURAJ G
பாலினம் / Gender	FEMALE
மாற்றுத்திறனாளி / Differently abled	NO
சொல்வதை எழுதுபவர் / Scribe	-
விண்ணப்பித்த மொழி / Language Applied for	Tamil
விண்ணப்பித்த விருப்பப் பாடம் / Optional Subject for	Social Science
விண்ணப்பதாரரின் முகவரி / Address of the Candidate:	1/525, 1ST FLOOR, 1ST BLOCK, MUGAPPAIR WEST, CHENNAI, THIRUVALLUR, PIN - 600037
மையக் குறியீட்டுடன் தேர்வு மையம் பெயர், முகவரி மற்றும் மாவட்டம்: / Centre code, Name and Address of the Examination Centre with District:	Centre Code: 0324 District: CHENNAI CHENNAI GIRLS HIGHER SECONDARY SCHOOL, NO-2A, SCHOOL ROAD, M H ROAD, PERAMBUR, CHENNAI-600 011.



M. S. S. S.



Schedule of Examination

Date of Exam	Reporting Time	Gate Closing Time	Examination Timings
16.11.2025	8.30 a.m.	9.30 a.m.	10.00 a.m. to 01.00 p.m. - All candidates 10.00 a.m. to 02.00 p.m. - PWD candidates



Teachers Recruitment Board

Perasiriyar Anbazhagan Kalvi Valagam, College Road, Chennai - 600006.

Hall Ticket for OMR Examination (Objective Type)
for the Tamil Nadu Teacher Eligibility Test, Paper - II - 2025
[Notification No. 03/2025 Dated: 11.08.2025]

விண்ணப்பதாரரின் பெயர் / Candidate's Name	GOWTHAMI S
விண்ணப்பதாரரின் தேர்வு எண். / Candidate's Roll No.	25T21133240072
விண்ணப்பதாரரின் விண்ணப்ப எண். / Candidate's Application No.	TETP2037725
பிறந்த தேதி / Date of Birth	16-05-1990
தந்தை / தாய் பெயர் Father / Mother Name	SOUNDARAJAN P
பாலினம் / Gender	FEMALE
மாற்றுத்திறனாளி / Differently abled	NO
சொல்வதை எழுதுபவர் / Scribe	-
விண்ணப்பித்த மொழி / Language Applied for	Tamil
விண்ணப்பித்த விருப்பப் பாடம் / Optional Subject for	Mathematics and Science
விண்ணப்பதாரரின் முகவரி / Address of the Candidate:	NO 268, NACHARKUPPAM, NACHARKUPPAM POST, TIRUPATHUR, TIRUPATHUR, PIN - 635710
மையக் குறியீட்டுடன் தேர்வு மையம் பெயர், முகவரி மற்றும் மாவட்டம்: / Centre code, Name and Address of the Examination Centre with District:	Centre Code: 3324 District: TIRUPATTUR MARY IMMACULATE GIRLS HR SEC SCHOOL TIRUPATTUR LONDON MISSION ROAD, TIRUPATTUR-635601



S. Gowthami





Teachers Recruitment Board

Perasiriyar Anbazhagan Kalvi Valagam, College Road, Chennai - 600006.

Hall Ticket for OMR Examination (Objective Type)
for the Tamil Nadu Teacher Eligibility Test, Paper – II - 2025
[Notification No. 03/2025 Dated: 11.08.2025]

விண்ணப்பதாரரின் பெயர் / Candidate's Name	PRABHA K
விண்ணப்பதாரரின் தேர்வு எண். / Candidate's Roll No.	25T21102160228
விண்ணப்பதாரரின் விண்ணப்ப எண். / Candidate's Application No.	TETP2077164
பிறந்த தேதி / Date of Birth	24-01-1988
தந்தை / தாய் பெயர் Father / Mother Name	KUMANAN C
பாலினம் / Gender	FEMALE
மாற்றுத்திறனாளி / Differently abled	NO
சொல்வதை எழுதுபவர் / Scribe	.
விண்ணப்பித்த மொழி / Language Applied for	Tamil
விண்ணப்பித்த விருப்பப் பாடம் / Optional Subject for	Mathematics and Science
விண்ணப்பதாரரின் முகவரி / Address of the Candidate:	NO 24. RAMAIYA NAGAR, MEDAVAKKAM, CHENNAI, KANCHEEPURAM, PIN - 600100



U. Prabha.



Teachers Recruitment Board

Perasiriyar Anbazhagan Kalvi Valagam, College Road, Chennai - 600006.

Hall Ticket for OMR Examination (Objective Type)
for the Tamil Nadu Teacher Eligibility Test, Paper – II - 2025
[Notification No. 03/2025 Dated: 11.08.2025]

விண்ணப்பதாரரின் பெயர் / Candidate's Name	SHIVASANKARI S
விண்ணப்பதாரரின் தேர்வு எண். / Candidate's Roll No.	25T21138190024
விண்ணப்பதாரரின் விண்ணப்ப எண். / Candidate's Application No.	TETP2045008
பிறந்த தேதி / Date of Birth	18-08-1997
தந்தை / தாய் பெயர் Father / Mother Name	SIVANU M
பாலினம் / Gender	FEMALE
மாற்றுத்திறனாளி / Differently abled	NO
சொல்வதை எழுதுபவர் / Scribe	.
விண்ணப்பித்த மொழி / Language Applied for	Tamil
விண்ணப்பித்த விருப்பப் பாடம் / Optional Subject for	Mathematics and Science
விண்ணப்பதாரரின் முகவரி / Address of the Candidate:	1/884, PALANI ANDAVAR NAGAR, DHARAPURAM ROAD, K.CHETTIPALAYAM, TIRUPPUR, TIRUPPUR, PIN - 641604
மையக் குறியீட்டுடன் தேர்வு மையம் பெயர், முகவரி மற்றும் மையக் குறியீட்டுடன் தேர்வு மையம் பெயர், முகவரி மற்றும் District Code and Address of the Examination Centre with District:	Centre Code: 3819 District: VIRUDHUNAGAR CSI GIRLS HR SEC SCHOOL, CSI CHURCH COMPOUND, MADURAI MAINROAD, ARUPPUKOTTAI-626101



S. S. Sankari



Schedule of Examination

Date of Exam	Reporting Time	Gate Closing Time	Examination Timings
16.11.2025	8.30 a.m.	9.30 a.m.	10.00 a.m. to 01.00 p.m. – All candidates 10.00 a.m. to 02.00 p.m. – PWD candidates

PLEASE READ THE FOLLOWING IMPORTANT INSTRUCTIONS CAREFULLY

- Candidates should download their Hall Ticket through online only as no separate physical copy of this Hall Ticket will be dispatched.
- Candidates should check their Hall Ticket for the information furnished therein and in case of any discrepancy, it should be immediately reported to the TRB, Chennai for necessary action.
- The candidates appearing for the examination in their own interest, should check their eligibility in all respects to avoid disappointment if any at later stage and their candidature for this examination is "PURELY PROVISIONAL".
- Please note that this Hall Ticket does not constitute any offer of employment.
- NO REQUEST FOR CHANGE OF EXAMINATION CENTRE WILL BE CONSIDERED UNDER ANY CIRCUMSTANCES.
- No candidate will be allowed to enter into the Examination Hall after gate closing time 09:30 a.m. and should not leave the Examination Hall before 01:00 p.m. for all candidates and 02:00 p.m. for PWD candidates.
- The candidate must bring this Hall Ticket to the Examination Centre. No candidate will be allowed entry without this Hall Ticket.
- The candidate is also instructed to bring any one of the following Photo Identification Cards in original viz.
 - Aadhar Card
 - PAN Card



Teachers Recruitment Board

Perasiriyar Anbazhagan Kalvi Valagam, College Road, Chennai - 600006.

Hall Ticket for OMR Examination (Objective Type)
for the Tamil Nadu Teacher Eligibility Test, Paper - II - 2025
[Notification No. 03/2025 Dated: 11.08.2025]

விண்ணப்பதாரரின் பெயர் / Candidate's Name	DEEPA AM	 
விண்ணப்பதாரரின் தேர்வு எண். / Candidate's Roll No.	25T21103070159	
விண்ணப்பதாரரின் விண்ணப்ப எண். / Candidate's Application No.	TETP2331329	
பிறந்த தேதி / Date of Birth	30-04-1990	
தந்தை / தாய் பெயர் Father / Mother Name	MUNUSAMY A	
பாலினம் / Gender	FEMALE	
மாற்றுத்திறனாளி / Differently abled	NO	
சொல்வதை எழுதுபவர் / Scribe	-	
விண்ணப்பித்த மொழி / Language Applied for	Tamil	
விண்ணப்பித்த விருப்பப் பாடம் / Optional Subject for	Mathematics and Science	
விண்ணப்பதாரரின் முகவரி / Address of the Candidate:	NO 67 A THULUKKANATHAMMAN KOVIL STREET BHARATHI NAGAR ZAMIN PALLAVARAM, CHENNAI, KANCHEEPURAM CHENGALPET, PIN - 600043	
மையக் குறியீட்டுடன் தேர்வு மையம் பெயர், முகவரி மற்றும் மாவட்டம்: / Centre code, Name and Address of the Examination Centre with District:	Centre Code: 0307 District: CHENNAI PERUNTHALAIVAR KAMARAJAR GOVERNMENT GIRLS HIGHER SECONDARY SCHOOL,NORTH PARK STREET, VENKATAPURAM .AMBATTUR,CHENNAI-600 053.	

Schedule of Examination

Date of Exam	Reporting Time	Gate Closing Time	Examination Timings
16.11.2025	8.30 a.m.	9.30 a.m.	10.00 a.m. to 01.00 p.m. - All candidates 10.00 a.m. to 02.00 p.m. - PWD candidates



Teachers Recruitment Board

Perasiriyar Anbazhagan Kalvi Valagam, College Road, Chennai - 600006.

Hall Ticket for OMR Examination (Objective Type)
for the Tamil Nadu Teacher Eligibility Test, Paper - II - 2025
[Notification No. 03/2025 Dated: 11.08.2025]

விண்ணப்பதாரரின் பெயர் / Candidate's Name	NIRUBA MAYIL V	 
விண்ணப்பதாரரின் தேர்வு எண். / Candidate's Roll No.	25T21230060158	
விண்ணப்பதாரரின் விண்ணப்ப எண். / Candidate's Application No.	TETP2052064	
பிறந்த தேதி / Date of Birth	12-06-1981	
தந்தை / தாய் பெயர் Father / Mother Name	VEERAPERUMAL R	
பாலினம் / Gender	FEMALE	
மாற்றுத்திறனாளி / Differently abled	NO	
சொல்வதை எழுதுபவர் / Scribe	-	
விண்ணப்பித்த மொழி / Language Applied for	Tamil	
விண்ணப்பித்த விருப்பப் பாடம் / Optional Subject for	Social Science	
விண்ணப்பதாரரின் முகவரி / Address of the Candidate:	5/90 MIDDLE STREET SRI MOOLAKARAI SRIVAIKUNDAM TALUK, THOOTHUKUDI, THOOTHUKUDI, PIN - 628620	



Hall Ticket for OMR Examination (Objective Type)

for the Tamil Nadu Teacher Eligibility Test, Paper - II - 2025

[Notification No. 03/2025 Dated: 11.08.2025]

விண்ணப்பதாரரின் பெயர் / Candidate's Name	SANGEETHA R
விண்ணப்பதாரரின் தேர்வு எண். / Candidate's Roll No.	25T21127200028
விண்ணப்பதாரரின் விண்ணப்ப எண். / Candidate's Application No.	TETP2051771
பிறந்த தேதி / Date of Birth	01-07-1982
தாய் பெயர் / Mother Name	RAJA B
பாலினம் / Gender	FEMALE
பிற்பாடு உள்ளாள் / Differently abled	NO
எழுதுபவர் / Scribe	



Teachers Recruitment Board

Perasiriyar Anbazhagan Kalvi Valagam, College Road, Chennai - 600006.

Hall Ticket for OMR Examination (Objective Type)

for the Tamil Nadu Teacher Eligibility Test, Paper - II - 2025

[Notification No. 03/2025 Dated: 11.08.2025]

விண்ணப்பதாரரின் பெயர் / Candidate's Name	LAKSHMI R
விண்ணப்பதாரரின் தேர்வு எண். / Candidate's Roll No.	25T21202070216
விண்ணப்பதாரரின் விண்ணப்ப எண். / Candidate's Application No.	TETP2145208
பிறந்த தேதி / Date of Birth	18-05-1985
தந்தை / தாய் பெயர் / Father / Mother Name	RASPAL P
பாலினம் / Gender	FEMALE
மாற்றுத்திறனாளி / Differently abled	NO
சொல்வதை எழுதுபவர் / Scribe	-
விண்ணப்பித்த மொழி / Language Applied for	Tamil
விண்ணப்பித்த விருப்பப் பாடம் / Optional Subject for	Social Science
விண்ணப்பதாரரின் முகவரி / Address of the Candidate:	24/1 KANCHIPURAM HIGH ROAD , NO 65 PALUR VILLAGE AND POST, PALUR, CHENGALPATTU, PIN - 603101
மையக் குறியீட்டுடன் தேர்வு மையம் பெயர், முகவரி மற்றும் மாவட்டம்: / Centre code, Name and Address of the Examination Centre with District:	Centre Code: 0207 District: CHENGALPATTU GOVT GIRLS HR SEC SCHOOL, ORAGADAM SALAI(OPPOSITE TO TALUK OFFICE) THIRUKALUKUNDRAM, CHENGALPATTU DIST -603109



L. Lakshmi





Teachers Recruitment Board

Perasiriyar Anbazhagan Kalvi Valagam, College Road, Chennai - 600006.

Hall Ticket for OMR Examination (Objective Type)
for the Tamil Nadu Teacher Eligibility Test, Paper - II - 2025
[Notification No. 03/2025 Dated: 11.08.2025]

விண்ணப்பதாரரின் பெயர் / Candidate's Name	DEEPA AM	 
விண்ணப்பதாரரின் தேர்வு எண். / Candidate's Roll No.	25T21103070159	
விண்ணப்பதாரரின் விண்ணப்ப எண். / Candidate's Application No.	TETP2331329	
பிறந்த தேதி / Date of Birth	30-04-1990	
தந்தை / தாய் பெயர் Father / Mother Name	MUNUSAMY A	
பாலினம் / Gender	FEMALE	
மாற்றுத்திறனாளி / Differently abled	NO	
சொல்வதை எழுதுபவர் / Scribe	-	
விண்ணப்பித்த மொழி / Language Applied for	Tamil	
விண்ணப்பித்த விருப்பப் பாடம் / Optional Subject for	Mathematics and Science	
விண்ணப்பதாரரின் முகவரி / Address of the Candidate:	NO 67 A THULUKKANATHAMMAN KOVIL STREET BHARATHI NAGAR ZAMIN PALLAVARAM, CHENNAI, KANCHEEPURAM CHENGALPET, PIN - 600043	
மையக் குறியீட்டுடன் தேர்வு மையம் பெயர், முகவரி மற்றும் மாவட்டம்: / Centre code, Name and Address of the Examination Centre with District:	Centre Code: 0307 District: CHENNAI PERUNTHALAIVAR KAMARAJAR GOVERNMENT GIRLS HIGHER SECONDARY SCHOOL,NORTH PARK STREET, VENKATAPURAM .AMBATTUR,CHENNAI-600 053.	

Schedule of Examination



Date of Exam	Reporting Time	Gate Closing Time	Examination Timings
16.11.2025	8.30 a.m.	9.30 a.m.	10.00 a.m. to 01.00 p.m. - All candidates 10.00 a.m. to 02.00 p.m. - PWD candidates



Teachers Recruitment Board

Perasiriyar Anbazhagan Kalvi Valagam, College Road, Chennai - 600006.

Hall Ticket for OMR Examination (Objective Type)
for the Tamil Nadu Teacher Eligibility Test, Paper - II - 2025
[Notification No. 03/2025 Dated: 11.08.2025]

விண்ணப்பதாரரின் பெயர் / Candidate's Name	NIRUBA MAYIL V	 
விண்ணப்பதாரரின் தேர்வு எண். / Candidate's Roll No.	25T21230060158	
விண்ணப்பதாரரின் விண்ணப்ப எண். / Candidate's Application No.	TETP2052064	
பிறந்த தேதி / Date of Birth	12-06-1981	
தந்தை / தாய் பெயர் Father / Mother Name	VEERAPERUMAL R	
பாலினம் / Gender	FEMALE	
மாற்றுத்திறனாளி / Differently abled	NO	
சொல்வதை எழுதுபவர் / Scribe	-	
விண்ணப்பித்த மொழி / Language Applied for	Tamil	
விண்ணப்பித்த விருப்பப் பாடம் / Optional Subject for	Social Science	
விண்ணப்பதாரரின் முகவரி / Address of the Candidate:	5/90 MIDDLE STREET SRI MOOLAKARAI SRIVAIKUNDAM TALUK, THOOTHUKUDI, THOOTHUKUDI, PIN - 628620	

$$\frac{38 \times 38 \times 38 + 34 \times 34 \times 34 + 28 \times 28 \times 28 - 3 \times 38 \times 34 \times 28}{38 \times 38 + 34 \times 34 + 28 \times 28 - 38 \times 34 - 34 \times 28 - 38 \times 28}$$

is equal to

$$\frac{38 \times 38 \times 38 + 34 \times 34 \times 34 + 28 \times 28 \times 28 - 3 \times 38 \times 34 \times 28}{38 \times 38 + 34 \times 34 + 28 \times 28 - 38 \times 34 - 34 \times 28 - 38 \times 28}$$

ன் மதிப்பு



$$\frac{38 \times 38 \times 38 + 34 \times 34 \times 34 + 28 \times 28 \times 28 - 3 \times 38 \times 34 \times 28}{38 \times 38 + 34 \times 34 + 28 \times 28 - 38 \times 34 - 34 \times 28 - 38 \times 28}$$

is equal to

$$\frac{38 \times 38 \times 38 + 34 \times 34 \times 34 + 28 \times 28 \times 28 - 3 \times 38 \times 34 \times 28}{38 \times 38 + 34 \times 34 + 28 \times 28 - 38 \times 34 - 34 \times 28 - 38 \times 28}$$

ன் மதிப்பு

(A) 100

(B) 44

(C) 32

(D) 24

Find the value of $\sqrt[3]{9 \sqrt[3]{9 \sqrt[3]{9 \dots}}}$

மதிப்பு காண்க $\sqrt[3]{9 \sqrt[3]{9 \sqrt[3]{9 \dots}}}$



Find the value of $\sqrt[3]{9 \sqrt[3]{9 \sqrt[3]{9 \dots}}}$

மதிப்பு காண்க $\sqrt[3]{9 \sqrt[3]{9 \sqrt[3]{9 \dots}}}$

(A) 3

(B) 9

(C) $\sqrt[3]{9}$

(D) 9^3

Find the Sum $9 + 3 + 1 + \dots \infty$

$9 + 3 + 1 + \dots \infty$ என்னும் தொடரின் கூடுதல் காண்க.



Find the Sum $9 + 3 + 1 + \dots \infty$

$9 + 3 + 1 + \dots \infty$ என்னும் தொடரின் கூடுதல் காண்க.

(A) $\frac{37}{2}$

(B) $\frac{27}{2}$

(C) $\frac{47}{2}$

(D) $\frac{17}{2}$

If ABCD is written as BDFH then what will be written as MNOP?

ABCD என்பது BDFH என எழுதப்பட்டால் எது MNOP என எழுதப்பட்டிருக்கும்?



If ABCD is written as BDFH then what will be written as MNOP?

ABCD என்பது BDFH என எழுதப்பட்டால் எது MNOP என எழுதப்பட்டிருக்கும்?

(A) LLLL

(B) LMMO

(C) LMNN

(D) LMNO

If $A \rightarrow 1, B \rightarrow 2, C \rightarrow 3, \dots Z \rightarrow 26$ then which is wrong?

$A \rightarrow 1, B \rightarrow 2, C \rightarrow 3, \dots Z \rightarrow 26$ எனக் கொண்டால் கீழ்க்காண்பவற்றுள் எது தவறு?



If $A \rightarrow 1, B \rightarrow 2, C \rightarrow 3, \dots Z \rightarrow 26$ then which is wrong?

$A \rightarrow 1, B \rightarrow 2, C \rightarrow 3, \dots Z \rightarrow 26$ எனக் கொண்டால் கீழ்க்காண்பவற்றுள் எது தவறு?

(A) $\sqrt{I \times L \times L} = F^B$

$\sqrt{I \times L \times L} = F^B$

(B) $H.C.F$ of $(J, O, Y) = E$

மி.பொ.வ $(J, O, Y) = E$

(C) $\sqrt{Y} + \sqrt{P} = I$

$\sqrt{Y} + \sqrt{P} = I$

✓ (D) $C^B = F$

$C^B = F$

If a die is rolled twice, find the probability of getting an even number in the first time or a total of 6

ஒரு பகடை இருமுறை உருட்டப்படுகிறது. முதலாவதாக உருட்டப்படும்போது ஒரு இரட்டைப்படை எண் கிடைத்தல் அல்லது அவ்விரு உருட்டலில் முக எண்களின் கூடுதல் 6 ஆக இருத்தல் எனும் நிகழ்ச்சியின் நிகழ்தகவினைக் காண்க.



If a die is rolled twice, find the probability of getting an even number in the first time or a total of 6

ஒரு பகடை இருமுறை உருட்டப்படுகிறது. முதலாவதாக உருட்டப்படும்போது ஒரு இரட்டைப்படை எண் கிடைத்தல் அல்லது அவ்விரு உருட்டலில் மூக எண்களின் கூடுதல் 6 ஆக இருத்தல் எனும் நிகழ்ச்சியின் நிகழ்தகவினைக் காண்க.

(A) $\frac{21}{36}$

(B) $\frac{5}{36}$

(C) $\frac{20}{36}$

(D) $\frac{14}{36}$

If x, y are largest and smallest three digit numbers, they can be divided by 3 and cannot be divided by 2 and 9 then the value of $x - y$ is

x, y என்பன மிகப்பெரிய மற்றும் மிகச்சிறிய மூன்றிலக்க எண்கள். இவை 3 ஆல் வகுபடக் கூடியன மற்றும் 2, 9 ஆகியவற்றால் வகுபடாதவை எனில் $x - y$ ன் மதிப்பு



If x, y are largest and smallest three digit numbers, they can be divided by 3 and cannot be divided by 2 and 9 then the value of $x - y$ is

x, y என்பன மிகப்பெரிய மற்றும் மிகச்சிறிய மூன்றிலக்க எண்கள். இவை 3 ஆல் வகுபடக் கூடியன மற்றும் 2, 9 ஆகியவற்றால் வகுபடாதவை எனில் $x - y$ ன் மதிப்பு

- (A) 888
(C) 899

- (B) 897
(D) 898

A and B together can do a piece of work in 24 days and A alone can do it in 72 days. How long will B take to complete the work?

A மற்றும் B ஆகிய இருவரும் இணைந்து ஒரு வேலையை 24 நாட்களில் முடிப்பர். A தனியே அந்த வேலையை 72 நாட்களில் முடிப்பர் எனில், B தனியே அந்த வேலையை எத்தனை நாட்களில் முடிப்பார்?



A and B together can do a piece of work in 24 days and A alone can do it in 72 days. How long will B take to complete the work?

A மற்றும் B ஆகிய இருவரும் இணைந்து ஒரு வேலையை 24 நாட்களில் முடிப்பர். A தனியே அந்த வேலையை 72 நாட்களில் முடிப்பர் எனில், B தனியே அந்த வேலையை எத்தனை நாட்களில் முடிப்பார்?

(A) 48

(B) 24

(C) 36

(D) 60

Using clay, a student made a right circular cone of height 48 cm and base radius 12 cm. Another student reshapes it in the form of a sphere. Find the radius of the sphere

களிமண்ணைப் பயன்படுத்தி ஒரு மாணவன் 48 செமீ உயரமும் 12 செமீ ஆரமும் கொண்ட நேர் வட்டத் திண்மக் கூம்பைச் செய்தார். அக்கூம்பை மற்றொரு மாணவர் ஒரு திண்ம கோளமாக மாற்றினார். அவ்வாறு மாற்றப்பட்ட கோளத்தின் ஆரத்தைக் காண்க.



Using clay, a student made a right circular cone of height 48 cm and base radius 12 cm. Another student reshapes it in the form of a sphere. Find the radius of the sphere

களிமண்ணைப் பயன்படுத்தி ஒரு மாணவன் 48 செமீ உயரமும் 12 செமீ ஆரமும் கொண்ட நேர் வட்டத் திண்மக் கூம்பைச் செய்தார். அக்கூம்பை மற்றொரு மாணவர் ஒரு திண்ம கோளமாக மாற்றினார். அவ்வாறு மாற்றப்பட்ட கோளத்தின் ஆரத்தைக் காண்க.

(A) 48 cm
48 செமீ

(B) 12 cm
12 செமீ

(C) 144 cm
144 செமீ

(D) 36 cm
36 செமீ

If total surface area of solid hemisphere is $6k^2$ square units. Then which one of the following is surface area of the sphere with same radius ' r '?

ஒரு அரைக் கோளத்தின் மொத்தப் புறப்பரப்பு $6k^2$ எனில் அதே ஆரமுள்ள கோளத்தின் புறப்பரப்பினை பின்வருவனவற்றுள் எது குறிக்கிறது?



If total surface area of solid hemisphere is $6k^2$ square units. Then which one of the following is surface area of the sphere with same radius 'r'?

ஒரு அரைக் கோளத்தின் மொத்தப் புறப்பரப்பு $6k^2$ எனில் அதே ஆரமுள்ள கோளத்தின் புறப்பரப்பினை பின்வருவனவற்றுள் எது குறிக்கிறது?

- (A) $4k^2$ (B) $4\pi k^2$
(C) $8\pi k^2$ (D) $8k^2$

A person bought 10 shares of rupees 25,000. First year it increases 4% second year it increases 8%. In the third year it decreases 10%. Then what will be the amount at the end of third year?

ஒருவர் 10 பங்குகளை ரூ. 25,000 க்கு வாங்குகிறார். அதன் மதிப்பு முதலாம் ஆண்டில் 4% உயர்கிறது. இரண்டாம் ஆண்டில் 8% உயர்கிறது. மூன்றாம் ஆண்டில் 10% குறைகிறது எனில் மூன்றாம் ஆண்டின் முடிவில் உள்ள மொத்த தொகை எவ்வளவு?



A person bought 10 shares of rupees 25,000. First year it increases 4% second year it increases 8%. In the third year it decreases 10%. Then what will be the amount at the end of third year?

ஒருவர் 10 பங்குகளை ரூ. 25,000 க்கு வாங்குகிறார். அதன் மதிப்பு முதலாம் ஆண்டில் 4% உயர்கிறது. இரண்டாம் ஆண்டில் 8% உயர்கிறது. மூன்றாம் ஆண்டில் 10% குறைகிறது எனில் மூன்றாம் ஆண்டின் முடிவில் உள்ள மொத்த தொகை எவ்வளவு?

(A) Rs. 25,672

ரூ. 25,672

(C) Rs. 25,472

ரூ. 25,472

(B) Rs. 25,372

ரூ. 25,372

(D) Rs. 25,272

ரூ. 25,272

A principal becomes Rs. 20,100 at the rate of 10% in 5 years. Find the principal.

ஓர் அசல் தொகை ஆண்டுக்கு 10% வட்டி வீதத்தில் 5 ஆண்டுகளில் ரூ. 20,100 ஆக உயர்ந்தது எனில், அசலைக் காண்க.



A principal becomes Rs. 20,100 at the rate of 10% in 5 years. Find the principal.

ஓர் அசல் தொகை ஆண்டுக்கு 10% வட்டி வீதத்தில் 5 ஆண்டுகளில் ரூ. 20,100 ஆக உயர்ந்தது எனில், அசலைக் காண்க.

(A) ✓ Rs. 13,400
ரூ. 13,400

(B) Rs. 10,050
ரூ. 10,050

(C) Rs. 40,200
ரூ. 40,200

(D) Rs. 15,100
ரூ. 15,100

A particular High School has 450 students, 15 teachers, and 3 administrators. If the school grows to 1050 students and the ratio are maintained, then find the number of teachers and administrators.

ஒரு உயர்நிலைப்பள்ளியில் 450 மாணவர்கள், 15 ஆசிரியர்கள் மற்றும் 3 நிர்வாகிகள் என உள்ளனர். பள்ளியில் மாணவர்களின் எண்ணிக்கை 1050 ஆக உயர்ந்தால், மேற்கண்ட விகிதத்தில் எத்தனை ஆசிரியர்கள் மற்றும் நிர்வாகிகள் இருப்பர் எனக் காண்க.



A particular High School has 450 students, 15 teachers, and 3 administrators. If the school grows to 1050 students and the ratio are maintained, then find the number of teachers and administrators.

ஒரு உயர்நிலைப்பள்ளியில் 450 மாணவர்கள், 15 ஆசிரியர்கள் மற்றும் 3 நிர்வாகிகள் என உள்ளனர். பள்ளியில் மாணவர்களின் எண்ணிக்கை 1050 ஆக உயர்ந்தால், மேற்கண்ட விகிதத்தில் எத்தனை ஆசிரியர்கள் மற்றும் நிர்வாகிகள் இருப்பர் எனக் காண்க.

(A) 35, 7

(B) 15, 3

(C) 30, 6

(D) 7, 35

Find the LCM of $y^3 - 125$, $(y - 5)^2$, $y^2 - 25$

$y^3 - 125$, $(y - 5)^2$, $y^2 - 25$ ஆகியவற்றின் மீ.பொ.ம. காண்க



Find the LCM of $y^3 - 125$, $(y - 5)^2$, $y^2 - 25$

$y^3 - 125$, $(y - 5)^2$, $y^2 - 25$ ஆகியவற்றின் மீ.பொ.ம. காண்க

- (A) $(y - 5)^2 (y + 5) (y^2 + 5y + 25)$ (B) $(y - 5)(y + 5)$
(C) $(y - 5)^2$ (D) $(y - 5)^3$

10% of 20% of 25% of 8000?

8000-இன் 25% மதிப்பின் 20% மதிப்பின் 10% என்பது என்ன?



10% of 20% of 25% of 8000?

8000-இன் 25% மதிப்பின் 20% மதிப்பின் 10% என்பது என்ன?

(A) 2000

(B) 500

(C) 400

✓ (D) 40

A large, faint watermark of the Weshine Academy logo is centered in the background. The logo is circular with an orange border. Inside the border, the text "SINCE 2013" is at the top, "Weshine Academy" is in the middle, and "Guiding you to get through" is at the bottom. The outer ring of the logo contains the text "TNUSRB | TRB | TET | SSC | BANK EXAM".

Thank You