



The background features a large, semi-transparent watermark of the Weshine Academy logo. It is a circular emblem with an orange border. Inside the border, the text "SINCE 2013" is at the top, "Weshine Academy" is in the middle, and "Guiding you to get through" is at the bottom. The logo also lists various exam categories: "CSC | TNUSRB | TRB | TET | SSC | BANK EXAM".

# MATHS

$x$  மதிப்பின் 20% ஆனது 50 எனில்,  $x$ -ன் மதிப்பு

The value of  $x$  if 20% of  $x = 50$



$x$  மதிப்பின் 20% ஆனது 50 எனில்,  $x$ -ன் மதிப்பு

The value of  $x$  if 20% of  $x = 50$

- (A) 100  
(C) 350

- (B) 170  
(D) ✓ 250

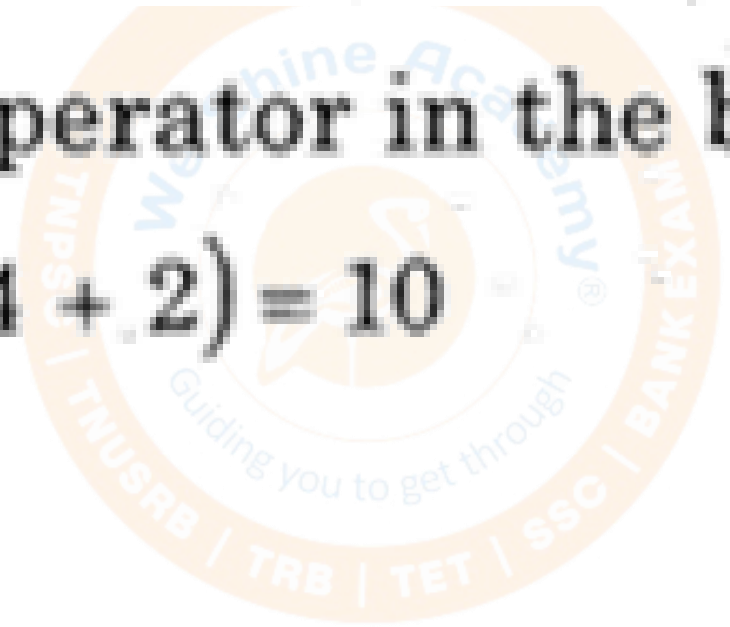


சரியான குறியீட்டை கட்டத்தில் நிரப்புக

2  6 - 12 ÷ (4 + 2) = 10

Put the correct operator in the box

2  6 - 12 ÷ (4 + 2) = 10



சரியான குறியீட்டை கட்டத்தில் நிரப்புக

2  6 - 12 ÷ (4 + 2) = 10

Put the correct operator in the box

2  6 - 12 ÷ (4 + 2) = 10

(A) +

(C) -

(B) ×

(D) ÷

மூன்று சீரான நாணயங்கள் சுண்டப்படுகின்றன எனில் அதிகபட்சம் இரு தலைகள் கிடைக்க நிகழ்தகவு யாது?

Three unbiased coins are tossed. What is the probability of getting at most two heads?

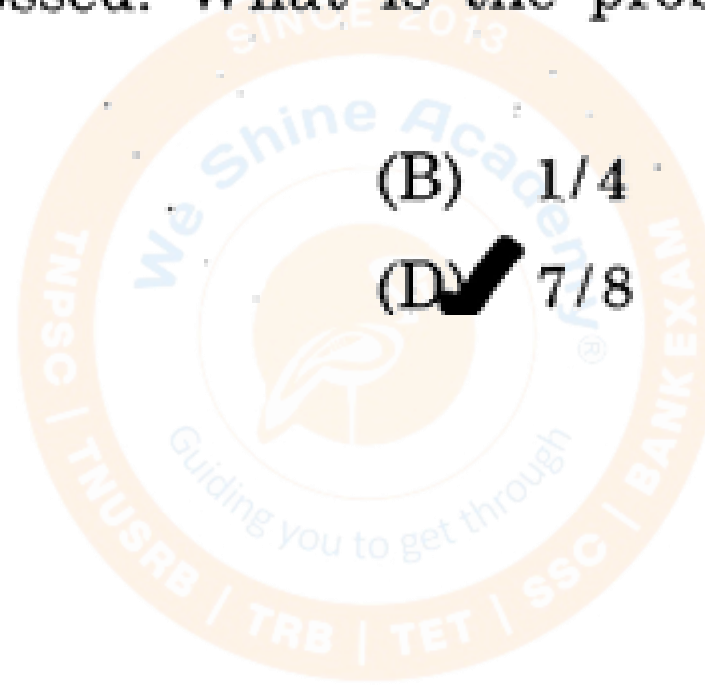


மூன்று சீரான நாணயங்கள் சுண்டப்படுகின்றன எனில் அதிகபட்சம் இரு தலைகள் கிடைக்க நிகழ்தகவு யாது?

Three unbiased coins are tossed. What is the probability of getting at most two heads?

- (A)  $3/4$   
(C)  $3/8$

- (B)  $1/4$   
(D)   $7/8$



ஒரு முக்கோணத்தின் மூன்று பக்கங்கள் முறையே 25 செ.மீ, 24 செ.மீ மற்றும் 7செ.மீ எனில் பரப்பளவு என்ன?

Find the area of triangle whose sides are 25cm, 24cm, and 7cm.



ஒரு முக்கோணத்தின் மூன்று பக்கங்கள் முறையே 25 செ.மீ, 24 செ.மீ மற்றும் 7செ.மீ எனில் பரப்பளவு என்ன?

Find the area of triangle whose sides are 25cm, 24cm, and 7cm.

- (A) ✓  $84 \text{ cm}^2$   
(C)  $90 \text{ cm}^2$

- (B)  $87.5 \text{ cm}^2$   
(D)  $300 \text{ cm}^2$



ஒரு கன செவ்வகத்தின் அடிப்பரப்பு மற்றும் கன அளவுகள் முறையே 180 ச.செ.மீ மற்றும் 900 க.செ.மீ எனில் அதன் உயரம் என்ன?

Find the height of a cuboid whose base area is  $180 \text{ cm}^2$  and volume is  $900 \text{ cm}^3$



ஒரு கன செவ்வகத்தின் அடிப்பரப்பு மற்றும் கன அளவுகள் முறையே 180 ச.செ.மீ மற்றும் 900 க.செ.மீ எனில் அதன் உயரம் என்ன?

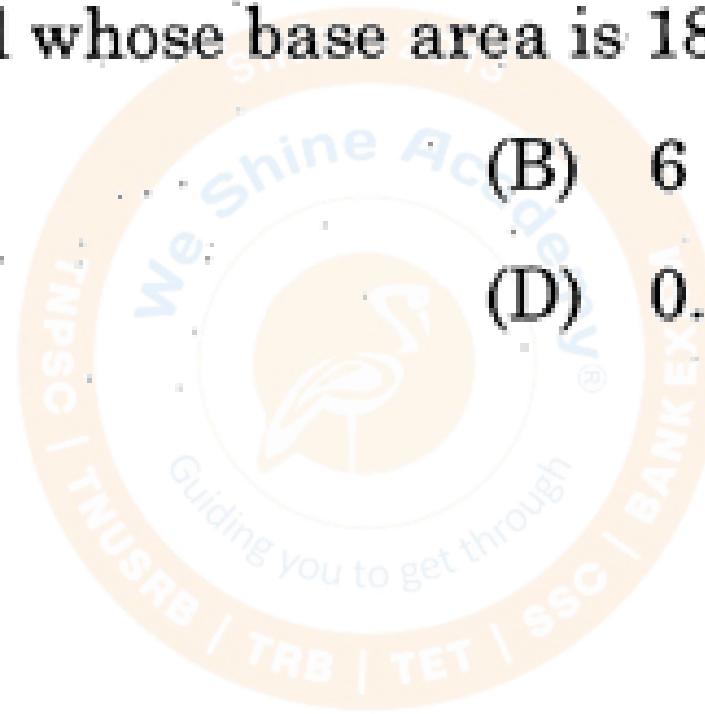
Find the height of a cuboid whose base area is  $180 \text{ cm}^2$  and volume is  $900 \text{ cm}^3$

(A) ✓ 5 cm

(C) 7 cm

(B) 6 cm

(D) 0.2 cm



$x^2 + 5x - 6$ ,  $x^2 + 4x - 12$ ,  $x^2 + 8x + 12$  ஆகியவற்றின் மீ.பொ.வ யாது?

H.C.F. of  $x^2 + 5x - 6$ ,  $x^2 + 4x - 12$ ,  $x^2 + 8x + 12$



$x^2 + 5x - 6$ ,  $x^2 + 4x - 12$ ,  $x^2 + 8x + 12$  ஆகியவற்றின் மீ.பொ.வ யாது?

H.C.F. of  $x^2 + 5x - 6$ ,  $x^2 + 4x - 12$ ,  $x^2 + 8x + 12$

(A)  $x - 2$

(B)  $x + 2$

(C)  $x + 3$

(D) ✓  $x + 6$



அருண் ஒரு வண்ணத் தொலைக்காட்சிப் பெட்டியை ₹15,000 க்கு வாங்கி அதனை 15% நட்டத்திற்கு விற்றார் எனில் அத்தொலைக்காட்சி பெட்டியின் விற்பனை விலை யாது?

Arun buys a colour T.V set for ₹. 15,000 and sells it at a loss of 15% what is the selling price of the T.V. set.



அருண் ஒரு வண்ணத் தொலைக்காட்சிப் பெட்டியை ₹15,000 க்கு வாங்கி அதனை 15% நட்டத்திற்கு விற்றார் எனில் அத்தொலைக்காட்சி பெட்டியின் விற்பனை விலை யாது?


Arun buys a colour T.V set for ₹. 15,000 and sells it at a loss of 15% what is the selling price of the T.V. set:

(A) ✓ ₹.12,750

(B) ₹.12,500

(C) ₹.13,000

(D) ₹.11,750



40kg ஓர் 0.75% மதிப்பு கிடைக்க.

Find the value of 0.75% of 40kg.



40kg ன் 0.75% மதிப்பு கண்டுபிடிக்க.

Find the value of 0.75% of 40kg.

(A) 30 kg

(C) 3 kg

(B) 0.3 kg

(D) 26 kg



ஒரு புள்ளி விவரத்தின் விலக்க வர்க்க சராசரி 6.25 எனில் அதன் திட்ட விலக்கம் காண்க.

If the variance of a data is 6.25 find its standard deviation.



ஒரு புள்ளி விவரத்தின் விலக்க வர்க்க சராசரி 6.25 எனில் அதன் திட்ட விலக்கம் காண்க.

If the variance of a data is 6.25 find its standard deviation.

(A) ✓ 2.5

(C) 3.25

(B) 0.25

(D) 3.5



ஒற்றை இயல் எண்ணின் கனம் ஆனது.

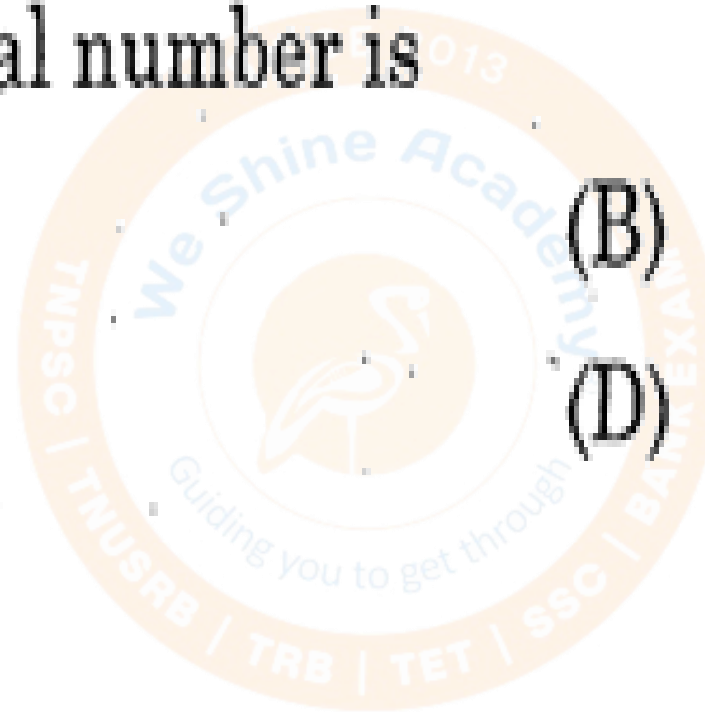
The cube of an odd natural number is



ஒற்றை இயல் எண்ணின் கனம் ஆனது

The cube of an odd natural number is

- (A) Prime number
- (B) Even number
- (C)  Odd number
- (D) May be even, may be odd








# TNPSC COMBINED

**SINGLE FEE  
MULTIPLE EXAMS**

**₹19,999**

**ADMISSION OPEN  
JOIN NOW**

 **DIRECT CLASS**  
 **ONLINE CLASS**  
**Available**

-  **Time Tracker**
-  **Audio Study Materials**
-  **Easy EMI**
-  **Speed Maths**
-  **Book Set Materials - Count**

**+91 8939 144 344 | +91 8939 244 344**



**SINCE 2013**  
**We Shine Academy**  
guiding you to get through

**TNPSC | TNUSRB | RRB | SSC | BANK EXAM**



SINCE 2013  
**We Shine Academy®**  
 guiding you to get through  
 ISO 9001-2015 Certified Educational Institution

**உங்களின்  
 அரசு வேலை  
 கனவிற்கான முதற்படியை  
 இன்றே தொடங்குங்கள்!\***

\*Guaranteed Central or State Government jobs  
 within 6 months of course completion

**TNPSC  
 GROUP I  
 23<sup>rd</sup>  
 RANK**

Our Central and State  
**GOVERNMENT OFFICERS**  
 TNPSC | TNUSRB | TET | SSC | BANK EXAM

 Illakiya	 Suganya	 Alshwarya	 Kesavan K	 Mayuri Priya	 M Esther Angeline	 Shankar	 Nantha kumar	 K Anu Priya
 Sakthi	 MadhuMathi	 Sri Ganesh	 Subanya S	 Kingsley J	 Arul Mozhi	 J Jeya	 M Umapathy	 P Balaji
 Dharani K	 Alex Pandian	 Kavitha	 Vishnu Priya	 Nisha	 Kalaiselvi	 Bala Vignesh Raj	 Muthu Selvi C	 Karthick
 Suresh	 B Jeenath	 by <b>Joint Commissioner</b>			 Kishore	 K Revathy	 Sankaragomathy S	
 M Pandiyarajan	 S Thanga Mani				 D Parthiban	 M Mahindravarmaan	 Michael Priyanka	
 Wasin N	 Sundar Rajan	 Interview Panel Members			 Rajasekar	 Vimala	 Lashmanan	

\* Terms and conditions apply




# OUR GOVERNMENT OFFICERS

## K. THANGA MEENA DEVI

இந்து சமய அறநிலையத் துறை,  
உதவியாளர் பணி



## STUDENTS WITH APPOINTMENT ORDER



**CONGRATULATIONS**  
ON SUCCESSFULLY GETTING PLACED IN



Angaleswaran  
Sub Inspector



Barkavi. K  
Educational Dept.



Anandhalakshmi J  
IBPS RRB clerk



Sankara Gomathy.S  
Village  
Administrative Officer



Jeeva. R  
Chennai High court



Harisankar K  
Police Contable



Vinoth  
District Court



Adityan  
Agriculture Dept.

# Our Central and State GOVERNMENT OFFICERS



Thennarasu  
TNUSRB Police



Sangeetha  
TNPSC GROUP II  
Exam Cleared



Aathithyan G  
TNPSC Exam  
Agriculture Dept.



Kumari  
SBI (PO)



Bala Kumaran V  
TNPSC Exam  
Agriculture Dept.



Bhavya Shree R  
Cleared NICL -  
Prelims Exam



Kameshwaran  
TNPSC GROUP II  
Exam Cleared



Michael Priyanka  
IBPS SCALE-II  
Officer



Murali  
Indian Bank



Jeyanthi  
TNPSC GROUP IV



Nirmala S  
Group II Interview  
Post



Varun Kumar M  
SSC GD



Anjali  
IBPS SO  
(IT OFFICER)



Manimegalai  
TNPSC  
Judery  
Department



Pankajavalli  
TNPSC  
Stenographer



Parasuraman  
Sub Inspector



Abdul Rahman  
SSC - MTS



Pradeepraj N  
Group 2 A prelims



Aswini  
SSC & BANK



Thennarasu  
TNUSRB Police



Veera Perumal  
TNPSC GROUP II  
Exam Cleared



Sivaranjani  
TNPSC GROUP II  
Exam Cleared



Manimozhi  
TNPSC GROUP II  
Exam Cleared



Harisankar K  
Police Constable



Kavitha  
TNUSRB Police  
Exam Cleared



B. Benazir Banu  
TNUSRB Police  
Exam Cleared



Aswin Kumar  
Tamilnadu  
Post Office



Divya  
TNPSC Group II  
Exam Cleared



Mathumathi P  
Assistant Inspector  
of Labour



Manimaran N  
Sub Inspector



KAMARAJ  
Sub Inspector



## THE WESHINE JOURNEY.

# Our Central and State GOVERNMENT OFFICERS



Gayathri  
RBI



Aswin Kumar, S  
TN Postal Dept.



Yesu Amirtham  
TNPSC HIGH COURT



M.Esther Angeline  
Police Constable



Madhumathi  
TNPSC GROUP 1  
Exam Cleared



Sabeen Banu  
TNPSC HIGH COURT



D.Vignesh  
Police Constable



Rahmath Nisha  
Labour Dept.



GOKUL S  
SSC/BANK



JAI GANESH  
SSC/BANK



C.Muthu Selvi  
Police Constable



SOWMEYA.S  
SSC/BANK



Fahad  
Social Welfare  
Dept.



KIRAN KUMAR  
SSC/BANK



Hari Shankar. P  
LIC



Parasuraman  
Police Constable



PADMA PRIYA PT  
LIC



SURESH .R  
LIC



P. Bharathkumar  
TNSRB SI



Naveen .D  
SSC/BANK



HARI SHANKAR.P  
LIC



S.Madhavan  
Police Constable



Anjali .R  
SSC/BANK



M. Sivasubbu  
Police Constable



Also We provide internal coaching for

Trusted Partnership with



[www.weshineacademy.com](http://www.weshineacademy.com)

8939 144 344 | 8939 244 344



SINCE 2013  
**We Shine Academy**<sup>®</sup>

guiding you to get through

TNPSC | TNUSRB | TET | SSC | BANK EXAM

# TNPSC GROUP-I Express TEST SERIES

Starts on:  
Saturday | 07-02-2026

## Features:

- ✓ 5000+ Questions
- ✓ 37 Total Tests
- ✓ 21 General Studies Tests
- ✓ 05 Revision Tests
- ✓ 11 Full-Length Mock Tests

Offline: ₹5,999/-

Online: ₹4,999/-

## Offer:

We Shine Old Students -  
**FREE!**






## Teachers Recruitment Board

Perasiriyar Anbazhagan Kalvi Valagam, College Road, Chennai - 600006.

Hall Ticket for OMR Examination (Objective Type)

for the Tamil Nadu Teacher Eligibility Test, Paper - II - 2025

[Notification No. 03/2025 Dated: 11.08.2025]

விண்ணப்பதாரரின் பெயர் / Candidate's Name	SUBASHINI A	 
விண்ணப்பதாரரின் தேர்வு எண். / Candidate's Roll No.	25T21103570127	
விண்ணப்பதாரரின் விண்ணப்ப எண். / Candidate's Application No.	TETP2117329	
பிறந்த தேதி / Date of Birth	19-11-2002	
தந்தை / தாய் பெயர் Father / Mother Name	ANNADURAI R	
பாலினம் / Gender	FEMALE	
மாற்றுத்திறனாளி / Differently abled	NO	
சொல்வதை எழுதுபவர் / Scribe	-	
விண்ணப்பித்த மொழி / Language Applied for	Tamil	
விண்ணப்பித்த விருப்பப் பாடம் / Optional Subject for	Mathematics and Science	
விண்ணப்பதாரரின் முகவரி / Address of the Candidate:	7/128, ARUNTHATHIYAR STRRET, VANAKARANPUDUR, THATHAIYANGARPATTI (PO), NAMAKKAL, NAMAKKAL, NAMAKKAL, PIN - 637014	



## Teachers Recruitment Board

Perasiriyar Anbazhagan Kalvi Valagam, College Road, Chennai - 600006.

Hall Ticket for OMR Examination (Objective Type)

for the Tamil Nadu Teacher Eligibility Test, Paper - II - 2025

[Notification No. 03/2025 Dated: 11.08.2025]

விண்ணப்பதாரரின் பெயர் / Candidate's Name	NAGAMMAL A	 	
விண்ணப்பதாரரின் தேர்வு எண். / Candidate's Roll No.	25T21103820131		
விண்ணப்பதாரரின் விண்ணப்ப எண். / Candidate's Application No.	TETP2132346		
பிறந்த தேதி / Date of Birth	10-04-1990		
தந்தை / தாய் பெயர் Father / Mother Name	AYYAPPAN PILLAI SS		
பாலினம் / Gender	FEMALE		
மாற்றுத்திறனாளி / Differently abled	NO		
சொல்வதை எழுதுபவர் / Scribe	-		
விண்ணப்பித்த மொழி / Language Applied for	Tamil		
விண்ணப்பித்த விருப்பப் பாடம் / Optional Subject for	Mathematics and Science		
விண்ணப்பதாரரின் முகவரி / Address of the Candidate:	FLAT.NO:148,TNHB COLONY,TAMBARAM SANATORIUM, CHENNAI, CHENGALPATTU, PIN - 600047		
மையக் குறியீட்டுடன் தேர்வு மையம் பெயர், முகவரி மற்றும் மாவட்டம்: / Centre code, Name and Address of the Examination Centre with District:	Centre Code: 0382 District: CHENNAI GRT MAHALAKSHMI VIDYALAYA MATRIC HSS,NO-76,7TH AVENU,ASHOK NAGAR,CHENNAI 600083.		
<b>Schedule of Examination</b>			
<b>Date of Exam</b>	<b>Reporting Time</b>	<b>Gate Closing Time</b>	<b>Examination Timings</b>
16.11.2025	8.30 a.m.	9.30 a.m.	10.00 a.m. to 01.00 p.m. - All candidates 10.00 a.m. to 02.00 p.m. - PWD candidates



## Teachers Recruitment Board

Perasiriyar Anbazhagan Kalvi Valagam, College Road, Chennai - 600006.

Hall Ticket for OMR Examination (Objective Type)  
for the Tamil Nadu Teacher Eligibility Test, Paper - II - 2025  
[Notification No. 03/2025 Dated: 11.08.2025]

விண்ணப்பதாரரின் பெயர் / Candidate's Name	RAM PRIYA M
விண்ணப்பதாரரின் தேர்வு எண். / Candidate's Roll No.	25T21203240436
விண்ணப்பதாரரின் விண்ணப்ப எண். / Candidate's Application No.	TETP2196836
பிறந்த தேதி / Date of Birth	04-05-1993
தந்தை / தாய் பெயர் Father / Mother Name	MUTHURAJ G
பாலினம் / Gender	FEMALE
மாற்றுத்திறனாளி / Differently abled	NO
சொல்வதை எழுதுபவர் / Scribe	-
விண்ணப்பித்த மொழி / Language Applied for	Tamil
விண்ணப்பித்த விருப்பப் பாடம் / Optional Subject for	Social Science
விண்ணப்பதாரரின் முகவரி / Address of the Candidate:	1/525,1ST FLOOR,1ST BLOCK, MUGAPPAIR WEST, CHENNAI, THIRUVALLUR, PIN - 600037
மையக் குறியீட்டுடன் தேர்வு மையம் பெயர், முகவரி மற்றும் மாவட்டம்: / Centre code, Name and Address of the Examination Centre with District.	Centre Code: 0324 District: CHENNAI CHENNAI GIRLS HIGHER SECONDARY SCHOOL,NO-2A, SCHOOL ROAD, M H ROAD, PERAMBUR,CHENNAI-600 011.



Muthuraj G



### Schedule of Examination

Date of Exam	Reporting Time	Gate Closing Time	Examination Timings
16.11.2025	8.30 a.m.	9.30 a.m.	10.00 a.m. to 01.00 p.m. - All candidates 10.00 a.m. to 02.00 p.m. - PWD candidates



## Teachers Recruitment Board

Perasiriyar Anbazhagan Kalvi Valagam, College Road, Chennai - 600006.

Hall Ticket for OMR Examination (Objective Type)  
for the Tamil Nadu Teacher Eligibility Test, Paper - II - 2025  
[Notification No. 03/2025 Dated: 11.08.2025]

விண்ணப்பதாரரின் பெயர் / Candidate's Name	GOWTHAMI S
விண்ணப்பதாரரின் தேர்வு எண். / Candidate's Roll No.	25T21133240072
விண்ணப்பதாரரின் விண்ணப்ப எண். / Candidate's Application No.	TETP2037725
பிறந்த தேதி / Date of Birth	16-05-1990
தந்தை / தாய் பெயர் Father / Mother Name	SOUNDARAJAN P
பாலினம் / Gender	FEMALE
மாற்றுத்திறனாளி / Differently abled	NO
சொல்வதை எழுதுபவர் / Scribe	-
விண்ணப்பித்த மொழி / Language Applied for	Tamil
விண்ணப்பித்த விருப்பப் பாடம் / Optional Subject for	Mathematics and Science
விண்ணப்பதாரரின் முகவரி / Address of the Candidate:	NO 268,NACHARKUPPAM,NACHARKUPPAM POST, TIRUPATHUR, TIRUPATHUR, PIN - 635710
மையக் குறியீட்டுடன் தேர்வு மையம் பெயர், முகவரி மற்றும் மாவட்டம்: / Centre code, Name and Address of the Examination Centre with District:	Centre Code: 3324 District: TIRUPATTUR MARY IMMACULATE GIRLS HR SEC SCHOOL TIRUPATTURLONDON MISSION ROAD, TIRUPATTUR-635601



S. Gowthami








## Teachers Recruitment Board

Perasiriyar Anbazhagan Kalvi Valagam, College Road, Chennai - 600006.

Hall Ticket for OMR Examination (Objective Type)  
for the Tamil Nadu Teacher Eligibility Test, Paper – II - 2025  
[Notification No. 03/2025 Dated: 11.08.2025]


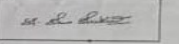

விண்ணப்பதாரரின் பெயர் / Candidate's Name	PRABHA K	 
விண்ணப்பதாரரின் தேர்வு எண். / Candidate's Roll No.	25T21102160228	
விண்ணப்பதாரரின் விண்ணப்ப எண். / Candidate's Application No.	TETP2077164	
பிறந்த தேதி / Date of Birth	24-01-1988	
தந்தை / தாய் பெயர் Father / Mother Name	KUMANAN C	
பாலினம் / Gender	FEMALE	
மாற்றுத்திறனாளி / Differently abled	NO	
சொல்வதை எழுதுபவர் / Scribe	.	
விண்ணப்பித்த மொழி / Language Applied for	Tamil	
விண்ணப்பித்த விருப்பப் பாடம் / Optional Subject for	Mathematics and Science	
விண்ணப்பதாரரின் முகவரி / Address of the Candidate:	NO 24. RAMAIYA NAGAR, MEDAVAKKAM, CHENNAI, KANCHEEPURAM, PIN - 600100	



## Teachers Recruitment Board

Perasiriyar Anbazhagan Kalvi Valagam, College Road, Chennai - 600006.

Hall Ticket for OMR Examination (Objective Type)  
for the Tamil Nadu Teacher Eligibility Test, Paper – II - 2025  
[Notification No. 03/2025 Dated: 11.08.2025]

விண்ணப்பதாரரின் பெயர் / Candidate's Name	SHIVASANKARI S	 
விண்ணப்பதாரரின் தேர்வு எண். / Candidate's Roll No.	25T21138190024	
விண்ணப்பதாரரின் விண்ணப்ப எண். / Candidate's Application No.	TETP2045008	
பிறந்த தேதி / Date of Birth	18-08-1997	
தந்தை / தாய் பெயர் Father / Mother Name	SIVANU M	
பாலினம் / Gender	FEMALE	
மாற்றுத்திறனாளி / Differently abled	NO	
சொல்வதை எழுதுபவர் / Scribe	.	
விண்ணப்பித்த மொழி / Language Applied for	Tamil	
விண்ணப்பித்த விருப்பப் பாடம் / Optional Subject for	Mathematics and Science	
விண்ணப்பதாரரின் முகவரி / Address of the Candidate:	1/884, PALANI ANDAVAR NAGAR, DHARAPURAM ROAD, K.CHETTIPALAYAM, TIRUPPUR, TIRUPPUR, PIN - 641604	
மையக் குறியீட்டுடன் தேர்வு மையம் பெயர், முகவரி மற்றும் மையக் குறியீட்டுடன் தேர்வு மையம் பெயர், முகவரி மற்றும் Centre code, Name and Address of the Examination Centre with District:	Centre Code: 3819 District: VIRUDHUNAGAR CSI GIRLS HR SEC SCHOOL, CSI CHURCH COMPOUND, MADURAI MAINROAD, ARUPPUKOTTAI-626101	

### Schedule of Examination

Date of Exam	Reporting Time	Gate Closing Time	Examination Timings
16.11.2025	8.30 a.m.	9.30 a.m.	10.00 a.m. to 01.00 p.m. – All candidates 10.00 a.m. to 02.00 p.m. – PWD candidates

### PLEASE READ THE FOLLOWING IMPORTANT INSTRUCTIONS CAREFULLY

- Candidates should download their Hall Ticket through online only as no separate physical copy of this Hall Ticket will be dispatched.
- Candidates should check their Hall Ticket for the information furnished therein and in case of any discrepancy, it should be immediately reported to the TRB, Chennai for necessary action.
- The candidates appearing for the examination in their own interest, should check their eligibility in all respects to avoid disappointment if any at later stage and their candidature for this examination is "PURELY PROVISIONAL".
- Please note that this Hall Ticket does not constitute any offer of employment.
- NO REQUEST FOR CHANGE OF EXAMINATION CENTRE WILL BE CONSIDERED UNDER ANY CIRCUMSTANCES.
- No candidate will be allowed to enter into the Examination Hall after gate closing time 09:30 a.m. and should not leave the Examination Hall before 01.00 p.m. for all candidates and 02.00 p.m. for PWD candidates.
- The candidate must bring this Hall Ticket to the Examination Centre. No candidate will be allowed entry without this Hall Ticket.
- The candidate is also instructed to bring any one of the following Photo Identification Cards in original viz.
  - Aadhar Card
  - PAN Card



## Teachers Recruitment Board

Perasiriyar Anbazhagan Kalvi Valagam, College Road, Chennai - 600006.

Hall Ticket for OMR Examination (Objective Type)  
for the Tamil Nadu Teacher Eligibility Test, Paper - II - 2025  
[Notification No. 03/2025 Dated: 11.08.2025]

விண்ணப்பதாரரின் பெயர் / Candidate's Name	DEEPA AM	 
விண்ணப்பதாரரின் தேர்வு எண். / Candidate's Roll No.	25T21103070159	
விண்ணப்பதாரரின் விண்ணப்ப எண். / Candidate's Application No.	TETP2331329	
பிறந்த தேதி / Date of Birth	30-04-1990	
தந்தை / தாய் பெயர் Father / Mother Name	MUNUSAMY A	
பாலினம் / Gender	FEMALE	
மாற்றுத்திறனாளி / Differently abled	NO	
சொல்வதை எழுதுபவர் / Scribe	-	
விண்ணப்பித்த மொழி / Language Applied for	Tamil	
விண்ணப்பித்த விருப்பப் பாடம் / Optional Subject for	Mathematics and Science	
விண்ணப்பதாரரின் முகவரி / Address of the Candidate:	NO 67 A THULUKKANATHAMMAN KOVIL STREET BHARATHI NAGAR ZAMIN PALLAVARAM, CHENNAI, KANCHEEPURAM CHENGALPET, PIN - 600043	
மையக் குறியீட்டுடன் தேர்வு மையம் பெயர், முகவரி மற்றும் மாவட்டம்: / Centre code, Name and Address of the Examination Centre with District:	Centre Code: 0307 District: CHENNAI PERUNTHALAIVAR KAMARAJAR GOVERNMENT GIRLS HIGHER SECONDARY SCHOOL,NORTH PARK STREET, VENKATAPURAM .AMBATTUR,CHENNAI-600 053.	

### Schedule of Examination


Date of Exam	Reporting Time	Gate Closing Time	Examination Timings
16.11.2025	8.30 a.m.	9.30 a.m.	10.00 a.m. to 01.00 p.m. - All candidates 10.00 a.m. to 02.00 p.m. - PWD candidates



## Teachers Recruitment Board

Perasiriyar Anbazhagan Kalvi Valagam, College Road, Chennai - 600006.

Hall Ticket for OMR Examination (Objective Type)  
for the Tamil Nadu Teacher Eligibility Test, Paper - II - 2025  
[Notification No. 03/2025 Dated: 11.08.2025]

விண்ணப்பதாரரின் பெயர் / Candidate's Name	NIRUBA MAYIL V	 
விண்ணப்பதாரரின் தேர்வு எண். / Candidate's Roll No.	25T21230060158	
விண்ணப்பதாரரின் விண்ணப்ப எண். / Candidate's Application No.	TETP2052064	
பிறந்த தேதி / Date of Birth	12-06-1981	
தந்தை / தாய் பெயர் Father / Mother Name	VEERAPERUMAL R	
பாலினம் / Gender	FEMALE	
மாற்றுத்திறனாளி / Differently abled	NO	
சொல்வதை எழுதுபவர் / Scribe	-	
விண்ணப்பித்த மொழி / Language Applied for	Tamil	
விண்ணப்பித்த விருப்பப் பாடம் / Optional Subject for	Social Science	
விண்ணப்பதாரரின் முகவரி / Address of the Candidate:	5/90 MIDDLE STREET SRI MOOLAKARAI SRIVAIKUNDAM TALUK, THOOTHUKUDI, THOOTHUKUDI, PIN - 628620	



Hall Ticket for OMR Examination (Objective Type)

for the Tamil Nadu Teacher Eligibility Test, Pa

[Notification No. 03/2025 Dated: 11.08.2025]

விண்ணப்பதாரரின் பெயர் / Candidate's Name	SANGEETHA R
விண்ணப்பதாரரின் தேர்வு எண். / Candidate's Roll No.	25T21127200028
விண்ணப்பதாரரின் விண்ணப்ப எண். / Candidate's Application No.	TETP2051771
பிறந்த தேதி / Date of Birth	01-07-1982
தாய் பெயர் / Mother Name	RAJA B
பாலினம் / Gender	FEMALE
மாற்றுத்திறனாளி / Differently abled	NO
சொல்வதை எழுதுபவர் / Scribe	-
விண்ணப்பித்த மொழி / Language Applied for	Tamil
விண்ணப்பித்த விருப்பப் பாடம் / Optional Subject for	Social Science
விண்ணப்பதாரரின் முகவரி / Address of the Candidate:	24/1 KANCHIPURAM HIGH ROAD , NO 65 PALUR VILLAGE AND POST, PALUR, CHENGALPATTU, PIN - 603101
மையக் குறியீட்டுடன் தேர்வு மையம் பெயர், முகவரி மற்றும் மாவட்டம்: / Centre code, Name and Address of the Examination Centre with District:	Centre Code: 0207 District: CHENGALPATTU GOVT GIRLS HR SEC SCHOOL, ORAGADAM SALAI(OPPOSITE TO TALUK OFFICE) THIRUKALUKUNDRAM, CHENGALPATTU DIST -603109



Teachers Recruitment Board

Perasiriyar Anbazhagan Kalvi Valagam, College Road, Chennai - 600006.

Hall Ticket for OMR Examination (Objective Type)

for the Tamil Nadu Teacher Eligibility Test, Paper - II - 2025

[Notification No. 03/2025 Dated: 11.08.2025]

விண்ணப்பதாரரின் பெயர் / Candidate's Name	LAKSHMI R
விண்ணப்பதாரரின் தேர்வு எண். / Candidate's Roll No.	25T21202070216
விண்ணப்பதாரரின் விண்ணப்ப எண். / Candidate's Application No.	TETP2145208
பிறந்த தேதி / Date of Birth	18-05-1985
தந்தை / தாய் பெயர் / Father / Mother Name	RASPAL P
பாலினம் / Gender	FEMALE
மாற்றுத்திறனாளி / Differently abled	NO
சொல்வதை எழுதுபவர் / Scribe	-
விண்ணப்பித்த மொழி / Language Applied for	Tamil
விண்ணப்பித்த விருப்பப் பாடம் / Optional Subject for	Social Science
விண்ணப்பதாரரின் முகவரி / Address of the Candidate:	24/1 KANCHIPURAM HIGH ROAD , NO 65 PALUR VILLAGE AND POST, PALUR, CHENGALPATTU, PIN - 603101
மையக் குறியீட்டுடன் தேர்வு மையம் பெயர், முகவரி மற்றும் மாவட்டம்: / Centre code, Name and Address of the Examination Centre with District:	Centre Code: 0207 District: CHENGALPATTU GOVT GIRLS HR SEC SCHOOL, ORAGADAM SALAI(OPPOSITE TO TALUK OFFICE) THIRUKALUKUNDRAM, CHENGALPATTU DIST -603109



L. Lakshmi





## Teachers Recruitment Board

Perasiriyar Anbazhagan Kalvi Valagam, College Road, Chennai - 600006.

Hall Ticket for OMR Examination (Objective Type)  
for the Tamil Nadu Teacher Eligibility Test, Paper - II - 2025  
[Notification No. 03/2025 Dated: 11.08.2025]

விண்ணப்பதாரரின் பெயர் / Candidate's Name	DEEPA AM	 
விண்ணப்பதாரரின் தேர்வு எண். / Candidate's Roll No.	25T21103070159	
விண்ணப்பதாரரின் விண்ணப்ப எண். / Candidate's Application No.	TETP2331329	
பிறந்த தேதி / Date of Birth	30-04-1990	
தந்தை / தாய் பெயர் Father / Mother Name	MUNUSAMY A	
பாலினம் / Gender	FEMALE	
மாற்றுத்திறனாளி / Differently abled	NO	
சொல்வதை எழுதுபவர் / Scribe	-	
விண்ணப்பித்த மொழி / Language Applied for	Tamil	
விண்ணப்பித்த விருப்பப் பாடம் / Optional Subject for	Mathematics and Science	
விண்ணப்பதாரரின் முகவரி / Address of the Candidate:	NO 67 A THULUKKANATHAMMAN KOVIL STREET BHARATHI NAGAR ZAMIN PALLAVARAM, CHENNAI, KANCHEEPURAM CHENGALPET, PIN - 600043	
மையக் குறியீட்டுடன் தேர்வு மையம் பெயர், முகவரி மற்றும் மாவட்டம்: / Centre code, Name and Address of the Examination Centre with District:	Centre Code: 0307 District: CHENNAI PERUNTHALAIVAR KAMARAJAR GOVERNMENT GIRLS HIGHER SECONDARY SCHOOL,NORTH PARK STREET, VENKATAPURAM .AMBATTUR,CHENNAI-600 053.	

### Schedule of Examination

Date of Exam	Reporting Time	Gate Closing Time	Examination Timings
16.11.2025	8.30 a.m.	9.30 a.m.	10.00 a.m. to 01.00 p.m. - All candidates 10.00 a.m. to 02.00 p.m. - PWD candidates



## Teachers Recruitment Board

Perasiriyar Anbazhagan Kalvi Valagam, College Road, Chennai - 600006.

Hall Ticket for OMR Examination (Objective Type)  
for the Tamil Nadu Teacher Eligibility Test, Paper - II - 2025  
[Notification No. 03/2025 Dated: 11.08.2025]

விண்ணப்பதாரரின் பெயர் / Candidate's Name	NIRUBA MAYIL V	 
விண்ணப்பதாரரின் தேர்வு எண். / Candidate's Roll No.	25T21230060158	
விண்ணப்பதாரரின் விண்ணப்ப எண். / Candidate's Application No.	TETP2052064	
பிறந்த தேதி / Date of Birth	12-06-1981	
தந்தை / தாய் பெயர் Father / Mother Name	VEERAPERUMAL R	
பாலினம் / Gender	FEMALE	
மாற்றுத்திறனாளி / Differently abled	NO	
சொல்வதை எழுதுபவர் / Scribe	-	
விண்ணப்பித்த மொழி / Language Applied for	Tamil	
விண்ணப்பித்த விருப்பப் பாடம் / Optional Subject for	Social Science	
விண்ணப்பதாரரின் முகவரி / Address of the Candidate:	5/90 MIDDLE STREET SRI MOOLAKARAI SRIVAIKUNDAM TALUK, THOOTHUKUDI, THOOTHUKUDI, PIN - 628620	

7 ஆட்கள் ஒரு வேலையை 52 நாட்களில் செய்து முடிக்கின்றனர். அதே வேலையை 13 ஆட்கள் எத்தனை நாட்களில் செய்து முடிப்பர்?

7 men can do a work in 52 days how many days can 13 men do the same work?




7 ஆட்கள் ஒரு வேலையை 52 நாட்களில் செய்து முடிக்கின்றனர். அதே வேலையை 13 ஆட்கள் எத்தனை நாட்களில் செய்து முடிப்பர்?

7 men can do a work in 52 days how many days can 13 men do the same work?

- (A) 25 days  
(C) 20 days

- (B)  28 days  
(D) 45 days



கீழ்க்கண்ட எண்களில் முழு கன எண் எது?

Which of the following numbers is a perfect cube?



கீழ்க்கண்ட எண்களில் முழு கன எண் எது?

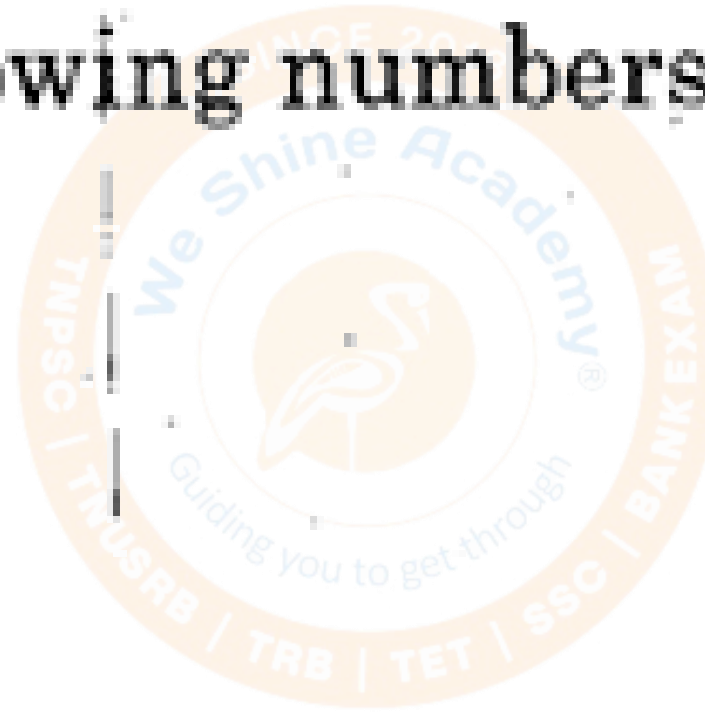
Which of the following numbers is a perfect cube?

(A) 36

(B) 100

(C) 512

(D) 75



பொது அறிவு கேள்விகள்

பொது அறிவு கேள்விகள்



$P^0$  க்கு என்ன மதிப்பு?

$P^0$  is equal to

- (A) 0
- (C) -1

- (B) 1
- (D) P



கோடிட்ட இடத்தை நிரப்புக

1, 6, 15, 28, 45, \_\_\_\_\_ 91

Fill in the blanks

1, 6, 15, 28, 45, \_\_\_\_\_ 91



கீழ்க்கண்ட தொடரை நிரப்புக

1, 6, 15, 28, 45, \_\_\_\_\_ 91

Fill in the blanks

1, 6, 15, 28, 45, \_\_\_\_\_ 91

(A) 69

(B) 67

(C) 57

(D)  66



$1^3 + 2^3 + 3^3 + \dots + K^3 = 4356$  எனில்  $K$ -ன் மதிப்பு

If  $1^3 + 2^3 + 3^3 + \dots + K^3 = 4356$

Find the value of  $K$



$1^3 + 2^3 + 3^3 + \dots + K^3 = 4356$  எனில்  $K$ -ன் மதிப்பு

If  $1^3 + 2^3 + 3^3 + \dots + K^3 = 4356$

Find the value of  $K$

(A) ✓ 11

(B) 22

(C) 33

(D) 44

ஒரு இயந்திரத்தின் மதிப்பு ஒவ்வொரு ஆண்டும் 10% குறைகிறது. ஒருவர் இதை வாங்குவதற்கு ₹ 30,000 கொடுத்தார். மூன்று ஆண்டுகளுக்கு பிறகு இதன் மதிப்பு என்ன?

The value of a machine depreciates 10% each year. A man pays ₹ 30,000 for the machine. Find its value after 3 years



ஒரு இயந்திரத்தின் மதிப்பு ஒவ்வொரு ஆண்டும் 10% குறைகிறது. ஒருவர் இதை வாங்குவதற்கு ₹ 30,000 கொடுத்தார். மூன்று ஆண்டுகளுக்கு பிறகு இதன் மதிப்பு என்ன?

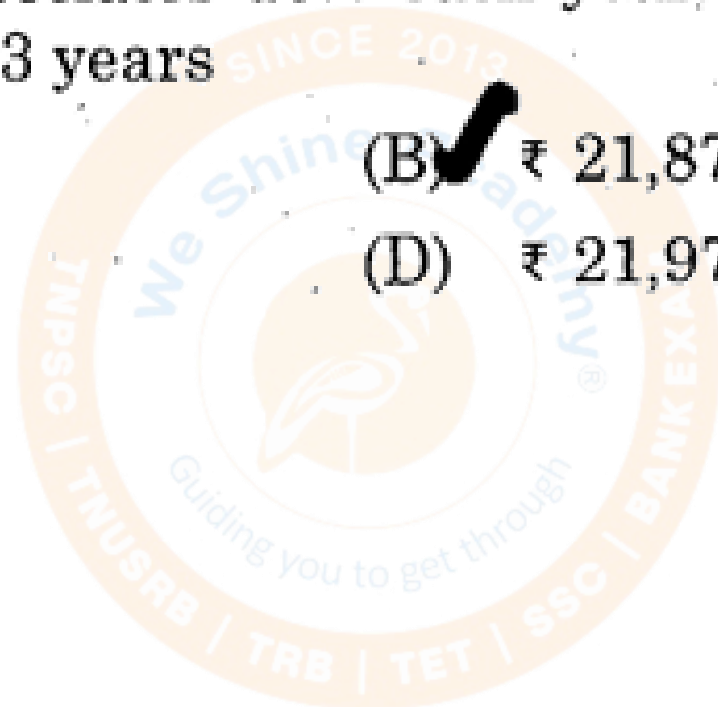
The value of a machine depreciates 10% each year. A man pays ₹ 30,000 for the machine. Find its value after 3 years

(A) ₹ 39,830

(C) ₹ 39,930

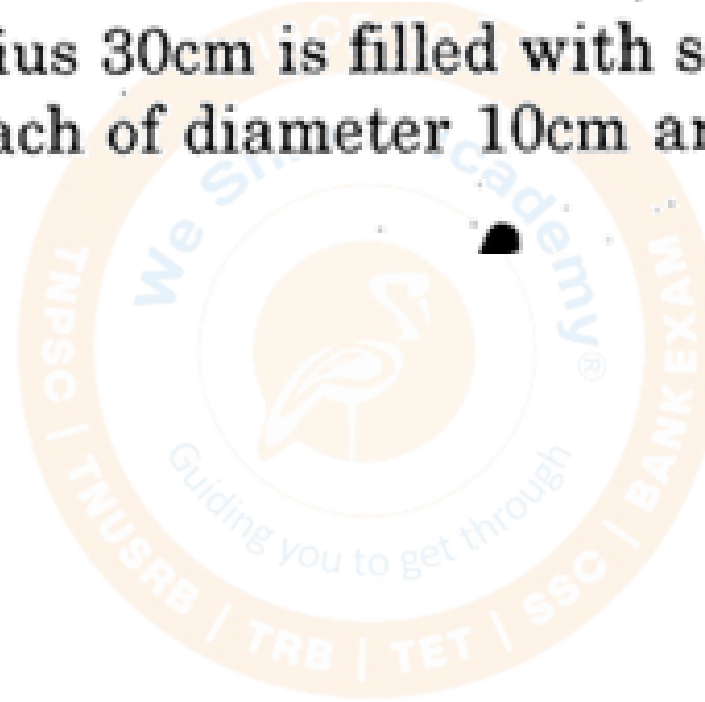
(B) ✓ ₹ 21,870

(D) ₹ 21,970



30 செ.மீ ஆரமுள்ள அரைக் கோள வடிவ சூப்பி சோப்புக் கூழால் நிரப்பப்பட்டுள்ளது. இந்த சோப்புக் கூழைக் கொண்டு, 10 செ.மீ விட்டமும், 2 செ.மீ உயரமும் உள்ள உருளை வடிவ சோப்புக் கட்டிகள் எத்தனை செய்யலாம்?

A hemi spherical bowl of radius 30cm is filled with soap paste. If this paste is made into cylindrical soap cakes each of diameter 10cm and height 2cm how many cakes do we get?



30 செ.மீ ஆரமுள்ள அரைக் கோள வடிவ சூப்பி சோப்புக் கூழால் நிரப்பப்பட்டுள்ளது. இந்த சோப்புக் கூழைக் கொண்டு, 10 செ.மீ விட்டமும், 2 செ.மீ உயரமும் உள்ள உருளை வடிவ சோப்புக் கட்டிகள் எத்தனை செய்யலாம்?

A hemi spherical bowl of radius 30cm is filled with soap paste. If this paste is made into cylindrical soap cakes each of diameter 10cm and height 2cm how many cakes do we get?

- (A) 90  
(C) 720

- (B) 360  
(D) 180

விட்டம் 30 செ.மீ, வில்லின் நீளம் 26 செ.மீ கொண்டுள்ள வட்ட கோணப் பகுதியின் பரப்பு காண்க,  
Calculate the area of a sector whose diameter and arc length are 30cm and 26cm respectively.

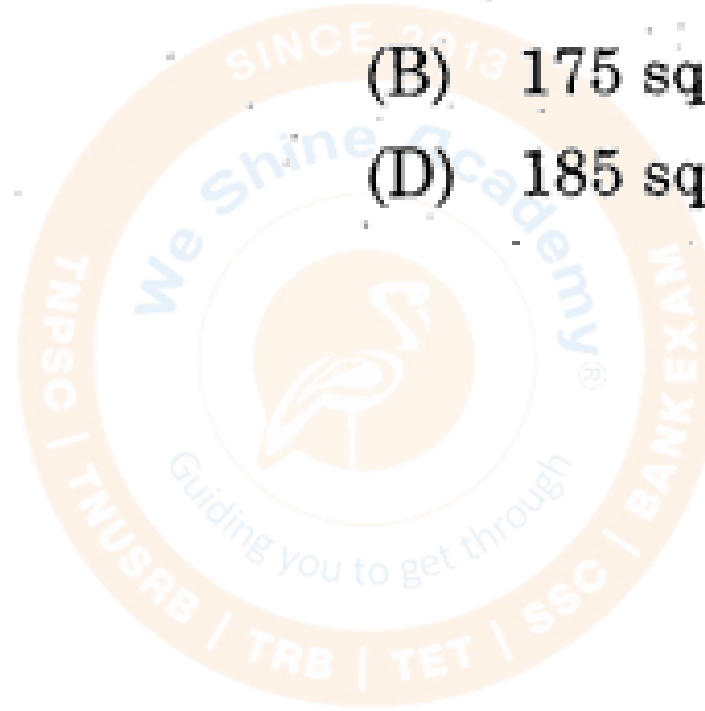


விட்டம் 30 செ.மீ, வில்லின் நீளம் 26 செ.மீ கொண்டுள்ள வட்ட கோணப் பகுதியின் பரப்பு காண்க.

Calculate the area of a sector whose diameter and arc length are 30cm and 26cm respectively.


- (A) ✓ 195 sq.cm  
(C) 165 sq.cm

- (B) 175 sq.cm  
(D) 185 sq.cm



25 கைக்கடிகாரத்தின் அடக்க விலை 20 கைக்கடிகாரங்களின் விற்ற விலைக்குச் சமம் எனில் இலாப அல்லது நட்ட சதவீதத்தைக் காண்க.


The cost price of 25 wrist watches is equal to the selling price of 20 wrist watches. Find the loss or gain percent.



25 கைக்கடிகாரத்தின் அடக்க விலை 20 கைக்கடிகாரங்களின் விற்ற விலைக்குச் சமம் எனில் இலாப அல்லது நட்ட சதவீதத்தைக் காண்க.

The cost price of 25 wrist watches is equal to the selling price of 20 wrist watches. Find the loss or gain percent.

- (A) Loss 20%      (B) Gain 20%
- (C) Loss 25%      (D)  Gain 25%



$m : n = 3 : 2$  எனில்  $\frac{4m + 5n}{4m - 5n}$  ன் விகித மதிப்பு காண்க

If  $m : n = 3 : 2$ , find the ratio  $\frac{4m + 5n}{4m - 5n}$ .



$m : n = 3 : 2$  எனில்  $\frac{4m + 5n}{4m - 5n}$  ன் விகித மதிப்பு காண்க

If  $m : n = 3 : 2$ , find the ratio  $\frac{4m + 5n}{4m - 5n}$ .

(A) 10 : 11

(C) 13 : 5

(B) 22 : 3

(D) ✓ 11 : 1

A large, faint watermark of the Weshine Academy logo is centered in the background. It features a circular design with a star in the center, surrounded by the text 'Weshine Academy' and 'SINCE 2013'. Below the star, it says 'Guiding you to get through' and lists various exams: 'TNUSRB | TRB | TET | SSC | BANK EXAM'.

# Thank You