



Reasoning

SERIES

Alphanumeric

Alphabet

Number

Alphabet-Number

13/06/2025 Shift-2

Q1) Refer to the following number and symbol series and answer the question that follows. Counting to be done from left to right only.

(Left)*1*\$237£17@499*6*3\$1\$ @ (Right)

How many such numbers are there each of which is immediately preceded by a symbol and also immediately followed by a symbol?

5N3

பின்வரும் எண் மற்றும் குறியீடு வரிசையைக் கவனித்து, அதற்கேற்ற வினாவிற்கு விடையளிக்கவும். இடமிருந்து வலமாக மட்டுமே எண்ணப்பட வேண்டும்.

(இடது)*1*\$237£17@499*6*3\$1\$ @ (வலது)

ஒரு குறியீட்டைத் தொடர்ந்து உடனடியாக ஒரு எண்ணும், அந்த எண்ணைத் தொடர்ந்து உடனடியாக ஒரு குறியீடும் வருமாறு எத்தனை எண்கள் உள்ளன?

A) 5 B) 4 C) 6 D) 3

Correct Ans: B



06/06/2025 Shift-3

Q2) Refer to the following number and symbol series and answer the question that follows. Counting to be done from left to right only. All numbers are single-digit numbers.

(Left) @ 5 4 £ 8 & © £ * 2 5 9 \$ 6 £ 4 * 8 \$ 4 % * (Right)

How many such symbols are there each of which is immediately preceded by a number and also immediately followed by a number?

N S N

பின்வரும் எண் மற்றும் குறியீடு வரிசையைக் கவனித்து, அதற்கேற்ற வினாவிற்கு விடையளிக்கவும். இடமிருந்து வலமாக மட்டுமே எண்ணப்பட வேண்டும். அனைத்து எண்களும் ஒற்றை இலக்க எண்கள்.

(இடது) @ 5 4 £ 8 & © £ * 2 5 9 \$ 6 £ 4 * 8 \$ 4 % * (வலது)

ஒரு எண்ணைத் தொடர்ந்து உடனடியாக ஒரு குறியீடும், அந்த குறியீட்டைத் தொடர்ந்து உடனடியாக ஒரு எண்ணும் வருமாறு எத்தனை குறியீடுகள் உள்ளன?

A) 4 B) 7 C) 5 D) 6

Correct Ans: C



24/06/2025 Shift-2

Q3) Refer to the following number and symbol series and answer the question that follows. Counting to be done from left to right only. (Note: All numbers are single digit numbers only.) (Left) 3 3 & \$ 7 * € 2 2 6 8 £ % 5 6 £ © 1 6 & % 8 # # (Right)
How many such numbers are there, each of which is immediately preceded by a number and also immediately followed by a symbol?

NNS

பின்வரும் எண் மற்றும் குறியீடு வரிசையைக் கவனித்து, அதற்கேற்ற வினாவிற்கு விடையளிக்கவும். இடமிருந்து வலமாக மட்டுமே எண்ணப்பட வேண்டும். (குறிப்பு: அனைத்து எண்களும் ஒற்றை இலக்க எண்கள்.)

(இடது) 3 3 & \$ 7 * € 2 2 6 8 £ % 5 6 £ © 1 6 & % 8 # # (வலது)

ஒரு எண்ணைத் தொடர்ந்து உடனடியாக மற்றொரு எண்ணும், அந்த எண்ணைத் தொடர்ந்து உடனடியாக ஒரு குறியீடும் வருமாறு எத்தனை எண்கள் உள்ளன?

A) 3 B) ~~4~~ C) 6 D) 5

Correct Ans: B



10/06/2025 Shift-1

Q4) Refer to the following number and symbol series and answer the question that follows.
Counting to be done from left to right only.
(Left) 9 8 3 1 4 6 # 6 4 6 * % & \$ @ 9 1 % 1 % # £ (Right)
How many such numbers are there each of which is immediately preceded by a number and also immediately followed by a symbol?

MNS

பின்வரும் எண் மற்றும் குறியீடு வரிசையைக் கவனித்து, அதற்கேற்ற வினாவிற்கு விடையளிக்கவும். இடமிருந்து வலமாக மட்டுமே எண்ணப்பட வேண்டும்.
(இடது) 9 8 3 1 4 6 # 6 4 6 * % & \$ @ 9 1 % 1 % # £ (வலது)
ஒரு எண்ணைத் தொடர்ந்து உடனடியாக ஒரு எண்ணும், அந்த எண்ணைத் தொடர்ந்து உடனடியாக ஒரு குறியீடும் வருமாறு எத்தனை எண்கள் உள்ளன?

A) 2 B) 4 C) 5 D) 3

Correct Ans: D



16/06/2025 Shift-1

Q5) Refer to the following number and symbol series and answer the question that follows. Counting to be done from left to right only. (NOTE: All numbers are single digit numbers only.) (Left) 5 \$6 @ 3 * 6 4 & \$ 2 9 5 9 € £ 7 8 # 1 & 2 (Right)
How many such numbers are there each of which is immediately preceded by a symbol and also immediately followed by a symbol?

பின்வரும் எண் மற்றும் குறியீடு வரிசையைக் கவனித்து, அதற்கேற்ற வினாவிற்கு விடையளிக்கவும். இடமிருந்து வலமாக மட்டுமே எண்ணப்பட வேண்டும். (குறிப்பு: அனைத்து எண்களும் ஒற்றை இலக்க எண்கள்.)
(இடது) 5 \$6 @ 3 * 6 4 & \$ 2 9 5 9 € £ 7 8 # 1 & 2 (வலது)
ஒரு குறியீட்டைத் தொடர்ந்து உடனடியாக ஒரு எண்ணும், அந்த எண்ணைத் தொடர்ந்து உடனடியாக ஒரு குறியீடும் வருமாறு எத்தனை எண்கள் உள்ளன?

A) 4 B) 2 C) 3 D) 5

\$6 @ # 1 &
@ 3 *

Correct Ans: C

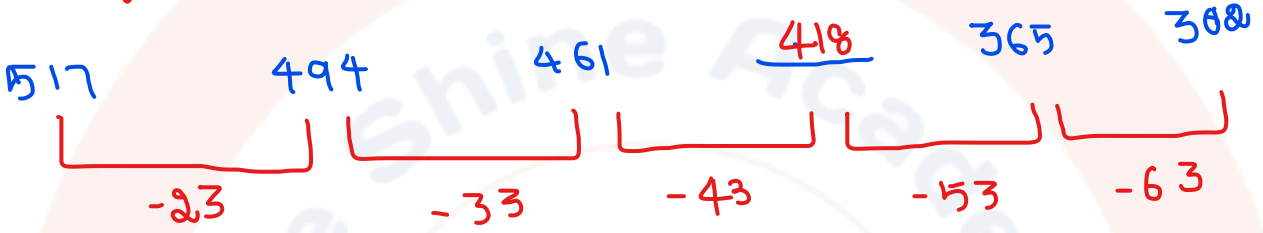


18/06/2025 Shift-2

Q7) What should come in place of the question mark (?) in the given series?
517, 494, 461, ?, 365, 302

கொடுக்கப்பட்ட வரிசையில் கேள்விக்குறி (?) உள்ள இடத்தில் என்ன வர வேண்டும்?
517, 494, 461, ?, 365, 302

A) 438 B) 418 C) 428 D) 408



Correct Ans: B



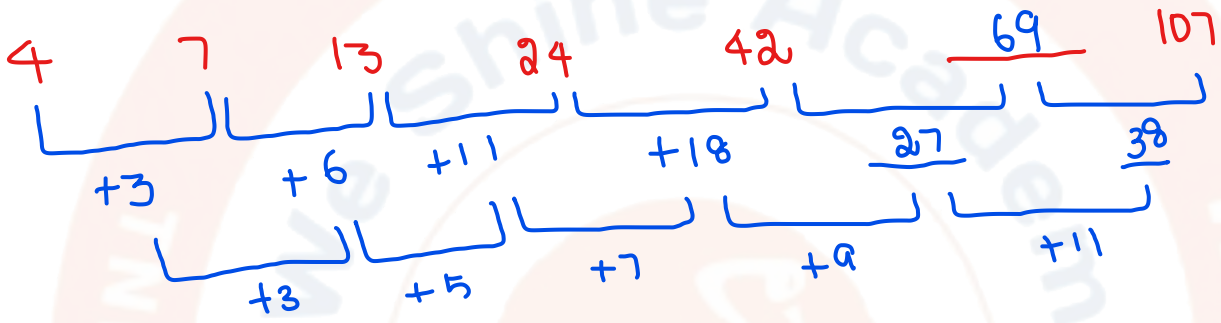
24/06/2025 Shift-1

Q8) What should come in place of the question mark (?) in the given series?

4 7 13 24 42 ? 107

கொடுக்கப்பட்ட வரிசையில் கேள்விக்குறி (?) உள்ள இடத்தில் என்ன வர வேண்டும்?
4 7 13 24 42 ? 107

A) 68 B) 66 C) 69 D) 67



Correct Ans: C

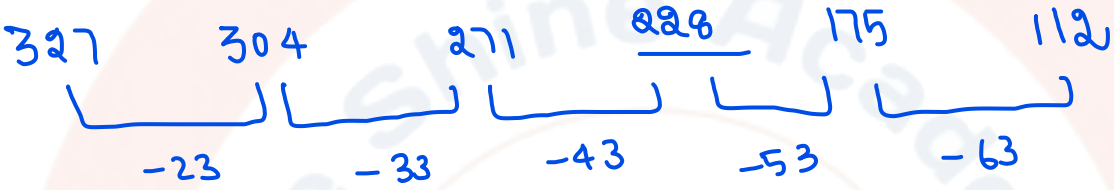


19/06/2025 Shift-1

Q9) What should come in place of the question mark (?) in the given series?
327, 304, 271, ?, 175, 112

கொடுக்கப்பட்ட வரிசையில் கேள்விக்குறி (?) உள்ள இடத்தில் என்ன வர வேண்டும்?
327, 304, 271, ?, 175, 112

A) 248 B) 218 C) 228 D) 238



Correct Ans: C



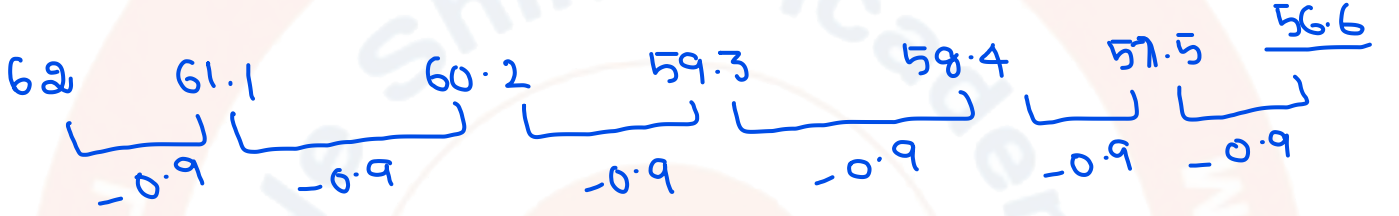
05/06/2025 Shift-3

(1-25) Square

Q10) Select the number from among the given options that can replace the question mark (?) in the following series.
62 61.1 60.2 59.3 58.4 57.5 ?

பின்வரும் வரிசையில் கேள்விக்குறியை (?) மாற்றக்கூடிய எண்ணை கொடுக்கப்பட்டுள்ள விருப்பங்களிலிருந்து தேர்ந்தெடுக்கவும்.
62 61.1 60.2 59.3 58.4 57.5 ?

A) 56.6 B) 56.2 C) 56.8 D) 56.4



Correct Ans: A

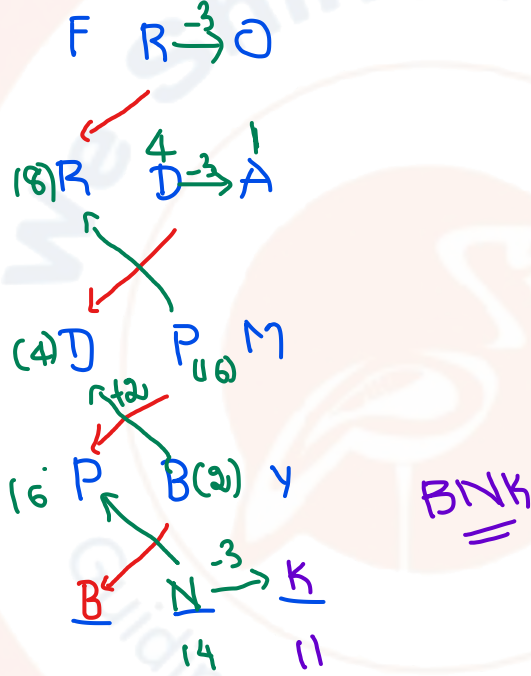


21/06/2025 Shift-3

Q11) What should come in place of the question mark (?) in the given series based on the English alphabetical order?
FRO RDA DPM PB Y ?

ஆங்கில அகரவரிசையின் அடிப்படையில் கொடுக்கப்பட்ட வரிசையில் கேள்விக்குறி (?) உள்ள இடத்தில் என்ன வர வேண்டும்?
FRO RDA DPM PB Y ?

- A) BKN B) BNK C) BHY D) HBU



Correct Ans: B

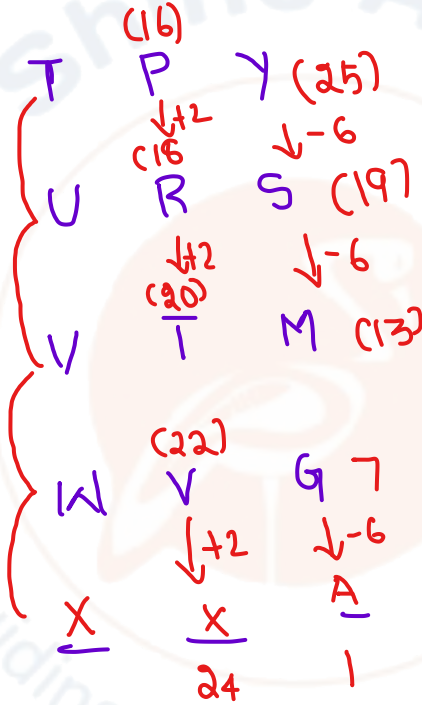


18/06/2025 Shift-1

Q12) Select the letter-cluster from among the given options that can replace the question mark (?) in the following series.
TPY URS VTM WVG ?

பின்வரும் வரிசையில் கேள்விக்குறியை (?) மாற்றக்கூடிய எழுத்துத் தொகுப்பை கொடுக்கப்பட்டுள்ள விருப்பங்களிலிருந்து தேர்ந்தெடுக்கவும்.
TPY URS VTM WVG ?

- A) XXB B) XXA C) XWA D) XWZ



Correct Ans: B



11/06/2025 Shift-2

Q13) What should come in place of the question mark (?) in the given series based on the English alphabetical order?
ZYB GFI NMP UTW ?

ஆங்கில அகரவரிசையின் அடிப்படையில் கொடுக்கப்பட்ட வரிசையில் கேள்விக்குறி (?) உள்ள இடத்தில் என்ன வர வேண்டும்?
ZYB GFI NMP UTW ?

A) BDA B) ADB C) BAD D) ABD

Correct Ans: C



05/06/2025 Shift-2

Q14) What should come in place of the question mark (?) in the given series based on the English alphabetical order?
VCJ RYF NUB JQX ?

ஆங்கில அகரவரிசையின் அடிப்படையில் கொடுக்கப்பட்ட வரிசையில் கேள்விக்குறி (?) உள்ள இடத்தில் என்ன வர வேண்டும்?
VCJ RYF NUB JQX ?

A) FTM B) FNT C) FMT D) FTN

Correct Ans: C



23/06/2025 Shift-1

Q15) Which of the following letter-number clusters will replace the question mark (?) in the given series to make it logically complete?
LOK 4, JMI 9, HKG 25, FIE 49, ?

கொடுக்கப்பட்ட வரிசையை தர்க்கரீதியாக முழுமையாக்க, பின்வரும் எழுத்து-எண் தொகுப்புகளில் எது கேள்விக்குறியை (?) மாற்றும்?
LOK 4, JMI 9, HKG 25, FIE 49, ?

A) DGC 169 B) DGC 121 C) DFC 121 D) DGC 81

(12) L (15) O K (11) 4 → 2²
-2 ↓ -2 ↓ ↓ -2
(10) J (13) M I (8) 9 → 3²
-2 ↓ -2 ↓ ↓ -2
(6) H K G 25 → 5²
(6) F 9 I E (5) 49 → 7²
↓ -2 ↓ -2 ↓ -2
4 D G C 121 → 11²

Correct Ans: B



16/06/2025 Shift-3

Q16) Which of the following letter-number clusters will replace the question mark (?) in the given series to make it logically complete?
SM13 QK25 OI37 MG49 ?

கொடுக்கப்பட்ட வரிசையை தர்க்கரீதியாக முழுமையாக்க, பின்வரும் எழுத்து-எண் தொகுப்புகளில் எது கேள்விக்குறியை (?) மாற்றும்?
SM13 QK25 OI37 MG49 ?

A) KF62 B) KE62 C) KE61 D) KF61

(19) S M (13) 13
(17) Q K (11) 25
(15) O I (9) 37
(13) M G (7) 49
(11) K E (5) 61

+12
+12
+12

Correct Ans: C



24/06/2025 Shift-3

Q17) Which of the following letter-number clusters will replace the question mark (?) in the given series to make it logically complete?
DJ26 EK37 FL48 GM59 ?

கொடுக்கப்பட்ட வரிசையை தர்க்கரீதியாக முழுமையாக்க, பின்வரும் எழுத்து-எண் தொகுப்புகளில் எது கேள்விக்குறியை (?) மாற்றும்?
DJ26 EK37 FL48 GM59 ?

A) HM71 B) HN70 C) HM70 D) HN71

Correct Ans: B



Shift: 11/06/2025 Shift-1

Q18) What should come in place of the question mark (?) in the given series based on the English alphabetical order?
கொடுக்கப்பட்ட தொடரில் ஆங்கில அகரவரிசைப்படி கேள்விக்குறி (?) உள்ள இடத்தில் என்ன வர வேண்டும்?

WOM CVS ICY OJE ?

- A) UKQ
- B) KUQ
- C) UQK
- D) KQU

Correct Ans: C



Shift: 23/06/2025 Shift-3

Q19) Which of the following letter-number clusters will replace the question mark (?) in the given series to make it logically complete?

கொடுக்கப்பட்ட தொடரை தர்க்கரீதியாக முழுமையாக்க பின்வரும் எழுத்து-எண் தொகுப்புகளில் எது கேள்விக்குறியை (?) மாற்றும்?

AAA 16, ECZ 36, IEY 64, MGX 100, ?

- A) QIW 144
- B) UVW 81
- C) WIU 100
- D) UIW 121

Correct Ans: A



Shift: 19/06/2025 Shift-2

Q20) Which of the following letter-number clusters will replace the question mark (?) in the given series to make it logically complete?
கொடுக்கப்பட்ட தொடரை தர்க்கரீதியாக முழுமையாக்க பின்வரும் எழுத்து-எண் தொகுப்புகளில் எது கேள்விக்குறியை (?) மாற்றும்?

QK15, OI26, MG37, KE48, ?

- A) IC59
- B) ID58
- C) IC58
- D) ID59

Correct Ans: A