



# MODUL AJAR 7.7

## EVALUASI MA 7.3 - 7.6 KELUARGA AWAL KEHIDUPAN

KELAS  
7



[4 x 40']



SOCIAL STUDIES DIGITAL CLASS

2026 © Guru IPS SMPN 285 Jakarta

<<https://www.guruipssmpn285jkt.online>>

# MODUL AJAR 7 KELAS 7 - IPS SMPN 285 JAKARTA



by



**Ady Lesmana - 2026**





# **KEGIATAN PEMBELAJARAN AWAL**

## **[40']**





# SALAM PEMBUKA

[1']



# DOA



**UMUM/LINTAS/SESUAI KEPERCAYAAN & KEYAKINAN**  
**[5']**



# MENYANYIKAN LAGU:



## **LESTARI ALAMKU (SOEDJARWOTO SOEMARSONO [GOMBLOH]) [5']**





# **Presensi**

## **(Mengenal Peserta Didik)**

**[5']**




## QUOTE OF THE DAY

(5’):



*“Jangan takut gagal, kecuali kalau kamu takut sukses. Apalagi hanya soal ujian. Sejarah mengatakan, orang-orang sukses selalu jatuh bangun dahulu sebelum mencapai puncak idaman. Itu seperti dari rumus Tuhan”.*

**[Tasniem Fauzia Rais]**



# MULAI DARI DIRI ASESMEN FORMATIF/PERMAINAN/ICE BREAKING



## BERIMAJINASI

- **Hening sejenak [2']**
- **Imajinasikan hal berikut**
- **Jika ada dua orang yang memberikanmu uang 100.000 rupiah, lalu berpesan gunakanlah untuk berusaha (2')**
- **Berpikirlah sejenak usaha apa yang akan kalian lakukan dengan uang tersebut, kemudian lakukan usaha tersebut**
- **Satu minggu kemudian setelah menerima uang, berapakah jumlah uang kalian? (1')**
- **Ceritakan hasil imajinasimu masing-masing (15')**




# KESEPAKATAN KELAS IPS DIGITAL - SMPN 285 JAKARTA



Gawai  
SKK\*\*



# Discipline is just choosing between **WHAT YOU WANT NOW** and **WHAT YOU WANT MOST**



# KEGIATAN PEMBELAJARAN INTI [50']

## UJI DIRI [120']

**Diadaptasi & dimodifikasi dari  
Buku Murid IPS Kurmer Kemdikbud**



# KETENTUAN UTAMA UJI DIRI



# SOAL NOMOR 1



Mempelajari Ilmu Sejarah dapat memberikan informasi tentang peristiwa-peristiwa yang terjadi pada masa lampau. Manusia, waktu, dan ruang memiliki keterkaitan dalam sejarah karena ....

- a. memengaruhi kehidupan di masa lalu
- b. bagian dari unsur-unsur sejarah
- c. waktu dan ruang menjadi kunci utama dalam sejarah
- d. memengaruhi cara pandang terhadap sejarah



# SOAL NOMOR 2



Keluarga Iwan mudik dari Tasikmalaya menuju Wonogiri dan melalui jalur selatan dibanding jalur pantai utara, dengan pertimbangan waktu tempuh yang lebih singkat 5 jam dibanding melalui jalur pantai utara. Konsep lokasi yang sesuai pernyataan tersebut adalah lokasi ....

- a. Absolut
- b. Relatif
- c. Tetap
- d. Jarak tempuh



# SOAL NOMOR 3



Letak Indonesia berada pada  $6^{\circ}$  LU- $11^{\circ}$  LS dan  $95^{\circ}$  BT- $141^{\circ}$  BT. Berada di antara Samudra Pasifik dan Samudra Atlantik, serta memiliki relief dan topografi yang kompleks. Posisi Indonesia yang demikian berpengaruh terhadap iklim di pulau-pulau dan atau wilayah-wilayah di dalamnya, yaitu ....

- a. Wilayah Bogor di Jawa dan Bukit Tinggi Sumatra beriklim basah dan sejuk penghasil sayur-sayuran
- b. Wilayah Jakarta, Surabaya, dan Semarang beriklim kering dan panas penghasil tanaman makanan pokok
- c. Pulau-pulau di Wilayah NTT, NTB, dan Maluku beriklim panas dan basah penghasil daging ternak
- d. Pulau-pulau di barat dan timur Sumatra beriklim basah dan dingin penghasil buah-buahan



# SOAL NOMOR 4



Perhatikan ilustrasi berikut



Skala peta II sesuai ilustrasi tersebut adalah ....

- a. 1:6000
- b. 1:60.000
- c. 1:600.000
- d. 1:6000.000



# SOAL NOMOR 5



Dalam Sejarah, tradisi lisan lebih sulit dianalisis, hal ini disebabkan oleh ....

- a. perlu menangkap kenyataan di belakang ceritanya
- b. disampaikan secara lengkap dan jelas
- c. esensi cerita bersifat tetap
- d. membutuhkan banyak narasumber



# SOAL NOMOR 6



Rudi memanfaatkan waktu luang untuk membuat pesanan tas rajut. Pernyataan tersebut mencerminkan tindakan manusia sebagai makhluk ....

- a. Individu
- b. Religius
- c. Ekonomi
- d. Sosial



# SOAL NOMOR 7



Rafa menolong anak kucing yang terjebak di selokan air karena diajarkan oleh orang tuanya untuk menolong makhluk hidup lainnya. Hal ini merupakan pengaruh dari agen sosialisasi ....

- a. Keluarga karena adanya pembiasaan penerapan nilai yang bersumber dari perasaan dan estetis
- b. Keluarga karena adanya penanaman nilai material secara terus menerus
- c. Keluarga, melalui penanaman dan pembiasaan nilai material
- d. Keluarga, melalui penanaman nilai kebaikan



# SOAL NOMOR 8



Perhatikan ilustrasi berikut:



Nilai sosial utama dari ilustrasi tersebut yaitu nilai ....

- Moral karena bersumber pada kehendak manusia
- Moral karena bersumber dari perasaan
- Kebenaran karena bersumber pada unsur akal
- Kebenaran karena bersumber pada perasaan dan kehendak manusia



# SOAL NOMOR 9



Perhatikan ilustrasi berikut:



Informasi yang dapat diperoleh dari ilustrasi di atas yaitu ....

- Wilayah A dan B dapat disupply wilayah C
- Wilayah A dan C dapat dipenuhi wilayah B
- Hubungan wilayah A dan B yang kuat
- Hubungan wilayah A dan C yang kuat karena pengaruh wilayah B



# SOAL NOMOR 10



Perhatikan jenis barang berikut:

- |               |               |
|---------------|---------------|
| (1) Pensil    | (5) Jagung    |
| (2) Pertalite | (6) Nasi      |
| (3) Motor     | (7) Pertamina |
| (4) Pulpen    |               |

Barang komplementer ditunjukkan oleh nomor ....

- a. (1) dan (4)
- b. (2) dan (3)
- c. (2) dan (7)
- d. (5) dan (6)



# SOAL NOMOR 11



Apa yang dapat diamati pada masa sekarang untuk melihat peristiwa keluarga yang terjadi di masa lalu?

- a. Kebiasaan, norma dan benda-benda peninggalan
- b. Cerita lisan dan dongeng
- c. Buku sejarah dan catatan harian
- d. Foto-foto dan video



# SOAL NOMOR 12



Dari mana kata "sejarah" berasal dan apa maknanya?

- a. Dari kata syajarah yang bermakna pohon
- b. Dari kata sirah yang bermakna cerita
- c. Dari kata sejarah yang bermakna masa lalu
- d. Dari kata sarah yang bermakna kisah



# SOAL NOMOR 13



Sejarah dapat menuliskan kembali peristiwa-peristiwa di masa lampau karena ....

- a. Peristiwa di masa lampau itu menarik
- b. Peristiwa itu meninggalkan jejak
- c. Peristiwa masa lampau selalu berhubungan dengan peristiwa masa sekarang
- d. Sejarawan selalu mempelajari masa lampau



# SOAL NOMOR 14



Letak geografis memberi pengaruh bagi Indonesia, baik secara sosial, ekonomi maupun budaya. Keuntungan yang diperoleh negara Indonesia akibat letak geografis tersebut adalah ....

- a. Indonesia memiliki kekayaan alam
- b. Indonesia terdapat banyak gunung api
- c. Indonesia memiliki keragaman flora dan fauna
- d. Indonesia dapat berinteraksi sosial dengan negara lain melalui perdagangan



# SOAL NOMOR 15



Pengaruh letak geologis Indonesia yang terbentuk oleh dua jalur pegunungan lipatan muda Sirkum Pasifik dan Sirkum Mediterania terhadap wilayah Indonesia adalah ....

- a. Reliefnya kasar karena terdiri atas banyak pulau
- b. Sungai yang panang dan arusnya deras
- c. Iklim tropis yang dipengaruhi oleh angin muson
- d. Banyak gunung api dan sering terjadi gempa



# SOAL NOMOR 16



Pernyataan yang tepat berkaitan dengan cerita rakyat

....

- a. Cerita rakyat dibuat khusus untuk pendidikan anak-anak
- b. Cerita rakyat merupakan tradisi lisan yang diceritakan turun temurun
- c. Cerita rakyat mengandung nilai filsafat yang hanya dipahami kalangan tertentu
- d. Cerita rakyat diperdengarkan hanya untuk budayawan




# SOAL NOMOR 17



Cerita si Pitung dari Jakarta, memiliki nilai yang mengajarkan ....

- a. Keberanian
- b. Agamis
- c. Persatuan
- d. Jagoan



# SOAL NOMOR 18



Cerita yang dianggap benar dan suci oleh suatu masyarakat ....

- a. Mitos
- b. Legenda
- c. Dongeng
- d. Sejarah



# SOAL NOMOR 19



Salah satu sumber lisan adalah sejarah lisan, dimana sumber ini diambil dari ....

- a. Cerita turun temurun
- b. Kesaksian yang terlibat langsung dalam peristiwa sejarah
- c. Cerita yang berkembang dalam masyarakat
- d. Cerita yang hanya terdapat pada suatu daerah tertentu



# SOAL NOMOR 20



Agen sosialisasi dalam keluarga inti diantaranya adalah ....

- a. Ayah, ibu, saudara sekandung
- b. Kakek, nenek, paman
- c. Kakak, nenek, ayah, ibu
- d. Kakek, sepupu, ayah




# SOAL NOMOR 21



Selain sebagai makhluk sosial manusia juga adalah makhluk ekonomi, maksudnya ....

- a. Manusia dalam upaya mencukupi kebutuhannya sendiri dengan cara apapun.
- b. Manusia selalu berpikir dan berupaya untuk memenuhi kebutuhannya semaksimal mungkin.
- c. Manusia memanfaatkan barang sekitarnya untuk memenuhi kebutuhannya.
- d. Manusia menggantungkan hidupnya pada orang lain untuk memenuhi kebutuhannya.



# SOAL NOMOR 22



Latar belakang munculnya masalah ekonomi adalah

....

- a. kebutuhan manusia hanya sedikit dan alat pemenuhan kebutuhan terbatas
- b. kebutuhan manusia terbatas dan alat pemenuhan kebutuhan melimpah
- c. kebutuhan manusia tidak terbatas dan alat pemenuhan kebutuhan terbatas
- d. kebutuhan manusia tidak terbatas dan alat pemenuhan kebutuhan manusia tidak terbatas



# SOAL NOMOR 23



Keterbatasan alat pemenuhan kebutuhan manusia mengakibatkan ....

- a. manusia tidak puas
- b. kelangkaan alat pemenuhan kebutuhan manusia
- c. terbatasnya penyaluran kebutuhan
- d. terpenuhinya kebutuhan manusia



# SOAL NOMOR 24



Berdasarkan tingkat pemenuhan kebutuhannya manusia memiliki kebutuhan primer. Kebutuhan primer ini penting karena ....

- a. kebutuhan primer ini dapat ditunda
- b. kebutuhan primer merupakan pelengkap
- c. kebutuhan primer ini harus dipenuhi jika tidak kelangsungan hidupnya terancam
- d. kebutuhan ini selalu muncul dan dibutuhkan



# SOAL NOMOR 25



Perhatikan pernyataan berikut:

- 1) makanan dan minuman
- 2) Hp, olahraga, dan televisi
- 3) mobil, perhiasan
- 4) pakaian, rumah
- 5) diakui status sosialnya

Yang termasuk kebutuhan tersier adalah ....

- a. 1 dan 4
- b. 2 dan 3
- c. 3 dan 5
- d. 4 dan 5



# SOAL NOMOR 26



Perhatikan kebutuhan manusia berikut.

- 1). makanan
- 2). obat bagi yang sakit
- 3). kebutuhan rekreasi
- 4). membaca buku
- 5). beribadah

Menurut sifatnya, kebutuhan rohani ditunjukkan nomor ....

- a. 1 dan 3
- b. 2 dan 4
- c. 3 dan 5
- d. 4 dan 5



# SOAL NOMOR 27



Berikut adalah contoh benda substitusi

....

- a. kopi dan gula
- b. beras dan jagung
- c. pulpen dan tinta
- d. pensil warna dengan kertas gambar



# SOAL NOMOR 28



Jas hujan akan lebih berguna saat hujan. Hal ini menunjukkan bahwa payung memiliki nilai guna ....

- a. unsur
- b. tempat
- c. pelayanan
- d. waktu



# SOAL NOMOR 29



Pakaian nelayan lebih tipis dibandingkan pakaian orang gunung. Perbedaan jenis pakaian ini menunjukkan bahwa kebutuhan manusia berbeda karena adanya perbedaan faktor ....

- a. selera
- b. kedudukan sosial
- c. Tingkat pendidikan
- d. lingkungan tempat tinggal




# SOAL NOMOR 30



Usaha mengelola bahan mentah menjadi barang setengah jadi atau bahan jadi merupakan kegiatan ekonomi di bidang ....


- a. perdagangan
- b. perindustrian
- c. jasa
- d. pertanian



# SOAL NOMOR 31



Tuliskan minimal 50 kata, pendapat kalian mengenai pentingnya mempelajari sejarah keluarga?



# SOAL NOMOR 32



Hitunglah skala peta, jika diketahui jarak Desa A ke Desa C adalah 20 km, sedangkan jarak di peta 4cm!



# SOAL NOMOR 33 [1]



## Proyek Tol Yogyakarta-Bawen Senilai Rp14,26 Triliun Resmi Dimulai

[tirto.id](https://tirto.id) - Aji menerangkan bahwa keberadaan tol ini menjadi penghubung daerah vital di DIY, sehingga diharapkan dapat menumbuhkan roda ekonomi bagi masyarakat sekitar. "Keberadaan tol bisa kita manfaatkan sebagai akses Bandara Yogyakarta International Airport dengan optimal serta destinasi wisata di DIY juga dapat dikunjungi dengan mudah oleh masyarakat. Kita berharap, jalan tol ini juga membawa kesejahteraan bagi masyarakat, karena dengan adanya jalan tol akan lebih mudah, cepat dan efisien," ujarnya.

Direktur Jenderal Bina Marga Kementerian PUPR Hedy Rahadian menerangkan alasan *groundbreaking* dilakukan di Yogyakarta karena akan dijadikan sebagai area transit saat wisatawan banyak mengunjungi Borobudur. "Yogya menjadi prioritas karena untuk mengoneksikan antara Borobudur dan Yogyakarta yang banyak menjadi area transit," ujarnya. Selain itu, dari segi proses pembangunan terdapat sejumlah tantangan karena adanya kawasan budaya dan kelestarian lingkungan yang harus selalu dijaga. "Pembangunan Jalan Tol Yogyakarta-Bawen memiliki tantangan yang cukup tinggi karena tetap harus menjaga daerah heritage dan kelestarian lingkungan, trase yang melewati potensi gempa, sungai lahar dingin hingga wilayah mata air yang harus dijaga," jelasnya.

Ditargetkan apabila Tol Yogyakarta yang merupakan Proyek Strategis Nasional (PSN) sudah selesai dibangun, maka waktu perjalanan Semarang menuju Yogyakarta atau sebaliknya akan menjadi lebih cepat, dari sebelumnya memakan waktu 3 jam menjadi hanya 1,5 jam. Pembangunan jalan tol ini diharapkan dapat melancarkan distribusi barang dan jasa, pengembangan industri dan pariwisata serta meningkatkan konektivitas, khususnya di sisi selatan Pulau Jawa.

**Disarikan dari: <https://tirto.id/proyek-tol-yogyakarta-bawen-senilai-rp1426-triliun-resmi-dimulai-gqr5>**



# SOAL NOMOR 33 [2]



Berdasarkan informasi yang bersumber dari surat kabar Tirto, terkait **Proyek Tol Yogyakarta - Bawen** senilai Rp 14,26 **Triliun Resmi Dimulai**, jelaskan dampak pembangunan jalan tol Yogyakarta-Bawen terhadap interaksi antarwilayah tersebut!



# SOAL NOMOR 34 [1]

## Ancaman Perilaku Konsumtif di Tengah Pandemi Corona

Merebaknya virus corona berdampak besar tidak hanya dalam bidang kesehatan, tetapi juga berdampak pada perekonomian, termasuk kegiatan ekonomi yang berhubungan dengan pembelian barang atau jasa. Aktivitas masyarakat menjadi lebih terbatas, bahkan aktivitas berbelanja juga banyak dilakukan dari rumah, melalui belanja *online*.

Peluang ini tidak disia-siakan oleh perusahaan *e-commerce* atau biasa disebut juga *online shop*. *Online shop berlomba-lomba* menawarkan berbagai kemudahan dan berbagai promosi menarik pada konsumen, seperti diskon, *cashback*, dan *bonus pembelian*. Berbagai promosi menarik yang ditawarkan dapat membuat kita selaku konsumen menjadi “gelap mata” sehingga menjadi konsumtif, belanja berlebihan, di luar batas kebutuhan. Godaan konsumtif makin besar karena di rumah kita memiliki banyak waktu untuk membuka-buka situs belanja *online*, yang membuat kita makin terpapar dengan berbagai program yang ditawarkan.

Seringkali orang-orang yang berperilaku konsumtif sampai harus terjebak utang demi menutupi gaya hidupnya, harus berurusan dengan pihak penagih hutang, terjebak dalam gaya hidup materialistis dan hedonisme sehingga menghalalkan segala cara untuk mendapatkan uang. Sebagai konsumen, tentunya kita harus lebih bijaksana agar tidak terjebak dalam perilaku konsumtif. Jangan sampai ketika suatu saat virus Corona mereda, muncullah virus baru yang bernama virus konsumtif. Jadi, mari bekerja, belajar, beribadah, dan berbelanja bijaksana dari rumah.

**Sumber:** <https://money.kompas.com/read/2020/04/02/191400326/ancaman-perilaku-konsumtif-di-tengah-pandemi-corona?page=all>



# SOAL NOMOR 34 [2]



Berdasarkan informasi yang bersumber dari surat kabar Kompas, terkait **Ancaman Perilaku Konsumtif di Tengah Pandemi Corona**, jelaskan Mengapa perilaku konsumtif bisa terjadi di tengah Pandemi COVID-19?



# SOAL NOMOR 35 [1]



## Pelajar Bandung Deklarasi Gerakan Anti Nyontek

Bandung - Jelang pelaksanaan ujian nasional (UN), perwakilan pelajar SMA se-Bandung mendeklarasikan gerakan anti nyontek. Gerakan itu dinamakan Mandiri Terpercaya Gerakan Anti Nyontek alias ManTep-GAN. Deklarasi dilakukan sekitar 30 perwakilan SMA se-Bandung di Gedung Indonesia Menggugat (GIM), Jalan Perintis Kemerdekaan, Kamis (12/4/2012). Selain deklarasi, mereka juga menggelar doa bersama untuk kelancaran pelaksanaan UN.

Koordinator ManTep-GAN Fadly Akbar Nasher mengatakan, gerakan tersebut dimaksudkan sebagai penyemangat agar para siswa mengedepankan kejujuran dalam pelaksanaan UN. "Gerakan ini landasannya kejujuran dan kesadaran semua siswa karena kita semua sadar mencontek itu berbahaya," kata Fadly. Menurutnya, Indonesia saat ini butuh generasi yang menjunjung tinggi kejujuran. Salah satu caranya bisa diimplementasikan lewat UN. "Indonesia butuh generasi yang jujur. Insya Allah dengan gerakan ini bisa mengawalinya," tutur Fadly.

**Sumber:** <https://news.detik.com/berita-jawa-barat/d-1890807/pelajar-bandung-deklarasi-gerakan-anti-nyontek>



# SOAL NOMOR 35 [2]



Berdasarkan informasi yang bersumber dari surat kabar Kompas, terkait **Pelajar Bandung Deklarasi Gerakan Anti Nyontek**, Bagaimana pendapat kalian tentang aksi deklarasi anti-nyontek? *Apa yang akan kalian lakukan jika ada teman yang berbuat curang dan ingin mengajak kalian berbuat curang ketika ujian sekolah?*





*Beli Bayam Ke Bekasi,  
Sekian & Terima Kasih*

**KELAS DIGITAL IPS SMPN**

**285**

*Tetap SEMANGAT, Raih PRESTASI  
Namun Tetap RENDAH HATI!*