

உளவியல் வினா விடை

Find the odd one out:

A) Plassey

B) Saranath

C) Panipat

D) Kurukshetra

வேறுபட்டதை தேர்ந்தெடுக்கவும்:

A) பிளாசீ

B) சாரநாத்

C) பானிபட்

D) குருசேத்திரம்

If FIRST is coded as GJSTU, how can SECOND be coded?

- A) TFDPOE B) TDFPOE C) TEDPOD D) TFCPOE

FIRST என்பதை GJSTU என்று குறிப்பிட்டால் SECOND என்பதை எவ்வாறு குறிக்கலாம்?

- A) TFDPOE B) TDFPOE C) TEDPOD D) TFCPOE

A father's age is 4 times his son Ronith's age. After 8 years, his age will be $2\frac{1}{2}$ times his son's age. Then after 10 more years, how many times will the father's age be compared to the son's age?

- A) $1\frac{13}{12}$ B) $1\frac{12}{13}$ C) $1\frac{15}{14}$ D) $1\frac{14}{15}$

தந்தையின் வயது தனது மகன் ரோனித்தை விட 4 மடங்குகள். 8 ஆண்டுகள் பிறகு அவரின் வயது மகனின் வயதை விட $2\frac{1}{2}$ மடங்கு அதிகம் எனில் மேலும் 10 ஆண்டுகளில் அவரின் வயது மகனின் வயதை விட எத்தனை மடங்குகள் இருக்கும்?

- A) $1\frac{13}{12}$ B) $1\frac{12}{13}$ C) $1\frac{15}{14}$ D) $1\frac{14}{15}$

If the words template, temprature, tenable, temporary are arranged in alphabetical order, what is the 2nd word?

- A) template B) temprature C) tenable D) temporary

template, temprature, tenable, temporary இதனை அகர வரிசைப்படுத்தினால் 2வது வார்த்தை என்ன?

- A) template B) temprature C) tenable D) temporary

A clock currently shows 8:45 PM. If the clock is rotated 135° in the anti-clockwise direction, which direction will the minute hand point?

A) North

B) South

C) South-West

D) South-East

ஒரு கடிகாரம் தற்போது 8:45 Pm காட்டுகிறது. கடிகாரத்தை 135° எதிர்கடிகாரத் திசையில் சுழற்றினால், நிமிடம் காட்டும் முள் எத்திசையை நோக்கி இருக்கும்?

A) வடக்கு

B) தெற்கு

C) தென்மேற்கு

D) தெற்கிழக்கு

Find the odd one out from the following:

A) $46 - 10$

B) $42 - 33$

C) $12 - 91$

D) $20 - 38$

பின்வருவனவற்றில் பொருத்தமற்றது எது?

A) $46 - 10$

B) $42 - 33$

C) $12 - 91$

D) $20 - 38$

If WHEN is coded as 7129 and TREATY is coded as 382530, how can WARRENTY be coded?

A) 75829830

B) 78582930

C) 75889230

D) 75882930

WHEN என்பதை 7129 என்றும் TREATY என்பதை 382530 என்றும் குறித்தால் WARRENTY என்பதை எவ்வாறு குறிக்கலாம்?

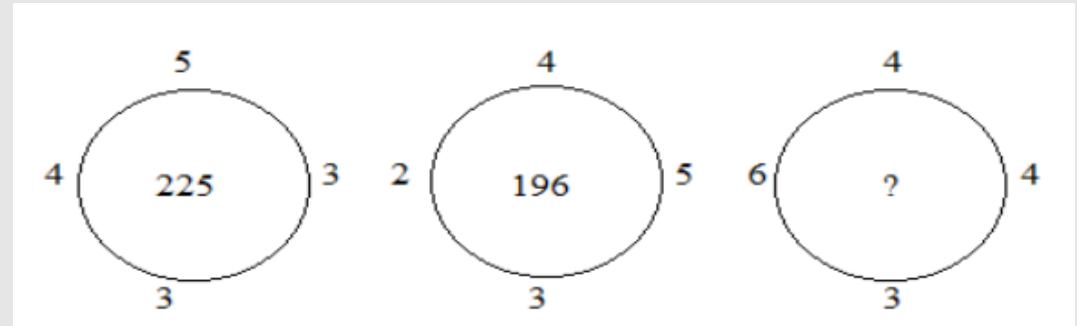
A) 75829830

B) 78582930

C) 75889230

D) 75882930

(Circle diagram – find the missing number)



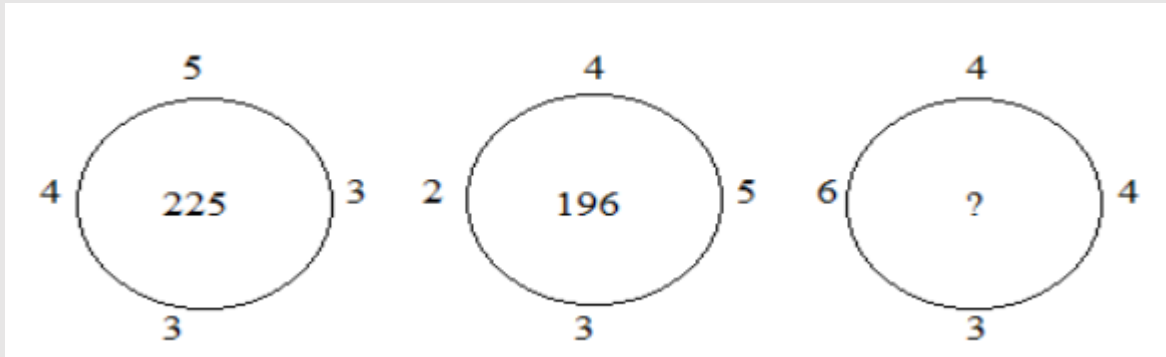
A) 256

B) 289

C) 324

D) 361

கொடுக்கப்பட்ட வட்ட படத்தில் கேள்விக்குறியில் வரும் எண் என்ன?



A) 256

B) 289

C) 324

D) 361

Prabu saw a woman in a playground and said, "She is the only daughter of my sister's brother's father." What is the relationship between Prabu and that woman?

A) Sister

B) Mother

C) Daughter-in-law

D) Sister-in-law (Elder brother's wife)

பிரபு என்பவர் மைதானத்தில் இருந்து ஒரு பெண்ணைப் பார்த்து "இவர் என் சகோதரியின் சகோதரின் தந்தையின் ஒரே மகள்" என்று கூறினார் எனில் பிரபுவுக்கும் அந்த பெண்ணுக்கும் என்ன உறவு?

A) சகோதரி

B) தாய்

C) மருமகள்

D) அண்ணி

11

உளவியல் வினா விடை PYQ

TNUSRB

ab __ a __ d _ b c _ a __ d

A) cdabbabd

B) cdabebed

C) cdbacdbc

D) cdbcadbc

STOP : POTS :: GAME : _____

A) EGMA

B) EMGA

C) EMAG

D) EAMG

12 workers can plough 2400 sq.m of land in 10 days. How many workers are needed to plough 3600 sq.m of land in 18 days?

- A) 10 workers B) 15 workers C) 18 workers D) 20 workers

2400 ச.மீ நிலத்தை 12 வேலையாட்கள் 10 நாட்களில் உழுது முடிப்பார். 3600 ச.மீ நிலத்தை 18 நாட்களில் உழுவதற்கு எத்தனை வேலையாட்கள் தேவை?

- A) 10 ஆட்கள் B) 15 ஆட்கள் C) 18 ஆட்கள் D) 20 ஆட்கள்

Out of 40 students in a class, 5 were absent for an exam. Their average score was 60. Those 5 students came for a re-exam. Now the class average is still 60. What is the total score of those 5 students?

- A) 0 B) 100 C) 300 D) None of these

ஒரு வகுப்பிலுள்ள 40 மாணவர்களில் 5 பேர் ஒரு தேர்வுக்கு வரவில்லை. அவர்களின் சராசரி மதிப்பெண் 60. அந்த ஐந்து பேரும் மறுதேர்வுக்கு வந்தனர். இப்பொழுது மாணவர்களின் சராசரி 60. அவ்வைந்து மாணவர்களின் மொத்த மதிப்பெண்?

- A) 0 B) 100 C) 300 D) இவைகளில் எதுவுமில்லை

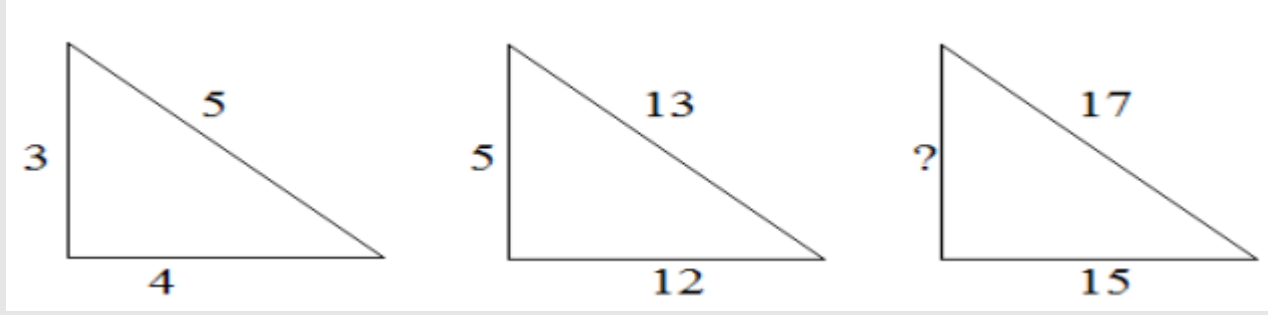
Two friends A and B went for a direct interview for two vacancies. The probability of A being selected is $1/3$. The probability of B being selected is $1/2$. What is the probability that both are selected?

A) $2/3$ B) $1/2$ C) $5/6$ D) $1/6$

A, B என்ற இரு நண்பர்கள் இரண்டு காலியிடங்களுக்கான நேர்முக தேர்வுக்கு சென்றனர். A தேர்ந்தெடுக்கப்பட்ட நிகழ்தகவு $1/3$. B தேர்ந்தெடுக்கப்பட்ட நிகழ்தகவு $1/2$ எனில் இருவரும் தேர்ந்தெடுக்கப்பட்ட நிகழ்தகவு என்ன?

A) $2/3$ B) $1/2$ C) $5/6$ D) $1/6$

(Triangle diagram – find the missing number)



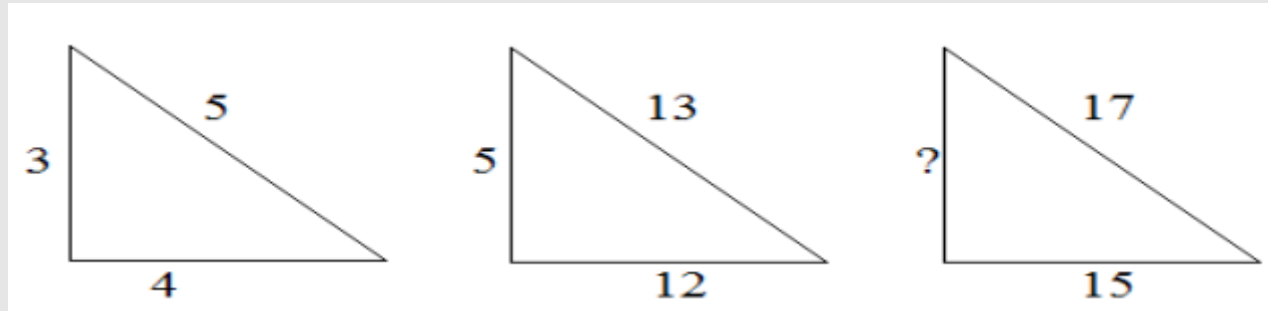
A) 2

B) 6

C) 8

D) 64

கொடுக்கப்பட்ட முக்கோண படத்தில் கேள்விக்குறியில் வரும் எண் என்ன?



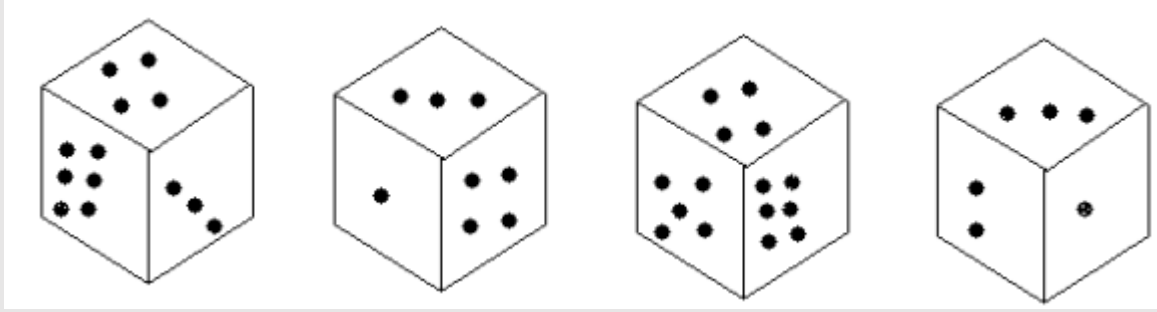
A) 2

B) 6

C) 8

D) 64

In the given dice, the face with three dots — how many dots are on the opposite face?



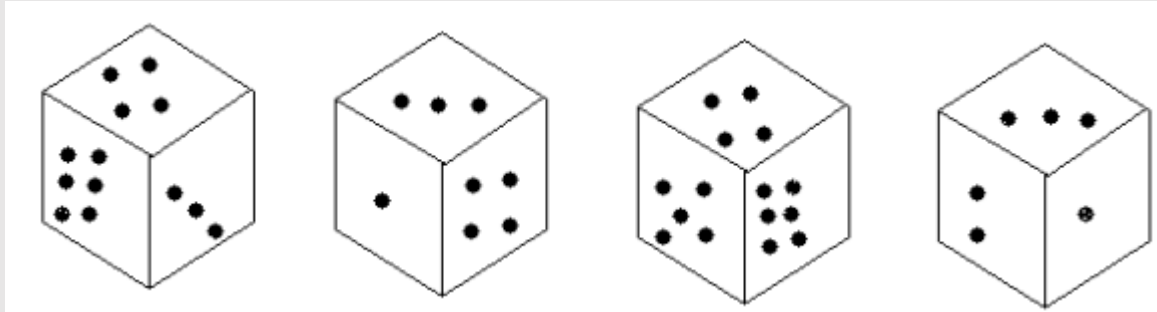
A) 2

B) 4

C) 5

D) 6

கொடுக்கப்பட்டுள்ள பகடையில் மூன்று புள்ளிகள் கொண்ட முகத்திற்கு எதிர் திசையில் எத்தனை புள்ளிகள் இருக்கும்?



A) 2

B) 4

C) 5

D) 6

Find the wrong number in the following series: 2, 9, 28, 65, 126, 216, 344

A) 2

B) 28

C) 65

D) 216

பின்வரும் தொடரில் தவறான எண்ணை தேர்வு செய்க:

2, 9, 28, 65, 126, 216, 344

A) 2

B) 28

C) 65

D) 216

Among five friends, Mohan is older than Raji. But not older than Ravi. Ravi is older than Divan and Salime. Divan is younger than Raji. But Divan is not the youngest. Who is 4th in descending order of age?

- A) Mohan B) Raji C) Divan D) None of these

ஐந்து நண்பர்களில் மோகன் என்பவர் ராஜீவை விட வயது மூத்தவர். ஆனால் ரவியை விட மூத்தவர் இல்லை. ரவி என்பவர் திவான் மற்றும் சலிமை விட மூத்தவர். திவான் என்பவர் ராஜீவை விட வயதில் சிறியவர். ஆனால் திவான் சிறியவர் அல்ல. எனில் இறங்கு வரிசையில் வயதின் அடிப்படையில் 4வது இருப்பவர் யார்?

- A) மோகன் B) ராஜீ C) திவான் D) இதில் எதுவும் இல்லை

A large, faint watermark of the Weshine Academy logo is centered in the background. The logo is circular with an orange border. Inside the border, the text "SINCE 2013" is at the top, "Weshine Academy" is in the middle, and "Guiding you to get through" is at the bottom. The outer ring of the logo contains the text "TNUSRB | TRB | TET | SSC | BANK EXAM".

Thank You