



MODUL AJAR 8.10

KEMAJEMUKAN MASYARAKAT INDONESIA [MOBILITAS SOSIAL]



KELAS 8 [8 x 40']



SOCIAL STUDIES DIGITAL CLASS

2026 © Guru IPS SMPN 285 Jakarta
<www.guruipssmpn285jkt.online>

MODUL AJAR 8.10
SMPN 285 JAKARTA

KELAS 8
IPS



by



Ady Lesmana - 2026

KEGIATAN PEMBELAJARAN AWAL [50']



MENJELASKAN TUJUAN BELAJAR [2']

IKTP 8.10

Mendesripsikan keragaman dalam kehidupan sosial masyarakat Indonesia.



SALAM PEMBUKA [2']

“Assalamu’alaikum Warahmatullahi Wabarakatuh, Syalom, Salam Sejahtera, Om Swastyastu, Namu Buddhaya, Salam Kebajikan, Salam Pancasila, Salam Bahagia Bagi Kita Semua”



DOA



UMUM/LINTAS/SESUAI KEPERCAYAAN & KEYAKINAN [4']



LAGU WAJIB NASIONAL/DAERAH/UMUM

MENYANYIKAN LAGU:

MIMPI (LASKAR PELANGI)

[NIDJI]

[5']



PRESENSI

(MENGENAL PESERTA DIDIK) [8']



MULAI DARI DIRI

ASESMEN FORMATIF/PERMAINAN/ICE BREAKING [25']

PERMAINAN BERPIKIR INTEGRAL

DENGARKAN BAIK-BAIK CERITA BERIKUT:

Ada seorang laki-laki mengenakan pakaian serba hitam, berkemeja hitam dengan kancing hitam, mengenakan celana panjang hitam, kacamata hitam, berdasi hitam berjalan menyusuri lorong hitam yang lebarnya pas untuk 1 mobil dan orang berjalan. Lelaki inipun bersepatu dan berkaos kaki hitam bersarung tangan hitam, dan mengenakan jas hitam dengan resleting hitam, dengan topi hitam. Seluruh lampu di lorong padam. Dari arah berlawanan, berjalan melintas sebuah mobil hitam, dengan kaca hitam dan berplat hitam, diatas mobil tersebut terdapat roofreel hitam berisi beberapa kopor hitam, mobilpun berjalan perlahan-lahan dengan velg hitam pada keempat rodanya dengan lampu padam. Kemudian berpapasanlah mereka. selanjutnya merekapun saling berlalu

PERTANYAANNYA:

KENAPA MEREKA DAPAT SALING BERLALU, KETIKA BERPAPASAN?



QUOTE OF THE DAY (5’):

“Orang yang baik bisa membuat orang lain menjadi baik; itu berarti bahwa kebaikan akan mendatangkan kebaikan dalam masyarakat; orang lain juga akan baik-baik saja.”

[-BHUMIBOL ADULYADEJ-]




KEGIATAN PEMBELAJARAN INTI [EKSPLORASI KONSEP I] [60']



KESEPAKATAN KELAS IPS DIGITAL - SMPN 285 JAKARTA



Gawai
SKK**



BRAINSTORMING



- ❖ Situasi apakah yang terlihat pada gambar?
- ❖ Mengapa dapat terjadi demikian?
- ❖ Bagaimana pengaruh dinamika kependudukan terhadap kondisi sosial penduduk di Indonesia?

PENDUDUK DI INDONESIA (1)

Provinsi di Indonesia	Jumlah Penduduk Menurut Provinsi di Indonesia (Ribu Jiwa)
	2024
Aceh	5554.8
Sumatera Utara	15588.5
Sumatera Barat	5836.2
Riau	6728.1
Kep. Riau	2183.3
Jambi	3724.3
Sumatera Selatan	8837.3
Kep. Bangka Belitung	1531.5
Bengkulu	2112.2
Lampung	9419.6
DKI Jakarta	10684.9
Jawa Barat	50345.2
Banten	12431.4
Jawa Tengah	37892.3
DI Yogyakarta	3759.5
Jawa Timur	41814.5

Provinsi di Indonesia	Jumlah Penduduk Menurut Provinsi di Indonesia (Ribu Jiwa)
	2024
Kalimantan Barat	5695.5
Kalimantan Tengah	2809.7
Kalimantan Selatan	4273.4
Kalimantan Timur	4045.9
Kalimantan Utara	739.8
Sulawesi Utara	2701.8
Gorontalo	1227.8
Sulawesi Tengah	3121.8
Sulawesi Selatan	9463.4
Sulawesi Barat	1503.2
Sulawesi Tenggara	2793.1
Bali	4433.3
Nusa Tenggara Barat	5646
Nusa Tenggara Timur	5656
Maluku	1945.6
Maluku Utara	1355.6
Papua Barat	1205.8
Papua	4542.6



PENDUDUK DI INDONESIA (2)

KELOMPOK UMUR	PENDUDUK (LAKI-LAKI)	PENDUDUK (PEREMPUAN)	PENDUDUK (LAKI-LAKI + PEREMPUAN)
0-4	11.499,3	11.012,6	22.511,8
5-9	11.237,6	10.762,4	22.000,1
10-14	11.316,5	10.746,7	22.063,2
15-19	11.419,7	10.714,6	22.134,4
20-24	11.489,7	10.871,1	22.360,9
25-29	11.509,1	10.986,4	22.495,6
30-34	11.243,9	10.845,1	22.089,0
35-39	10.834,1	10.570,3	21.404,5
40-44	10.274,3	10.130,8	20.405,2
45-49	9.544,2	9.514,7	19.058,9
50-54	8.415,0	8.450,9	16.865,9
55-59	7.133,3	7.231,3	14.364,6
60-64	5.676,6	5.813,7	11.490,3
65-69	4.183,9	4.344,5	8.528,4
70-74	2.695,1	2.920,6	5.615,8
75+	2.314,2	2.993,5	5.307,7



REFLEKSI



- Berdasarkan informasi tersaji, Berapakah jumlah penduduk di Indonesia pada tahun 2024?
- Berapa rasio antara penduduk perempuan dan laki-laki?



DINAMIKA PENDUDUK INDONESIA

- **Dinamika penduduk:** perubahan jumlah penduduk pada suatu wilayah yang disebabkan: kelahiran (natalitas), kematian (mortalitas), dan perpindahan (migrasi).
- Jumlah penduduk Indonesia mengalami penambahan dan pengurangan setiap harinya.



FAKTOR YANG MEMPENGARUHI DINAMIKA PENDUDUK

❑ Angka Kelahiran (Natalitas)

Menunjukkan bayi yang lahir dari setiap 1000 penduduk per tahun. 3 kriteria angka kelahiran:

- ✓ Tinggi jika angka kelahiran berkisar > 30 per tahun
- ✓ Sedang jika angka kelahiran berkisar 20-30 per tahun
- ✓ Rendah, jika angka kelahiran berkisar < 20 per tahun.

❑ Angka kematian (Mortalitas)

Menunjukkan jumlah kematian dari setiap 1000 penduduk per tahun. Mortalitas dibagi menjadi 3 jenis:

- ✓ Tinggi jika angka kematian berkisar > 18 per tahun
- ✓ Sedang jika angka kematian berkisar 14-18 per tahun
- ✓ rendah jika angka kematian berkisar 9-13 per tahun

❑ Perpindahan Penduduk (Migrasi)

Suatu perpindahan penduduk dari suatu wilayah ke wilayah lainnya.



JENIS MIGRASI

JENIS MIGRASI INTERNASIONAL

IMIGRASI

masuknya penduduk dari suatu negara ke negara lain dengan tujuan menetap. Orang yang melakukan imigrasi disebut imigran

REMIGRASI

kembalinya imigran ke negara asalnya

EMIGRASI

keluarnya penduduk dari suatu negara ke negara lain. Orang yang melakukan emigrasi disebut emigran



JENIS MIGRASI NASIONAL

Urbanisasi, yaitu perpindahan dari desa ke kota dengan tujuan menetap.

Transmigrasi, yaitu perpindahan penduduk dari pulau yang padat penduduk ke pulau yang jarang penduduknya di dalam wilayah republik Indonesia.

Transmigrasi Spontan (swakarsa), yaitu transmigrasi yang dilakukan oleh seseorang atas kemauan dan biaya sendiri

Transmigrasi Khusus, yaitu transmigrasi yang dilaksanakan dengan tujuan tertentu, seperti penduduk yang terkena bencana alam dan daerah yang terkena pembangunan proyek

Transmigrasi Lokal, yaitu transmigrasi dari suatu daerah ke daerah yang lain dalam propinsi atau pulau yang sama

Transmigrasi Umum, yaitu transmigrasi yang dilaksanakan dan dibiayai oleh pemerintah

Ruralisasi, yaitu perpindahan penduduk dari kota ke desa dengan tujuan menetap.



MENGHITUNG JUMLAH PENDUDUK SUATU WILAYAH

**PERTAMBAHAN
PENDUDUK**

Jumlah kelahiran (natalitas)
dalam 1 tahun

$$P = (L - M) + (I - E)$$

Jumlah kematian (mortalitas)
dalam 1 tahun

Jumlah
penduduk yang
masuk

Jumlah penduduk
yang keluar
(emigrasi)



10 Negara dengan Populasi Terbanyak 2024



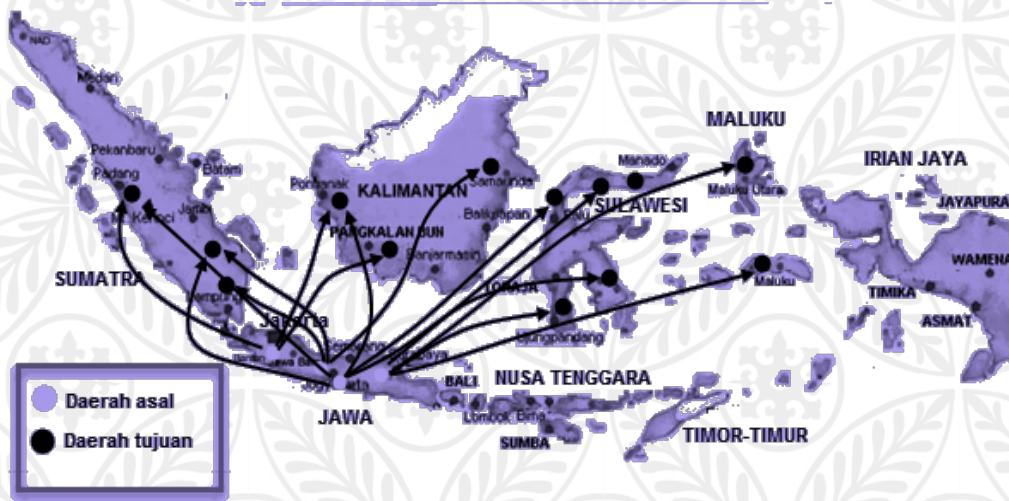
Jumlah populasi global pada 2024 sebanyak 8,2 miliar.
Negara mana yang memiliki populasi terbanyak di dunia?

- Berdasarkan *World Population Prospect 2024*, jumlah populasi global sebanyak **8,2 miliar** orang tahun ini*.
- Angkanya naik **200 juta** dari tahun 2020, yaitu **8 miliar orang**.

Dari informasi tersebut, Indonesia merupakan negara dengan tingkat populasi peringkat ke-4 dunia. Apa saja yang menyebabkan Indonesia memiliki jumlah penduduk yang besar?



MOBILITAS PENDUDUK

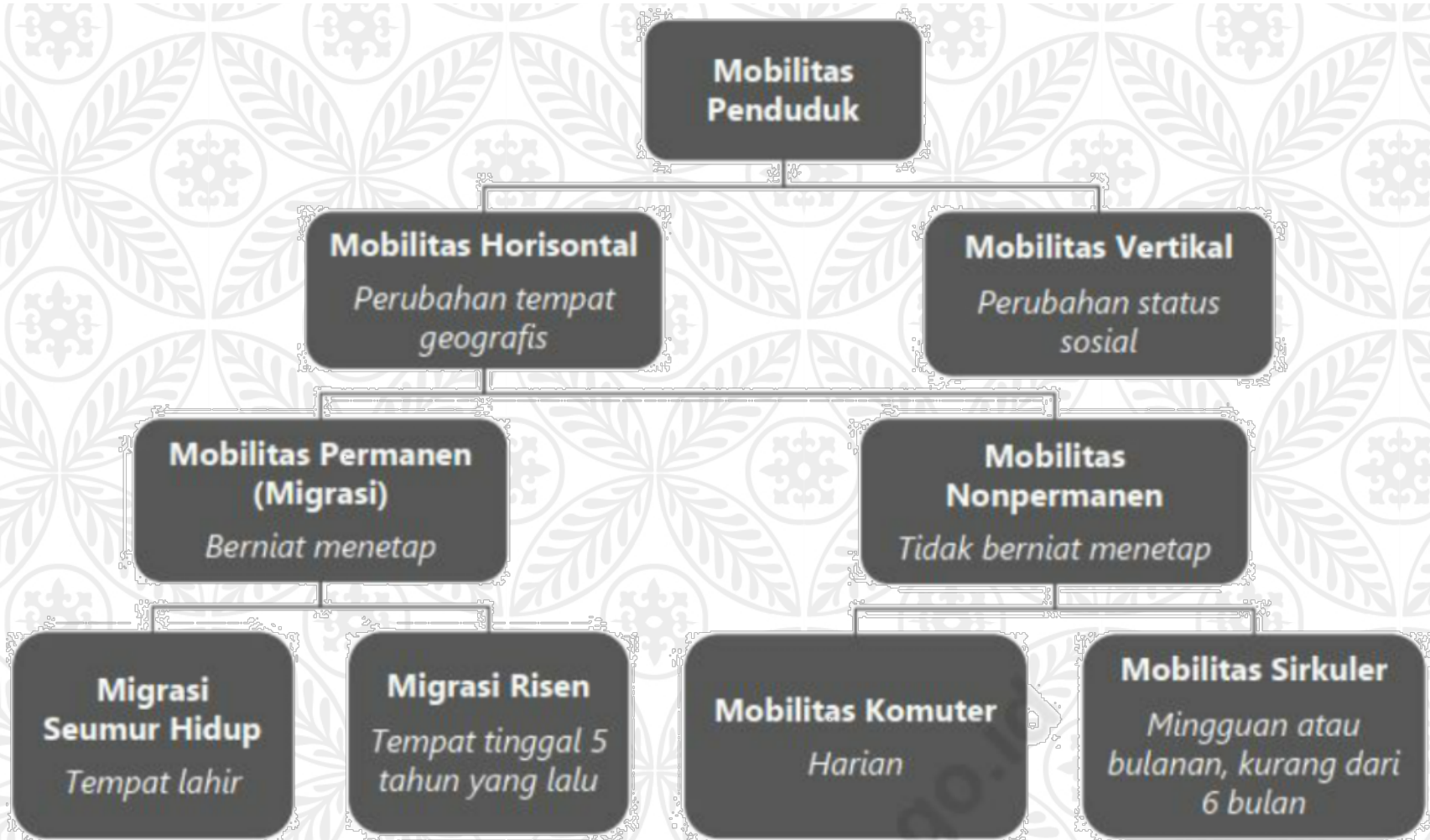


Mobilitas dilakukan untuk memperoleh sesuatu yang tidak tersedia di daerah asalnya. Biasanya karena alasan ekonomi.

- ❑ Pergerakan penduduk melewati batas wilayah dalam periode waktu tertentu, melintasi batas administrasi: batas negara, propinsi, kabupaten, kecamatan, kelurahan/desa, dan dusun.



BENTUK MOBILITAS PENDUDUK

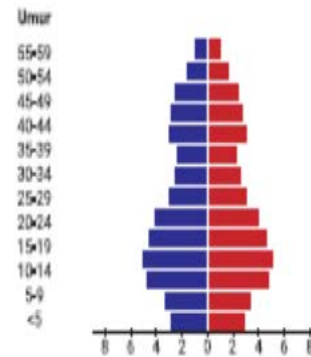
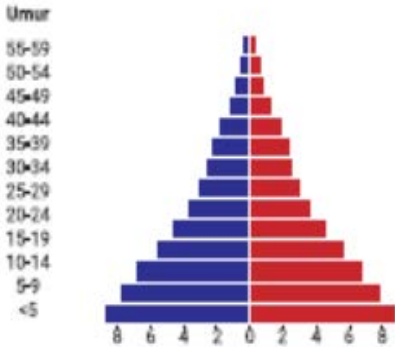


PIRAMIDA PENDUDUK

(Berdasarkan umur, jenis kelamin, dan karakteristik penduduk suatu daerah)

Piramida Penduduk Muda (ekspansif)

Piramida penduduk muda menggambarkan pertumbuhan penduduk pada suatu wilayah tertentu dimana angka kelahiran tinggi dan angka kematian rendah sehingga wilayah tersebut mengalami pertumbuhan penduduk yang cepat. Contohnya adalah negara yang sedang berkembang seperti Indonesia, Malaysia, Filipina dan India.

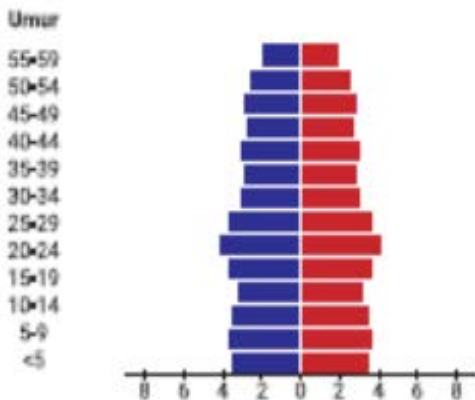


Piramida Penduduk Tua (konstruktif),

Piramida ini menggambarkan pertumbuhan penduduk di suatu wilayah yang mana angka kelahiran mengalami penurunan dengan tingkat kematian yang rendah. Contoh Jerman.

Piramida Penduduk Dewasa (stasioner)

Piramida ini menggambarkan pertumbuhan penduduk yang seimbang antara angka kelahiran dan angka kematian. Jenis piramida ini dapat ditemukan di negara maju seperti Amerika Serikat dan Inggris



KOMPOSISI PENDUDUK

- **Komposisi penduduk:** Pengelompokan penduduk berdasarkan umur, jenis kelamin, mata pencaharian, agama, bahasa, pendidikan, tempat tinggal, jenis pekerjaan, dan lain sebagainya.
- **Digunakan** sebagai dasar pengambilan keputusan atau penentuan kebijaksanaan dalam pembangunan

BERDASARKAN USIA

Dibuat berdasarkan usia tunggal seperti 0, 1, 2, 3, 4, dst. Atau secara interval seperti 0-5 tahun, 6-12 tahun, 13-15 tahun, dst. Permasalahan komposisi penduduk apabila jumlah penduduk usia di bawah 15 tahun dan usia di atas 65 tahun lebih besar dibandingkan usia produktif (15-65 tahun), akan menyebabkan penduduk usia produktif menanggung hidup seluruh penduduk usia non produktif.



BERDASARKAN JENIS KELAMIN

Komposisi penduduk berdasarkan jenis kelamin dapat digunakan untuk menghitung perbandingan jenis kelamin (*sex ratio*). *Perbandingan* ini digunakan dalam memperkirakan bentuk pemberdayaan penduduk sebagai sumber daya manusia sesuai karakteristiknya.



ASESMEN 8.10.1

ARTIKEL REPORT

PANDUAN PENUGASAN

- Berkelompok dengan teman 1 meja (kiri/kanan)
- Mencari artikel dengan topik permasalahan penduduk di Indonesia, menggunakan media internet.
- Dari artikel yang diperoleh, buat tabulasi infografis terkait:
 1. Permasalahan kependudukan yang muncul dalam artikel.
 2. Mengapa permasalahan tersebut terjadi.
 3. Apa yang terjadi setelah ada permasalahan kependudukan tersebut?
 4. Bagaimana upaya mengatasi permasalahan kependudukan tersebut?
- Kumpulkan hasil melalui drive pembelajaran dan websitemu, kemudian presentasikan di depan kelas (sesuai kesepakatan kelas)



PERTUMBUHAN DAN KUALITAS PENDUDUK

- **Pertumbuhan penduduk:** keseimbangan dinamis antara kekuatan yang menambah dan kekuatan yang mengurangi jumlah penduduk.
- **Faktor yang memengaruhi:** kelahiran, kematian dan migrasi.
- **Pertumbuhan penduduk yang cepat menyebabkan:**
 1. Pertumbuhan penduduk usia muda yang cepat menyebabkan tingginya angka pengangguran.
 2. Persebaran penduduk yang tidak merata.
 3. Komposisi penduduk kurang menguntungkan karena disebabkan banyak usia muda yang kurang produktif sehingga beban ketergantungan tinggi.
 4. Arus urbanisasi tinggi, banyak yang beranggapan kota lebih banyak menyediakan lapangan kerja.
 5. Menurunnya kualitas dan tingkat kesejahteraan penduduk



ASESMEN 8.10.2

OBSERVASI DATA

- Mencari data penduduk di sekitar tempat tinggalmu meliputi:
 - ❖ data jumlah penduduk
 - ❖ angka pertumbuhan penduduk
 - ❖ angka kelahiran dan kematian
 - ❖ data migrasi penduduk
- Olah hasil data menjadi komposisi penduduk berdasarkan usia dan jumlah kelamin!
- Jelaskan, bagaimana kondisi pertumbuhan penduduk yang terjadi di lingkungan sekitar tempat tinggalmu?
- Analisis dinamika penduduk yang terjadi di lingkungan tempat tinggalmu baik dari jumlah penduduknya, komposisi penduduk dan kualitas penduduk!
- Cara mengerjakan bebas dengan kreasimu, kemudian kumpulkan.



KERAGAMAN MASYARAKAT INDONESIA



ISTILAH PLURALITAS & MULTIKULTURAL

- ❖ **Plural:** dari bahasa Inggris artinya “jamak”,
- ❖ Masyarakat Indonesia bersifat plural.
- ❖ **Pluralitas:** kemajemukan.
- ❖ **Pluralitas masyarakat Indonesia** = kemajemukan masyarakat Indonesia.
- ❖ **Multikultural:** dari kata *multi* yang berarti banyak (lebih dari dua) dan *culture* artinya kebudayaan.
- ❖ **Masyarakat multikultural:** masyarakat yang memiliki lebih dari dua kebudayaan.
- ❖ **Masyarakat multikultural tersusun atas berbagai budaya yang menjadi sumber nilai** bagi terpeliharanya kestabilan kehidupan masyarakat pendukungnya.
- ❖ **Keragaman budaya berfungsi** untuk mempertahankan dasar identitas diri dan integrasi sosial masyarakatnya



BENTUK KERAGAMAN MASYARAKAT INDONESIA (1)

PERBEDAAN AGAMA

- Setiap agama memiliki tuntunan dalam melaksanakan persembahyangan atau upacara keagamaan.
- Kita perlu mengetahui dan memahami bagaimana setiap umat beragama memiliki tempat ibadah dan melaksanakan kegiatan upacara keagamaan atau persembahyangan.
- Agar dalam berhubungan antar umat beragama kita dapat untuk saling memahami dan menghargai atau bertoleransi satu sama lain.

PERBEDAAN SUKU BANGSA

- Bangsa Indonesia memiliki lebih dari 300 kelompok etnik/suku bangsa.
- Suku Jawa, kelompok terbesar jumlahnya 41% dari total populasi.
- Suku Jawa tinggal di pulau Jawa (Jawa Tengah, Jawa Timur), dan jutaan jiwa bertransmigrasi tersebar ke berbagai pulau di Nusantara, juga bermigrasi ke luar negeri.
- Suku Sunda, suku Melayu, dan suku Madura adalah kelompok terbesar berikutnya di negara ini.



BENTUK KERAGAMAN MASYARAKAT INDONESIA (2)

PERBEDAAN PEKERJAAN

- Terdapat berbagai jenis pekerjaan sektor formal dan nonformal.
- **Sektor formal:** dijalankan pelaku usaha resmi (pemerintah dan swasta).
- Contoh: karyawan perusahaan, pegawai bank, pegawai pemerintah, guru.
- **Konsekuensi pekerjaan formal:** individu terikat secara langsung oleh sistem yang berlaku.
- **Pekerja nonformal:** pelaku wirausaha mandiri
- **Contoh:** pemilik bengkel, petani, penjual di pasar, dan lainnya.
- Perbedaan pekerjaan masyarakat menandakan perbedaan kebutuhan yang dimiliki.
- Guru, tentara, penjual buah, tukang batu, dan sebagainya menunjukkan rantai kehidupan saling terkait dan membutuhkan.



BENTUK KERAGAMAN MASYARAKAT INDONESIA

(3)

PERBEDAAN BUDAYA

- Budaya: hasil kerja atau usaha manusia yang berupa benda maupun hasil buah pemikiran manusia dimasa hidupnya. (Ahli budaya Indonesia Soekmono)
- Budaya bentuk hasil manusia yang membedakan manusia dengan makhluk lainnya.
- Manusia menghasilkan budaya karena dikaruniai akal fikir untuk memperbaiki taraf hidupnya.
- 3 wujud budaya, (sosiolog J.J. Hoenigman):
 - ✓ **Gagasan (Wujud ideal):** kumpulan ide-ide, gagasan, nilai-nilai, norma-norma, peraturan, dan sebagainya yang abstrak/tidak nyata; tidak dapat diraba atau disentuh. Contoh: isi buku, karangan, dan sebagainya.
 - ✓ **Aktivitas (tindakan):** tindakan berpola dari manusia dalam masyarakat disebut dengan sistem sosial. Bersifat konkret, dalam kehidupan sehari-hari, dapat diamati, dan didokumentasikan.
 - ✓ **Artefak (karya):** kebudayaan fisik hasil dari aktivitas, perbuatan, dan karya berupa benda-benda atau hal-hal yang dapat diraba, dilihat, dan didokumentasikan. Sifatnya paling nyata di antara ketiga wujud kebudayaan.



ASESMEN 8.10.3

TUGAS MANDIRI

Tuliskan bentuk toleransi antarumat bearagama di lingkungan sekolah, lingkungan tempat tinggalmu dan lingkungan masyarakat pada tabel berikut:

LINGKUNGAN SEKOLAH	LINGKUNGAN TEMPAT TINGGAL	LINGKUNGAN MASYRAKAT
1.	1.	1.
2.	2.	2.
3.	3.	3.



ASESMEN 8.10.4

TUGAS MANDIRI

- ☞ Mencari artikel dengan topik keragaman penduduk Indonesia.
- ☞ Tuliskan sumber artikel yang didapatkan
- ☞ Berikan opinimu terkait artikel tersebut
- ☞ Diskusikan di kelas



MANFAAT KEBERAGAMAN BUDAYA

- ✓ Dalam bidang bahasa, kebudayaan daerah yang berwujud dalam bahasa daerah akan memperkaya perbendaharaan istilah dalam bahasa Indonesia.
- ✓ Dalam bahasa Indonesia dapat ditemukan berbagai istilah yang diserap dari berbagai bahasa daerah.
- ✓ Potensi keberagaman budaya dapat dijadikan objek dan tujuan pariwisata di Indonesia yang dapat mendatangkan devisa.
- ✓ Pemikiran yang timbul dari sumber daya manusia di masing-masing daerah dapat pula dijadikan acuan bagi pembangunan nasional.



PERAN DAN FUNGSI KERAGAMAN BUDAYA DALAM PEMBANGUNAN NASIONAL

- Sebagai daya tarik bangsa asing
- Mengembangkan kebudayaan nasional
- Tertanamnya sikap toleransi
- Saling melengkapi hasil budaya
- Mendorong inovasi kebudayaan

Dalam mempersatukan penduduk Indonesia yang beragam, terdapat empat masalah pokok:

1. Mempersatukan aneka-warna suku-bangsa,
2. Hubungan antarumat beragama,
3. Hubungan mayoritas-minoritas dan
4. Integrasi kebudayaan di Irian Jaya dengan kebudayaan Indonesia.

Sumber: Koentjaraningrat (1982:345-346)



ASESMEN 8.10.5

MENGIDENTIFIKASI KERAGAMAN

Nama Suku Bangsa	Keragaman Budaya	Keragaman Jenis Pekerjaan
Jawa
Sunda
Dayak
Dst		

AGAMA	HARI BESAR	TRADISI
ISLAM
KRISTEN
KATOLIK
HINDU
BUDDHA
KHONG HU CU



ASESMEN 8.10.6

MEMBUAT INFOGRAFIS

- 1. Buatlah sebuah gambar, poster, infografis dengan tema “Keberagaman Indonesia.”**
- 2. Dapat dibuat manual maupun digital.**
- 3. Gambar poster ataupun infografik dalam kertas ukuran A3.**
- 4. Dokumentasikan hasilnya dan upload di drive pembelajaran serta websitemu.**
- 5. Kumpulkan hasil gambar fisik pada guru pengampu.**
- 6. Diskusi & Presentasikan, akan dilaksanakan sesuai kesepakatan kelas.**



DEMONSTRASI KONTEKSTUAL [RUANG UNJUK KARYA I] [60']



KEGIATAN PEMBELAJARAN INTI

[EKSPLORASI KONSEP II]

[60']



MOBILITAS SOSIAL

- Mobilitas: dari bahasa latin *mobilis* yang berarti mudah dipindahkan atau banyak bergerak dari satu tempat ke tempat yang lain.
- Sosial: mengandung makna gerak yang melibatkan seseorang atau sekelompok warga dalam kelompok sosial.
- Mobilitas sosial: perpindahan posisi seseorang atau sekelompok orang dari lapisan satu ke lapisan yang lain.
- Seseorang mengalami perubahan kedudukan (status) sosial dari suatu lapisan ke lapisan lain, menjadi lebih tinggi maupun lebih rendah dari sebelumnya atau hanya berpindah peran tanpa mengalami perubahan kedudukan.
- Contoh: pensiunan pegawai rendah beralih menjadi seorang pengusaha dan berhasil gemilang.
- Seorang anak pengusaha ingin mengikuti jejak kesuksesan ayahnya, lalu membuka usaha lain. Namun, gagal dan akhirnya jatuh miskin.



STUDI KASUS

Tom Lembong Tersangka Korupsi Impor Gula, Langsung Ditahan di Rutan Salemba.

Tom Lembong ditetapkan jadi tersangka kasus dugaan korupsi impor gula oleh Kejaksaan Agung (Kejagung). Kasus ini terkait dengan impor gula saat Tom Lembong menjabat Menteri Perdagangan pada 2015-2016. Saudara TL memberikan izin persetujuan impor gula kristal mentah 105 ribu ton kepada PT AP," kata Dirdik Jampidsus Kejagung Abdul Qohar dalam konferensi pers di Kejagung, Jakarta Selatan, Selasa (29/10/2024).

Kejagung langsung menahan Tom Lembong di Rutan Salemba cabang Kejaksaan Negeri Jakarta Selatan (Jaksel). Dalam kasus ini, Kejagung turut menetapkan satu orang tersangka lain yang juga langsung ditahan.

Disarikan dari: <https://www.detik.com/bali/hukum-dan-kriminal/d-7612916/tom-lembong-tersangka-korupsi-impor-gula-langsung-ditahan-di-rutan-salemba>



Foto: Tom Lembong ditahan Kejagung di kasus korupsi impor gula (Screenshot YouTube Kejagung)

Dari cuplikan berita tersebut, Berikan tanggapan dari kasus korupsi tersebut? Apakah kasus korupsi tersebut memengaruhi kehidupan mereka? Menjadi lebih baik atau merugikan hidup mereka?



BENTUK MOBILITAS SOSIAL (1)



MOBILITAS VERTIKAL

Perpindahan seseorang atau kelompok dari suatu kedudukan sosial ke kedudukan sosial lain yang tidak sederajat, baik pindah ke tingkat yang lebih tinggi (*social climbing*) maupun turun ke tingkat lebih rendah (*social sinking*).

MOBILITAS VERTIKAL KE ATAS (SOCIAL CLIMBING)

Mobilitas terjadi karena peningkatan status atau kedudukan seseorang berstatus sosial rendah ke status sosial yang lebih tinggi. Seorang karyawan yang karena prestasinya dinilai baik kemudian berhasil menduduki sebagai kepala bagian, manajer, bahkan direktur suatu perusahaan. Bentuk *social climbing* lain terbentuknya suatu kelompok baru yang lebih tinggi daripada lapisan sosial yang sudah ada.

MOBILITAS VERTIKAL KE BAWAH (SOCIAL SINKING)

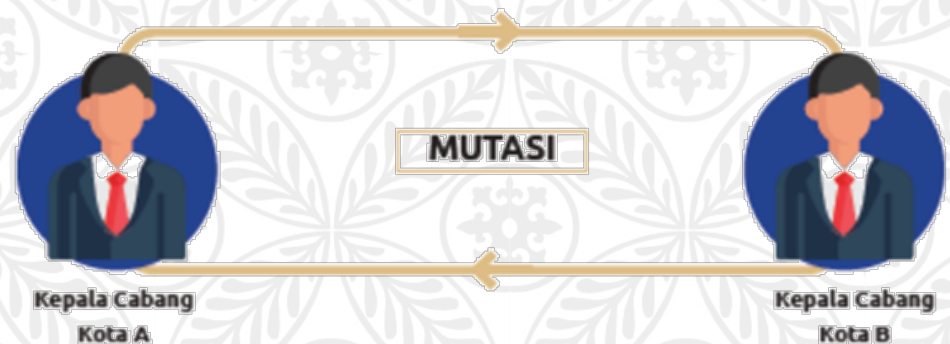
Proses penurunan status/kedudukan seseorang dan sering menimbulkan gejolak kejiwaan bagi seseorang karena ada perubahan pada hak dan kewajibannya.



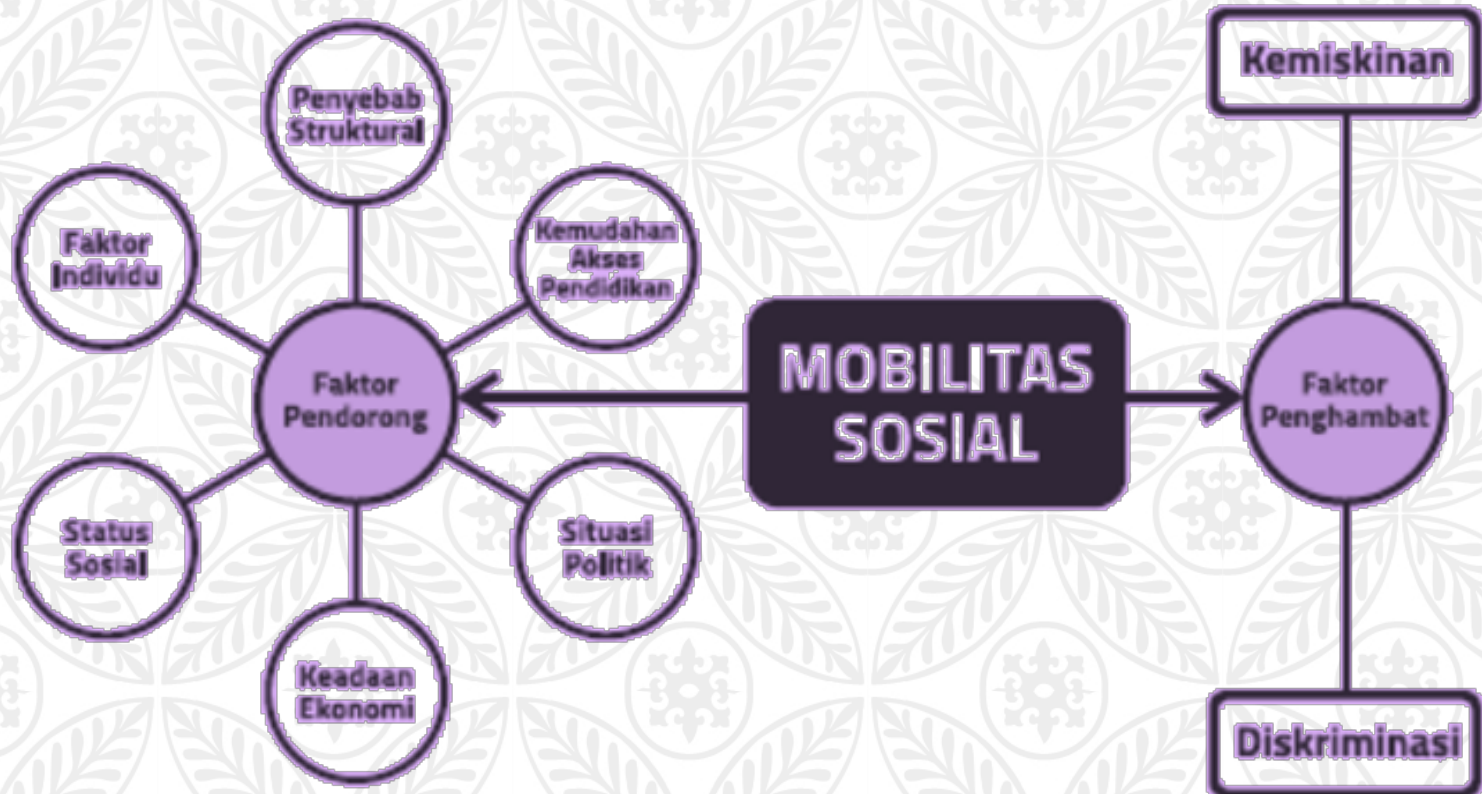
BENTUK MOBILITAS SOSIAL (2)

MOBILITAS HOIZONTAL

Perpindahan status sosial seseorang atau sekelompok orang dalam lapisan sosial yang sama. Peralihan individu/objek-objek sosial lainnya dari suatu kelompok sosial ke kelompok sosial lainnya yang sederajat. Tidak terjadi perubahan derajat kedudukan seseorang.



PENDORONG & PENGHAMBAT MOBILITAS SOSIAL



SALURAN- SALURAN MOBILITAS SOSIAL (1)

PENDIDIKAN

Saluran untuk mobilitas vertikal yang sering digunakan, karena melalui pendidikan orang dapat mengubah statusnya. Lembaga-lembaga pendidikan umumnya saluran yang konkret dari mobilitas vertikal ke atas, bahkan dianggap sebagai *social elevator (perangkat) yang bergerak dari kedudukan yang rendah ke kedudukan yang lebih tinggi.*

ORGANISASI POLITIK

Banyak orang yang meniti perjuangan karir di organisasi politik dari tingkat rendah sampai tingkat tinggi. Organisasi politik memungkinkan seseorang untuk meningkatkan status dalam kehidupannya.



SALURAN- SALURAN MOBILITAS SOSIAL (2)

ORGANISASI EKONOMI

Organisasi yang bergerak dalam bidang perusahaan maupun jasa umumnya memberikan kesempatan seluas-luasnya bagi seseorang untuk mencapai mobilitas vertikal. Organisasi ekonomi misalnya koperasi dan badan usaha. Tujuan Koperasi untuk menyejahterakan anggotanya.

ORGANISASI PROFESI

Organisasi profesi lainnya dapat menjadi saluran mobilitas vertikal, contoh: Persatuan Guru Republik Indonesia (PGRI), Ikatan Dokter Indonesia (IDI), Himpunan Pengusaha Muda Indonesia (HIPMI), dan sebagainya. Organisasi profesi sebagai himpunan orang-orang yang memiliki profesi sama, sehingga lebih kuat memperjuangkan profesinya. PGRI selain memperjuangkan pendidikan di Indonesia, juga memperjuangkan peningkatan kesejahteraan guru.



Gambar 2.15 Logo beberapa organisasi profesi di Indonesia



ASESMEN 8.10.7

IDENTIFIKASI

Identifikasikan contoh real saluran mobilitas sosial dari sebuah perjalanan seseorang untuk mencapai sebuah kesuksesan melalui berbagai saluran-saluran tersebut! Tulis pada tabel.

NO	SALURAN MOBILITAS	CONTOH REAL
1.	Organisasi politik
2.	Organisasi profesi
3.	Organisasi ekonomi
4.	Pendidikan	



DAMPAK MOBILITAS SOSIAL

Mendorong Seseorang untuk lebih maju

Terbukanya kesempatan berpindah dari strata ke strata lain memotivasi seseorang untuk maju berprestasi agar memperoleh status yang lebih tinggi.

Mempercepat Tingkat Perubahan Sosial

Mempercepat tingkat perubahan sosial masyarakat ke arah yang lebih baik. Contoh: Indonesia yang sedang mengalami perubahan dari masyarakat agraris ke masyarakat industri. Perubahan akan lebih cepat terjadi jika didukung oleh sumber daya berkualitas dan didukung dengan peningkatan bidang pendidikan.

Meningkatkan Integrasi Sosial

Misalnya, ia akan menyesuaikan diri dengan gaya hidup, nilai, dan norma yang dianut oleh kelompok orang dengan status sosial yang baru.



ASESMEN 8.10.8

RUANG KOLABORASI: MENULIS JURNAL BIOGRAFI

1. Bentuk kelompok beranggotakan 3-4 orang
2. Membaca biografi tokoh nasional ataupun internasional di perpustakaan sekolah.
3. Tuliskan informasi-informasi dalam jurnal laporan biografi
4. Susunlah hasil tulisanmu ke dalam presentasi *untuk dipresentasikan*.
5. Gunakan pertanyaan ini untuk memandu penulisan jurnalmu (perhatikan format jurnal pada panduan penilaian harian IPS).
 - Biografi dari tokoh siapa yang sudah dibaca?
 - Bagaimana proses tokoh tersebut menuju kesuksesan?
 - Jelaskan secara singkat perjalanan tokoh tersebut, apakah selalu berhasil atau pernah mengalami kegagalan!
 - Bagaimana hambatan dan tantangan yang dihadapi tokoh tersebut sehingga mencapai kesuksesan?



ASESMEN 8.10.9

LITERASI: MENGANALISIS BACAAN (1)

BAGAIMANA USAHA YANG DILAKUKAN OLEH ALWI DALAM MERAIH SEMUA KESUKSESAN?

Sudah tidak asing lagi dengan nama Alwiansyah, atau yang lebih dikenal dengan Alwi. Bocah yang menjadi viral karena suara merdu dan ekspresi lucu saat menyanyi. **Bagaimana usaha yang dilakukan oleh anak tersebut dalam meraih semua kesuksesan?** Usaha yang dilakukan oleh Alwi dalam meraih kesuksesan, Alwi tinggal bersama Posan Tobing, mantan drummer Kotak, yang berencana untuk membantu Alwi terjun di industri musik dan hiburan Indonesia. Alwi sering diundang menjadi bintang tamu di berbagai acara televisi dan konten YouTube artis.

Alwi memboyong keluarganya dari kampung halaman di Kolaka, Sulawesi Tenggara, ke Jakarta untuk mengikuti kesibukannya sebagai penyanyi. Alwi memiliki cita-cita untuk membahagiakan orangtuanya dengan memberikan umrah, kasur empuk, rumah yang lebih baik, motor, atau mobil. Alwi juga terus mengasah bakat menyanyinya dan pernah duet dengan Rhoma Irama.



ASESMEN 8.10.9

LITERASI: MENGANALISIS BACAAN (2)

Berikan tanggapan dari cuplikan berita tersebut.

- Mengapa anak tersebut viral?
- Bagaimana usaha yang dilakukan oleh anak tersebut dalam meraih semua kesuksesan?
- Bagaimana peranan media sebagai saluran mobilitas sosial untuk mencapai kesuksesan?
- Inspirasi apa yang ditemukan pada berita tersebut?



DEMONSTRASI KONTEKSTUAL [RUANG UNJUK KARYA II] [50']



Kesimpulan, Refleksi, Penutup [10']

Setelah mempelajari materi **Mobilitas Sosial**

- Kesimpulan apa yang dapat diambil dari materi tersebut?
- Pengetahuan apa saja yang telah diperoleh?
- Sikap apa yang dapat kamu kembangkan dalam hal keragaman aktivitas masyarakat?
- Apa yang akan kalian lakukan di masa mendatang untuk meningkatkan status sosialmu ?
- Ungkapkan rasa syukurmu akan kebaikan Tuhan, pada dinamika penduduk di Indonesia yang kaya akan pengetahuan dan dapat memotivasimu untuk bertumbuh dalam mobilitas sosial yang lebih baik di masa depan.



SEE
YOU
SOON

Anak pengusaha pergi ke goa
Sambil membawa sebuah bata
Selalu berusaha dan iringi doa
Masa depan seindah permata

KELAS DIGITAL IPS SMPN 285

Tetap **SEMANGAT**, Raih **PRESTASI**,
Namun Tetap **RENDAH HATI!**

SOCIAL STUDIES DIGITAL CLASS

2026 © Guru IPS SMPN 285 Jakarta
<www.guruipssmpn285jkt.online>