

TNPSC COMBINED

**SINGLE FEE
MULTIPLE EXAMS**

₹19,999

**ADMISSION OPEN
JOIN NOW**



DIRECT CLASS



ONLINE CLASS

Available



Time Tracker



Audio Study Materials



Easy EMI



Speed Maths



Book Set Materials - Count

+91 8939 144 344 | +91 8939 244 344



We Shine Academy

guiding you to get through

TNPSC | TNUSRB | RRB | SSC | BANK EXAM

SINCE 2013

The logo is a circular emblem with an orange border. Inside the border, the text 'SINCE 2013' is at the top, 'Weshine Academy' is in the middle, and 'Guiding you to get through' is at the bottom. The outer ring contains the text 'CSC | TNUSRB | TRB | TET | SSC | BANK EXAM'. The word 'MATHS' is written in large, bold, blue capital letters across the center of the logo.

MATHS

In a theatre, there are 20 seats in the front row and 30 rows were allotted. Each successive row contains two additional seats than its front row. How many seats are there in the last row?

ஒரு சினிமா அரங்கின் முதல் வரிசையில் 20 இருக்கைகளும் மொத்தம் 30 வரிசைகளும் உள்ளன. அடுத்தடுத்த ஒவ்வொரு வரிசையிலும் அதற்கு முந்தைய வரிசையை விட இரண்டு இருக்கைகள் கூடுதலாக உள்ளன. கடைசி வரிசையில் எத்தனை இருக்கைகள் இருக்கும்?



In a theatre, there are 20 seats in the front row and 30 rows were allotted. Each successive row contains two additional seats than its front row. How many seats are there in the last row?

ஒரு சினிமா அரங்கின் முதல் வரிசையில் 20 இருக்கைகளும் மொத்தம் 30 வரிசைகளும் உள்ளன. அடுத்தடுத்த ஒவ்வொரு வரிசையிலும் அதற்கு முந்தைய வரிசையை விட இரண்டு இருக்கைகள் கூடுதலாக உள்ளன. கடைசி வரிசையில் எத்தனை இருக்கைகள் இருக்கும்?

- (A) 76
(C) 80

- ~~(B) 78~~
(D) 82

If $1^3 + 2^3 + 3^3 + \dots + n^3 = 8281$, then find $1 + 2 + 3 + \dots + n$.

$1^3 + 2^3 + 3^3 + \dots + n^3 = 8281$ எனில் $1 + 2 + 3 + \dots + n$ இன் மதிப்பு காண்க.



If $1^3 + 2^3 + 3^3 + \dots + n^3 = 8281$, then find $1 + 2 + 3 + \dots + n$.

$1^3 + 2^3 + 3^3 + \dots + n^3 = 8281$ எனில் $1 + 2 + 3 + \dots + n$ இன் மதிப்பு காண்க.

~~(A)~~ 91

(B) 81

(C) 901

(D) 93



Find the next term in the below Alpha Numeric Series.

கீழே கொடுக்கப்பட்டுள்ள அல்ஃபா எண்ணெழுத்து தொடரின் அடுத்து வரும் உறுப்பைக் காண்க.

Z1A, X2D, V6G, T21J, R88M, P445P, ?



Find the next term in the below Alpha Numeric Series.

கீழே கொடுக்கப்பட்டுள்ள அல்ஃபா எண்ணெழுத்து தொடரின் அடுத்து வரும் உறுப்பைக் காண்க.

Z1A, X2D, V6G, T21J, R88M, P445P, ?

~~(A)~~ N 2676 S

(B) N 2676 T

(C) T 2670 N

(D) T 2676 N

J2Z, K4X, I7V, _____, H16R, M22P Find the missing term
J2Z, K4X, I7V, _____, H16R, M22P விடுபட்டவையைக் காண்க.



J2Z, K4X, I7V, _____, H16R, M22P Find the missing term
J2Z, K4X, I7V, _____, H16R, M22P விடுபட்டவையைக் காண்க.

(A) I 11 T

(B) L 11 S

(C) L 12 T

~~(D) L 11 T~~



Two unbiased dice are rolled once. How many possible outcomes for getting a doublet (equal numbers on both dice)

இரண்டு சீரான பகடைகள் முறையாக ஒரே நேரத்தில் உருட்டப்படுகின்றன. இரண்டு பகடைகளிலும் ஒரே முகமதிப்பு கிடைக்கும் வாய்ப்புகள் எத்தனை?



Two unbiased dice are rolled once. How many possible outcomes for getting a doublet (equal numbers on both dice)

இரண்டு சீரான பகடைகள் முறையாக ஒரே நேரத்தில் உருட்டப்படுகின்றன. இரண்டு பகடைகளிலும் ஒரே முகமதிப்பு கிடைக்கும் வாய்ப்புகள் எத்தனை?

- ~~(A)~~ 6
(C) 36

- (B) 12
(D) 18



In a March past, seven persons are standing in a row. Q is standing left to R but right to P. O is standing right to N and left to P. Similarly, S is standing right to R and left to T. Find out who is standing in the middle?

ஓர் அணிவகுப்பில் ஒரு வரிசையில் 7 பேர் நிற்கிறார்கள். Q ஆனவர் R க்கு இடப்புறமாகவும் P க்கு வலப்புறமாகவும் நிற்கிறார். O ஆனவர் N க்கு வலப்புறமாகவும் P க்கு இடப்புறமாகவும் நிற்கிறார். இவ்வாறே S ஆனவர் R க்கு வலப்புறமாகவும் T க்கு இடப்புறமாகவும் நிற்கிறார். அந்த வரிசையின் நடுவில் நிற்பவர் யார்?



In a March past, seven persons are standing in a row. Q is standing left to R but right to P. O is standing right to N and left to P. Similarly, S is standing right to R and left to T. Find out who is standing in the middle?

ஓர் அணிவகுப்பில் ஒரு வரிசையில் 7 பேர் நிற்கிறார்கள். Q ஆனவர் R க்கு இடப்புறமாகவும் P க்கு வலப்புறமாகவும் நிற்கிறார். O ஆனவர் N க்கு வலப்புறமாகவும் P க்கு இடப்புறமாகவும் நிற்கிறார். இவ்வாறே S ஆனவர் R க்கு வலப்புறமாகவும் T க்கு இடப்புறமாகவும் நிற்கிறார். அந்த வரிசையின் நடுவில் நிற்பவர் யார்?

(A) P

~~(B) Q~~

(C) R

(D) O

A can do a piece of work in 12 hours, B and C can do it 3 hours whereas A and C can do it in 6 hours. How long will B alone take to do the same work?

A என்பவர் ஒரு வேலையை 12 மணி நேரத்தில் முடிப்பார். B மற்றும் C அந்த வேலையை 3 மணி நேரத்திலும், A மற்றும் C அந்த வேலையை 6 மணிநேரத்திலும் செய்து முடிப்பார். அதே வேலையை B தனியே எவ்வளவு மணி நேரத்தில் முடிப்பார்?



A can do a piece of work in 12 hours, B and C can do it 3 hours whereas A and C can do it in 6 hours. How long will B alone take to do the same work?

A என்பவர் ஒரு வேலையை 12 மணி நேரத்தில் முடிப்பார். B மற்றும் C அந்த வேலையை 3 மணி நேரத்திலும், A மற்றும் C அந்த வேலையை 6 மணிநேரத்திலும் செய்து முடிப்பார். அதே வேலையை B தனியே எவ்வளவு மணி நேரத்தில் முடிப்பார்?

(A) 6 hours

6 மணி நேரத்தில்

(B) 12 hours

12 மணி நேரத்தில்

~~(C)~~ 4 hours

4 மணி நேரத்தில்

(D) 10 hours

10 மணி நேரத்தில்

10 Farmers can plough a field in 21 days. Find the number of days reduced if 14 farmers ploughed the same field?

10 விவசாயிகள் 21 நாட்களில், ஒரு நிலத்தை உழுது முடிக்கிறார்கள் எனில் அதே நிலத்தை 14 விவசாயிகள் எத்தனை நாட்கள் முன்னதாக உழுது முடிப்பர்?



10 Farmers can plough a field in 21 days. Find the number of days reduced if 14 farmers ploughed the same field?

10 விவசாயிகள் 21 நாட்களில், ஒரு நிலத்தை உழுது முடிக்கிறார்கள் எனில் அதே நிலத்தை 14 விவசாயிகள் எத்தனை நாட்கள் முன்னதாக உழுது முடிப்பர்?

~~(A)~~ 6

(B) 7

(C) 8

(D) 9



The total surface area of a hemi-sphere is how much times the square of its radius?

ஓர் அரைக் கோளத்தின் மொத்தப்பரப்பு அதன் ஆரத்தினுடைய வர்க்கத்தின் _____ மடங்காகும்.



The total surface area of a hemi-sphere is how much times the square of its radius?

ஓர் அரைக் கோளத்தின் மொத்தப்பரப்பு அதன் ஆரத்தினுடைய வர்க்கத்தின் மடங்காகும்.

(A) π

(B) 4π

~~(C)~~ 3π

(D) 2π

If the radius of the base of a cone tripled and the height is doubled, then the volume of the cone increases

ஒரு கூம்பின் அடிப்புற ஆரம் மும்மடங்காகவும் அதன் உயரம் இரண்டு மடங்காகவும் மாறினால் அதன் கன அளவு _____ மடங்காக மாறும்.



If the radius of the base of a cone tripled and the height is doubled, then the volume of the cone increases

ஒரு கூம்பின் அடிப்புற ஆரம் மும்மடங்காகவும் அதன் உயரம் இரண்டு மடங்காகவும் மாறினால் அதன் கன அளவு _____ மடங்காக மாறும்.

(A) 6 times

6 மடங்கு

(B) 12 times

12 மடங்கு

~~(C)~~ 18 times

18 மடங்கு

(D) 24 times

24 மடங்கு



SINCE 2013
We Shine Academy®
 guiding you to get through
 ISO 9001-2015 Certified Educational Institution

**உங்களின்
 அரசு வேலை
 கனவிற்கான முதற்படியை
 இன்றே தொடங்குங்கள்!***

*Guaranteed Central or State Government jobs
 within 6 months of course completion

**TNPSC
 GROUP I
 23rd
 RANK**

Our Central and State
GOVERNMENT OFFICERS
 TNPSC | TNUSRB | TET | SSC | BANK EXAM

 Illakiya	 Suganya	 Alshwarya	 Kesavan K	 Mayuri Priya	 M Esther Angeline	 Shankarl	 Nantha kumar	 K Anu Priya
 Sakthi	 MadhuMathi	 Sri Ganesh	 Subanya S	 Kingsley J	 Arul Mozhi	 J Jeya	 M Umapathy	 P Balaji
 Dharani K	 Alex Pandian	 Kavitha	 Vishnu Priya	 Nisha	 Kalaiselvi	 Bala Vignesh Raj	 Muthu Selvi C	 Karthick
 Suresh	 B Jeenath	 by Joint Commissioner			 Kishore	 K Revathy	 Sankaragomathy S	
 M Pandiyarajan	 S Thanga Mani				 D Parthiban	 M Mahindravarman	 Michael Priyanka	
 Wasin N	 Sundar Rajan	 Interview Panel Members			 Rajasekar	 Vimala	 Lashmanan	

* Terms and conditions apply



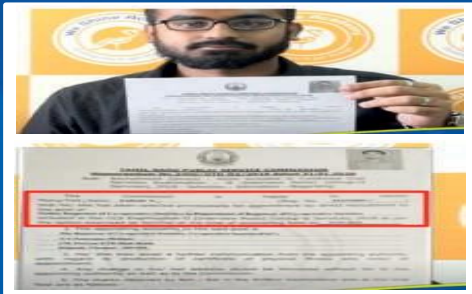
OUR GOVERNMENT OFFICERS

K. THANGA MEENA DEVI

இந்து சமய அறநிலையத் துறை,
உதவியாளர் பணி



STUDENTS WITH APPOINTMENT ORDER



CONGRATULATIONS
ON SUCCESSFULLY GETTING PLACED IN



Angaleswaran
Sub Inspector



Barkavi. K
Educational Dept.



Anandhalakshmi J
IBPS RRB clerk



Sankara Gomathy.S
Village
Administrative Officer



Jeeva. R
Chennai High court



Harisankar K
Police Contable



Vinoth
District Court



Adityan
Agriculture Dept.

Our Central and State GOVERNMENT OFFICERS



Thennarasu
TNUSRB Police



Sangeetha
TNPSC GROUP II
Exam Cleared



Aathithyan G
TNPSC Exam
Agriculture Dept.



Kumari
SBI (PO)



Bala Kumaran V
TNPSC Exam
Agriculture Dept.



Bhavya Shree R
Cleared NICL -
Prelims Exam



Kameshwaran
TNPSC GROUP II
Exam Cleared



Michael Priyanka
IBPS SCALE-II
Officer



Murali
Indian Bank



Jeyanthi
TNPSC GROUP IV



Nirmala S
Group II Interview
Post



Varun Kumar M
SSC 6D



Anjali
IBPS SO
(IT OFFICER)



Manimegalai
TNPSC
Judery
Department



Pankajavalli
TNPSC
Stenographer



Parasuraman
Sub Inspector



Abdul Rahman
SSC - MTS



Pradeepraj N
Group 2 A prelims



Aswini
SSC & BANK



Thennarasu
TNUSRB Police



Veera Perumal
TNPSC GROUP II
Exam Cleared



Sivaranjani
TNPSC GROUP II
Exam Cleared



Manimozhi
TNPSC GROUP II
Exam Cleared



Harisankar K
Police Constable



Kavitha
TNUSRB Police
Exam Cleared



B. Benazir Banu
TNUSRB Police
Exam Cleared



Aswin Kumar
Tamilnadu
Post Office



Divya
TNPSC Group II
Exam Cleared



Mathumathi P
Assistant Inspector
of Labour



Manimaran N
Sub Inspector



KAMARAJ
Sub Inspector



N. PRASHANTH



THE WESHINE JOURNEY.

Our Central and State GOVERNMENT OFFICERS



Gayathri
RBI



Aswin Kumar, S
TN Postal Dept.



Yesu Amirtham
TNPSC HIGH COURT



M.Esther Angeline
Police Constable



Madhumathi
TNPSC GROUP 1
Exam Cleared



Sabeen Banu
TNPSC HIGH COURT



D.Vignesh
Police Constable



Rahmath Nisha
Labour Dept.



GOKUL S
SSC/BANK



JAI GANESH
SSC/BANK



C.Muthu Selvi
Police Constable



SOWMEYA.S
SSC/BANK



Fahad
Social Welfare
Dept.



KIRAN KUMAR
SSC/BANK



Hari Shankar. P
LIC



Parasuraman
Police Constable



PADMA PRIYA PT
LIC



SURESH .R
LIC



P. Bharathkumar
TNUSRB SI



Naveen .D
SSC/BANK



HARI SHANKAR.P
LIC



S.Madhavan
Police Constable



Anjali .R
SSC/BANK



M. Sivasubbu
Police Constable



Also We provide internal coaching for

Trusted Partnership with



www.weshineacademy.com

8939 144 344 | 8939 244 344



SINCE 2013
We Shine Academy[®]

guiding you to get through

TNPSC | TNUSRB | TET | SSC | BANK EXAM

TNPSC GROUP-I Express TEST SERIES

Starts on:
Saturday | 07-02-2026

Features:

- ✓ 5000+ Questions
- ✓ 37 Total Tests
- ✓ 21 General Studies Tests
- ✓ 05 Revision Tests
- ✓ 11 Full-Length Mock Tests

Offline: ₹5,999/-

Online: ₹4,999/-

Offer:

We Shine Old Students -
FREE!






Teachers Recruitment Board

Perasiriyar Anbazhagan Kalvi Valagam, College Road, Chennai - 600006.

Hall Ticket for OMR Examination (Objective Type)

for the Tamil Nadu Teacher Eligibility Test, Paper - II - 2025

[Notification No. 03/2025 Dated: 11.08.2025]

விண்ணப்பதாரரின் பெயர் / Candidate's Name	SUBASHINI A	  A. Subashini
விண்ணப்பதாரரின் தேர்வு எண். / Candidate's Roll No.	25T21103570127	
விண்ணப்பதாரரின் விண்ணப்ப எண். / Candidate's Application No.	TETP2117329	
பிறந்த தேதி / Date of Birth	19-11-2002	
தந்தை / தாய் பெயர் Father / Mother Name	ANNADURAI R	
பாலினம் / Gender	FEMALE	
மாற்றுத்திறனாளி / Differently abled	NO	
சொல்வதை எழுதுபவர் / Scribe	-	
விண்ணப்பித்த மொழி / Language Applied for	Tamil	
விண்ணப்பித்த விருப்பப் பாடம் / Optional Subject for	Mathematics and Science	
விண்ணப்பதாரரின் முகவரி / Address of the Candidate:	7/128, ARUNTHATHIYAR STRRET, VANAKARANPUDUR, THATHAIYANGARPATTI (PO), NAMAkkAL, NAMAkkAL, NAMAkkAL, PIN - 637014	



Teachers Recruitment Board

Perasiriyar Anbazhagan Kalvi Valagam, College Road, Chennai - 600006.

Hall Ticket for OMR Examination (Objective Type)

for the Tamil Nadu Teacher Eligibility Test, Paper - II - 2025

[Notification No. 03/2025 Dated: 11.08.2025]

விண்ணப்பதாரரின் பெயர் / Candidate's Name	NAGAMMAL A	  A. Nagamma	
விண்ணப்பதாரரின் தேர்வு எண். / Candidate's Roll No.	25T21103820131		
விண்ணப்பதாரரின் விண்ணப்ப எண். / Candidate's Application No.	TETP2132346		
பிறந்த தேதி / Date of Birth	10-04-1990		
தந்தை / தாய் பெயர் Father / Mother Name	AYYAPPAN PILLAI SS		
பாலினம் / Gender	FEMALE		
மாற்றுத்திறனாளி / Differently abled	NO		
சொல்வதை எழுதுபவர் / Scribe	-		
விண்ணப்பித்த மொழி / Language Applied for	Tamil		
விண்ணப்பித்த விருப்பப் பாடம் / Optional Subject for	Mathematics and Science		
விண்ணப்பதாரரின் முகவரி / Address of the Candidate:	FLAT.NO:148,TNHB COLONY,TAMBARAM SANATORIUM, CHENNAI, CHENGALPATTU, PIN - 600047		
மையக் குறியீட்டுடன் தேர்வு மையம் பெயர், முகவரி மற்றும் மாவட்டம்: / Centre code, Name and Address of the Examination Centre with District:	Centre Code: 0382 District: CHENNAI GRT MAHALAKSHMI VIDYALAYA MATRIC HSS,NO-76,7TH AVENU,ASHOK NAGAR,CHENNAI 600083.		
Schedule of Examination			
Date of Exam	Reporting Time	Gate Closing Time	Examination Timings
16.11.2025	8.30 a.m.	9.30 a.m.	10.00 a.m. to 01.00 p.m. - All candidates 10.00 a.m. to 02.00 p.m. - PWD candidates



Teachers Recruitment Board

Perasiriyar Anbazhagan Kalvi Valagam, College Road, Chennai - 600006.

Hall Ticket for OMR Examination (Objective Type)
for the Tamil Nadu Teacher Eligibility Test, Paper - II - 2025
[Notification No. 03/2025 Dated: 11.08.2025]

விண்ணப்பதாரரின் பெயர் / Candidate's Name	RAM PRIYA M
விண்ணப்பதாரரின் தேர்வு எண். / Candidate's Roll No.	25T21203240436
விண்ணப்பதாரரின் விண்ணப்ப எண். / Candidate's Application No.	TETP2196836
பிறந்த தேதி / Date of Birth	04-05-1993
தந்தை / தாய் பெயர் Father / Mother Name	MUTHURAJ G
பாலினம் / Gender	FEMALE
மாற்றுத்திறனாளி / Differently abled	NO
சொல்வதை எழுதுபவர் / Scribe	-
விண்ணப்பித்த மொழி / Language Applied for	Tamil
விண்ணப்பித்த விருப்பப் பாடம் / Optional Subject for	Social Science
விண்ணப்பதாரரின் முகவரி / Address of the Candidate:	1/525, 1ST FLOOR, 1ST BLOCK, MUGAPPAIR WEST, CHENNAI, THIRUVALLUR, PIN - 600037
மையக் குறியீட்டுடன் தேர்வு மையம் பெயர், முகவரி மற்றும் மாவட்டம்: / Centre code, Name and Address of the Examination Centre with District:	Centre Code: 0324 District: CHENNAI CHENNAI GIRLS HIGHER SECONDARY SCHOOL, NO-2A, SCHOOL ROAD, M H ROAD, PERAMBUR, CHENNAI-600 011.



Muthuraj G



Schedule of Examination

Date of Exam	Reporting Time	Gate Closing Time	Examination Timings
16.11.2025	8.30 a.m.	9.30 a.m.	10.00 a.m. to 01.00 p.m. - All candidates 10.00 a.m. to 02.00 p.m. - PWD candidates



Teachers Recruitment Board

Perasiriyar Anbazhagan Kalvi Valagam, College Road, Chennai - 600006.

Hall Ticket for OMR Examination (Objective Type)
for the Tamil Nadu Teacher Eligibility Test, Paper - II - 2025
[Notification No. 03/2025 Dated: 11.08.2025]

விண்ணப்பதாரரின் பெயர் / Candidate's Name	GOWTHAMI S
விண்ணப்பதாரரின் தேர்வு எண். / Candidate's Roll No.	25T21133240072
விண்ணப்பதாரரின் விண்ணப்ப எண். / Candidate's Application No.	TETP2037725
பிறந்த தேதி / Date of Birth	16-05-1990
தந்தை / தாய் பெயர் Father / Mother Name	SOUNDARAJAN P
பாலினம் / Gender	FEMALE
மாற்றுத்திறனாளி / Differently abled	NO
சொல்வதை எழுதுபவர் / Scribe	-
விண்ணப்பித்த மொழி / Language Applied for	Tamil
விண்ணப்பித்த விருப்பப் பாடம் / Optional Subject for	Mathematics and Science
விண்ணப்பதாரரின் முகவரி / Address of the Candidate:	NO 268, NACHARKUPPAM, NACHARKUPPAM POST, TIRUPATHUR, TIRUPATHUR, PIN - 635710
மையக் குறியீட்டுடன் தேர்வு மையம் பெயர், முகவரி மற்றும் மாவட்டம்: / Centre code, Name and Address of the Examination Centre with District:	Centre Code: 3324 District: TIRUPATTUR MARY IMMACULATE GIRLS HR SEC SCHOOL TIRUPATTUR LONDON MISSION ROAD, TIRUPATTUR-635601



S. Gowthami





Teachers Recruitment Board

Perasiriyar Anbazhagan Kalvi Valagam, College Road, Chennai - 600006.

Hall Ticket for OMR Examination (Objective Type)
for the Tamil Nadu Teacher Eligibility Test, Paper – II - 2025
[Notification No. 03/2025 Dated: 11.08.2025]

விண்ணப்பதாரரின் பெயர் / Candidate's Name	PRABHA K
விண்ணப்பதாரரின் தேர்வு எண். / Candidate's Roll No.	25T21102160228
விண்ணப்பதாரரின் விண்ணப்ப எண். / Candidate's Application No.	TETP2077164
பிறந்த தேதி / Date of Birth	24-01-1988
தந்தை / தாய் பெயர் Father / Mother Name	KUMANAN C
பாலினம் / Gender	FEMALE
மாற்றுத்திறனாளி / Differently abled	NO
சொல்வதை எழுதுபவர் / Scribe	.
விண்ணப்பித்த மொழி / Language Applied for	Tamil
விண்ணப்பித்த விருப்பப் பாடம் / Optional Subject for	Mathematics and Science
விண்ணப்பதாரரின் முகவரி / Address of the Candidate:	NO 24. RAMAIYA NAGAR, MEDAVAKKAM, CHENNAI, KANCHEEPURAM, PIN - 600100



U. Prabha



Teachers Recruitment Board

Perasiriyar Anbazhagan Kalvi Valagam, College Road, Chennai - 600006.

Hall Ticket for OMR Examination (Objective Type)
for the Tamil Nadu Teacher Eligibility Test, Paper – II - 2025
[Notification No. 03/2025 Dated: 11.08.2025]

விண்ணப்பதாரரின் பெயர் / Candidate's Name	SHIVASANKARI S
விண்ணப்பதாரரின் தேர்வு எண். / Candidate's Roll No.	25T21138190024
விண்ணப்பதாரரின் விண்ணப்ப எண். / Candidate's Application No.	TETP2045008
பிறந்த தேதி / Date of Birth	18-08-1997
தந்தை / தாய் பெயர் Father / Mother Name	SIVANU M
பாலினம் / Gender	FEMALE
மாற்றுத்திறனாளி / Differently abled	NO
சொல்வதை எழுதுபவர் / Scribe	.
விண்ணப்பித்த மொழி / Language Applied for	Tamil
விண்ணப்பித்த விருப்பப் பாடம் / Optional Subject for	Mathematics and Science
விண்ணப்பதாரரின் முகவரி / Address of the Candidate:	1/884, PALANI ANDAVAR NAGAR, DHARAPURAM ROAD, K.CHETTIPALAYAM, TIRUPPUR, TIRUPPUR, PIN - 641604
மையக் குறியீட்டுடன் தேர்வு மையம் பெயர், முகவரி மற்றும் மையக் குறியீட்டுடன் தேர்வு மையம் பெயர், முகவரி மற்றும் District code, Name and Address of the Examination Centre with District:	Centre Code: 3819 District: VIRUDHUNAGAR CSI GIRLS HR SEC SCHOOL, CSI CHURCH COMPOUND, MADURAI MAINROAD, ARUPPUKOTTAI-626101



S. S. Sankari



Schedule of Examination

Date of Exam	Reporting Time	Gate Closing Time	Examination Timings
16.11.2025	8.30 a.m.	9.30 a.m.	10.00 a.m. to 01.00 p.m. – All candidates 10.00 a.m. to 02.00 p.m. – PWD candidates

PLEASE READ THE FOLLOWING IMPORTANT INSTRUCTIONS CAREFULLY

- Candidates should download their Hall Ticket through online only as no separate physical copy of this Hall Ticket will be dispatched.
- Candidates should check their Hall Ticket for the information furnished therein and in case of any discrepancy, it should be immediately reported to the TRB, Chennai for necessary action.
- The candidates appearing for the examination in their own interest, should check their eligibility in all respects to avoid disappointment if any at later stage and their candidature for this examination is "PURELY PROVISIONAL".
- Please note that this Hall Ticket does not constitute any offer of employment.
- NO REQUEST FOR CHANGE OF EXAMINATION CENTRE WILL BE CONSIDERED UNDER ANY CIRCUMSTANCES.
- No candidate will be allowed to enter into the Examination Hall after gate closing time 09:30 a.m. and should not leave the Examination Hall before 01:00 p.m. for all candidates and 02:00 p.m. for PWD candidates.
- The candidate must bring this Hall Ticket to the Examination Centre. No candidate will be allowed entry without this Hall Ticket.
- The candidate is also instructed to bring any one of the following Photo Identification Cards in original viz.
 - Aadhar Card
 - PAN Card



Teachers Recruitment Board

Perasiriyar Anbazhagan Kalvi Valagam, College Road, Chennai - 600006.

Hall Ticket for OMR Examination (Objective Type)
for the Tamil Nadu Teacher Eligibility Test, Paper - II - 2025
[Notification No. 03/2025 Dated: 11.08.2025]

விண்ணப்பதாரரின் பெயர் / Candidate's Name	DEEPA AM	
விண்ணப்பதாரரின் தேர்வு எண். / Candidate's Roll No.	25T21103070159	
விண்ணப்பதாரரின் விண்ணப்ப எண். / Candidate's Application No.	TETP2331329	
பிறந்த தேதி / Date of Birth	30-04-1990	
தந்தை / தாய் பெயர் Father / Mother Name	MUNUSAMY A	
பாலினம் / Gender	FEMALE	
மாற்றுத்திறனாளி / Differently abled	NO	
சொல்வதை எழுதுபவர் / Scribe	-	
விண்ணப்பித்த மொழி / Language Applied for	Tamil	
விண்ணப்பித்த விருப்பப் பாடம் / Optional Subject for	Mathematics and Science	
விண்ணப்பதாரரின் முகவரி / Address of the Candidate:	NO 67 A THULUKKANATHAMMAN KOVIL STREET BHARATHI NAGAR ZAMIN PALLAVARAM, CHENNAI, KANCHEEPURAM CHENGALPET, PIN - 600043	
மையக் குறியீட்டுடன் தேர்வு மையம் பெயர், முகவரி மற்றும் மாவட்டம்: / Centre code, Name and Address of the Examination Centre with District:	Centre Code: 0307 District: CHENNAI PERUNTHALAIVAR KAMARAJAR GOVERNMENT GIRLS HIGHER SECONDARY SCHOOL, NORTH PARK STREET, VENKATAPURAM .AMBATTUR, CHENNAI-600 053.	

Schedule of Examination




Date of Exam	Reporting Time	Gate Closing Time	Examination Timings
16.11.2025	8.30 a.m.	9.30 a.m.	10.00 a.m. to 01.00 p.m. - All candidates 10.00 a.m. to 02.00 p.m. - PWD candidates



Teachers Recruitment Board

Perasiriyar Anbazhagan Kalvi Valagam, College Road, Chennai - 600006.

Hall Ticket for OMR Examination (Objective Type)
for the Tamil Nadu Teacher Eligibility Test, Paper - II - 2025
[Notification No. 03/2025 Dated: 11.08.2025]

விண்ணப்பதாரரின் பெயர் / Candidate's Name	NIRUBA MAYIL V	
விண்ணப்பதாரரின் தேர்வு எண். / Candidate's Roll No.	25T21230060158	
விண்ணப்பதாரரின் விண்ணப்ப எண். / Candidate's Application No.	TETP2052064	
பிறந்த தேதி / Date of Birth	12-06-1981	
தந்தை / தாய் பெயர் Father / Mother Name	VEERAPERUMAL R	
பாலினம் / Gender	FEMALE	
மாற்றுத்திறனாளி / Differently abled	NO	
சொல்வதை எழுதுபவர் / Scribe	-	
விண்ணப்பித்த மொழி / Language Applied for	Tamil	
விண்ணப்பித்த விருப்பப் பாடம் / Optional Subject for	Social Science	
விண்ணப்பதாரரின் முகவரி / Address of the Candidate:	5/90 MIDDLE STREET SRI MOOLAKARAI SRIVAIKUNDAM TALUK, THOOTHUKUDI, THOOTHUKUDI, PIN - 628620	



Hall Ticket for OMR Examination (Objective Type)

for the Tamil Nadu Teacher Eligibility Test, Paper - II - 2025

[Notification No. 03/2025 Dated: 11.08.2025]

விண்ணப்பதாரரின் பெயர் / Candidate's Name	SANGEETHA R
விண்ணப்பதாரரின் தேர்வு எண். / Candidate's Roll No.	25T21127200028
விண்ணப்பதாரரின் விண்ணப்ப எண். / Candidate's Application No.	TETP2051771
பிறந்த தேதி / Date of Birth	01-07-1982
தாய் பெயர் / Mother Name	RAJA B
பாலினம் / Gender	FEMALE
பிற்பாடு உள்ளாள் / Differently abled	NO
எழுதுபவர் / Scribe	
பின்பிடித்த மொழி / Language Applied for	Tamil
பின்பிடித்த விருப்பப் பாடம் / Optional Subject for	Social Science
விண்ணப்பதாரரின் முகவரி / Address of the Candidate:	24/1 KANCHIPURAM HIGH ROAD , NO 65 PALUR VILLAGE AND POST, PALUR, CHENGALPATTU, PIN - 603101
மையக் குறியீட்டுடன் தேர்வு மையம் பெயர், முகவரி மற்றும் மாவட்டம்: / Centre code, Name and Address of the Examination Centre with District:	Centre Code: 0207 District: CHENGALPATTU GOVT GIRLS HR SEC SCHOOL, ORAGADAM SALAI(OPPOSITE TO TALUK OFFICE) THIRUKALUKUNDRAM, CHENGALPATTU DIST -603109



Teachers Recruitment Board

Perasiriyar Anbazhagan Kalvi Valagam, College Road, Chennai - 600006.

Hall Ticket for OMR Examination (Objective Type)

for the Tamil Nadu Teacher Eligibility Test, Paper - II - 2025

[Notification No. 03/2025 Dated: 11.08.2025]

விண்ணப்பதாரரின் பெயர் / Candidate's Name	LAKSHMI R
விண்ணப்பதாரரின் தேர்வு எண். / Candidate's Roll No.	25T21202070216
விண்ணப்பதாரரின் விண்ணப்ப எண். / Candidate's Application No.	TETP2145208
பிறந்த தேதி / Date of Birth	18-05-1985
தந்தை / தாய் பெயர் / Father / Mother Name	RASPAL P
பாலினம் / Gender	FEMALE
மாற்றுத்திறனாளி / Differently abled	NO
சொல்வதை எழுதுபவர் / Scribe	-
பின்பிடித்த மொழி / Language Applied for	Tamil
பின்பிடித்த விருப்பப் பாடம் / Optional Subject for	Social Science
விண்ணப்பதாரரின் முகவரி / Address of the Candidate:	24/1 KANCHIPURAM HIGH ROAD , NO 65 PALUR VILLAGE AND POST, PALUR, CHENGALPATTU, PIN - 603101
மையக் குறியீட்டுடன் தேர்வு மையம் பெயர், முகவரி மற்றும் மாவட்டம்: / Centre code, Name and Address of the Examination Centre with District:	Centre Code: 0207 District: CHENGALPATTU GOVT GIRLS HR SEC SCHOOL, ORAGADAM SALAI(OPPOSITE TO TALUK OFFICE) THIRUKALUKUNDRAM, CHENGALPATTU DIST -603109



L. Lakshmi





Teachers Recruitment Board

Perasiriyar Anbazhagan Kalvi Valagam, College Road, Chennai - 600006.

Hall Ticket for OMR Examination (Objective Type)
for the Tamil Nadu Teacher Eligibility Test, Paper - II - 2025
[Notification No. 03/2025 Dated: 11.08.2025]

விண்ணப்பதாரரின் பெயர் / Candidate's Name	DEEPA AM	
விண்ணப்பதாரரின் தேர்வு எண். / Candidate's Roll No.	25T21103070159	
விண்ணப்பதாரரின் விண்ணப்ப எண். / Candidate's Application No.	TETP2331329	
பிறந்த தேதி / Date of Birth	30-04-1990	
தந்தை / தாய் பெயர் Father / Mother Name	MUNUSAMY A	
பாலினம் / Gender	FEMALE	
மாற்றுத்திறனாளி / Differently abled	NO	
சொல்வதை எழுதுபவர் / Scribe	-	
விண்ணப்பித்த மொழி / Language Applied for	Tamil	
விண்ணப்பித்த விருப்பப் பாடம் / Optional Subject for	Mathematics and Science	
விண்ணப்பதாரரின் முகவரி / Address of the Candidate:	NO 67 A THULUKKANATHAMMAN KOVIL STREET BHARATHI NAGAR ZAMIN PALLAVARAM, CHENNAI, KANCHEEPURAM CHENGALPET, PIN - 600043	
மையக் குறியீட்டுடன் தேர்வு மையம் பெயர், முகவரி மற்றும் மாவட்டம்: / Centre code, Name and Address of the Examination Centre with District:	Centre Code: 0307 District: CHENNAI PERUNTHALAIVAR KAMARAJAR GOVERNMENT GIRLS HIGHER SECONDARY SCHOOL,NORTH PARK STREET, VENKATAPURAM .AMBATTUR,CHENNAI-600 053.	

Schedule of Examination

Date of Exam	Reporting Time	Gate Closing Time	Examination Timings
16.11.2025	8.30 a.m.	9.30 a.m.	10.00 a.m. to 01.00 p.m. - All candidates 10.00 a.m. to 02.00 p.m. - PWD candidates



Teachers Recruitment Board

Perasiriyar Anbazhagan Kalvi Valagam, College Road, Chennai - 600006.

Hall Ticket for OMR Examination (Objective Type)
for the Tamil Nadu Teacher Eligibility Test, Paper - II - 2025
[Notification No. 03/2025 Dated: 11.08.2025]

விண்ணப்பதாரரின் பெயர் / Candidate's Name	NIRUBA MAYIL V	
விண்ணப்பதாரரின் தேர்வு எண். / Candidate's Roll No.	25T21230060158	
விண்ணப்பதாரரின் விண்ணப்ப எண். / Candidate's Application No.	TETP2052064	
பிறந்த தேதி / Date of Birth	12-06-1981	
தந்தை / தாய் பெயர் Father / Mother Name	VEERAPERUMAL R	
பாலினம் / Gender	FEMALE	
மாற்றுத்திறனாளி / Differently abled	NO	
சொல்வதை எழுதுபவர் / Scribe	-	
விண்ணப்பித்த மொழி / Language Applied for	Tamil	
விண்ணப்பித்த விருப்பப் பாடம் / Optional Subject for	Social Science	
விண்ணப்பதாரரின் முகவரி / Address of the Candidate:	5/90 MIDDLE STREET SRI MOOLAKARAI SRIVAIKUNDAM TALUK, THOOTHUKUDI, THOOTHUKUDI, PIN - 628620	

The compound interest on ₹ 20,000 at 15% per annum for $2\frac{1}{3}$ years

₹ 20,000 க்கு 15% ஆண்டு வட்டி வீதத்திற்கு $2\frac{1}{3}$ ஆண்டுகளுக்கு கூட்டு வட்டி மதிப்பு காண்.



The compound interest on ₹ 20,000 at 15% per annum for $2\frac{1}{3}$ years

₹ 20,000 க்கு 15% ஆண்டு வட்டி வீதத்திற்கு $2\frac{1}{3}$ ஆண்டுகளுக்கு கூட்டு வட்டி மதிப்பு காண்.

(A) ₹ 7272.50

(B) ₹ 7722.50

~~(C)~~ ₹ 7772.50

(D) ₹ 7777.70



A principal amounts to ₹ 2028/- in 2 years with 4% P.A. compounded annually. Then the principal is

ஓர் அசலானது 2 ஆண்டுகளில், ஆண்டுக்கு 4% கூட்டு வட்டியில் ₹ 2028/- ஆகிறது எனில், அந்த அசலானது _____ .



A principal amounts to ₹ 2028/- in 2 years with 4% P.A. compounded annually. Then the principal is

ஓர் அசலானது 2 ஆண்டுகளில், ஆண்டுக்கு 4% கூட்டு வட்டியில் ₹ 2028/- ஆகிறது எனில், அந்த அசலானது _____ .

~~(A)~~ ₹ 1875

(B) ₹ 1612

(C) ₹ 1800

(D) ₹ 1825



In how much time will the Simple Interest on ₹ 3,000 at the rate of 8% per annum be the same as simple interest on ₹ 4,000 at 12% per annum for 4 years?

₹ 3,000 அசலுக்கு ஆண்டுக்கு 8% என வழங்கப்படும். தனி வட்டியானது ₹ 4,000 அசலுக்கு ஆண்டுக்கு 12% என 4 ஆண்டுகளுக்கு வழங்கப்படும் தனி வட்டிக்கு நிகராகும் காலம் என்ன?



In how much time will the Simple Interest on ₹ 3,000 at the rate of 8% per annum be the same as simple interest on ₹ 4,000 at 12% per annum for 4 years?

₹ 3,000 அசலுக்கு ஆண்டுக்கு 8% என வழங்கப்படும். தனி வட்டியானது ₹ 4,000 அசலுக்கு ஆண்டுக்கு 12% என 4 ஆண்டுகளுக்கு வழங்கப்படும் தனி வட்டிக்கு நிகராகும் காலம் என்ன?

(A) 2 years

2 வருடங்கள்

~~(B) 8 years~~

8 வருடங்கள்

(C) 4 years

4 வருடங்கள்

(D) 6 years

6 வருடங்கள்

Basha borrowed ₹ 8,500 from a bank at a particular rate of Simple Interest. After 3 years he paid ₹ 11,050 to settle his debt. At what rate of interest he borrowed the money?

பாட்ஷா என்பவர் ஒரு வங்கியிலிருந்து ஒரு குறிப்பிட்ட தனிவட்டி வீதத்தில் ₹ 8,500 கடனாகப் பெற்றார். மூன்று ஆண்டுகள் கழித்து அவர் ₹ 11,050 ஐச் செலுத்தி கடனை அடைத்தார் எனில் வட்டி வீதம்?



Basha borrowed ₹ 8,500 from a bank at a particular rate of Simple Interest. After 3 years he paid ₹ 11,050 to settle his debt. At what rate of interest he borrowed the money?

பாட்ஷா என்பவர் ஒரு வங்கியிலிருந்து ஒரு குறிப்பிட்ட தனிவட்டி வீதத்தில் ₹ 8,500 கடனாகப் பெற்றார். மூன்று ஆண்டுகள் கழித்து அவர் ₹ 11,050 ஐச் செலுத்தி கடனை அடைத்தார் எனில் வட்டி வீதம்?

~~(A)~~ 10%

(B) 8%

(C) 11%

(D) 9%

If a principal is getting doubled after 4 years, then rate of interest is
ஓர் அசலானது 4 ஆண்டுகளில் 2 மடங்காகிறது எனில், வட்டி வீதம்



If a principal is getting doubled after 4 years, then rate of interest is
ஓர் அசலானது 4 ஆண்டுகளில் 2 மடங்காகிறது எனில், வட்டி வீதம்

(A) 10%

(B) 15%

(C) 20%

~~(D) 25%~~



x varies inversely as twice of y . Also when $y = 6$, the value of x is 4. When $y = 8$, then the value of x is

x ஆனது y ன் இருமடங்குடன் எதிர் விகிதத் தொடர்புடையது. மேலும் $y = 6$ எனில் x ன் மதிப்பு 4. $y = 8$, எனில், x ன் மதிப்பு



x varies inversely as twice of y . Also when $y = 6$, the value of x is 4. When $y = 8$, then the value of x is

x ஆனது y ன் இருமடங்குடன் எதிர் விகிதத் தொடர்புடையது. மேலும் $y = 6$ எனில் x ன் மதிப்பு 4. $y = 8$, எனில், x ன் மதிப்பு

(A) 2

~~(B) 3~~

(C) 5

(D) 6

If $4a = 5b$ and $7b = 9c$ then $a : b : c$ is

$4a = 5b$ மற்றும் $7b = 9c$ எனில் $a : b : c$



If $4a = 5b$ and $7b = 9c$ then $a : b : c$ is

$4a = 5b$ மற்றும் $7b = 9c$ எனில் $a : b : c$

(A) $28 : 36 : 45$

(B) $36 : 28 : 45$

(C) $44 : 33 : 28$

~~(D) $45 : 36 : 28$~~



If $7 : 5$ is in proportion to $x : 25$, then 'x' is _____.

$7 : 5$ ஆனது $x : 25$, க்கு விகிதச்சமம் எனில் 'x' இன் மதிப்பு காண்க.



If $7 : 5$ is in proportion to $x : 25$, then 'x' is _____.

$7 : 5$ ஆனது $x : 25$, க்கு விகிதச்சமம் எனில் 'x' இன் மதிப்பு காண்க.

(A) 27

(B) 49

~~(C)~~ 35

(D) 14



Find the largest number which divides 1230 and 1926 leaving remainder 12 in each case

1230 மற்றும் 1926 ஆகிய எண்களை வகுக்கும்போது மீதி 12 ஐத் தரக்கூடிய மிகப்பெரிய எண்ணைக் காண்க.



Find the largest number which divides 1230 and 1926 leaving remainder 12 in each case

1230 மற்றும் 1926 ஆகிய எண்களை வகுக்கும்போது மீதி 12 ஐத் தரக்கூடிய மிகப்பெரிய எண்ணைக் காண்க.

(A) 6

~~(B) 174~~

(C) 522

(D) 696



Find the LCM of $p^2 - 3p + 2$, $p^2 - 4$

மீ.சி.ம. காண்க $p^2 - 3p + 2$, $p^2 - 4$



Find the LCM of $p^2 - 3p + 2$, $p^2 - 4$

மீ.சி.ம. காண்க $p^2 - 3p + 2$, $p^2 - 4$

(A) $(P-1)$

(B) $(P-2)$

(C) $(P+2)$

~~(D)~~ $(P-1)(P-2)(P+2)$



Thank You