






TNPSC COMBINED

**SINGLE FEE
MULTIPLE EXAMS**

₹19,999

**ADMISSION OPEN
JOIN NOW**

 **DIRECT CLASS**
 **ONLINE CLASS**
Available

-  **Time Tracker**
-  **Audio Study Materials**
-  **Easy EMI**
-  **Speed Maths**
-  **Book Set Materials - 17**

+91 8939 144 344 | +91 8939 244 344



SINCE 2013
We Shine Academy
guiding you to get through

TNPSC | TNUSRB | RRB | SSC | BANK EXAM

The logo is a circular emblem with an orange border. Inside the border, the text 'SINCE 2013' is at the top, 'Weshine Academy' is in the middle, and 'Guiding you to get through' is at the bottom. The border also lists various exams: 'COSS' on the left, 'TNUSRB | TRB | TET | SSC | BANK E.' on the right, and 'Weshine Academy' at the bottom. A stylized bird icon is in the center.

Maths

எந்த கூட்டு வட்டி வீதத்தில் ₹ 5625 ஆனது 2 ஆண்டுகளில் ₹ 6084 ஆக மாறும்?
(வட்டி ஆண்டுக்கு ஒரு முறை)

At what rate percentage p.a. will Rs. 5625 amount to Rs. 6084 in 2 years at compound interest?

(A) 2 %

~~(C)~~ 4 %

(E) Answer not known
விடை தெரியவில்லை

(B) 2.08 %

(D) 4.08 %

இரு பகடைகள் உருட்டப்படும்போது கிடைக்கும் எண்களின் கூடுதல் 9 ஐ விடச் சிறியதாக இருக்க நிகழ்தகவு என்ன?

When two dice are rolled, what is the probability that the sum of the faces added up is less than 9?

(A) $\frac{13}{36}$

~~(C)~~ $\frac{13}{18}$

(E) Answer not known
விடை தெரியவில்லை

(B) $\frac{18}{36}$

(D) $\frac{12}{18}$

$4 + 1 + \frac{1}{4} + \dots + \infty$ ன் மதிப்பு

The value of $4 + 1 + \frac{1}{4} + \dots + \infty$ is



$\frac{16}{3}$

(B) $\frac{4}{3}$

(C) $\frac{32}{3}$

(D) $\frac{64}{3}$



ஒரு செவ்வக வடிவ வீட்டு மனையின் நீளம் மற்றும் அகலங்கள் முறையே 5×10^5 m மற்றும் 4×10^4 m எனில் அதன் பரப்பு காண்க.

The length and breadth of a rectangular plot are 5×10^5 and 4×10^4 metres respectively. Find the area of a rectangle.

(A) $9 \times 10^1 m^2$
 $9 \times 10^1 \text{ மீ}^2$

~~(C)~~ $2 \times 10^{10} m^2$
 $2 \times 10^{10} \text{ மீ}^2$

(B) $9 \times 10^9 m^2$
 $9 \times 10^9 \text{ மீ}^2$

(D) $20 \times 10^{20} m^2$
 $20 \times 10^{20} \text{ மீ}^2$

பின்வருவனவற்றில் கூடுதல் காண்க.

$$6 + 13 + 20 + \dots + 97$$

Find the sum of the following $6 + 13 + 20 + \dots + 97$

~~(A)~~

721

(B) 724

(C) 727

(D) 750

(E) Answer not known

விடை தெரியவில்லை

$F_1 = 1, F_2 = 3$ மற்றும் $F_n = F_{n-1} + F_{n-2}$ எனக் கொடுக்கப்படின் F_{10} ஆனது

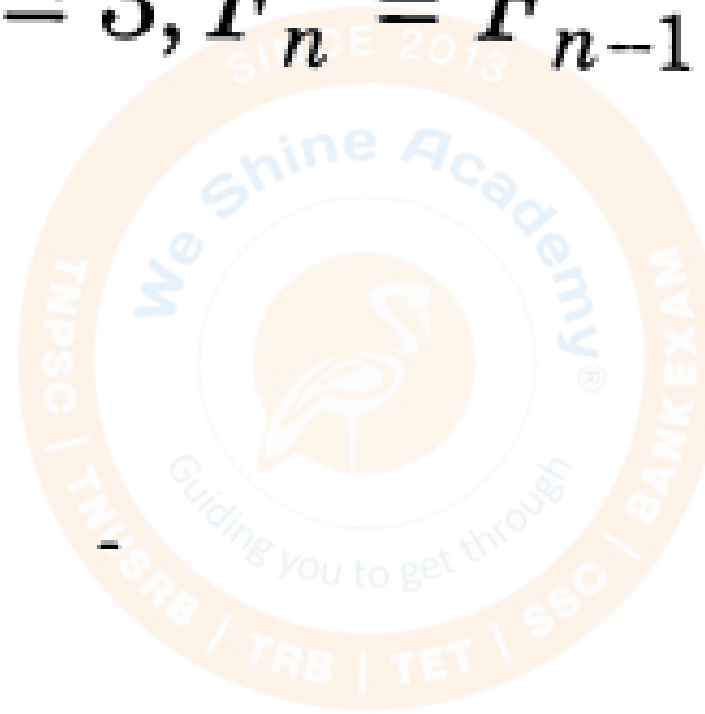
Given $F_1 = 1, F_2 = 3, F_n = F_{n-1} + F_{n-2}$ then F_{10} is

(A) 29

(C) 199

(B) 322

~~(D) 123~~



(i) Diagonals of a rhombus always bisect each other.

சாய்சதுரத்தின் மூலைவிட்டங்கள் எப்போதும் இரு சமக் கூறிடும்.

(ii) Diagonals of a rhombus always cut at right angles.

சாய்சதுரத்தின் மூலைவிட்டங்கள் எப்போதும் செங்கோணத்தில் வெட்டிக் கொள்ளும்.

~~(A)~~

(i) and (ii) both are correct

(i) மற்றும் (ii) இரண்டும் சரி

(B)

(i) is correct and (ii) is wrong

(i) சரி மற்றும் (ii) தவறு

(C)

(i) is wrong and (ii) is correct

(i) தவறு மற்றும் (ii) சரி

(D)

(i) and (ii) both are wrong

(i) மற்றும் (ii) இரண்டும் தவறு

On folding the given paper which of the following cube can not be formed?

கொடுக்கப்பட்ட காகிதத்தை மடித்தால் கீழ்க்கண்ட எந்த கனச்சதுரத்தை உருவாக்க முடியாது?

(1)



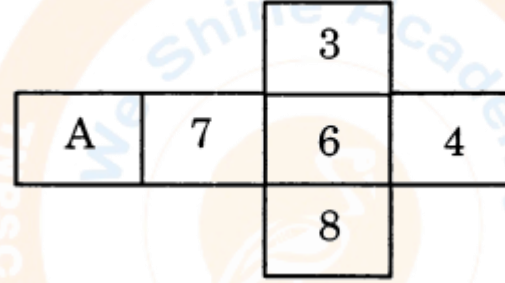
(2)



(3)



(4)

~~(A)~~

1, 2, 3 and 4

1, 2, 3 மற்றும் 4

(B)

1, 2 and 4

1, 2 மற்றும் 4

(C)

1, 2 and 3

1, 2 மற்றும் 3

(D)

1, 3 and 4

1, 3 மற்றும் 4

Kamal can do a work in 15 days. Bimal is 50% more efficient than Kamal. The number of days Bimal will take to do the same work is

கமல் ஒரு வேலையை 15 நாட்களில் செய்து முடிப்பார். பிமல், கமலை விட 50% அதிக திறமை உடையவர் எனில், அதே வேலையை பிமல் எத்தனை நாட்களில் செய்து முடிப்பார்?

- (A) 10.5 days
10.5 நாட்கள்
- (B) 15 days
15 நாட்கள்
- (C) 12 days
12 நாட்கள்
- ~~(D) 10 days
10 நாட்கள்~~

5 boys or 3 girls can do a science project in 40 days. How long will it take for 15 boys and 6 girls to do the same project?

5 மாணவர்கள் அல்லது 3 மாணவிகள் ஒரு அறிவியல் திட்டச் செயலை 40 நாட்களில் முடிப்பர். 15 மாணவர்கள் மற்றும் 6 மாணவிகள் அதே திட்டச் செயலை முடிக்க எத்தனை நாட்களாகும்?

(A) 12

(C) 10

~~(B)~~ 8

(D) 16

The radius of a cylinder is one third of its height, then the total surface area of the cylinder is

ஒரு உருளையின் ஆரம் அதன் உயரத்தில் மூன்றில் ஒரு பங்கு எனில் அதன் மொத்தப் புறப் பரப்பு

~~(A)~~ $\frac{8\pi h^2}{9}$

(C) $24\pi h^2$

(B) $\frac{9\pi h^2}{8}$

(D) $\frac{56\pi h^2}{9}$

If a quarter of circular paper of diameter 28 cm is made into a cone, find the slant height and C.S.A of the cone

28 செ.மீ விட்டமுடைய ஒரு வட்டத்தின் கால் பகுதியை ஒரு கூம்பாக வளைத்தால், கூம்பின் சாயுயரம் மற்றும் வளை பரப்பைக் காண்க

- ~~(A)~~ 14 cm, 154 cm²
14 செ.மீ, 154 செ.மீ²
- (B) 28 cm, 154 cm²
28 செ.மீ, 154 செ.மீ²
- (C) 28 cm, 308 cm²
28 செ.மீ, 308 செ.மீ²
- (D) 14 cm, 308 cm²
14 செ.மீ, 308 செ.மீ²

Find the compound interest for the data given below :

கீழே கொடுக்கப்பட்ட விவரங்களுக்குக் கூட்டு வட்டியைக் காண்க :

Principle = Rs. 5,000, $r = 4\%$ p.a., $n = 1\frac{1}{2}$ years, interest compounded half – yearly.

அசல் = ரூ. 5,000, ஆண்டு வட்டி வீதம் $r = 4\%$, $n = 1\frac{1}{2}$ ஆண்டுகள். அரையாண்டுக்கு ஒரு முறை வட்டி கணக்கிடப்படுகிறது.

(A) Rs. 306.50

ரூ. 306.50

(C) Rs. 307

ரூ. 307

(B) Rs. 310.50

ரூ. 310.50

~~(D)~~ Rs. 306.04

ரூ. 306.04



SINCE 2013
We Shine Academy®
 guiding you to get through
 ISO 9001-2015 Certified Educational Institution

**உங்களின்
 அரசு வேலை
 கனவிற்கான முதற்படியை
 இன்றே தொடங்குங்கள்!***

*Guaranteed Central or State Government jobs
 within 6 months of course completion

**TNPSC
 GROUP I
 23rd
 RANK**

Our Central and State
GOVERNMENT OFFICERS
 TNPSC | TNUSRB | TET | SSC | BANK EXAM

 Illakiya	 Suganya	 Alshwarya	 Kesavan K	 Mayuri Priya	 M Esther Angeline	 Shankarl	 Nantha kumar	 K Anu Priya
 Sakthi	 MadhuMathi	 Sri Ganesh	 Subanya S	 Kingsley J	 Arul Mozhi	 J Jeya	 M Umapathy	 P Balaji
 Dharani K	 Alex Pandian	 Kavitha	 Vishnu Priya	 Nisha	 Kalaiselvi	 Bala Vignesh Raj	 Muthu Selvi C	 Karthick
 Suresh	 B Jeenath	 by Joint Commissioner			 Kishore	 K Revathy	 Sankaragomathy S	
 M Pandiyarajan	 S Thanga Mani				 D Parthiban	 M Mahindravarmaan	 Michael Priyanka	
 Wasin N	 Sundar Rajan	 Interview Panel Members			 Rajasekar	 Vimala	 Lashmanan	

* Terms and conditions apply




OUR GOVERNMENT OFFICERS

K. THANGA MEENA DEVI

இந்து சமய அறநிலையத் துறை,
உதவியாளர் பணி



STUDENTS WITH APPOINTMENT ORDER



CONGRATULATIONS
ON SUCCESSFULLY GETTING PLACED IN



Angaleswaran
Sub Inspector



Barkavi. K
Educational Dept.



Anandhalakshmi J
IBPS RRB clerk



Sankara Gomathy.S
Village
Administrative Officer



Jeeva. R
Chennai High court



Harisankar K
Police Contable



Vinoth
District Court



Adityan
Agriculture Dept.

Our Central and State GOVERNMENT OFFICERS



Thennarasu
TNUSRB Police



Sangeetha
TNPSC GROUP II
Exam Cleared



Aathithyan G
TNPSC Exam
Agriculture Dept.



Kumari
SBI (PO)



Bala Kumaran V
TNPSC Exam
Agriculture Dept.



Bhavya Shree R
Cleared NICL -
Prelims Exam



Kameshwaran
TNPSC GROUP II
Exam Cleared



Michael Priyanka
IBPS SCALE-II
Officer



Murali
Indian Bank



Jeyanthi
TNPSC GROUP IV



Nirmala S
Group II Interview
Post



Varun Kumar M
SSC GD



Anjali
IBPS SO
(IT OFFICER)



Manimegalai
TNPSC
Judriery
Department



Pankajavalli
TNPSC
Stenographer



Parasuraman
Sub Inspector



Abdul Rahman
SSC - MTS



Pradeepraj N
Group 2 A prelims



Aswini
SSC & BANK



Thennarasu
TNUSRB Police



Veera Perumal
TNPSC GROUP II
Exam Cleared



Sivaranjani
TNPSC GROUP II
Exam Cleared



Manimozhi
TNPSC GROUP II
Exam Cleared



Harisankar K
Police Constable



Kavitha
TNUSRB Police
Exam Cleared



B. Benazir Banu
TNUSRB Police
Exam Cleared



Aswin Kumar
Tamilnadu
Post Office



Divya
TNPSC Group II
Exam Cleared



Mathumathi P
Assistant Inspector
of Labour



Manimaran N
Sub Inspector



KAMARAJ
Sub Inspector



N. PRASHAN



THE WESHINE JOURNEY.

Our Central and State GOVERNMENT OFFICERS



Gayathri
RBI



Aswin Kumar, S
TN Postal Dept.



Yesu Amirtham
TNPSC HIGH COURT



M.Esther Angeline
Police Constable



Madhumathi
TNPSC GROUP 1
Exam Cleared



Sabeen Banu
TNPSC HIGH COURT



D.Vignesh
Police Constable



Rahmath Nisha
Labour Dept.



GOKUL S
SSC/BANK



JAI GANESH
SSC/BANK



C.Muthu Selvi
Police Constable



SOWMEYA.S
SSC/BANK



Fahad
Social Welfare
Dept.



KIRAN KUMAR
SSC/BANK



Hari Shankar. P
LIC



Parasuraman
Police Constable



PADMA PRIYA PT
LIC



SURESH .R
LIC



P. Bharathkumar
TNUSRB SI



Naveen .D
SSC/BANK



HARI SHANKAR.P
LIC



S.Madhavan
Police Constable



Anjali .R
SSC/BANK



M. Sivasubbu
Police Constable



Also We provide internal coaching for

Trusted Partnership with



www.weshineacademy.com

8939 144 344 | 8939 244 344



SINCE 2013
We Shine Academy[®]

guiding you to get through

TNPSC | TNUSRB | TET | SSC | BANK EXAM

TNPSC GROUP-I Express TEST SERIES

Starts on:
Saturday | 07-02-2026

Features:

- ✓ 5000+ Questions
- ✓ 37 Total Tests
- ✓ 21 General Studies Tests
- ✓ 05 Revision Tests
- ✓ 11 Full-Length Mock Tests

Offline: ₹5,999/-

Online: ₹4,999/-

Offer:

We Shine Old Students -
FREE!





Teachers Recruitment Board

Perasiriyar Anbazhagan Kalvi Valagam, College Road, Chennai - 600006.

Hall Ticket for OMR Examination (Objective Type)

for the Tamil Nadu Teacher Eligibility Test, Paper - II - 2025

[Notification No. 03/2025 Dated: 11.08.2025]

விண்ணப்பதாரரின் பெயர் / Candidate's Name	SUBASHINI A	 
விண்ணப்பதாரரின் தேர்வு எண். / Candidate's Roll No.	25T21103570127	
விண்ணப்பதாரரின் விண்ணப்ப எண். / Candidate's Application No.	TETP2117329	
பிறந்த தேதி / Date of Birth	19-11-2002	
தந்தை / தாய் பெயர் Father / Mother Name	ANNADURAI R	
பாலினம் / Gender	FEMALE	
மாற்றுத்திறனாளி / Differently abled	NO	
சொல்வதை எழுதுபவர் / Scribe	-	
விண்ணப்பித்த மொழி / Language Applied for	Tamil	
விண்ணப்பித்த விருப்பப் பாடம் / Optional Subject for	Mathematics and Science	
விண்ணப்பதாரரின் முகவரி / Address of the Candidate:	7/128, ARUNTHATHIYAR STRRET, VANAKARANPUDUR, THATHAIYANGARPATTI (PO), NAMAKKAL, NAMAKKAL, NAMAKKAL, PIN - 637014	



Teachers Recruitment Board

Perasiriyar Anbazhagan Kalvi Valagam, College Road, Chennai - 600006.

Hall Ticket for OMR Examination (Objective Type)

for the Tamil Nadu Teacher Eligibility Test, Paper - II - 2025

[Notification No. 03/2025 Dated: 11.08.2025]

விண்ணப்பதாரரின் பெயர் / Candidate's Name	NAGAMMAL A	 	
விண்ணப்பதாரரின் தேர்வு எண். / Candidate's Roll No.	25T21103820131		
விண்ணப்பதாரரின் விண்ணப்ப எண். / Candidate's Application No.	TETP2132346		
பிறந்த தேதி / Date of Birth	10-04-1990		
தந்தை / தாய் பெயர் Father / Mother Name	AYYAPPAN PILLAI SS		
பாலினம் / Gender	FEMALE		
மாற்றுத்திறனாளி / Differently abled	NO		
சொல்வதை எழுதுபவர் / Scribe	-		
விண்ணப்பித்த மொழி / Language Applied for	Tamil		
விண்ணப்பித்த விருப்பப் பாடம் / Optional Subject for	Mathematics and Science		
விண்ணப்பதாரரின் முகவரி / Address of the Candidate:	FLAT.NO:148,TNHB COLONY,TAMBARAM SANATORIUM, CHENNAI, CHENGALPATTU, PIN - 600047		
மையக் குறியீட்டுடன் தேர்வு மையம் பெயர், முகவரி மற்றும் மாவட்டம்: / Centre code, Name and Address of the Examination Centre with District:	Centre Code: 0382 District: CHENNAI GRT MAHALAKSHMI VIDYALAYA MATRIC HSS,NO-76,7TH AVENU,ASHOK NAGAR,CHENNAI 600083.		
Schedule of Examination			
Date of Exam	Reporting Time	Gate Closing Time	Examination Timings
16.11.2025	8.30 a.m.	9.30 a.m.	10.00 a.m. to 01.00 p.m. - All candidates 10.00 a.m. to 02.00 p.m. - PWD candidates



Teachers Recruitment Board

Perasiriyar Anbazhagan Kalvi Valagam, College Road, Chennai - 600006.

Hall Ticket for OMR Examination (Objective Type)
for the Tamil Nadu Teacher Eligibility Test, Paper - II - 2025
[Notification No. 03/2025 Dated: 11.08.2025]

விண்ணப்பதாரரின் பெயர் / Candidate's Name	RAM PRIYA M
விண்ணப்பதாரரின் தேர்வு எண். / Candidate's Roll No.	25T21203240436
விண்ணப்பதாரரின் விண்ணப்ப எண். / Candidate's Application No.	TETP2196836
பிறந்த தேதி / Date of Birth	04-05-1993
தந்தை / தாய் பெயர் Father / Mother Name	MUTHURAJ G
பாலினம் / Gender	FEMALE
மாற்றுத்திறனாளி / Differently abled	NO
சொல்வதை எழுதுபவர் / Scribe	-
விண்ணப்பித்த மொழி / Language Applied for	Tamil
விண்ணப்பித்த விருப்பப் பாடம் / Optional Subject for	Social Science
விண்ணப்பதாரரின் முகவரி / Address of the Candidate:	1/525, 1ST FLOOR, 1ST BLOCK, MUGAPPAIR WEST, CHENNAI, THIRUVALLUR, PIN - 600037
மையக் குறியீட்டுடன் தேர்வு மையம் பெயர், முகவரி மற்றும் மாவட்டம்: / Centre code, Name and Address of the Examination Centre with District.	Centre Code: 0324 District: CHENNAI CHENNAI GIRLS HIGHER SECONDARY SCHOOL, NO-2A, SCHOOL ROAD, M H ROAD, PERAMBUR, CHENNAI-600 011.



Muthuraj G



Schedule of Examination

Date of Exam	Reporting Time	Gate Closing Time	Examination Timings
16.11.2025	8.30 a.m.	9.30 a.m.	10.00 a.m. to 01.00 p.m. - All candidates 10.00 a.m. to 02.00 p.m. - PWD candidates



Teachers Recruitment Board

Perasiriyar Anbazhagan Kalvi Valagam, College Road, Chennai - 600006.

Hall Ticket for OMR Examination (Objective Type)
for the Tamil Nadu Teacher Eligibility Test, Paper - II - 2025
[Notification No. 03/2025 Dated: 11.08.2025]

விண்ணப்பதாரரின் பெயர் / Candidate's Name	GOWTHAMI S
விண்ணப்பதாரரின் தேர்வு எண். / Candidate's Roll No.	25T21133240072
விண்ணப்பதாரரின் விண்ணப்ப எண். / Candidate's Application No.	TETP2037725
பிறந்த தேதி / Date of Birth	16-05-1990
தந்தை / தாய் பெயர் Father / Mother Name	SOUNDARAJAN P
பாலினம் / Gender	FEMALE
மாற்றுத்திறனாளி / Differently abled	NO
சொல்வதை எழுதுபவர் / Scribe	-
விண்ணப்பித்த மொழி / Language Applied for	Tamil
விண்ணப்பித்த விருப்பப் பாடம் / Optional Subject for	Mathematics and Science
விண்ணப்பதாரரின் முகவரி / Address of the Candidate:	NO 268, NACHARKUPPAM, NACHARKUPPAM POST, TIRUPATHUR, TIRUPATHUR, PIN - 635710
மையக் குறியீட்டுடன் தேர்வு மையம் பெயர், முகவரி மற்றும் மாவட்டம்: / Centre code, Name and Address of the Examination Centre with District:	Centre Code: 3324 District: TIRUPATTUR MARY IMMACULATE GIRLS HR SEC SCHOOL TIRUPATTUR LONDON MISSION ROAD, TIRUPATTUR-635601



S. Gowthami








Teachers Recruitment Board

Perasiriyar Anbazhagan Kalvi Valagam, College Road, Chennai - 600006.

Hall Ticket for OMR Examination (Objective Type)
for the Tamil Nadu Teacher Eligibility Test, Paper - II - 2025
[Notification No. 03/2025 Dated: 11.08.2025]


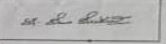

விண்ணப்பதாரரின் பெயர் / Candidate's Name	PRABHA K	 
விண்ணப்பதாரரின் தேர்வு எண். / Candidate's Roll No.	25T21102160228	
விண்ணப்பதாரரின் விண்ணப்ப எண். / Candidate's Application No.	TETP2077164	
பிறந்த தேதி / Date of Birth	24-01-1988	
தந்தை / தாய் பெயர் Father / Mother Name	KUMANAN C	
பாலினம் / Gender	FEMALE	
மாற்றுத்திறனாளி / Differently abled	NO	
சொல்வதை எழுதுபவர் / Scribe	.	
விண்ணப்பித்த மொழி / Language Applied for	Tamil	
விண்ணப்பித்த விருப்பப் பாடம் / Optional Subject for	Mathematics and Science	
விண்ணப்பதாரரின் முகவரி / Address of the Candidate:	NO 24. RAMAIYA NAGAR, MEDAVAKKAM, CHENNAI, KANCHEEPURAM, PIN - 600100	



Teachers Recruitment Board

Perasiriyar Anbazhagan Kalvi Valagam, College Road, Chennai - 600006.

Hall Ticket for OMR Examination (Objective Type)
for the Tamil Nadu Teacher Eligibility Test, Paper - II - 2025
[Notification No. 03/2025 Dated: 11.08.2025]

விண்ணப்பதாரரின் பெயர் / Candidate's Name	SHIVASANKARI S	 
விண்ணப்பதாரரின் தேர்வு எண். / Candidate's Roll No.	25T21138190024	
விண்ணப்பதாரரின் விண்ணப்ப எண். / Candidate's Application No.	TETP2045008	
பிறந்த தேதி / Date of Birth	18-08-1997	
தந்தை / தாய் பெயர் Father / Mother Name	SIVANU M	
பாலினம் / Gender	FEMALE	
மாற்றுத்திறனாளி / Differently abled	NO	
சொல்வதை எழுதுபவர் / Scribe	.	
விண்ணப்பித்த மொழி / Language Applied for	Tamil	
விண்ணப்பித்த விருப்பப் பாடம் / Optional Subject for	Mathematics and Science	
விண்ணப்பதாரரின் முகவரி / Address of the Candidate:	1/884, PALANI ANDAVAR NAGAR, DHARAPURAM ROAD, K.CHETTIPALAYAM, TIRUPPUR, TIRUPPUR, PIN - 641604	
மையக் குறியீட்டுடன் தேர்வு மையம் பெயர், முகவரி மற்றும் மையக் குறியீட்டுடன் தேர்வு மையம் பெயர், முகவரி மற்றும் Centre code, Name and Address of the Examination Centre with District:	Centre Code: 3819 District: VIRUDHUNAGAR CSI GIRLS HR SEC SCHOOL, CSI CHURCH COMPOUND, MADURAI MAINROAD, ARUPPUKOTTAI-626101	

Schedule of Examination

Date of Exam	Reporting Time	Gate Closing Time	Examination Timings
16.11.2025	8.30 a.m.	9.30 a.m.	10.00 a.m. to 01.00 p.m. - All candidates 10.00 a.m. to 02.00 p.m. - PWD candidates

PLEASE READ THE FOLLOWING IMPORTANT INSTRUCTIONS CAREFULLY

- Candidates should download their Hall Ticket through online only as no separate physical copy of this Hall Ticket will be dispatched.
- Candidates should check their Hall Ticket for the information furnished therein and in case of any discrepancy, it should be immediately reported to the TRB, Chennai for necessary action.
- The candidates appearing for the examination in their own interest, should check their eligibility in all respects to avoid disappointment if any at later stage and their candidature for this examination is "PURELY PROVISIONAL".
- Please note that this Hall Ticket does not constitute any offer of employment.
- NO REQUEST FOR CHANGE OF EXAMINATION CENTRE WILL BE CONSIDERED UNDER ANY CIRCUMSTANCES.
- No candidate will be allowed to enter into the Examination Hall after gate closing time 09:30 a.m. and should not leave the Examination Hall before 01.00 p.m. for all candidates and 02.00 p.m. for PWD candidates.
- The candidate must bring this Hall Ticket to the Examination Centre. No candidate will be allowed entry without this Hall Ticket.
- The candidate is also instructed to bring any one of the following Photo Identification Cards in original viz.
 - Aadhar Card
 - PAN Card



Teachers Recruitment Board

Perasiriyar Anbazhagan Kalvi Valagam, College Road, Chennai - 600006.

Hall Ticket for OMR Examination (Objective Type)
for the Tamil Nadu Teacher Eligibility Test, Paper - II - 2025
[Notification No. 03/2025 Dated: 11.08.2025]

விண்ணப்பதாரரின் பெயர் / Candidate's Name	DEEPA AM	 
விண்ணப்பதாரரின் தேர்வு எண். / Candidate's Roll No.	25T21103070159	
விண்ணப்பதாரரின் விண்ணப்ப எண். / Candidate's Application No.	TETP2331329	
பிறந்த தேதி / Date of Birth	30-04-1990	
தந்தை / தாய் பெயர் Father / Mother Name	MUNUSAMY A	
பாலினம் / Gender	FEMALE	
மாற்றுத்திறனாளி / Differently abled	NO	
சொல்வதை எழுதுபவர் / Scribe	-	
விண்ணப்பித்த மொழி / Language Applied for	Tamil	
விண்ணப்பித்த விருப்பப் பாடம் / Optional Subject for	Mathematics and Science	
விண்ணப்பதாரரின் முகவரி / Address of the Candidate:	NO 67 A THULUKKANATHAMMAN KOVIL STREET BHARATHI NAGAR ZAMIN PALLAVARAM, CHENNAI, KANCHEEPURAM CHENGALPET, PIN - 600043	
மையக் குறியீட்டுடன் தேர்வு மையம் பெயர், முகவரி மற்றும் மாவட்டம்: / Centre code, Name and Address of the Examination Centre with District:	Centre Code: 0307 District: CHENNAI PERUNTHALAIVAR KAMARAJAR GOVERNMENT GIRLS HIGHER SECONDARY SCHOOL,NORTH PARK STREET, VENKATAPURAM .AMBATTUR,CHENNAI-600 053.	

Schedule of Examination

Date of Exam	Reporting Time	Gate Closing Time	Examination Timings
16.11.2025	8.30 a.m.	9.30 a.m.	10.00 a.m. to 01.00 p.m. - All candidates 10.00 a.m. to 02.00 p.m. - PWD candidates



Teachers Recruitment Board

Perasiriyar Anbazhagan Kalvi Valagam, College Road, Chennai - 600006.

Hall Ticket for OMR Examination (Objective Type)
for the Tamil Nadu Teacher Eligibility Test, Paper - II - 2025
[Notification No. 03/2025 Dated: 11.08.2025]

விண்ணப்பதாரரின் பெயர் / Candidate's Name	NIRUBA MAYIL V	 
விண்ணப்பதாரரின் தேர்வு எண். / Candidate's Roll No.	25T21230060158	
விண்ணப்பதாரரின் விண்ணப்ப எண். / Candidate's Application No.	TETP2052064	
பிறந்த தேதி / Date of Birth	12-06-1981	
தந்தை / தாய் பெயர் Father / Mother Name	VEERAPERUMAL R	
பாலினம் / Gender	FEMALE	
மாற்றுத்திறனாளி / Differently abled	NO	
சொல்வதை எழுதுபவர் / Scribe	-	
விண்ணப்பித்த மொழி / Language Applied for	Tamil	
விண்ணப்பித்த விருப்பப் பாடம் / Optional Subject for	Social Science	
விண்ணப்பதாரரின் முகவரி / Address of the Candidate:	5/90 MIDDLE STREET SRI MOOLAKARAI SRIVAIKUNDAM TALUK, THOOTHUKUDI, THOOTHUKUDI, PIN - 628620	



Hall Ticket for OMR Examination (Objective Type)

for the Tamil Nadu Teacher Eligibility Test, Paper - II - 2025

[Notification No. 03/2025 Dated: 11.08.2025]

விண்ணப்பதாரரின் பெயர் / Candidate's Name	SANGEETHA R
விண்ணப்பதாரரின் தேர்வு எண். / Candidate's Roll No.	25T21127200028
விண்ணப்பதாரரின் விண்ணப்ப எண். / Candidate's Application No.	TETP2051771
பிறந்த தேதி / Date of Birth	01-07-1982
தாய் பெயர் / Mother Name	RAJA B
பாலினம் / Gender	FEMALE
மாற்றுத்திறனாளி / Differently abled	NO
சொல்வதை எழுதுபவர் / Scribe	
விண்ணப்பித்த மொழி / Language Applied for	Tamil
விண்ணப்பித்த விருப்பப் பாடம் / Optional Subject for	Social Science
விண்ணப்பதாரரின் முகவரி / Address of the Candidate:	24/1 KANCHIPURAM HIGH ROAD , NO 65 PALUR VILLAGE AND POST, PALUR, CHENGALPATTU, PIN - 603101
மையக் குறியீட்டுடன் தேர்வு மையம் பெயர், முகவரி மற்றும் மாவட்டம்: / Centre code, Name and Address of the Examination Centre with District:	Centre Code: 0207 District: CHENGALPATTU GOVT GIRLS HR SEC SCHOOL, ORAGADAM SALAI(OPPOSITE TO TALUK OFFICE) THIRUKALUKUNDRAM, CHENGALPATTU DIST -603109



Teachers Recruitment Board

Perasiriyar Anbazhagan Kalvi Valagam, College Road, Chennai - 600006.

Hall Ticket for OMR Examination (Objective Type)

for the Tamil Nadu Teacher Eligibility Test, Paper - II - 2025

[Notification No. 03/2025 Dated: 11.08.2025]

விண்ணப்பதாரரின் பெயர் / Candidate's Name	LAKSHMI R
விண்ணப்பதாரரின் தேர்வு எண். / Candidate's Roll No.	25T21202070216
விண்ணப்பதாரரின் விண்ணப்ப எண். / Candidate's Application No.	TETP2145208
பிறந்த தேதி / Date of Birth	18-05-1985
தந்தை / தாய் பெயர் / Father / Mother Name	RASPAL P
பாலினம் / Gender	FEMALE
மாற்றுத்திறனாளி / Differently abled	NO
சொல்வதை எழுதுபவர் / Scribe	-
விண்ணப்பித்த மொழி / Language Applied for	Tamil
விண்ணப்பித்த விருப்பப் பாடம் / Optional Subject for	Social Science
விண்ணப்பதாரரின் முகவரி / Address of the Candidate:	24/1 KANCHIPURAM HIGH ROAD , NO 65 PALUR VILLAGE AND POST, PALUR, CHENGALPATTU, PIN - 603101
மையக் குறியீட்டுடன் தேர்வு மையம் பெயர், முகவரி மற்றும் மாவட்டம்: / Centre code, Name and Address of the Examination Centre with District:	Centre Code: 0207 District: CHENGALPATTU GOVT GIRLS HR SEC SCHOOL, ORAGADAM SALAI(OPPOSITE TO TALUK OFFICE) THIRUKALUKUNDRAM, CHENGALPATTU DIST -603109



L. Lakshmi





Teachers Recruitment Board

Perasiriyar Anbazhagan Kalvi Valagam, College Road, Chennai - 600006.

Hall Ticket for OMR Examination (Objective Type)
for the Tamil Nadu Teacher Eligibility Test, Paper - II - 2025
[Notification No. 03/2025 Dated: 11.08.2025]

விண்ணப்பதாரரின் பெயர் / Candidate's Name	DEEPA AM	 
விண்ணப்பதாரரின் தேர்வு எண். / Candidate's Roll No.	25T21103070159	
விண்ணப்பதாரரின் விண்ணப்ப எண். / Candidate's Application No.	TETP2331329	
பிறந்த தேதி / Date of Birth	30-04-1990	
தந்தை / தாய் பெயர் Father / Mother Name	MUNUSAMY A	
பாலினம் / Gender	FEMALE	
மாற்றுத்திறனாளி / Differently abled	NO	
சொல்வதை எழுதுபவர் / Scribe	-	
விண்ணப்பித்த மொழி / Language Applied for	Tamil	
விண்ணப்பித்த விருப்பப் பாடம் / Optional Subject for	Mathematics and Science	
விண்ணப்பதாரரின் முகவரி / Address of the Candidate:	NO 67 A THULUKKANATHAMMAN KOVIL STREET BHARATHI NAGAR ZAMIN PALLAVARAM, CHENNAI, KANCHEEPURAM CHENGALPET, PIN - 600043	
மையக் குறியீட்டுடன் தேர்வு மையம் பெயர், முகவரி மற்றும் மாவட்டம்: / Centre code, Name and Address of the Examination Centre with District:	Centre Code: 0307 District: CHENNAI PERUNTHALAIVAR KAMARAJAR GOVERNMENT GIRLS HIGHER SECONDARY SCHOOL,NORTH PARK STREET, VENKATAPURAM .AMBATTUR,CHENNAI-600 053.	

Schedule of Examination

Date of Exam	Reporting Time	Gate Closing Time	Examination Timings
16.11.2025	8.30 a.m.	9.30 a.m.	10.00 a.m. to 01.00 p.m. - All candidates 10.00 a.m. to 02.00 p.m. - PWD candidates



Teachers Recruitment Board

Perasiriyar Anbazhagan Kalvi Valagam, College Road, Chennai - 600006.

Hall Ticket for OMR Examination (Objective Type)
for the Tamil Nadu Teacher Eligibility Test, Paper - II - 2025
[Notification No. 03/2025 Dated: 11.08.2025]

விண்ணப்பதாரரின் பெயர் / Candidate's Name	NIRUBA MAYIL V	 
விண்ணப்பதாரரின் தேர்வு எண். / Candidate's Roll No.	25T21230060158	
விண்ணப்பதாரரின் விண்ணப்ப எண். / Candidate's Application No.	TETP2052064	
பிறந்த தேதி / Date of Birth	12-06-1981	
தந்தை / தாய் பெயர் Father / Mother Name	VEERAPERUMAL R	
பாலினம் / Gender	FEMALE	
மாற்றுத்திறனாளி / Differently abled	NO	
சொல்வதை எழுதுபவர் / Scribe	-	
விண்ணப்பித்த மொழி / Language Applied for	Tamil	
விண்ணப்பித்த விருப்பப் பாடம் / Optional Subject for	Social Science	
விண்ணப்பதாரரின் முகவரி / Address of the Candidate:	5/90 MIDDLE STREET SRI MOOLAKARAI SRIVAIKUNDAM TALUK, THOOTHUKUDI, THOOTHUKUDI, PIN - 628620	

ஒரு வகையான பாக்டீரியா, முதலாவது ஒரு மணி நேரத்தில் 5% வளர்ச்சியும், 2 வது ஒரு மணி நேரத்தில் 8% வளர்ச்சி குன்றியும், மூன்றாவது மணி நேரத்தில் 10% வளர்ச்சியும் அடைகிறது. தொடக்கத்தில் அதன் எண்ணிக்கை 10,000 ஆக இருந்தது எனில், மூன்று மணி நேரத்திற்குப் பிறகு அதன் எண்ணிக்கையைக் காண்க.

The bacteria in a culture grows by 5% in the first hour, decreases by 8% in the second hour and again increases by 10% in the third hour. Find the count of the bacteria at the end of 3 hours. If its initial count was 10,000.

- ~~(A)~~ Rs. 10,626
ரூ. 10,626
- (C) Rs. 10,660
ரூ. 10,660

- (B) Rs. 10,620
ரூ. 10,620
- (D) Rs. 10,266
ரூ. 10,266

A sum of Rs. 46,000 was lent out at simple interest and at the end of 1 year 9 months, the total amount was Rs. 52,440. Find the rate of interest per year

அசல் ரூ. 46,000 ஐ 1 ஆண்டு 9 மாதக் காலத்திற்குப் பிறகு தனி வட்டி மூலம் மொத்தத் தொகையாக ரூ.52,440 ஆக உயர்ந்தது எனில், வட்டி வீதத்தைக் காண்க

(A) 6%

(C) 10%

~~(B)~~ 8%

(D) 4%

Sheela has paid simple interest on a certain sum for 4 years at 9.5% per annum is Rs. 21,280. Find the sum

ஷீலா என்பவர் ஒரு குறிப்பிட்ட அசலுக்கு 4 ஆண்டுகளுக்கு 9.5% வட்டி வீதத்தில் தனி வட்டியாக ரூ. 21,280 ஐச் செலுத்தினார் எனில், அசலைக் காண்க

(A) Rs. 60,000

ரூ. 60,000

(B) Rs. 58,000

ரூ. 58,000

~~(C)~~ Rs. 56,000

ரூ. 56,000

(D) Rs. 54,000

ரூ. 54,000

Simple interest on Rs. 1,000 at 10% per annum for 2 years is

ரூ. 1,000 க்கு 10% வட்டி வீதம் 2 ஆண்டுகளுக்குத் தனி வட்டி

(A) Rs. 2,000

ரூ. 2,000

~~(C)~~ Rs. 200

ரூ. 200

(B) Rs. 1,000

ரூ. 1,000

(D) Rs. 100

ரூ. 100



60 workers can spin a bale of cotton in 7 days. In how many days will 42 workers spin it?

60 வேலையாட்கள் ஒரு பருத்தி நூல் உருண்டையை நூற்க 7 நாட்கள் தேவைப்படுகிறது. 42 வேலையாட்கள் அதே வேலையைச் செய்து முடிக்க எத்தனை நாட்கள் ஆகும்?

- (A) 13 days
13 நாட்கள்
- ~~(B)~~ 10 days
10 நாட்கள்

- (B) 15 days
15 நாட்கள்
- (D) 14 days
14 நாட்கள்

A family cleans a house for Pongal celebration by dividing the work in the ratio 1 : 2 : 3. Express each portion of work as percentage

ஒரு குடும்பம் பொங்கல் கொண்டாட்டத்திற்காக, வீட்டைச் சுத்தம் செய்வதற்கு வேலையை 1 : 2 : 3 என்ற விகிதத்தில் பகிர்ந்து கொண்டனர் எனில், வேலையின் ஒவ்வொரு பகுதியையும் சதவீதமாக வெளிப்படுத்தவும்

(A) 10%, 20%, 30%

(B) 12%, 24%, 36%

(C) $20\frac{2}{3}\%$, $41\frac{1}{3}\%$, 62%

~~(D)~~ $16\frac{2}{3}\%$, $33\frac{1}{3}\%$, 50%

Find the LCM of the following $24x^2y^3z^4$, $8x^3y^2z^2$, $16xy^2z^3$

பின்வருவனவற்றிற்கு மீ.பொ.ம (LCM) காண்க $24x^2y^3z^4$, $8x^3y^2z^2$, $16xy^2z^3$

(A) $8x^3y^3z^3$

(B) $48x^3y^3z^3$

~~(C)~~ $48x^3y^3z^4$

(D) $48x^2y^3z^4$



Find the LCM of $8x^4y^2$, $48x^2y^4$

மீ.பொ.ம (LCM) காண்க $8x^4y^2$, $48x^2y^4$

(A) $6xy$

(C) $96x^2y^2$

~~(B)~~ $48x^4y^4$

(D) $384x^6y^6$

The HCF of $x^2 + 4x - 12$ and $x^2 - 5x + 6$ is

$x^2 + 4x - 12$ மற்றும் $x^2 - 5x + 6$ ஆகியவற்றின் (மீ.பொ.கா.) மீப்பெரு பொது காரணி _____ ஆகும்.

~~(A)~~

$x - 2$

(C)

$x + 6$

(B) $x + 2$

(D) $x - 3$



A book seller has 175 English books, 245 science books and 385 mathematics books. He wants to sell the books in a box, subject wise in equal numbers, what will be the greatest number of the boxes required?

நூல் விற்பனையாளர் 175 ஆங்கில நூல்களையும் 245 அறிவியல் நூல்களையும் 385 கணித நூல்களையும் வைத்துள்ளார். ஒவ்வொரு பெட்டியிலும் பாடவாரியாகச் சம எண்ணிக்கையில் மூன்று பாட நூல்களையும் வைத்து விற்க விரும்புகிறார். அதிகபட்சமாக எத்தனை பெட்டிகள் தேவைப்படும்?

(A) 77

(B) 63

(C) 49

~~(D) 35~~

Simplify : $3\sqrt{75} + 5\sqrt{48} - \sqrt{243}$

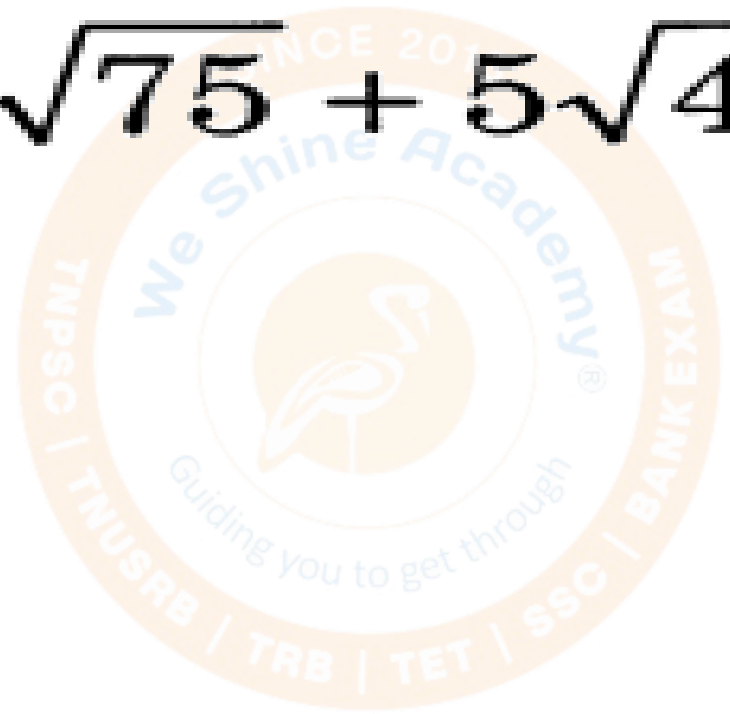
சுருக்குக : $3\sqrt{75} + 5\sqrt{48} - \sqrt{243}$

(A) $25\sqrt{5}$

(B) $15\sqrt{3}$

~~(C)~~ $26\sqrt{3}$

(D) $26\sqrt{5}$



An item marked at Rs. 840 is sold for Rs. 714. What is the discount %?

குறித்த விலை ரூ. 840 உடைய ஒரு பொருள் ரூ. 714 க்கு விற்கப்பட்டது. அதன் தள்ளுபடி சதவீதம் என்ன?

(A) 20%

(C) 10%

~~(B)~~ 15%

(D) 5%



A large, faint watermark logo for Weshine Academy is centered in the background. It is circular with an orange border. The text 'Weshine Academy' is written in a light blue font across the top. Below it, 'SINCE 2013' is written in a smaller font. At the bottom, 'Guiding you to get through' is written in a light blue font. The logo also lists various exams: 'TNUSRB | TRB | TET | SSC | BANK EXAM'.

Thank You