



# TNPSC



SINCE 2013

**We Shine Academy®**

guiding you to get through

TNPSC | TNUSRB | RRB | SSC | BANK EXAM

## APPOINTMENT ORDER BATCH

-  **200+** நேரவை வகுப்புகள் + பதிவு வீடி யோக்கள்
-  **10,000+** முந்தைய ஆண்டு வினாத்தாள் பயிற்சி
-  **Smart Time Tracker** கண்காணிப்பு முறை
-  **Result-Oriented Structured Batch**  
தமிழ் & ஆங்கில சிறப்பு மொழி பயிற்சி

LIMITED TIME OFFER  
HURRY UP!

~~₹15,999~~  
**₹7,999**

Class Starts On  
**MARCH 9**

**FIRST COME FIRST SERVE**

+91 8939 144 344 | +91 8939 244 344

**ADMISSION OPEN  
JOIN NOW**

# TNPSC



SINCE 2013

**We Shine Academy®**

guiding you to get through

TNPSC | TNUSRB | RRB | SSC | BANK EXAM

## APPOINTMENT ORDER BATCH

-  **200+** நேரவை வகுப்புகள் + பதிவு வீடி யோக்கள்
-  **10,000+** முந்தைய ஆண்டு வினாத்தாள் பயிற்சி
-  **Smart Time Tracker** கண்காணிப்பு முறை
-  **Result-Oriented Structured Batch**  
தமிழ் & ஆங்கில சிறப்பு மொழி பயிற்சி

**FIRST COME FIRST SERVE**

+91 8939 144 344 | +91 8939 244 344

**LIMITED TIME OFFER  
HURRY UP!**

~~₹15,999~~  
**₹7,999**

Class Starts On  
**MARCH 9**

**ADMISSION OPEN  
JOIN NOW**



# Profit & Loss





A dealer bought a television set for a Rs. 10,000 and sold it for Rs. 12,000. Find the profit/loss made by him for one television set.

ஒரு மொத்த வியாபாரி ஒரு தொலைக்காட்சிப் பெட்டியை ரூ. 10,000க்கு வாங்கி ரூ. 12,000க்கு விற்கிறார். ஒரு பெட்டியின் இலாபம்/நட்டத்தைக் காண்க.

- (A) ரூ. 2,000 நட்டம் (B) ரூ. 2,000 இலாபம்  
(C) ரூ. 10,000 இலாபம் (D) ரூ. 10,000 நட்டம்

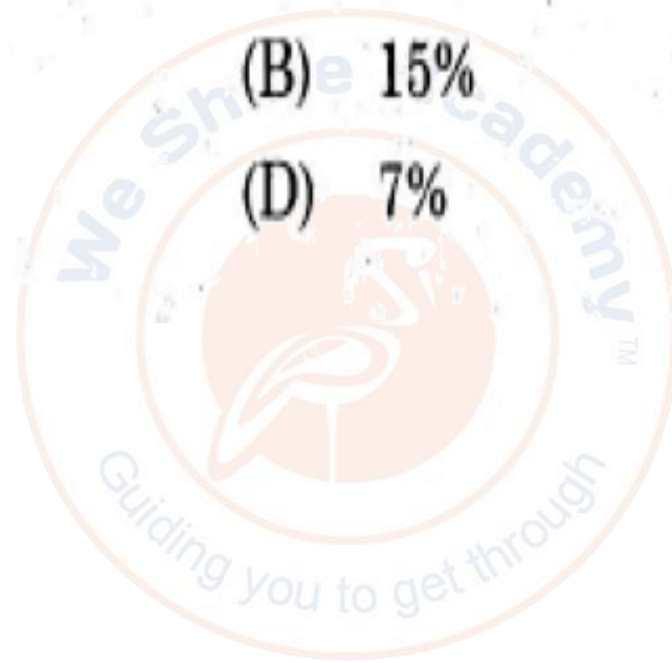


A bicycle marked at Rs. 1,500 is sold to a 1,350. What is the percentage of discount?

ஒரு மிதிவண்டியின் விலை 1,500 ரூபாய் என்று குறிக்கப்பட்டுள்ளது. இதனை ரூபாய் 1350க்கு விற்றால் தள்ளுபடி சதவீதம் என்ன?

- (A) 20%  
(C) 10%

- (B) 15%  
(D) 7%



The list price of a frock is Rs. 220. A discount of 20% on sales is announced. What is the amount of discount on it and its selling price?

ஒரு உடையின் பட்டியல் விலை 220 ரூபாய். அதன் விற்பனையில் 20% தள்ளுபடி என்று அறிவிக்கப்பட்டுள்ளது. உடையின் மேல் தள்ளுபடி எவ்வளவு? அதன் விற்பனை விலை என்ன?

(A) 22, 86

(B) 33, 98

(C) 55, 183

(D) 44, 176



By selling a car for Rs. 2,00,000, a man suffered a loss of 20% the cost price of the car is


ரூ. 2,00,000க்கு ஒரு காரை விற்பனை செய்ததில் ஒருவர் 20 சதவிகித நஷ்டமடைந்தார். அவர் கார் வாங்கிய விலையானது

(A) 2,20,000

(B) 2,40,000

(C) 2,50,000

(D) 3,00,000



A man bought an old bicycle for ₹1,250. He spent ₹250 on its repairs. He then sold it for ₹1,400. Find his loss percentage.


ஒரு நபர் ஒரு பழைய மிதிவண்டியை ₹1,250க்கு வாங்கினார். அதனைச் சீர்படுத்த ₹250 செலவு செய்தார். அவர் அதனை ₹1,400க்கு விற்றார். அவரின் நட்ட சதவீதத்தைக் காண்க.

(A) 6.67%

(B) 6.60%

(C) 6.68%

(D) 6.65%



A man bought an old bicycle for Rs. 1,250. He spent Rs. 250 on its repairs. He then sold it for Rs. 1,400. Find his gain or Loss percentage

ஒரு நபர் ஒரு பழைய மிதி வண்டியை, ரூ. 1,250க்கு வாங்கினார். அதனை சீர்படுத்த ரூ. 250 செலவு செய்தார். அவர் அதனை ரூ. 1,400க்கு விற்றார். அவருடைய லாபம் அல்லது நட்டத்தை காண். (சதவீதத்தில்)

(A) 6.67 % நட்டம்

(B) 6.67 % லாபம்

(C) 20 % நட்டம்

(D) 6 % நட்டம்



A man bought a car for Rs. 2,00,000 and spent Rs. 50,000 on its repair. He sold it for Rs. 3,00,000. What is the profit percentage?

ஒருவர் ரூ. 2,00,000க்கு, ஒரு கார் வாங்கி அதனை பழுது பார்ப்பதற்காக ரூ. 50,000 செலவு செய்தார். அந்த காரை அவர் ரூ. 3,00,000க்கு விற்பனை செய்தால், அவர் அடைந்த இலாப சதவீதம் என்ன?

- (A) 20%
- (C) 50%

- (B) 10%
- (D) 25%



A refrigerator is purchased for Rs. 14,355, including sales tax. If the actual cost price of the refrigerator is Rs. 13,050, find the rate of sales tax.


ஒரு குளிர்சாதனப் பெட்டியை, விற்பனை வரியோடு சேர்த்து ரூ. 14,355-க்கு விற்கப்படுகிறது. அதன் உண்மையான வாங்கிய விலை ரூ. 13,050 எனில் விற்பனை வரி சதவீதத்தைக் காண்க.

(A) 11%

(B) 8%

(C) 9%

(D) 10%



Ram sold a watch at ₹ 405 and earned a profit of 20%. What was his cost price?

ராம் என்பவர் 20% லாபத்திற்கு ரூ. 405-க்கு ஒரு கடிகாரத்தை விற்றால் அதன் அடக்க விலை என்ன?

(A) ₹ 337.50

(B) ₹ 87.50

(C) ₹ 237.50

(D) ₹ 237



Sasi purchased a house for ₹ 27,75,000 and spent ₹ 2,25,000 on its interior decoration. He sold the house to make a profit of 40%. What is the selling price of the house?

சசி ஒரு வீட்டை ₹ 27,75,000 க்கு வாங்கினார். பின்பு உட்புறங்களை ₹ 2,25,000 க்கு அழகுபடுத்தி அதை 40% இலாபத்திற்கு விற்றார் எனில் அந்த வீட்டின் விற்பனை விலை என்ன?

(A) ₹ 31,20,000

(B) ₹ 36,00,000

(C) ₹ 42,00,000

(D) ₹ 48,00,000

A man had Rs. 75 lakhs with him. He spent 48 lakhs and 85 thousands to buy a building.  
How much money is left with him?

ஒரு நபர் தன்னிடம் ரூ.75 இலட்சம் வைத்துள்ளார். அவர் ஒரு கட்டிடத்தை வாங்குவதற்காக ரூ.48 இலட்சத்தி 85 ஆயிரம் செலவு செய்தார் எனில் அவரிடம் எவ்வளவு பணம் மீதி இருக்கும்?

- (A) 40 இலட்சம்
- (B) 26 இலட்சத்தி 15 ஆயிரம்
- (C) 20 இலட்சத்தி 25 ஆயிரம்
- (D) 33 இலட்சம்



A fruit seller bought 12 boxes of grapes at Rs. 160 each. Two boxes were damaged. He sold the remaining boxes at Rs. 200 each then profit per cent is

ஒரு பழ வியாபாரி 12 பெட்டி திராட்சைகளை ஒரு பெட்டி ரூ. 160 என்ற விலை வாங்கினார். அதில் இரண்டு பெட்டிகள் அழுகிவிடுகிறது. மீதமுள்ள பெட்டிகளை ஒரு பெட்டிக்கு ரூ. 200 விலை விலைக்கு விற்கிறார் எனில் இலாப சதவீதம்

(A) 4.258

(B) 4.33

(C) 4.167

(D) 4.52



A fruit seller bought 8 boxes of grapes at Rs.150 each. One box was damaged. He sold the remaining boxes at Rs.190 each. Find the profit / loss percentage.

ஒரு பழ வியாபாரி 8 பெட்டி, திராட்சைகளை, ஒரு பெட்டி ரூ.150 வீதம் வாங்கினார். அதில் ஒரு பெட்டி திராட்சை அழுகி விடுகிறது. மீதமுள்ள பெட்டிகளை ஒரு பெட்டி ரூ.190 என்ற விலைக்கு விற்கிறார். இலாப / நட்ட சதவீதம் காண்.

- (A) லாபம் 130 %
- (B) லாபம் 10.83 %
- (C) நட்டம் 130 %
- (D) நட்டம் 10.83 %





# Thank You