






TNPSC COMBINED

**SINGLE FEE
MULTIPLE EXAMS**

₹19,999

**ADMISSION OPEN
JOIN NOW**

 **DIRECT CLASS**
 **ONLINE CLASS**
Available

-  **Time Tracker**
-  **Audio Study Materials**
-  **Easy EMI**
-  **Speed Maths**
-  **Book Set Materials - 17**


+91 8939 144 344 | +91 8939 244 344



SINCE 2013
We Shine Academy
guiding you to get through

TNPSC | TNUSRB | RRB | SSC | BANK EXAM

MATHS



3 ஆண்கள் அல்லது 4 பெண்கள் அல்லது 12 சிறுவர்கள் ஒரு வேலையை ஒரு நாளில் முடிப்பார்கள் எனில் 1 ஆண், 1 பெண் மற்றும் 5 சிறுவர்கள் இணைந்து அவ்வேலையை எத்தனை நாட்களில் முடிப்பார்கள்?

3 men or 4 women or 12 boys can complete a work in one day. In how many days a man, a woman and 5 boys together can complete that work?

3 ஆண்கள் அல்லது 4 பெண்கள் அல்லது 12 சிறுவர்கள் ஒரு வேலையை ஒரு நாளில் முடிப்பார்கள் எனில் 1 ஆண், 1 பெண் மற்றும் 5 சிறுவர்கள் இணைந்து அவ்வேலையை எத்தனை நாட்களில் முடிப்பார்கள்?

3 men or 4 women or 12 boys can complete a work in one day. In how many days a man, a woman and 5 boys together can complete that work?

(A)

1 day

(B) 2 days

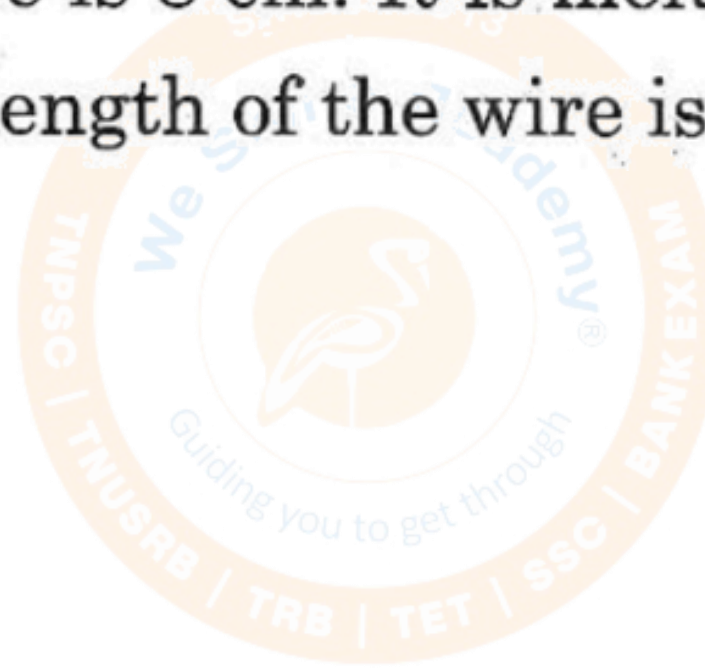
(C)

3 days

(D) 4 days

8 செ.மீ விட்டமுள்ள கோளமானது உருக்கப்பட்டு 3 மி.மீ விட்டமுள்ள கம்பியாக உருவாக்கப்பட்டால், அக்கம்பியின் நீளம் _____.

The diameter of a sphere is 8 cm. It is melted and drawn into a wire of diameter 3 mm. The length of the wire is _____.



8 செ.மீ விட்டமுள்ள கோளமானது உருக்கப்பட்டு 3 மி.மீ விட்டமுள்ள கம்பியாக உருவாக்கப்பட்டால், அக்கம்பியின் நீளம் _____.

The diameter of a sphere is 8 cm. It is melted and drawn into a wire of diameter 3 mm. The length of the wire is _____.

(A) 36.9 m


(C) 38.9 m

(B) 37.9 m

(D) 39.9 m

ஒரு குறிப்பிட்ட தொகையானது கூட்டு வட்டி முறையில் மூன்று ஆண்டுகளுக்குப் பிறகு ரூ. 13,380 ஆகவும், ஆறு ஆண்டுகளுக்குப் பிறகு ரூ. 20,070 ஆகவும் வளர்ச்சி அடைகிறது எனில் அந்தத் தொகை எவ்வளவு?

A sum of money becomes Rs. 13,380 after 3 years and Rs. 20,070 after 6 years on compound interest. Find the sum



ஒரு குறிப்பிட்ட தொகையானது கூட்டு வட்டி முறையில் மூன்று ஆண்டுகளுக்குப் பிறகு ரூ. 13,380 ஆகவும், ஆறு ஆண்டுகளுக்குப் பிறகு ரூ. 20,070 ஆகவும் வளர்ச்சி அடைகிறது எனில் அந்தத் தொகை எவ்வளவு?

A sum of money becomes Rs. 13,380 after 3 years and Rs. 20,070 after 6 years on compound interest. Find the sum

(A) Rs. 4,014

(B) Rs. 8,460

(C) Rs. 9,210

✓ (D) Rs. 8,920

ஒரு பள்ளியில் கணிதம், இயற்பியல் மற்றும் உயிரியல் ஆகிய பாடங்களுக்கான இடங்கள் 5 : 7 : 8 என்ற விகிதத்தில் அமைந்துள்ளது. இந்த இடங்களை முறையே 40%, 50% மற்றும் 75% உயர்த்துவதற்கான நெறிமுறை பெறப்பட்டுள்ளது எனில் உயர்த்தப்படும் இடங்களின் விகிதம் என்னவாக இருக்கும்?

Seats for Mathematics, Physics and Biology in a school are in the ratio 5 : 7 : 8. There is a proposal to increase these seats by 40%, 50% and 75% respectively. What will be the ratio of increased seats?

ஒரு பள்ளியில் கணிதம், இயற்பியல் மற்றும் உயிரியல் ஆகிய பாடங்களுக்கான இடங்கள் 5 : 7 : 8 என்ற விகிதத்தில் அமைந்துள்ளது. இந்த இடங்களை முறையே 40%, 50% மற்றும் 75% உயர்த்துவதற்கான நெறிமுறை பெறப்பட்டுள்ளது எனில் உயர்த்தப்படும் இடங்களின் விகிதம் என்னவாக இருக்கும்?

Seats for Mathematics, Physics and Biology in a school are in the ratio 5 : 7 : 8. There is a proposal to increase these seats by 40%, 50% and 75% respectively. What will be the ratio of increased seats?

- ✓ (A) 2 : 3 : 4
- (B) 6 : 7 : 8
- (C) 6 : 8 : 9
- (D) None of the above

A, B மற்றும் C ஆகியோர் ஒரே திசையில் தொடங்கி ஒரு வட்ட வடிவமான அரங்கத்தை ஒரு முறை சுற்றி வர 'A' விற்கு 252 வினாடிகளும் 'B' விற்கு 308 வினாடிகளும் 'C' விற்கு 198 வினாடிகளும் ஆகின்றன எனில் இவர்கள் எந்த நேரத்தில் தொடங்கிய நிலையில் தொடங்கிய இடத்தில் சந்திப்பார்கள்?

A, B and C start at the same direction to run around a circular stadium. A completes a round in 252 seconds. B in 308 seconds and C in 198 seconds, all starting at the same point. After what time will they meet again at the starting point?

A, B மற்றும் C ஆகியோர் ஒரே திசையில் தொடங்கி ஒரு வட்ட வடிவமான அரங்கத்தை ஒரு முறை சுற்றி வர 'A' விற்கு 252 வினாடிகளும் 'B' விற்கு 308 வினாடிகளும் 'C' விற்கு 198 வினாடிகளும் ஆகின்றன எனில் இவர்கள் எந்த நேரத்தில் தொடங்கிய நிலையில் தொடங்கிய இடத்தில் சந்திப்பார்கள்?

A, B and C start at the same direction to run around a circular stadium. A completes a round in 252 seconds. B in 308 seconds and C in 198 seconds, all starting at the same point. After what time will they meet again at the starting point?

- (A) 26 minutes 18 seconds
(B) 45 minutes
~~(C) 46 minutes 12 seconds~~
(D) 42 minutes 36 seconds

15 கி.கி சர்க்கரையின் விலை ரூ. 255, 17 கி.கி டீத்தூள் விலை ரூ. 1,615 மற்றும் 22 கி.கி அரிசியின் விலை ரூ. 572 எனில் 18 கி.கி சர்க்கரை, 21 கி.கி டீத்தூள் மற்றும் 27 கி.கி அரிசி ஆகியவற்றின் மொத்த விலை என்ன?

The cost of 15 kg of sugar is Rs. 255, the cost of 17 kg of tea is Rs. 1,615 and the cost of 22 kg of rice is Rs. 572. What is the total cost of 18 kg of sugar, 21 kg of tea and 27 kg of rice?

15 கி.கி சர்க்கரையின் விலை ரூ. 255, 17 கி.கி டீத்தூள் விலை ரூ. 1,615 மற்றும் 22 கி.கி அரிசியின் விலை ரூ. 572 எனில் 18 கி.கி சர்க்கரை, 21 கி.கி டீத்தூள் மற்றும் 27 கி.கி அரிசி ஆகியவற்றின் மொத்த விலை என்ன?

The cost of 15 kg of sugar is Rs. 255, the cost of 17 kg of tea is Rs. 1,615 and the cost of 22 kg of rice is Rs. 572. What is the total cost of 18 kg of sugar, 21 kg of tea and 27 kg of rice?

(A) Rs. 2,442

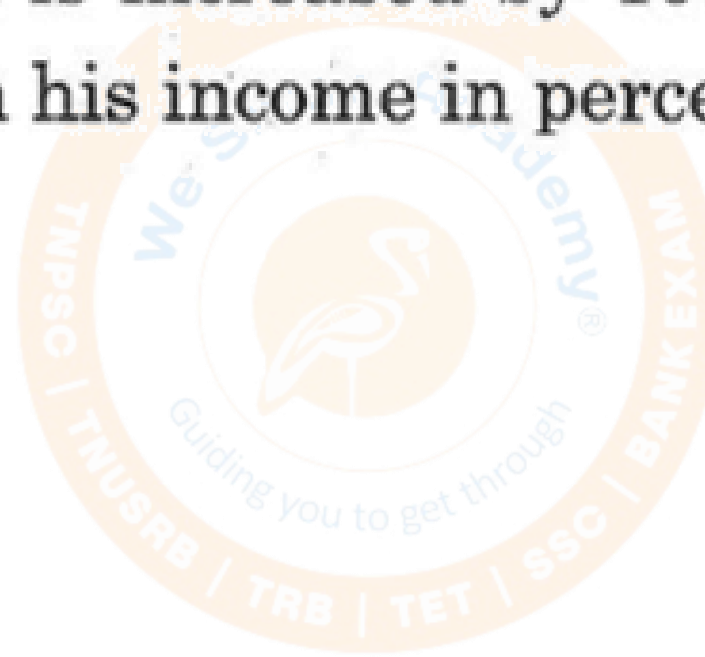
(B) Rs. 3,923

(C) Rs. 3,003

(D) Rs. 2,932

ஒரு நபரின் வருமானம் 10% உயர்த்தப்பட்டு பிறகு 10% குறைக்கப்படுகிறது எனில் அவருடைய வருமானத்தில் ஏற்படும் மாற்ற விகிதத்தைக் காண்க.

The income of a person is increased by 10% and then decreased by 10%. Find the change in his income in percentage.



ஒரு நபரின் வருமானம் 10% உயர்த்தப்பட்டு பிறகு 10% குறைக்கப்படுகிறது எனில் அவருடைய வருமானத்தில் ஏற்படும் மாற்ற விகிதத்தைக் காண்க.

The income of a person is increased by 10% and then decreased by 10%. Find the change in his income in percentage.

- (A) reduced by 1% (B) increased by 1%
- (C) reduced by 2% (D) increased by 2%

அடுத்த உறுப்பு காண்.

Find the next term.

64, 32, 48, 120, 420, _____.



அடுத்த உறுப்பு காண்.

Find the next term.

64, 32, 48, 120, 420, _____.

(A) 1260

(C) 1686

(B) 1890

(D) 2318

குறிப்பு : கீழே கொடுக்கப்பட்டுள்ள இலக்கங்கள்-எழுத்துக்கள்-குறியீடுகள் தொடரிலிருந்து கீழ்க்காணும் வினாவிற்கு விடையளிக்கவும்.

@18HLI6K*&?UE

இத்தொடரில் எத்தனை எண்கள் உயிரெழுத்தை தொடர்ந்தும், உயிர்மெய் எழுத்துக்கு முன்னும் அமைந்துள்ளது?

How many numbers are there in the series which are preceded by a vowel and succeeded by a consonant?

குறிப்பு : கீழே கொடுக்கப்பட்டுள்ள இலக்கங்கள்-எழுத்துக்கள்-குறியீடுகள் தொடரிலிருந்து கீழ்க்காணும் வினாவிற்கு விடையளிக்கவும்.

@18HLI6K*&?UE

இத்தொடரில் எத்தனை எண்கள் உயிரெழுத்தை தொடர்ந்தும், உயிர்மெய் எழுத்துக்கு முன்னும் அமைந்துள்ளது?

How many numbers are there in the series which are preceded by a vowel and succeeded by a consonant?

(A) Two

(C) Three

(B) Four

(D) One

45 மாணவர்கள் உள்ள வகுப்பில் ரவி 9 வது தரம் பெற்றுள்ளார். இராஜுக்கு கீழே 18 மாணவர்கள் தரம் பெற்றுள்ளனர். ரவி மற்றும் ராஜுக்கு இடைப்பட்ட தரம் பெற்ற மாணவர்களின் எண்ணிக்கை என்ன?

Ravi ranks 9th in a class of 45 students. There are 18 students below Raj Rankwise. How many students are there between Ravi and Raj rankwise?

45 மாணவர்கள் உள்ள வகுப்பில் ரவி 9 வது தரம் பெற்றுள்ளார். இராஜுக்கு கீழே 18 மாணவர்கள் தரம் பெற்றுள்ளனர். ரவி மற்றும் ராஜுக்கு இடைப்பட்ட தரம் பெற்ற மாணவர்களின் எண்ணிக்கை என்ன?

Ravi ranks 9th in a class of 45 students. There are 18 students below Raj Rankwise. How many students are there between Ravi and Raj rankwise?

- (A) 27
~~(B) 17~~
(C) 18
(D) 19



SINCE 2013
We Shine Academy®
 guiding you to get through
 ISO 9001-2015 Certified Educational Institution

**உங்களின்
 அரசு வேலை
 கனவிற்கான முதற்படியை
 இன்றே தொடங்குங்கள்!***

*Guaranteed Central or State Government jobs
 within 6 months of course completion

**TNPSC
 GROUP I
 23rd
 RANK**

Our Central and State
GOVERNMENT OFFICERS
 TNPSC | TNUSRB | TET | SSC | BANK EXAM

 Illakiya	 Suganya	 Alshwarya	 Kesavan K	 Mayuri Priya	 M Esther Angeline	 Shankarl	 Nantha kumar	 K Anu Priya
 Sakthi	 MadhuMathi	 Sri Ganesh	 Subanya S	 Kingsley J	 Arul Mozhi	 J Jeya	 M Umapathy	 P Balaji
 Dharani K	 Alex Pandian	 Kavitha	 Vishnu Priya	 Nisha	 Kalaiselvi	 Bala Vignesh Raj	 Muthu Selvi C	 Karthick
 Suresh	 B Jeenath	 by Joint Commissioner			 Kishore	 K Revathy	 Sankaragomathy S	
 M Pandiyarajan	 S Thanga Mani				 D Parthiban	 M Mahindravarman	 Michael Priyanka	
 Wasin N	 Sundar Rajan	 Interview Panel Members			 Rajasekar	 Vimala	 Lashmanan	

* Terms and conditions apply



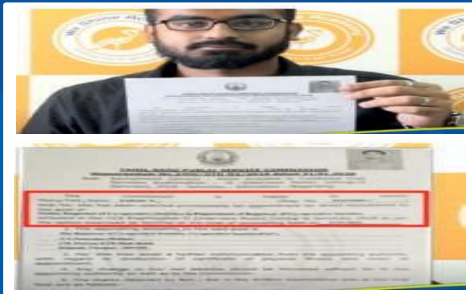
OUR GOVERNMENT OFFICERS

K. THANGA MEENA DEVI

இந்து சமய அறநிலையத் துறை,
உதவியாளர் பணி



STUDENTS WITH APPOINTMENT ORDER



CONGRATULATIONS
ON SUCCESSFULLY GETTING PLACED IN



Angaleswaran
Sub Inspector



Barkavi. K
Educational Dept.



Anandhalakshmi J
IBPS RRB clerk



Sankara Gomathy.S
Village
Administrative Officer



Jeeva. R
Chennai High court



Harisankar K
Police Contable



Vinoth
District Court



Adityan
Agriculture Dept.

Our Central and State GOVERNMENT OFFICERS



Thennarasu
TNUSRB Police



Sangeetha
TNPSC GROUP II
Exam Cleared



Aathithyan G
TNPSC Exam
Agriculture Dept.



Kumari
SBI (PO)



Bala Kumaran V
TNPSC Exam
Agriculture Dept.



Bhavya Shree R
Cleared NICL -
Prelims Exam



Kameshwaran
TNPSC GROUP II
Exam Cleared



Michael Priyanka
IBPS SCALE-II
Officer



Murali
Indian Bank



Jeyanthi
TNPSC GROUP IV



Nirmala S
Group II Interview
Post



Varun Kumar M
SSC 6D



Anjali
IBPS SO
(IT OFFICER)



Manimegalai
TNPSC
Judery
Department



Pankajavalli
TNPSC
Stenographer



Parasuraman
Sub Inspector



Abdul Rahman
SSC - MTS



Pradeepraj N
Group 2 A prelims



Aswini
SSC & BANK



Thennarasu
TNUSRB Police



Veera Perumal
TNPSC GROUP II
Exam Cleared



Sivaranjani
TNPSC GROUP II
Exam Cleared



Manimozhi
TNPSC GROUP II
Exam Cleared



Harisankar K
Police Constable



Kavitha
TNUSRB Police
Exam Cleared



B. Benazir Banu
TNUSRB Police
Exam Cleared



Aswin Kumar
Tamilnadu
Post Office



Divya
TNPSC Group II
Exam Cleared



Mathumathi P
Assistant Inspector
of Labour



Manimaran N
Sub Inspector



KAMARAJ
Sub Inspector



N. PRASHANTH



THE WESHINE JOURNEY.

Our Central and State GOVERNMENT OFFICERS



Gayathri
RBI



Aswin Kumar, S
TN Postal Dept.



Yesu Amirtham
TNPSC HIGH COURT



M.Esther Angeline
Police Constable



Madhumathi
TNPSC GROUP 1
Exam Cleared



Sabeen Banu
TNPSC HIGH COURT



D.Vignesh
Police Constable



Rahmath Nisha
Labour Dept.



GOKUL S
SSC/BANK



JAI GANESH
SSC/BANK



C.Muthu Selvi
Police Constable



SOWMEYA.S
SSC/BANK



Fahad
Social Welfare
Dept.



KIRAN KUMAR
SSC/BANK



Hari Shankar. P
LIC



Parasuraman
Police Constable



PADMA PRIYA PT
LIC



SURESH .R
LIC



P. Bharathkumar
TNSRB SI



Naveen .D
SSC/BANK



HARI SHANKAR.P
LIC



S.Madhavan
Police Constable



Anjali .R
SSC/BANK



M. Sivasubbu
Police Constable



Also We provide internal coaching for

Trusted Partnership with



www.weshineacademy.com

8939 144 344 | 8939 244 344



SINCE 2013
We Shine Academy[®]

guiding you to get through

TNPSC | TNUSRB | TET | SSC | BANK EXAM

TNPSC GROUP-I Express TEST SERIES

Starts on:
Saturday | 07-02-2026

Features:

- ✓ 5000+ Questions
- ✓ 37 Total Tests
- ✓ 21 General Studies Tests
- ✓ 05 Revision Tests
- ✓ 11 Full-Length Mock Tests

Offline: ₹5,999/-

Online: ₹4,999/-

Offer:

We Shine Old Students -
FREE!




Teachers Recruitment Board

Perasiriyar Anbazhagan Kalvi Valagam, College Road, Chennai - 600006.

Hall Ticket for OMR Examination (Objective Type)

for the Tamil Nadu Teacher Eligibility Test, Paper - II - 2025

[Notification No. 03/2025 Dated: 11.08.2025]

விண்ணப்பதாரரின் பெயர் / Candidate's Name	SUBASHINI A	 
விண்ணப்பதாரரின் தேர்வு எண். / Candidate's Roll No.	25T21103570127	
விண்ணப்பதாரரின் விண்ணப்ப எண். / Candidate's Application No.	TETP2117329	
பிறந்த தேதி / Date of Birth	19-11-2002	
தந்தை / தாய் பெயர் Father / Mother Name	ANNADURAI R	
பாலினம் / Gender	FEMALE	
மாற்றுத்திறனாளி / Differently abled	NO	
சொல்வதை எழுதுபவர் / Scribe	-	
விண்ணப்பித்த மொழி / Language Applied for	Tamil	
விண்ணப்பித்த விருப்பப் பாடம் / Optional Subject for	Mathematics and Science	
விண்ணப்பதாரரின் முகவரி / Address of the Candidate:	7/128, ARUNTHATHIYAR STRRET, VANAKARANPUDUR, THATHAIYANGARPATTI (PO), NAMAKKAL, NAMAKKAL, NAMAKKAL, PIN - 637014	



Teachers Recruitment Board

Perasiriyar Anbazhagan Kalvi Valagam, College Road, Chennai - 600006.

Hall Ticket for OMR Examination (Objective Type)

for the Tamil Nadu Teacher Eligibility Test, Paper - II - 2025

[Notification No. 03/2025 Dated: 11.08.2025]

விண்ணப்பதாரரின் பெயர் / Candidate's Name	NAGAMMAL A	 	
விண்ணப்பதாரரின் தேர்வு எண். / Candidate's Roll No.	25T21103820131		
விண்ணப்பதாரரின் விண்ணப்ப எண். / Candidate's Application No.	TETP2132346		
பிறந்த தேதி / Date of Birth	10-04-1990		
தந்தை / தாய் பெயர் Father / Mother Name	AYYAPPAN PILLAI SS		
பாலினம் / Gender	FEMALE		
மாற்றுத்திறனாளி / Differently abled	NO		
சொல்வதை எழுதுபவர் / Scribe	-		
விண்ணப்பித்த மொழி / Language Applied for	Tamil		
விண்ணப்பித்த விருப்பப் பாடம் / Optional Subject for	Mathematics and Science		
விண்ணப்பதாரரின் முகவரி / Address of the Candidate:	FLAT.NO:148,TNHB COLONY,TAMBARAM SANATORIUM, CHENNAI, CHENGALPATTU, PIN - 600047		
மையக் குறியீட்டுடன் தேர்வு மையம் பெயர், முகவரி மற்றும் மாவட்டம்: / Centre code, Name and Address of the Examination Centre with District:	Centre Code: 0382 District: CHENNAI GRT MAHALAKSHMI VIDYALAYA MATRIC HSS,NO-76,7TH AVENU,ASHOK NAGAR,CHENNAI 600083.		
Schedule of Examination			
Date of Exam	Reporting Time	Gate Closing Time	Examination Timings
16.11.2025	8.30 a.m.	9.30 a.m.	10.00 a.m. to 01.00 p.m. - All candidates 10.00 a.m. to 02.00 p.m. - PWD candidates



Teachers Recruitment Board

Perasiriyar Anbazhagan Kalvi Valagam, College Road, Chennai - 600006.

Hall Ticket for OMR Examination (Objective Type)
for the Tamil Nadu Teacher Eligibility Test, Paper - II - 2025
[Notification No. 03/2025 Dated: 11.08.2025]

விண்ணப்பதாரரின் பெயர் / Candidate's Name	RAM PRIYA M
விண்ணப்பதாரரின் தேர்வு எண். / Candidate's Roll No.	25T21203240436
விண்ணப்பதாரரின் விண்ணப்ப எண். / Candidate's Application No.	TETP2196836
பிறந்த தேதி / Date of Birth	04-05-1993
தந்தை / தாய் பெயர் Father / Mother Name	MUTHURAJ G
பாலினம் / Gender	FEMALE
மாற்றுத்திறனாளி / Differently abled	NO
சொல்வதை எழுதுபவர் / Scribe	-
விண்ணப்பித்த மொழி / Language Applied for	Tamil
விண்ணப்பித்த விருப்பப் பாடம் / Optional Subject for	Social Science
விண்ணப்பதாரரின் முகவரி / Address of the Candidate:	1/525, 1ST FLOOR, 1ST BLOCK, MUGAPPAIR WEST, CHENNAI, THIRUVALLUR, PIN - 600037
மையக் குறியீட்டுடன் தேர்வு மையம் பெயர், முகவரி மற்றும் மாவட்டம்: / Centre code, Name and Address of the Examination Centre with District:	Centre Code: 0324 District: CHENNAI CHENNAI GIRLS HIGHER SECONDARY SCHOOL, NO-2A, SCHOOL ROAD, M H ROAD, PERAMBUR, CHENNAI-600 011.



Muthuraj G



Schedule of Examination

Date of Exam	Reporting Time	Gate Closing Time	Examination Timings
16.11.2025	8.30 a.m.	9.30 a.m.	10.00 a.m. to 01.00 p.m. - All candidates 10.00 a.m. to 02.00 p.m. - PWD candidates



Teachers Recruitment Board

Perasiriyar Anbazhagan Kalvi Valagam, College Road, Chennai - 600006.

Hall Ticket for OMR Examination (Objective Type)
for the Tamil Nadu Teacher Eligibility Test, Paper - II - 2025
[Notification No. 03/2025 Dated: 11.08.2025]

விண்ணப்பதாரரின் பெயர் / Candidate's Name	GOWTHAMI S
விண்ணப்பதாரரின் தேர்வு எண். / Candidate's Roll No.	25T21133240072
விண்ணப்பதாரரின் விண்ணப்ப எண். / Candidate's Application No.	TETP2037725
பிறந்த தேதி / Date of Birth	16-05-1990
தந்தை / தாய் பெயர் Father / Mother Name	SOUNDARAJAN P
பாலினம் / Gender	FEMALE
மாற்றுத்திறனாளி / Differently abled	NO
சொல்வதை எழுதுபவர் / Scribe	-
விண்ணப்பித்த மொழி / Language Applied for	Tamil
விண்ணப்பித்த விருப்பப் பாடம் / Optional Subject for	Mathematics and Science
விண்ணப்பதாரரின் முகவரி / Address of the Candidate:	NO 268, NACHARKUPPAM, NACHARKUPPAM POST, TIRUPATHUR, TIRUPATHUR, PIN - 635710
மையக் குறியீட்டுடன் தேர்வு மையம் பெயர், முகவரி மற்றும் மாவட்டம்: / Centre code, Name and Address of the Examination Centre with District:	Centre Code: 3324 District: TIRUPATTUR MARY IMMACULATE GIRLS HR SEC SCHOOL TIRUPATTUR LONDON MISSION ROAD, TIRUPATTUR-635601



S. Gowthami








Teachers Recruitment Board

Perasiriyar Anbazhagan Kalvi Valagam, College Road, Chennai - 600006.

Hall Ticket for OMR Examination (Objective Type)
for the Tamil Nadu Teacher Eligibility Test, Paper – II - 2025
[Notification No. 03/2025 Dated: 11.08.2025]


விண்ணப்பதாரரின் பெயர் / Candidate's Name	PRABHA K	 
விண்ணப்பதாரரின் தேர்வு எண். / Candidate's Roll No.	25T21102160228	
விண்ணப்பதாரரின் விண்ணப்ப எண். / Candidate's Application No.	TETP2077164	
பிறந்த தேதி / Date of Birth	24-01-1988	
தந்தை / தாய் பெயர் Father / Mother Name	KUMANAN C	
பாலினம் / Gender	FEMALE	
மாற்றுத்திறனாளி / Differently abled	NO	
சொல்வதை எழுதுபவர் / Scribe	.	
விண்ணப்பித்த மொழி / Language Applied for	Tamil	
விண்ணப்பித்த விருப்பப் பாடம் / Optional Subject for	Mathematics and Science	
விண்ணப்பதாரரின் முகவரி / Address of the Candidate:	NO 24. RAMAIYA NAGAR, MEDAVAKKAM, CHENNAI, KANCHEEPURAM, PIN - 600100	



Teachers Recruitment Board

Perasiriyar Anbazhagan Kalvi Valagam, College Road, Chennai - 600006.

Hall Ticket for OMR Examination (Objective Type)
for the Tamil Nadu Teacher Eligibility Test, Paper – II - 2025
[Notification No. 03/2025 Dated: 11.08.2025]

விண்ணப்பதாரரின் பெயர் / Candidate's Name	SHIVASANKARI S	 
விண்ணப்பதாரரின் தேர்வு எண். / Candidate's Roll No.	25T21138190024	
விண்ணப்பதாரரின் விண்ணப்ப எண். / Candidate's Application No.	TETP2045008	
பிறந்த தேதி / Date of Birth	18-08-1997	
தந்தை / தாய் பெயர் Father / Mother Name	SIVANU M	
பாலினம் / Gender	FEMALE	
மாற்றுத்திறனாளி / Differently abled	NO	
சொல்வதை எழுதுபவர் / Scribe	.	
விண்ணப்பித்த மொழி / Language Applied for	Tamil	
விண்ணப்பித்த விருப்பப் பாடம் / Optional Subject for	Mathematics and Science	
விண்ணப்பதாரரின் முகவரி / Address of the Candidate:	1/884, PALANI ANDAVAR NAGAR, DHARAPURAM ROAD, K.CHETTIPALAYAM, TIRUPPUR, TIRUPPUR, PIN - 641604	
மையக் குறியீட்டுடன் தேர்வு மையம் பெயர், முகவரி மற்றும் மையக் குறியீட்டுடன் தேர்வு மையம் பெயர், முகவரி மற்றும் District Code and Address of the Examination Centre with District:	Centre Code: 3819 District: VIRUDHUNAGAR CSI GIRLS HR SEC SCHOOL, CSI CHURCH COMPOUND, MADURAI MAINROAD, ARUPPUKOTTAI-626101	

Schedule of Examination

Date of Exam	Reporting Time	Gate Closing Time	Examination Timings
16.11.2025	8.30 a.m.	9.30 a.m.	10.00 a.m. to 01.00 p.m. – All candidates 10.00 a.m. to 02.00 p.m. – PWD candidates

PLEASE READ THE FOLLOWING IMPORTANT INSTRUCTIONS CAREFULLY

- Candidates should download their Hall Ticket through online only as no separate physical copy of this Hall Ticket will be dispatched.
- Candidates should check their Hall Ticket for the information furnished therein and in case of any discrepancy, it should be immediately reported to the TRB, Chennai for necessary action.
- The candidates appearing for the examination in their own interest, should check their eligibility in all respects to avoid disappointment if any at later stage and their candidature for this examination is "PURELY PROVISIONAL".
- Please note that this Hall Ticket does not constitute any offer of employment.
- NO REQUEST FOR CHANGE OF EXAMINATION CENTRE WILL BE CONSIDERED UNDER ANY CIRCUMSTANCES.
- No candidate will be allowed to enter into the Examination Hall after gate closing time 09:30 a.m. and should not leave the Examination Hall before 01:00 p.m. for all candidates and 02:00 p.m. for PWD candidates.
- The candidate must bring this Hall Ticket to the Examination Centre. No candidate will be allowed entry without this Hall Ticket.
- The candidate is also instructed to bring any one of the following Photo Identification Cards in original viz.
 - Aadhar Card
 - PAN Card



Teachers Recruitment Board

Perasiriyar Anbazhagan Kalvi Valagam, College Road, Chennai - 600006.

Hall Ticket for OMR Examination (Objective Type)
for the Tamil Nadu Teacher Eligibility Test, Paper - II - 2025
[Notification No. 03/2025 Dated: 11.08.2025]

விண்ணப்பதாரரின் பெயர் / Candidate's Name	DEEPA AM	 
விண்ணப்பதாரரின் தேர்வு எண். / Candidate's Roll No.	25T21103070159	
விண்ணப்பதாரரின் விண்ணப்ப எண். / Candidate's Application No.	TETP2331329	
பிறந்த தேதி / Date of Birth	30-04-1990	
தந்தை / தாய் பெயர் Father / Mother Name	MUNUSAMY A	
பாலினம் / Gender	FEMALE	
மாற்றுத்திறனாளி / Differently abled	NO	
சொல்வதை எழுதுபவர் / Scribe	-	
விண்ணப்பித்த மொழி / Language Applied for	Tamil	
விண்ணப்பித்த விருப்பப் பாடம் / Optional Subject for	Mathematics and Science	
விண்ணப்பதாரரின் முகவரி / Address of the Candidate:	NO 67 A THULUKKANATHAMMAN KOVIL STREET BHARATHI NAGAR ZAMIN PALLAVARAM, CHENNAI, KANCHEEPURAM CHENGALPET, PIN - 600043	
மையக் குறியீட்டுடன் தேர்வு மையம் பெயர், முகவரி மற்றும் மாவட்டம்: / Centre code, Name and Address of the Examination Centre with District:	Centre Code: 0307 District: CHENNAI PERUNTHALAIVAR KAMARAJAR GOVERNMENT GIRLS HIGHER SECONDARY SCHOOL, NORTH PARK STREET, VENKATAPURAM .AMBATTUR, CHENNAI-600 053.	

Schedule of Examination



Date of Exam	Reporting Time	Gate Closing Time	Examination Timings
16.11.2025	8.30 a.m.	9.30 a.m.	10.00 a.m. to 01.00 p.m. - All candidates 10.00 a.m. to 02.00 p.m. - PWD candidates



Teachers Recruitment Board

Perasiriyar Anbazhagan Kalvi Valagam, College Road, Chennai - 600006.

Hall Ticket for OMR Examination (Objective Type)
for the Tamil Nadu Teacher Eligibility Test, Paper - II - 2025
[Notification No. 03/2025 Dated: 11.08.2025]

விண்ணப்பதாரரின் பெயர் / Candidate's Name	NIRUBA MAYIL V	 
விண்ணப்பதாரரின் தேர்வு எண். / Candidate's Roll No.	25T21230060158	
விண்ணப்பதாரரின் விண்ணப்ப எண். / Candidate's Application No.	TETP2052064	
பிறந்த தேதி / Date of Birth	12-06-1981	
தந்தை / தாய் பெயர் Father / Mother Name	VEERAPERUMAL R	
பாலினம் / Gender	FEMALE	
மாற்றுத்திறனாளி / Differently abled	NO	
சொல்வதை எழுதுபவர் / Scribe	-	
விண்ணப்பித்த மொழி / Language Applied for	Tamil	
விண்ணப்பித்த விருப்பப் பாடம் / Optional Subject for	Social Science	
விண்ணப்பதாரரின் முகவரி / Address of the Candidate:	5/90 MIDDLE STREET SRI MOOLAKARAI SRIVAIKUNDAM TALUK, THOOTHUKUDI, THOOTHUKUDI, PIN - 628620	



Hall Ticket for OMR Examination (Objective Type)

for the Tamil Nadu Teacher Eligibility Test, Paper - II - 2025

[Notification No. 03/2025 Dated: 11.08.2025]

விண்ணப்பதாரரின் பெயர் / Candidate's Name	SANGEETHA R
விண்ணப்பதாரரின் தேர்வு எண். / Candidate's Roll No.	25T21127200028
விண்ணப்பதாரரின் விண்ணப்ப எண். / Candidate's Application No.	TETP2051771
பிறந்த தேதி / Date of Birth	01-07-1982
தாய் பெயர் / Mother Name	RAJA B
பாலினம் / Gender	FEMALE
மாற்றுத்திறனாளி / Differently abled	NO
சொல்வதை எழுதுபவர் / Scribe	
விண்ணப்பித்த மொழி / Language Applied for	Tamil
விண்ணப்பித்த விருப்பப் பாடம் / Optional Subject for	Social Science
விண்ணப்பதாரரின் முகவரி / Address of the Candidate:	24/1 KANCHIPURAM HIGH ROAD , NO 65 PALUR VILLAGE AND POST, PALUR, CHENGALPATTU, PIN - 603101
மையக் குறியீட்டுடன் தேர்வு மையம் பெயர், முகவரி மற்றும் மாவட்டம்: / Centre code, Name and Address of the Examination Centre with District:	Centre Code: 0207 District: CHENGALPATTU GOVT GIRLS HR SEC SCHOOL, ORAGADAM SALAI(OPPOSITE TO TALUK OFFICE) THIRUKALUKUNDRAM, CHENGALPATTU DIST -603109



Teachers Recruitment Board

Perasiriyar Anbazhagan Kalvi Valagam, College Road, Chennai - 600006.

Hall Ticket for OMR Examination (Objective Type)

for the Tamil Nadu Teacher Eligibility Test, Paper - II - 2025

[Notification No. 03/2025 Dated: 11.08.2025]

விண்ணப்பதாரரின் பெயர் / Candidate's Name	LAKSHMI R
விண்ணப்பதாரரின் தேர்வு எண். / Candidate's Roll No.	25T21202070216
விண்ணப்பதாரரின் விண்ணப்ப எண். / Candidate's Application No.	TETP2145208
பிறந்த தேதி / Date of Birth	18-05-1985
தந்தை / தாய் பெயர் / Father / Mother Name	RASPAL P
பாலினம் / Gender	FEMALE
மாற்றுத்திறனாளி / Differently abled	NO
சொல்வதை எழுதுபவர் / Scribe	-
விண்ணப்பித்த மொழி / Language Applied for	Tamil
விண்ணப்பித்த விருப்பப் பாடம் / Optional Subject for	Social Science
விண்ணப்பதாரரின் முகவரி / Address of the Candidate:	24/1 KANCHIPURAM HIGH ROAD , NO 65 PALUR VILLAGE AND POST, PALUR, CHENGALPATTU, PIN - 603101
மையக் குறியீட்டுடன் தேர்வு மையம் பெயர், முகவரி மற்றும் மாவட்டம்: / Centre code, Name and Address of the Examination Centre with District:	Centre Code: 0207 District: CHENGALPATTU GOVT GIRLS HR SEC SCHOOL, ORAGADAM SALAI(OPPOSITE TO TALUK OFFICE) THIRUKALUKUNDRAM, CHENGALPATTU DIST -603109



L. Lakshmi





Teachers Recruitment Board

Perasiriyar Anbazhagan Kalvi Valagam, College Road, Chennai - 600006.

Hall Ticket for OMR Examination (Objective Type)
for the Tamil Nadu Teacher Eligibility Test, Paper - II - 2025
[Notification No. 03/2025 Dated: 11.08.2025]

விண்ணப்பதாரரின் பெயர் / Candidate's Name	DEEPA AM	 
விண்ணப்பதாரரின் தேர்வு எண். / Candidate's Roll No.	25T21103070159	
விண்ணப்பதாரரின் விண்ணப்ப எண். / Candidate's Application No.	TETP2331329	
பிறந்த தேதி / Date of Birth	30-04-1990	
தந்தை / தாய் பெயர் Father / Mother Name	MUNUSAMY A	
பாலினம் / Gender	FEMALE	
மாற்றுத்திறனாளி / Differently abled	NO	
சொல்வதை எழுதுபவர் / Scribe	-	
விண்ணப்பித்த மொழி / Language Applied for	Tamil	
விண்ணப்பித்த விருப்பப் பாடம் / Optional Subject for	Mathematics and Science	
விண்ணப்பதாரரின் முகவரி / Address of the Candidate:	NO 67 A THULUKKANATHAMMAN KOVIL STREET BHARATHI NAGAR ZAMIN PALLAVARAM, CHENNAI, KANCHEEPURAM CHENGALPET, PIN - 600043	
மையக் குறியீட்டுடன் தேர்வு மையம் பெயர், முகவரி மற்றும் மாவட்டம்: / Centre code, Name and Address of the Examination Centre with District:	Centre Code: 0307 District: CHENNAI PERUNTHALAIVAR KAMARAJAR GOVERNMENT GIRLS HIGHER SECONDARY SCHOOL,NORTH PARK STREET, VENKATAPURAM .AMBATTUR,CHENNAI-600 053.	

Schedule of Examination


Date of Exam	Reporting Time	Gate Closing Time	Examination Timings
16.11.2025	8.30 a.m.	9.30 a.m.	10.00 a.m. to 01.00 p.m. - All candidates 10.00 a.m. to 02.00 p.m. - PWD candidates



Teachers Recruitment Board

Perasiriyar Anbazhagan Kalvi Valagam, College Road, Chennai - 600006.

Hall Ticket for OMR Examination (Objective Type)
for the Tamil Nadu Teacher Eligibility Test, Paper - II - 2025
[Notification No. 03/2025 Dated: 11.08.2025]

விண்ணப்பதாரரின் பெயர் / Candidate's Name	NIRUBA MAYIL V	 
விண்ணப்பதாரரின் தேர்வு எண். / Candidate's Roll No.	25T21230060158	
விண்ணப்பதாரரின் விண்ணப்ப எண். / Candidate's Application No.	TETP2052064	
பிறந்த தேதி / Date of Birth	12-06-1981	
தந்தை / தாய் பெயர் Father / Mother Name	VEERAPERUMAL R	
பாலினம் / Gender	FEMALE	
மாற்றுத்திறனாளி / Differently abled	NO	
சொல்வதை எழுதுபவர் / Scribe	-	
விண்ணப்பித்த மொழி / Language Applied for	Tamil	
விண்ணப்பித்த விருப்பப் பாடம் / Optional Subject for	Social Science	
விண்ணப்பதாரரின் முகவரி / Address of the Candidate:	5/90 MIDDLE STREET SRI MOOLAKARAI SRIVAIKUNDAM TALUK, THOOTHUKUDI, THOOTHUKUDI, PIN - 628620	

ஒன்பது வண்ண பெட்டிகள் சிவப்பு, கருப்பு, வெள்ளை, பச்சை, மஞ்சள், நீலம், ஆரஞ்சு, ஊதா, இளஞ்சிவப்பு இருக்கின்றன. ஆனால் அதே வரிசையில் இருக்க வேண்டிய அவசியமில்லை. ஐந்து பெட்டிகள் சிவப்பு மற்றும் வெள்ளை பெட்டிகளுக்கு இடையில் வைக்கப்பட்டுள்ளன. மஞ்சள் பெட்டியை வெள்ளை பெட்டிக்கு உடன் மேலே வைக்கப்பட்டுள்ளது. மூன்று பெட்டிகள் மட்டுமே மஞ்சள் மற்றும் பச்சை பெட்டிகளுக்கு இடையே உள்ளது. சிவப்பு மற்றும் பச்சை பெட்டிகளுக்கு இடையே உள்ள பெட்டிகளின் எண்ணிக்கையிலேயே கருப்பு மற்றும் மஞ்சள் பெட்டிகளுக்கு இடையில் உள்ளது. நீலப்பெட்டி, கருப்பு பெட்டிக்கு கீழே வைக்கப்பட்டுள்ளது, ஆனால் அது அடியில் வைக்கப்படவில்லை. நான்கு பெட்டிகளுக்கு மேல் மஞ்சள் மற்றும் நீலப் பெட்டிகளுக்கு இடையில் வைக்கப்பட்டுள்ளது. ஒரு பெட்டி நீலப்பெட்டிக்கும் ஆரஞ்சு பெட்டிக்கும் இடையில் வைக்கப்பட்டுள்ளது. இளஞ்சிவப்பு பெட்டி ஊதா பெட்டிக்கு மேல் வைக்கப்பட்டுள்ளது. எந்த பெட்டி கருப்பு பெட்டிக்கு மேலும், கீழும் இருக்கும்?

There are 9 color boxes Red, Black, White, Green, Yellow, Blue, Orange, Violet, Pink but not necessarily in same order. Only 5 boxes placed between Red and White. Yellow is placed immediate above White. Only three boxes are placed between Yellow and Green. As many boxes placed between Red and Green as between Black and Yellow. Blue is placed below black but not at bottom. More than 4 boxes are placed between Yellow and Blue one box is placed between blue and orange. Pink box is placed above Violet. Which box is placed immediate above and immediate below Black?


- ~~(A)~~ Pink and Green
- (B) Pink and Violet
- (C) Green and Blue
- (D) Pink and Orange

DANGER என்பது 10-7-20-13-11-24 என குறியிடப்பட்டிருந்தால், அதே

குறியீட்டில் MACHINE என்னும் சொல்லின் குறியீடு

If DANGER is coded as 10-7-20-13-11-24, then the code of

'MACHINE' in the same code is



DANGER என்பது 10-7-20-13-11-24 என குறியிடப்பட்டிருந்தால், அதே

குறியீட்டில் MACHINE என்னும் சொல்லின் குறியீடு

If DANGER is coded as 10-7-20-13-11-24, then the code of

'MACHINE' in the same code is

(A) 13-7-20-9-11-25-15

(B) 13-7-20-10-11-25-15

(C) 19-7-9-15-14-11-20

~~(D)~~ 19-7-9-14-15-20-11

→ என்பது கூட்டலையும்,

← என்பது கழித்தலையும்,

↑ என்பது வகுத்தலையும்,

↓ என்பது பெருக்கலையும்,

↗ என்பது சமம் என்பதையும் குறித்தால் கீழ்க்கண்டவற்றில் எது சரியானதாகும்?

(A) $7 \leftarrow 43 \uparrow 6 \downarrow 1 \nearrow 4$

(B) $3 \downarrow 6 \uparrow 2 \rightarrow 3 \leftarrow 6 \nearrow 5$

(C) $5 \rightarrow 7 \leftarrow 3 \uparrow 2 \nearrow 4$

(D) $2 \downarrow 5 \leftarrow 6 \rightarrow 2 \nearrow 6$

If \rightarrow stands for 'addition',

\leftarrow stands for 'subtraction',

\uparrow stands for 'division',

\downarrow stands for 'multiplication',

\nearrow stands for 'equal to' then which of the following alternatives is correct?

(A) $7 \leftarrow 43 \uparrow 6 \downarrow 1 \nearrow 4$

(B) $3 \downarrow 6 \uparrow 2 \rightarrow 3 \leftarrow 6 \nearrow 5$

(C) $5 \rightarrow 7 \leftarrow 3 \uparrow 2 \nearrow 4$

~~(D)~~ $2 \downarrow 5 \leftarrow 6 \rightarrow 2 \nearrow 6$

A, B மற்றும் C ஆகியோர் தனித்தனியாக ஒரு வேலையை முறையே 12 நாட்கள், 15 நாட்கள் மற்றும் 20 நாட்களில் செய்கின்றனர். இப்போது மூன்று பேரும் அவ்வேலையை ஒன்றாக செய்யத் துவங்குகின்றனர். ஆனால் C இரண்டு நாட்களில் வேலையை விட்டுவிடுகிறார் எனில், A-ம், B-ம் மீதமுள்ள வேலையை _____ நாட்களில் முடிப்பர்.

A, B and C can separately do a work in 12, 15 and 20 days respectively. They started to work together but C left after 2 days. Then A and B will finish the remaining work in _____ days.

A, B மற்றும் C ஆகியோர் தனித்தனியாக ஒரு வேலையை முறையே 12 நாட்கள், 15 நாட்கள் மற்றும் 20 நாட்களில் செய்கின்றனர். இப்போது மூன்று பேரும் அவ்வேலையை ஒன்றாக செய்யத் துவங்குகின்றனர். ஆனால் C இரண்டு நாட்களில் வேலையை விட்டுவிடுகிறார் எனில், A-ம், B-ம் மீதமுள்ள வேலையை _____ நாட்களில் முடிப்பர்.

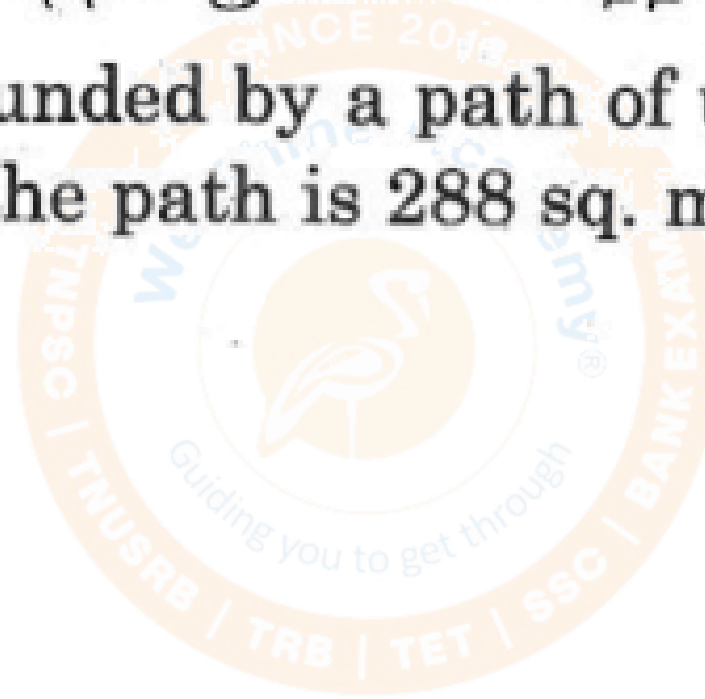
A, B and C can separately do a work in 12, 15 and 20 days respectively. They started to work together but C left after 2 days. Then A and B will finish the remaining work in _____ days.

- ~~(A)~~ 4
(C) 6

- (B) 5
(D) 15

ஒரு சதுர வடிவிலான பூங்காவானது, அதன் அனைத்து பக்கங்களிலும் 2 மீ அகலமுள்ள ஒரே அளவிலான பாதையால் சூழப்பட்டுள்ளது. அந்தப் பாதையின் பரப்பளவு 288 ச.மீ எனில் அந்தப் பூங்காவின் சுற்றளவினைக் காண்க.

A square park is surrounded by a path of uniform width 2 metre all around it. The area of the path is 288 sq. metres. Find the perimeter of the park



ஒரு சதுர வடிவிலான பூங்காவானது, அதன் அனைத்து பக்கங்களிலும் 2 மீ அகலமுள்ள ஒரே அளவிலான பாதையால் சூழப்பட்டுள்ளது. அந்தப் பாதையின் பரப்பளவு 288 ச.மீ எனில் அந்தப் பூங்காவின் சுற்றளவினைக் காண்க.

A square park is surrounded by a path of uniform width 2 metre all around it. The area of the path is 288 sq. metres. Find the perimeter of the park

- (A) 124 m
(C) 100 m

- (B) 144 m
 (D) 136 m

தனி வட்டியில், A என்பவர் ரூ. 16,000 தொகையை 12% ஆண்டு வட்டிக்கு கடன் வாங்குகிறார். தனி வட்டியில், B என்பவர் ரூ. 12,000 தொகையை 18% ஆண்டு வட்டிக்கு கடன் வாங்குகிறார். எத்தனை ஆண்டுகளில் இவர்களின் கடன் தொகை சமமாக இருக்கும்?

A borrows Rs. 16,000 at 12% p.a. simple interest and B borrows Rs. 12,000 at 18% p.a. simple interest. In how many years will their amounts debt be equal?

தனி வட்டியில், A என்பவர் ரூ. 16,000 தொகையை 12% ஆண்டு வட்டிக்கு கடன் வாங்குகிறார். தனி வட்டியில், B என்பவர் ரூ. 12,000 தொகையை 18% ஆண்டு வட்டிக்கு கடன் வாங்குகிறார். எத்தனை ஆண்டுகளில் இவர்களின் கடன் தொகை சமமாக இருக்கும்?

A borrows Rs. 16,000 at 12% p.a. simple interest and B borrows Rs. 12,000 at 18% p.a. simple interest. In how many years will their amounts debt be equal?

- (A) $12\frac{2}{3}$ years
- (B) $14\frac{2}{3}$ years
- ~~(C)~~ $16\frac{2}{3}$ years
- (D) $18\frac{2}{3}$ years

ஒரு மனிதர் ரூ. 500 க்கு, 12 மேசைகள் மற்றும் நாற்காலிகள் வாங்குகிறார். ஒரு மேசையின் விலை ரூ. 50ம், ஒரு நாற்காலியின் விலை ரூ. 40 க்கும் வாங்குகிறார் எனில் அவர் வாங்கிய நாற்காலி மற்றும் மேசையின் விலையின் விகிதத்தைக் காண்க.

A man spends Rs. 500 in buying 12 tables and chairs. The cost of one table is Rs. 50 and that of one chair is Rs. 40. What is the ratio of the numbers of the chairs and tables purchased?

ஒரு மனிதர் ரூ. 500 க்கு, 12 மேசைகள் மற்றும் நாற்காலிகள் வாங்குகிறார். ஒரு மேசையின் விலை ரூ. 50ம், ஒரு நாற்காலியின் விலை ரூ. 40 க்கும் வாங்குகிறார் எனில் அவர் வாங்கிய நாற்காலி மற்றும் மேசையின் விலையின் விகிதத்தைக் காண்க.

A man spends Rs. 500 in buying 12 tables and chairs. The cost of one table is Rs. 50 and that of one chair is Rs. 40. What is the ratio of the numbers of the chairs and tables purchased?

- ~~(A)~~ 5 : 1 (B) 2 : 10
(C) 10 : 5 (D) 9 : 3

a மற்றும் $a+2$ இவற்றின் மீ.பொ.மடங்கு 1300 எனில் a மற்றும் $a+1$ இவற்றின் மீ.பொ.மடங்கு காண்க.

If LCM of ' a ' and " $a+2$ " is 1300. Find the LCM of " a " and $a+1$.



a மற்றும் $a+2$ இவற்றின் மீ.பொ.மடங்கு 1300 எனில் a மற்றும் $a+1$ இவற்றின் மீ.பொ.மடங்கு காண்க.

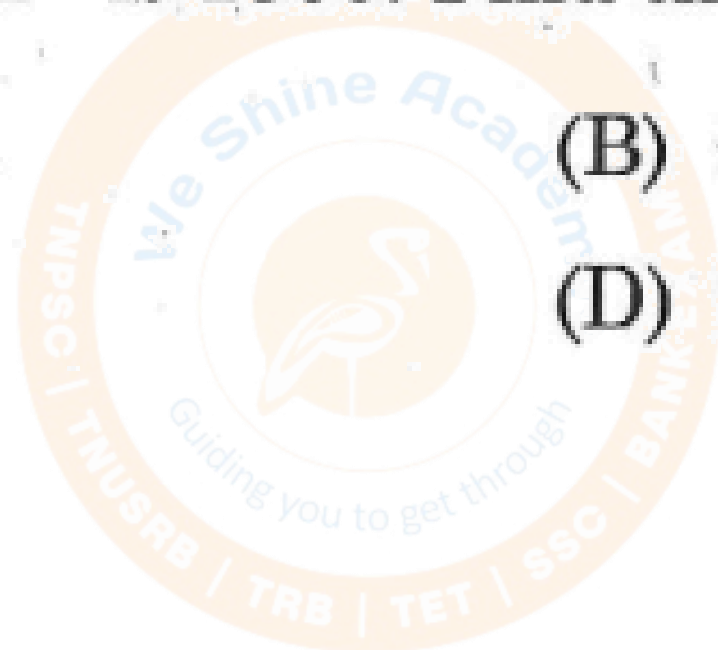
If LCM of ' a ' and " $a+2$ " is 1300. Find the LCM of " a " and $a+1$.

(A) 1350

(C) 2550

(B) 2600

(D) 2700



இரு எண்கள் 15 : 11 என்ற விகிதத்தில் அமைந்துள்ளன. அவற்றின் மீ.பொ.வ 13 எனில் அந்த எண்களைக் காண்க.

Two numbers are in the ratio of 15 : 11. If their HCF is 13. Find the numbers.



இரு எண்கள் 15 : 11 என்ற விகிதத்தில் அமைந்துள்ளன. அவற்றின் மீ.பொ.வ 13 எனில் அந்த எண்களைக் காண்க.

Two numbers are in the ratio of 15 : 11. If their HCF is 13. Find the numbers.

- (A) 585 and 429
(C) 390 and 286

- (B) 195 and 143
(D) 117 and 182

15 மீ 17 செ.மீ நீளமும் 9 மீ 2 செ.மீ அகலமும் கொண்ட ஒரு அறையின் தளத்தை அமைக்கத் தேவையான சதுர, ஓடுகளின் குறைந்தபட்ச எண்ணிக்கை என்ன?

The least number of square tiles required to pave the ceiling of a room 15 m 17 cm long and 9 m 2 cm broad is



15 மீ 17 செ.மீ நீளமும் 9 மீ 2 செ.மீ அகலமும் கொண்ட ஒரு அறையின் தளத்தை அமைக்கத் தேவையான சதுர, ஓடுகளின் குறைந்தபட்ச எண்ணிக்கை என்ன?

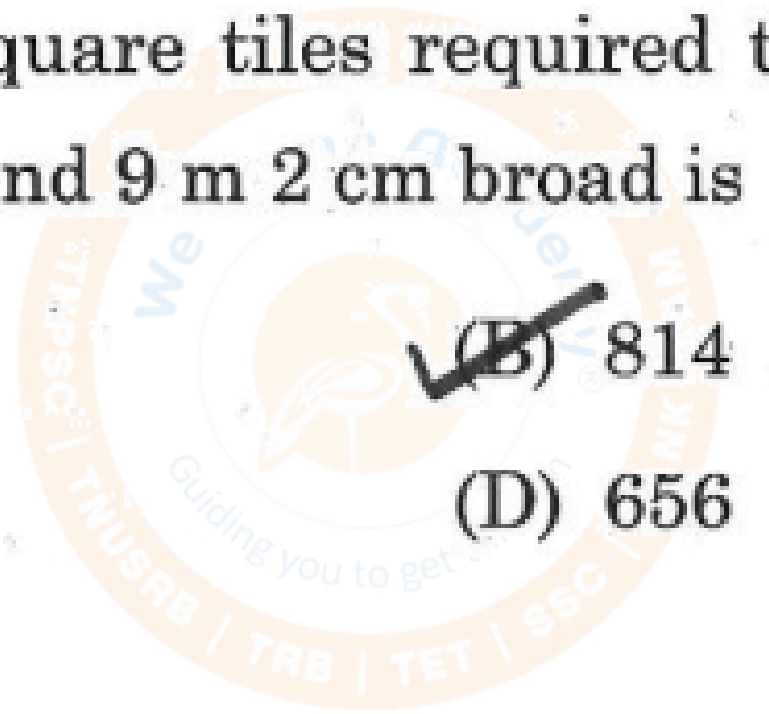
The least number of square tiles required to pave the ceiling of a room 15 m 17 cm long and 9 m 2 cm broad is

(A) 738

(B) 814

(C) 902

(D) 656



If $\frac{a}{b} = \frac{4}{5}$ and $\frac{b}{c} = \frac{15}{16}$ then $\frac{c^2 - a^2}{c^2 + a^2} =$



If $\frac{a}{b} = \frac{4}{5}$ and $\frac{b}{c} = \frac{15}{16}$ then $\frac{c^2 - a^2}{c^2 + a^2} =$

(A) $\frac{1}{7}$

(C) $\frac{8}{4}$

(B) $\frac{7}{25}$

(D) $\frac{25}{7}$

311 311 311 311 311 311 311 என்ற எண் ஆனது _____.

- (A) 3 ஆலும் மீதியின்றி வகுபடாது, 11-றாலும் மீதியின்றி வகுபடாது
- (B) 11 ஆல் மீதியின்றி வகுபடும் ஆனால் 3 ஆல் மீதியின்றி வகுபடாது
- (C) 3 ஆல் மீதியின்றி வகுபடும் ஆனால் 11-ஆல் மீதியின்றி வகுபடாது
- (D) 3 மற்றும் 11 ஆல் மீதியின்றி வகுபடும்

The number 311 311 311 311 311 311 311 is _____.

- (A) neither divisible by 3 nor by 11
- (B) divisible by 11 but not by 3
- (C) divisible by 3 but not by 11
- (D) divisible by both 3 and 11

If $A \rightarrow 1, B \rightarrow 2, C \rightarrow 3 \dots Z \rightarrow 26$

$A^B + B^C + C^A$ will not be equal to _____.

(A) \sqrt{FX}

(B) $S - G$

~~(C)~~ (B) (E)

(D) L



ஒரு பகடையில் 1க்கு எதிரே 4 மற்றும் 2க்கு எதிரே 5 உள்ளது எனில்

- (A) 3 ஆனது 4 மற்றும் 6க்கு அருகே உள்ளது
- (B) 3 ஆனது 5 மற்றும் 6க்கு அருகே உள்ளது
- (C) 2 ஆனது 3 மற்றும் 6க்கு அருகே உள்ளது
- (D) 1 ஆனது 4 மற்றும் 6க்கு அருகே உள்ளது

In a dice if 1 is opposite to 4 and 2 is opposite to 5, then

- (A) 3 is adjacent to 4 and 6
- (B) 3 is adjacent to 5 and 6
- ~~(C) 2 is adjacent to 3 and 6~~
- (D) 1 is adjacent to 4 and 6

P என்பவர் Q ஐ விட பெரியவர். R என்பவர் Q-வை விட பெரியவர் ஆனால்

Pஐ விட சிறியவர். S என்பவர் P ஐ விட பெரியவர் ஆனால் Tஐ விட சிறியவர்.

இதில் யார் மிகச்சிறியவர்?

P is elder than Q. R is elder than Q but younger than P. S is elder than P but younger than T. Who is the youngest?

- (A) R
- (B) T
- ~~(C) Q~~
- (D) S

P என்பவர் Q ஐ விட பெரியவர். R என்பவர் Q-வை விட பெரியவர் ஆனால்

Pஐ விட சிறியவர். S என்பவர் P ஐ விட பெரியவர் ஆனால் Tஐ விட சிறியவர்.

இதில் யார் மிகச்சிறியவர்?

P is elder than Q. R is elder than Q but younger than P. S is elder than P but younger than T. Who is the youngest?

A large, faint watermark logo for Weshine Academy is centered in the background. It is circular with an orange border. The text 'Weshine Academy' is written in a light blue font across the top. Below it, 'SINCE 2013' is written in a smaller font. At the bottom, 'Guiding you to get through' is written in a light blue font. The logo also lists various exam types: 'TNUSRB | TRB | TET | SSC | BANK EXAM'.

Thank You