






TNPSC COMBINED

**SINGLE FEE
MULTIPLE EXAMS**

₹19,999

**ADMISSION OPEN
JOIN NOW**

 **DIRECT CLASS**
 **ONLINE CLASS**
Available

-  **Time Tracker**
-  **Audio Study Materials**
-  **Easy EMI**
-  **Speed Maths**
-  **Book Set Materials - 17**

+91 8939 144 344 | +91 8939 244 344



SINCE 2013
We Shine Academy
guiding you to get through

TNPSC | TNUSRB | RRB | SSC | BANK EXAM

Directions Related Problems









1. நிஷா என்பவர் வீட்டிலிருந்து மேற்கு நோக்கி 8 கிமீ தூரம் நடந்து பின்னர் தெற்குத்திசையில் 12 கிமீ நடந்தார். இறுதியில் கிழக்கு நோக்கி 8 கிமீ நடந்து ஓரிடத்தை அடைந்தார். எனில், தற்போது அவர் வீட்டிலிருந்து எவ்வளவு தூரத்தில் உள்ளார்?

1) 8 கிமீ

2) 12 கிமீ

3) 10 கிமீ

4) 20 கிமீ

1. Nisha walked 8 km from her home towards west side. Then she waled towards 12 km. Finally she walked 8 km towards East and reached the place. howmany kilometers now she is from her home?

1) 8km

2) 12km

3) 10 km

4) 20 km

2. X என்பவர் 25 மீ கிழக்கு நோக்கி நகர்ந்து வலதுபக்கம் திரும்பி 40மீ தூரம் நடந்து பின்னர் நின்று விடுகிறார். எனில், ஆரம்ப இடத்தில் இருந்து எந்த திசையில் நிற்கின்றார் ?

1) வடகிழக்கு

3) தென்மேற்கு

2) தென்கிழக்கு

4) வடமேற்கு

2. X moved towards East direction. Then he turns to his right and walks 40 m and then he stopped. In which direction is he now from his starting point?

1) North East

3) South west

2) South East

4) North west

3. X-க்கு தென்மேற்கு திசையில் 25 மீ தூரத்தில் Y என்பவரும், Y-க்கு தென்கிழக்கில் 25மீ தூரத்தில் Z என்பவரும் உள்ளார். எனில், Xலிருந்து Zன் திசை யாது?

- 1) கிழக்கு
3) தெற்கு

- 2) மேற்கு
4) வடக்கு

3. Y is 25m South West of X. Z is 25 m South East of Y. Then, Z is in which direction of X?

- 1) East
3) South

- 2) West
4) North

4. சதீஸ் என்பவர் கிழக்கு திசையில் நின்று கொண்டு இருக்கின்றார். பின்னர், 90° கடிகார எதிர்திசையில் திரும்பி, மீண்டும் கடிகார திசையில் 90° திரும்புகிறார். மீண்டும் கடிகார எதிர்திசையில் 180° திரும்பினால், அவர் தற்போது எத்திசையை நோக்கி நிற்பார்?

- 1) கிழக்கு
3) வடக்கு

- 2) மேற்கு
4) தெற்கு

4. Sathish is facing East. He turns 90° in the clockwise direction and then another 90° in the same direction. And then 180° in the anti clockwise direction. Which direction is he facing now?

- 1) East
3) North

- 2) West
3) South

5. ஷாலினி என்பவர் மேற்கு நோக்கி திரும்பியுள்ளார். பின்னர், 45° அளவில் கடிகார எதிர்திசையில் திரும்பி, மீண்டும் கடிகார திசையில் 180° திரும்பினால், அவர் தற்போது எந்த திசையை நோக்கி

நிற்பார்?

- 1) கிழக்கு
- 2) வடமேற்கு
- 3) வடகிழக்கு
- 4) தென்மேற்கு

5. Shalini is facing west she turns in anti clockwise direction by 45° then 180° in the clockwise direction. Which direction is she facing now?

- 1) East
- 2) North West
- 3) North East
- 3) South West



SINCE 2013
We Shine Academy®
 guiding you to get through
 ISO 9001-2015 Certified Educational Institution

**உங்களின்
 அரசு வேலை
 கனவிற்கான முதற்படியை
 இன்றே தொடங்குங்கள்!***

*Guaranteed Central or State Government jobs
 within 6 months of course completion

**TNPSC
 GROUP I
 23rd
 RANK**

Our Central and State
GOVERNMENT OFFICERS
 TNPSC | TNUSRB | TET | SSC | BANK EXAM

 Illakiya	 Suganya	 Alshwarya	 Kesavan K	 Mayuri Priya	 M Esther Angeline	 Shankarl	 Nantha kumar	 K Anu Priya
 Sakthi	 MadhuMathi	 Sri Ganesh	 Subanya S	 Kingsley J	 Arul Mozhi	 J Jeya	 M Umapathy	 P Balaji
 Dharani K	 Alex Pandian	 Kavitha	 Vishnu Priya	 Nisha	 Kalaiselvi	 Bala Vignesh Raj	 Muthu Selvi C	 Karthick
 Suresh	 B Jeenath	 by Joint Commissioner			 Kishore	 K Revathy	 Sankaragomathy S	
 M Pandiyarajan	 S Thanga Mani				 D Parthiban	 M Mahindravarman	 Michael Priyanka	
 Wasin N	 Sundar Rajan	 Interview Panel Members			 Rajasekar	 Vimala	 Lashmanan	

* Terms and conditions apply



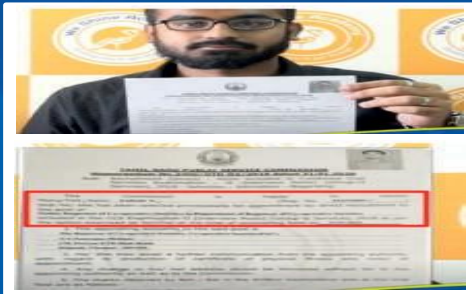
OUR GOVERNMENT OFFICERS

K. THANGA MEENA DEVI

இந்து சமய அறநிலையத் துறை,
உதவியாளர் பணி



STUDENTS WITH APPOINTMENT ORDER



CONGRATULATIONS
ON SUCCESSFULLY GETTING PLACED IN



Angaleswaran
Sub Inspector



Barkavi. K
Educational Dept.



Anandhalakshmi J
IBPS RRB clerk



Sankara Gomathy.S
Village
Administrative Officer



Jeeva. R
Chennai High court



Harisankar K
Police Contable



Vinoth
District Court



Adityan
Agriculture Dept.

Our Central and State GOVERNMENT OFFICERS



Thennarasu
TNUSRB Police



Sangeetha
TNPSC GROUP II
Exam Cleared



Aathithyan G
TNPSC Exam
Agriculture Dept.



Kumari
SBI (PO)



Bala Kumaran V
TNPSC Exam
Agriculture Dept.



Bhavya Shree R
Cleared NICL -
Prelims Exam



Kameshwaran
TNPSC GROUP II
Exam Cleared



Michael Priyanka
IBPS SCALE-II
Officer



Murali
Indian Bank



Jeyanthi
TNPSC GROUP IV



Nirmala S
Group II Interview
Post



Varun Kumar M
SSC 6D



Anjali
IBPS SO
(IT OFFICER)



Manimegalai
TNPSC
Judery
Department



Pankajavalli
TNPSC
Stenographer



Parasuraman
Sub Inspector



Abdul Rahman
SSC - MTS



Pradeepraj N
Group 2 A prelims



Aswini
SSC & BANK



Thennarasu
TNUSRB Police



Veera Perumal
TNPSC GROUP II
Exam Cleared



Sivaranjani
TNPSC GROUP II
Exam Cleared



Manimozhi
TNPSC GROUP II
Exam Cleared



Harisankar K
Police Constable



Kavitha
TNUSRB Police
Exam Cleared



B. Benazir Banu
TNUSRB Police
Exam Cleared



Aswin Kumar
Tamilnadu
Post Office



Divya
TNPSC Group II
Exam Cleared



Mathumathi P
Assistant Inspector
of Labour



Manimaran N
Sub Inspector



THE WESHINE JOURNEY.

Our Central and State GOVERNMENT OFFICERS



Gayathri
RBI



Aswin Kumar, S
TN Postal Dept.



Yesu Amirtham
TNPSC HIGH COURT



M.Esther Angeline
Police Constable



Madhumathi
TNPSC GROUP 1
Exam Cleared



Sabeen Banu
TNPSC HIGH COURT



D.Vignesh
Police Constable



Rahmath Nisha
Labour Dept.



GOKUL S
SSC/BANK



JAI GANESH
SSC/BANK



C.Muthu Selvi
Police Constable



SOWMEYA.S
SSC/BANK



Fahad
Social Welfare
Dept.



KIRAN KUMAR
SSC/BANK



Hari Shankar. P
LIC



Parasuraman
Police Constable



PADMA PRIYA PT
LIC



SURESH .R
LIC



P. Bharathkumar
TNSRB SI



Naveen .D
SSC/BANK



HARI SHANKAR.P
LIC



S.Madhavan
Police Constable



Anjali .R
SSC/BANK



M. Sivasubbu
Police Constable



Also We provide internal coaching for

Trusted Partnership with



www.weshineacademy.com

8939 144 344 | 8939 244 344



SINCE 2013
We Shine Academy[®]

guiding you to get through

TNPSC | TNUSRB | TET | SSC | BANK EXAM

TNPSC GROUP-I Express TEST SERIES

Starts on:
Saturday | 07-02-2026

Features:

- ✓ 5000+ Questions
- ✓ 37 Total Tests
- ✓ 21 General Studies Tests
- ✓ 05 Revision Tests
- ✓ 11 Full-Length Mock Tests

Offline: ₹5,999/-

Online: ₹4,999/-

Offer:

We Shine Old Students -
FREE!





Teachers Recruitment Board

Perasiriyar Anbazhagan Kalvi Valagam, College Road, Chennai - 600006.

Hall Ticket for OMR Examination (Objective Type)

for the Tamil Nadu Teacher Eligibility Test, Paper - II - 2025

[Notification No. 03/2025 Dated: 11.08.2025]

விண்ணப்பதாரரின் பெயர் / Candidate's Name	SUBASHINI A	 
விண்ணப்பதாரரின் தேர்வு எண். / Candidate's Roll No.	25T21103570127	
விண்ணப்பதாரரின் விண்ணப்ப எண். / Candidate's Application No.	TETP2117329	
பிறந்த தேதி / Date of Birth	19-11-2002	
தந்தை / தாய் பெயர் Father / Mother Name	ANNADURAI R	
பாலினம் / Gender	FEMALE	
மாற்றுத்திறனாளி / Differently abled	NO	
சொல்வதை எழுதுபவர் / Scribe	-	
விண்ணப்பித்த மொழி / Language Applied for	Tamil	
விண்ணப்பித்த விருப்பப் பாடம் / Optional Subject for	Mathematics and Science	
விண்ணப்பதாரரின் முகவரி / Address of the Candidate:	7/128, ARUNTHATHIYAR STRRET, VANAKARANPUDUR, THATHAIYANGARPATTI (PO), NAMAKKAL, NAMAKKAL, NAMAKKAL, PIN - 637014	



Teachers Recruitment Board

Perasiriyar Anbazhagan Kalvi Valagam, College Road, Chennai - 600006.

Hall Ticket for OMR Examination (Objective Type)

for the Tamil Nadu Teacher Eligibility Test, Paper - II - 2025

[Notification No. 03/2025 Dated: 11.08.2025]

விண்ணப்பதாரரின் பெயர் / Candidate's Name	NAGAMMAL A	 	
விண்ணப்பதாரரின் தேர்வு எண். / Candidate's Roll No.	25T21103820131		
விண்ணப்பதாரரின் விண்ணப்ப எண். / Candidate's Application No.	TETP2132346		
பிறந்த தேதி / Date of Birth	10-04-1990		
தந்தை / தாய் பெயர் Father / Mother Name	AYYAPPAN PILLAI SS		
பாலினம் / Gender	FEMALE		
மாற்றுத்திறனாளி / Differently abled	NO		
சொல்வதை எழுதுபவர் / Scribe	-		
விண்ணப்பித்த மொழி / Language Applied for	Tamil		
விண்ணப்பித்த விருப்பப் பாடம் / Optional Subject for	Mathematics and Science		
விண்ணப்பதாரரின் முகவரி / Address of the Candidate:	FLAT.NO:148,TNHB COLONY,TAMBARAM SANATORIUM, CHENNAI, CHENGALPATTU, PIN - 600047		
மையக் குறியீட்டுடன் தேர்வு மையம் பெயர், முகவரி மற்றும் மாவட்டம்: / Centre code, Name and Address of the Examination Centre with District:	Centre Code: 0382 District: CHENNAI GRT MAHALAKSHMI VIDYALAYA MATRIC HSS,NO-76,7TH AVENU,ASHOK NAGAR,CHENNAI 600083.		
Schedule of Examination			
Date of Exam	Reporting Time	Gate Closing Time	Examination Timings
16.11.2025	8.30 a.m.	9.30 a.m.	10.00 a.m. to 01.00 p.m. - All candidates 10.00 a.m. to 02.00 p.m. - PWD candidates



Teachers Recruitment Board

Perasiriyar Anbazhagan Kalvi Valagam, College Road, Chennai - 600006.

Hall Ticket for OMR Examination (Objective Type)
for the Tamil Nadu Teacher Eligibility Test, Paper - II - 2025
[Notification No. 03/2025 Dated: 11.08.2025]

விண்ணப்பதாரரின் பெயர் / Candidate's Name	RAM PRIYA M
விண்ணப்பதாரரின் தேர்வு எண். / Candidate's Roll No.	25T21203240436
விண்ணப்பதாரரின் விண்ணப்ப எண். / Candidate's Application No.	TETP2196836
பிறந்த தேதி / Date of Birth	04-05-1993
தந்தை / தாய் பெயர் Father / Mother Name	MUTHURAJ G
பாலினம் / Gender	FEMALE
மாற்றுத்திறனாளி / Differently abled	NO
சொல்வதை எழுதுபவர் / Scribe	-
விண்ணப்பித்த மொழி / Language Applied for	Tamil
விண்ணப்பித்த விருப்பப் பாடம் / Optional Subject for	Social Science
விண்ணப்பதாரரின் முகவரி / Address of the Candidate:	1/525, 1ST FLOOR, 1ST BLOCK, MUGAPPAIR WEST, CHENNAI, THIRUVALLUR, PIN - 600037
மையக் குறியீட்டுடன் தேர்வு மையம் பெயர், முகவரி மற்றும் மாவட்டம்: / Centre code, Name and Address of the Examination Centre with District:	Centre Code: 0324 District: CHENNAI CHENNAI GIRLS HIGHER SECONDARY SCHOOL, NO-2A, SCHOOL ROAD, M H ROAD, PERAMBUR, CHENNAI-600 011.



Muthuraj G



Schedule of Examination

Date of Exam	Reporting Time	Gate Closing Time	Examination Timings
16.11.2025	8.30 a.m.	9.30 a.m.	10.00 a.m. to 01.00 p.m. - All candidates 10.00 a.m. to 02.00 p.m. - PWD candidates



Teachers Recruitment Board

Perasiriyar Anbazhagan Kalvi Valagam, College Road, Chennai - 600006.

Hall Ticket for OMR Examination (Objective Type)
for the Tamil Nadu Teacher Eligibility Test, Paper - II - 2025
[Notification No. 03/2025 Dated: 11.08.2025]

விண்ணப்பதாரரின் பெயர் / Candidate's Name	GOWTHAMI S
விண்ணப்பதாரரின் தேர்வு எண். / Candidate's Roll No.	25T21133240072
விண்ணப்பதாரரின் விண்ணப்ப எண். / Candidate's Application No.	TETP2037725
பிறந்த தேதி / Date of Birth	16-05-1990
தந்தை / தாய் பெயர் Father / Mother Name	SOUNDARAJAN P
பாலினம் / Gender	FEMALE
மாற்றுத்திறனாளி / Differently abled	NO
சொல்வதை எழுதுபவர் / Scribe	-
விண்ணப்பித்த மொழி / Language Applied for	Tamil
விண்ணப்பித்த விருப்பப் பாடம் / Optional Subject for	Mathematics and Science
விண்ணப்பதாரரின் முகவரி / Address of the Candidate:	NO 268, NACHARKUPPAM, NACHARKUPPAM POST, TIRUPATHUR, TIRUPATHUR, PIN - 635710
மையக் குறியீட்டுடன் தேர்வு மையம் பெயர், முகவரி மற்றும் மாவட்டம்: / Centre code, Name and Address of the Examination Centre with District:	Centre Code: 3324 District: TIRUPATTUR MARY IMMACULATE GIRLS HR SEC SCHOOL TIRUPATTUR LONDON MISSION ROAD, TIRUPATTUR-635601



S. Gowthami








Teachers Recruitment Board

Perasiriyar Anbazhagan Kalvi Valagam, College Road, Chennai - 600006.

Hall Ticket for OMR Examination (Objective Type)
for the Tamil Nadu Teacher Eligibility Test, Paper - II - 2025
[Notification No. 03/2025 Dated: 11.08.2025]

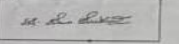

விண்ணப்பதாரரின் பெயர் / Candidate's Name	PRABHA K	 
விண்ணப்பதாரரின் தேர்வு எண். / Candidate's Roll No.	25T21102160228	
விண்ணப்பதாரரின் விண்ணப்ப எண். / Candidate's Application No.	TETP2077164	
பிறந்த தேதி / Date of Birth	24-01-1988	
தந்தை / தாய் பெயர் Father / Mother Name	KUMANAN C	
பாலினம் / Gender	FEMALE	
மாற்றுத்திறனாளி / Differently abled	NO	
சொல்வதை எழுதுபவர் / Scribe	.	
விண்ணப்பித்த மொழி / Language Applied for	Tamil	
விண்ணப்பித்த விருப்பப் பாடம் / Optional Subject for	Mathematics and Science	
விண்ணப்பதாரரின் முகவரி / Address of the Candidate:	NO 24. RAMAIYA NAGAR, MEDAVAKKAM, CHENNAI, KANCHEEPURAM, PIN - 600100	



Teachers Recruitment Board

Perasiriyar Anbazhagan Kalvi Valagam, College Road, Chennai - 600006.

Hall Ticket for OMR Examination (Objective Type)
for the Tamil Nadu Teacher Eligibility Test, Paper - II - 2025
[Notification No. 03/2025 Dated: 11.08.2025]

விண்ணப்பதாரரின் பெயர் / Candidate's Name	SHIVASANKARI S	 
விண்ணப்பதாரரின் தேர்வு எண். / Candidate's Roll No.	25T21138190024	
விண்ணப்பதாரரின் விண்ணப்ப எண். / Candidate's Application No.	TETP2045008	
பிறந்த தேதி / Date of Birth	18-08-1997	
தந்தை / தாய் பெயர் Father / Mother Name	SIVANU M	
பாலினம் / Gender	FEMALE	
மாற்றுத்திறனாளி / Differently abled	NO	
சொல்வதை எழுதுபவர் / Scribe	.	
விண்ணப்பித்த மொழி / Language Applied for	Tamil	
விண்ணப்பித்த விருப்பப் பாடம் / Optional Subject for	Mathematics and Science	
விண்ணப்பதாரரின் முகவரி / Address of the Candidate:	1/884, PALANI ANDAVAR NAGAR, DHARAPURAM ROAD, K.CHETTIPALAYAM, TIRUPPUR, TIRUPPUR, PIN - 641604	
மையக் குறியீட்டுடன் தேர்வு மையம் பெயர், முகவரி மற்றும் மையக் குறியீட்டுடன் தேர்வு மையம் பெயர், முகவரி மற்றும் District Code and Address of the Examination Centre with District:	Centre Code: 3819 District: VIRUDHUNAGAR CSI GIRLS HR SEC SCHOOL, CSI CHURCH COMPOUND, MADURAI MAINROAD, ARUPPUKOTTAI-626101	

Schedule of Examination

Date of Exam	Reporting Time	Gate Closing Time	Examination Timings
16.11.2025	8.30 a.m.	9.30 a.m.	10.00 a.m. to 01.00 p.m. - All candidates 10.00 a.m. to 02.00 p.m. - PWD candidates

PLEASE READ THE FOLLOWING IMPORTANT INSTRUCTIONS CAREFULLY

- Candidates should download their Hall Ticket through online only as no separate physical copy of this Hall Ticket will be dispatched.
- Candidates should check their Hall Ticket for the information furnished therein and in case of any discrepancy, it should be immediately reported to the TRB, Chennai for necessary action.
- The candidates appearing for the examination in their own interest, should check their eligibility in all respects to avoid disappointment if any at later stage and their candidature for this examination is "PURELY PROVISIONAL".
- Please note that this Hall Ticket does not constitute any offer of employment.
- NO REQUEST FOR CHANGE OF EXAMINATION CENTRE WILL BE CONSIDERED UNDER ANY CIRCUMSTANCES.
- No candidate will be allowed to enter into the Examination Hall after gate closing time 09:30 a.m. and should not leave the Examination Hall before 01:00 p.m. for all candidates and 02:00 p.m. for PWD candidates.
- The candidate must bring this Hall Ticket to the Examination Centre. No candidate will be allowed entry without this Hall Ticket.
- The candidate is also instructed to bring any one of the following Photo Identification Cards in original viz.
 - Aadhar Card
 - PAN Card



Teachers Recruitment Board

Perasiriyar Anbazhagan Kalvi Valagam, College Road, Chennai - 600006.

Hall Ticket for OMR Examination (Objective Type)
for the Tamil Nadu Teacher Eligibility Test, Paper - II - 2025
[Notification No. 03/2025 Dated: 11.08.2025]

விண்ணப்பதாரரின் பெயர் / Candidate's Name	DEEPA AM	 
விண்ணப்பதாரரின் தேர்வு எண். / Candidate's Roll No.	25T21103070159	
விண்ணப்பதாரரின் விண்ணப்ப எண். / Candidate's Application No.	TETP2331329	
பிறந்த தேதி / Date of Birth	30-04-1990	
தந்தை / தாய் பெயர் Father / Mother Name	MUNUSAMY A	
பாலினம் / Gender	FEMALE	
மாற்றுத்திறனாளி / Differently abled	NO	
சொல்வதை எழுதுபவர் / Scribe	-	
விண்ணப்பித்த மொழி / Language Applied for	Tamil	
விண்ணப்பித்த விருப்பப் பாடம் / Optional Subject for	Mathematics and Science	
விண்ணப்பதாரரின் முகவரி / Address of the Candidate:	NO 67 A THULUKKANATHAMMAN KOVIL STREET BHARATHI NAGAR ZAMIN PALLAVARAM, CHENNAI, KANCHEEPURAM CHENGALPET, PIN - 600043	
மையக் குறியீட்டுடன் தேர்வு மையம் பெயர், முகவரி மற்றும் மாவட்டம்: / Centre code, Name and Address of the Examination Centre with District:	Centre Code: 0307 District: CHENNAI PERUNTHALAIVAR KAMARAJAR GOVERNMENT GIRLS HIGHER SECONDARY SCHOOL,NORTH PARK STREET, VENKATAPURAM .AMBATTUR,CHENNAI-600 053.	

Schedule of Examination

Date of Exam	Reporting Time	Gate Closing Time	Examination Timings
16.11.2025	8.30 a.m.	9.30 a.m.	10.00 a.m. to 01.00 p.m. - All candidates 10.00 a.m. to 02.00 p.m. - PWD candidates



Teachers Recruitment Board

Perasiriyar Anbazhagan Kalvi Valagam, College Road, Chennai - 600006.

Hall Ticket for OMR Examination (Objective Type)
for the Tamil Nadu Teacher Eligibility Test, Paper - II - 2025
[Notification No. 03/2025 Dated: 11.08.2025]

விண்ணப்பதாரரின் பெயர் / Candidate's Name	NIRUBA MAYIL V	 
விண்ணப்பதாரரின் தேர்வு எண். / Candidate's Roll No.	25T21230060158	
விண்ணப்பதாரரின் விண்ணப்ப எண். / Candidate's Application No.	TETP2052064	
பிறந்த தேதி / Date of Birth	12-06-1981	
தந்தை / தாய் பெயர் Father / Mother Name	VEERAPERUMAL R	
பாலினம் / Gender	FEMALE	
மாற்றுத்திறனாளி / Differently abled	NO	
சொல்வதை எழுதுபவர் / Scribe	-	
விண்ணப்பித்த மொழி / Language Applied for	Tamil	
விண்ணப்பித்த விருப்பப் பாடம் / Optional Subject for	Social Science	
விண்ணப்பதாரரின் முகவரி / Address of the Candidate:	5/90 MIDDLE STREET SRI MOOLAKARAI SRIVAIKUNDAM TALUK, THOOTHUKUDI, THOOTHUKUDI, PIN - 628620	



Hall Ticket for OMR Examination (Objective Type)

for the Tamil Nadu Teacher Eligibility Test, Paper - II - 2025

[Notification No. 03/2025 Dated: 11.08.2025]

விண்ணப்பதாரரின் பெயர் / Candidate's Name	SANGEETHA R
விண்ணப்பதாரரின் தேர்வு எண். / Candidate's Roll No.	25T21127200028
விண்ணப்பதாரரின் விண்ணப்ப எண். / Candidate's Application No.	TETP2051771
பிறந்த தேதி / Date of Birth	01-07-1982
தாய் பெயர் / Mother Name	RAJA B
பாலினம் / Gender	FEMALE
மாற்றுத்திறனாளி / Differently abled	NO
சொல்வதை எழுதுபவர் / Scribe	
விண்ணப்பித்த மொழி / Language Applied for	Tamil
விண்ணப்பித்த விருப்பப் பாடம் / Optional Subject for	Social Science
விண்ணப்பதாரரின் முகவரி / Address of the Candidate:	24/1 KANCHIPURAM HIGH ROAD , NO 65 PALUR VILLAGE AND POST, PALUR, CHENGALPATTU, PIN - 603101
மையக் குறியீட்டுடன் தேர்வு மையம் பெயர், முகவரி மற்றும் மாவட்டம்: / Centre code, Name and Address of the Examination Centre with District:	Centre Code: 0207 District: CHENGALPATTU GOVT GIRLS HR SEC SCHOOL, ORAGADAM SALAI(OPPOSITE TO TALUK OFFICE) THIRUKALUKUNDRAM, CHENGALPATTU DIST -603109



Teachers Recruitment Board

Perasiriyar Anbazhagan Kalvi Valagam, College Road, Chennai - 600006.

Hall Ticket for OMR Examination (Objective Type)

for the Tamil Nadu Teacher Eligibility Test, Paper - II - 2025

[Notification No. 03/2025 Dated: 11.08.2025]

விண்ணப்பதாரரின் பெயர் / Candidate's Name	LAKSHMI R
விண்ணப்பதாரரின் தேர்வு எண். / Candidate's Roll No.	25T21202070216
விண்ணப்பதாரரின் விண்ணப்ப எண். / Candidate's Application No.	TETP2145208
பிறந்த தேதி / Date of Birth	18-05-1985
தந்தை / தாய் பெயர் / Father / Mother Name	RASPAL P
பாலினம் / Gender	FEMALE
மாற்றுத்திறனாளி / Differently abled	NO
சொல்வதை எழுதுபவர் / Scribe	-
விண்ணப்பித்த மொழி / Language Applied for	Tamil
விண்ணப்பித்த விருப்பப் பாடம் / Optional Subject for	Social Science
விண்ணப்பதாரரின் முகவரி / Address of the Candidate:	24/1 KANCHIPURAM HIGH ROAD , NO 65 PALUR VILLAGE AND POST, PALUR, CHENGALPATTU, PIN - 603101
மையக் குறியீட்டுடன் தேர்வு மையம் பெயர், முகவரி மற்றும் மாவட்டம்: / Centre code, Name and Address of the Examination Centre with District:	Centre Code: 0207 District: CHENGALPATTU GOVT GIRLS HR SEC SCHOOL, ORAGADAM SALAI(OPPOSITE TO TALUK OFFICE) THIRUKALUKUNDRAM, CHENGALPATTU DIST -603109



L. Lakshmi





Teachers Recruitment Board

Perasiriyar Anbazhagan Kalvi Valagam, College Road, Chennai - 600006.

Hall Ticket for OMR Examination (Objective Type)
for the Tamil Nadu Teacher Eligibility Test, Paper - II - 2025
[Notification No. 03/2025 Dated: 11.08.2025]

விண்ணப்பதாரரின் பெயர் / Candidate's Name	DEEPA AM	 
விண்ணப்பதாரரின் தேர்வு எண். / Candidate's Roll No.	25T21103070159	
விண்ணப்பதாரரின் விண்ணப்ப எண். / Candidate's Application No.	TETP2331329	
பிறந்த தேதி / Date of Birth	30-04-1990	
தந்தை / தாய் பெயர் Father / Mother Name	MUNUSAMY A	
பாலினம் / Gender	FEMALE	
மாற்றுத்திறனாளி / Differently abled	NO	
சொல்வதை எழுதுபவர் / Scribe	-	
விண்ணப்பித்த மொழி / Language Applied for	Tamil	
விண்ணப்பித்த விருப்பப் பாடம் / Optional Subject for	Mathematics and Science	
விண்ணப்பதாரரின் முகவரி / Address of the Candidate:	NO 67 A THULUKKANATHAMMAN KOVIL STREET BHARATHI NAGAR ZAMIN PALLAVARAM, CHENNAI, KANCHEEPURAM CHENGALPET, PIN - 600043	
மையக் குறியீட்டுடன் தேர்வு மையம் பெயர், முகவரி மற்றும் மாவட்டம்: / Centre code, Name and Address of the Examination Centre with District:	Centre Code: 0307 District: CHENNAI PERUNTHALAIVAR KAMARAJAR GOVERNMENT GIRLS HIGHER SECONDARY SCHOOL,NORTH PARK STREET, VENKATAPURAM .AMBATTUR,CHENNAI-600 053.	

Schedule of Examination

Date of Exam	Reporting Time	Gate Closing Time	Examination Timings
16.11.2025	8.30 a.m.	9.30 a.m.	10.00 a.m. to 01.00 p.m. - All candidates 10.00 a.m. to 02.00 p.m. - PWD candidates



Teachers Recruitment Board

Perasiriyar Anbazhagan Kalvi Valagam, College Road, Chennai - 600006.

Hall Ticket for OMR Examination (Objective Type)
for the Tamil Nadu Teacher Eligibility Test, Paper - II - 2025
[Notification No. 03/2025 Dated: 11.08.2025]

விண்ணப்பதாரரின் பெயர் / Candidate's Name	NIRUBA MAYIL V	 
விண்ணப்பதாரரின் தேர்வு எண். / Candidate's Roll No.	25T21230060158	
விண்ணப்பதாரரின் விண்ணப்ப எண். / Candidate's Application No.	TETP2052064	
பிறந்த தேதி / Date of Birth	12-06-1981	
தந்தை / தாய் பெயர் Father / Mother Name	VEERAPERUMAL R	
பாலினம் / Gender	FEMALE	
மாற்றுத்திறனாளி / Differently abled	NO	
சொல்வதை எழுதுபவர் / Scribe	-	
விண்ணப்பித்த மொழி / Language Applied for	Tamil	
விண்ணப்பித்த விருப்பப் பாடம் / Optional Subject for	Social Science	
விண்ணப்பதாரரின் முகவரி / Address of the Candidate:	5/90 MIDDLE STREET SRI MOOLAKARAI SRIVAIKUNDAM TALUK, THOOTHUKUDI, THOOTHUKUDI, PIN - 628620	

6. மகேஷ் என்பவர் ஓரிடத்திலிருந்து 30 மீ கிழக்குத் திசையில் நகர்ந்து வலப்புறம் திரும்பி 30 மீ நடக்கின்றார். பிறகு, இடப்புறம் திரும்பி 30 மீ நடக்கிறார். மீண்டும் இடதுபுறம் திரும்பி 15 மீ நடக்கின்றார். இறுதியாக தனது இடப்புறம் திரும்பி 60 மீ நடந்து ஓரிடத்தை அடைகிறார். எனில், ஆரம்ப இடத்திலிருந்து தற்போது எவ்வளவு தொலைவில், எத்திசையில் நிற்கின்றார்?
- 1) 20 மீ வடக்கு
 - 2) 30 மீ தெற்கு
 - 3) 30 மீ மேற்கு
 - 4) 15 மீ தெற்கு

6. Magesh walk 30m East. Then he turns his right and walks 30m. Then he again turns his left and walks 30 m then he again turns his left and walks 15m. Finally he turns his left and walks 60m and reaches a place. In which direction and how many meters away is he from his original position?

- 1) 20m North
- 2) 30m South
- 3) 30m West
- 4) 15m south

7. X என்பவர் 10மீ கிழக்குத் திசையில் சென்று பின்னர் கடிகார திசையில் 90° திரும்பி 8மீ நேராகச் செல்கின்றார். மீண்டும் 90° திரும்பி 16மீ நேராக செல்கிறார். எனில் அவர் புறப்பட்ட இடத்தில் இருந்து எத்திசையில் இருப்பார்?

- 1) வடக்கு 2) வடமேற்கு
3) தென்கிழக்கு 4) தென்மேற்கு

7. X moved a distance of 10 m towards East and then turns 90° in the clockwise direction. and walks 8m straightly. Then he turns at an angle of 90° and walks 16m straightly. In which direction is he now from his starting point?

- 1) North East 2) North West
3) South East 4) South West

8. ஒருவர் 24மீ உயரமுள்ள கொடிமரத்தின் அடியில் இருந்து கிழக்குத் திசையில் 7 மீ செல்கின்றார். அங்கிருந்து கொடிமரத்தின் உச்சியைப் பார்க்கிறார். எனில், அவருக்கும் கொடிமரத்தின் உச்சிக்கும் இடைப்பட்ட தொலைவு யாது?

- 1) 8 மீ 2) 24மீ
3) 25மீ 4) 16மீ

8. A person moves 7m toward east from bottom of a pole of 24m height from there, he see the top of the pole. How much distance from him to the top of the pole?

- 1) 8m 2) 24m
3) 25m 4) 16m

9. நமிதா என்பவர் வீட்டிலிருந்து வடக்கு நோக்கி 3கிமீ தூரம் நடந்து சென்று, பின்னர் தனது இடதுபுறம் திரும்பி 2கிமீ தூரம் நடக்கின்றார். பின்னர், மீண்டும் தனது இடதுபுறம் திரும்பி 3கிமீ தூரம் நடக்கின்றார். தற்போது அவர் புறப்பட்ட இடத்திலிருந்து எவ்வளவு தொலைவில் உள்ளார்?

1) 1 கிமீ

2) 2 கிமீ

3) 3 கிமீ

4) 5 கிமீ

9. Namitha walked 3 km from her home towards North side. Then she turned to her left and walked 2km. Again she turned left and walked 3km. How many kilometres now is she from her starting point?

1) 1km

2) 2km

3) 3km

4) 5km

10. ஒரு நாள் ரவி என்பவர் வீட்டிலிருந்து தனது மிதிவண்டியில் தெற்கு நோக்கி 10 கிமீ தூரம் சென்று பின்னர் வலதுபுறம் திரும்பி 5கிமீ தூரம் செல்கின்றார். பின்னர் மீண்டும் வலதுபுறம் திரும்பி 10 கிமீ தூரம் செல்கின்றார், அவரது வீட்டிற்கு நேராக செல்ல வேண்டுமெனில் எவ்வளவு கி.மீ அவர் தனது மிதிவண்டியில் பயணிக்க வேண்டும்?

- 1) 10கிமீ 2) 5கிமீ
3) 25கிமீ 4) 35 கிமீ

10. One day Ravi left home and cycled 10km southwards, turned right and cycled 5km and turned right and cycled 10km and turned left and cycled 10km. How many kilometres will he have cycle to reach his home straight?

- 1) 10km 2) 5km
3) 25km 4) 35km

11. ஒரு சிறுமி அவள் வீட்டிலிருந்து வடமேற்கு திசையில் 30மீ தூரம் சென்று பின்னர் தென்மேற்கு திசையில் 30மீ தூரம் நடக்கின்றார். பின்னர், அவர் தென்கிழக்கு திசையில் 30 மீ தூரம் நடக்கின்றார். இறுதியாக அவள் தன் வீட்டை நோக்கித் திரும்புகிறாள். எனில், தற்போது எத்திசையில் அவள் நின்று கொண்டிருக்கிறாள்?
- 1) வடகிழக்கு 2) வடமேற்கு
3) தென்கிழக்கு 3) தென்மேற்கு

11. A girl leaves from her home. She first walks 30m in North-West direction and then 30m in south west direction. Next she walks 30m in south-East direction. Finally she turn towards her house. In which direction is she standing?

- 1) North East 2) North West
3) South East 4) South West

வழிமுறை (12 - 13)

நான் ஒரு பூங்காவின் மையத்தில் நின்றுகொண்டிருக்கின்றேன். நான் கிழக்குத் திசையை நோக்கி நிற்கின்றேன். சுரேஷ் தென்மேற்கு திசையை நோக்கியும், அதே வேளையில் முகேஷ் வடமேற்கு திசையை நோக்கியும், ராஜா வடகிழக்கை நோக்கியும் நிற்கின்றனர். நாங்கள் ஒவ்வொருவரும் 90° அளவில் கடிகார திசையில் திரும்புகிறோம். எனில்,

12. தற்போது நான் நோக்கும் திசை?

- | | |
|----------------|-----------|
| 1) தென்கிழக்கு | 2) தெற்கு |
| 3) தென்மேற்கு | 4) மேற்கு |

DIRECTION (Qn.12 - 13)

I am standing in the middle of a park. I am facing North West and Raja is facing North East. Now each one of us turns through an angle of 90° in the clockwise direction.

12. In which direction am I facing now?

- 1) South East
- 2) South
- 3) South West
- 4) West

வழிமுறை (12 - 13)

நான் ஒரு பூங்காவின் மையத்தில் நின்றுகொண்டிருக்கின்றேன். நான் கிழக்குத் திசையை நோக்கி நிற்கின்றேன். சுரேஷ் தென்மேற்கு திசையை நோக்கியும், அதே வேளையில் முகேஷ் வடமேற்கு திசையை நோக்கியும், ராஜா வடகிழக்கை நோக்கியும் நிற்கின்றனர். நாங்கள் ஒவ்வொருவரும் 90° அளவில் கடிகார திசையில் திரும்புகிறோம். எனில்,

13. முகேஷ் என்பவர் எத்திசையை நோக்கி நிற்கின்றார்?
- 1) வடக்கு 2) வடகிழக்கு
3) கிழக்கு 4) தென்கிழக்கு

DIRECTION (Qn.12 - 13)

I am standing in the middle of a park. I am facing North West and Raja is facing North East. Now each one of us turns through an angle of 90° in the clockwise direction.

13. Which direction is Muhesh is facing?
- 1) North
2) North East
3) East
4) South East

வழிமுறை (14 - 15)

நான் எனது வீட்டிலிருந்து கிழக்கு நோக்கி 5 கிமீ தூரம் சென்று பின்னர் இடதுபுறம் திரும்பி 3 கிமீ தூரம் சென்றேன். மீண்டும், நான் இடதுபுறம் திரும்பி 3 கிமீ தூரம் சென்றேன். முடிவில், நான் இடதுபுறம் திரும்பி 3 கிமீ தூரம் சென்றேன். எனில்,

14. நான் எனது வீட்டிலிருந்து எவ்வளவு தொலைவில் உள்ளேன்?
- 1) 14 கிமீ 2) 8 கிமீ
3) 11 கிமீ 4) 2 கிமீ

DIRECTION (Qn.14 - 15)

After going 5 Km towards East from my house, I turned to left and went 3 Km. Again I turned to left and went 3 Km at the end I turned left and went 3 Km

14. How far I am from my house?
- 1) 14 Km 2) 8 Km
3) 11 Km 4) 2 Km

வழிமுறை (14 - 15)

நான் எனது வீட்டிலிருந்து கிழக்கு நோக்கி 5 கிமீ தூரம் சென்று பின்னர் இடதுபுறம் திரும்பி 3 கிமீ தூரம் சென்றேன். மீண்டும், நான் இடதுபுறம் திரும்பி 3 கிமீ தூரம் சென்றேன். முடிவில், நான் இடதுபுறம் திரும்பி 3 கிமீ தூரம் சென்றேன். எனில்,

15. நான் எனது வீட்டிலிருந்து தற்போது எத்திசையில் நிற்கின்றேன்?

- | | |
|--------------|-----------|
| 1) கிழக்கு | 2) மேற்கு |
| 3) வடகிழக்கு | 4) தெற்கு |

DIRECTION (Qn.14 - 15)

After going 5 Km towards East from my house, I turned to left and went 3 Km. Again I turned to left and went 3 Km at the end I turned left and went 3 Km

15. What is the direction of this place now from my house?

- | | |
|---------------|----------|
| 1) East | 2) South |
| 3) North East | 4) West |

16. தென்கிழக்கு என்பது கிழக்கு திசையாகவும், வடமேற்கு என்பது மேற்கு திசையாகவும், தென்மேற்கு என்பது தெற்கு திசை எனவும் அழைக்கப்பட்டால் வடக்கு திசை எவ்வாறு அழைக்கப்படும்?

- 1) கிழக்கு
2) வடமேற்கு
3) தெற்கு
4) வடகிழக்கு

16. If South East is called 'East', North West is called 'West', South West is called 'South' and so on. What will North be called ?

- 1) East
2) North West
3) South
4) North East

17. 'A' என்பவர் 10மீ முன்னோக்கி சென்று, வலது புறம் திரும்பி 10மீ சென்று, பின்னர் ஒவ்வொரு முறையும் தனது இடதுபுறமாக முறையே 5, 15, மற்றும் 15 மீட்டர்கள் செல்கின்றார். அவர் தற்போது புறப்பட்ட இடத்திலிருந்து எவ்வளவு தொலைவில் உள்ளார்?

- 1) 5 மீட்டர் 2) 10மீட்டர்
3) 15 மீட்டர் 4) 20 மீட்டர்

17. 'A' walks 10 metres in front and then 10 metres to the right, then every time turning to his left, he walks 5, 15 and 15 metres respectively. How far is he now from his starting point?

- 1) 5 metres 2) 10 metres
3) 15 metres 4) 20 metres

18. விஜய் என்பவர் கிழக்கு நோக்கி நிற்கின்றார். பின்னர் கடிகார திசையில் 90° திரும்புகிறார். பின்னர், 180° அளவில் எதிர் கடிகார திசையிலும், மீண்டும் 90° அளவில் கடிகார திசையிலும் திரும்புகின்றார். எனில், அவர் தற்போது எத்திசையை நோக்கி நிற்கின்றார்?

- | | |
|------------|----------------|
| 1) கிழக்கு | 2) மேற்கு |
| 3) தெற்கு | 4) தென்கிழக்கு |

18. Vijay is facing East. He turns in clockwise direction by 90° then 180° in the anti-clockwise direction and then another 90° in the clockwise direction. Which direction is he facing now ?

- 1) East
- 2) West
- 3) South
- 4) South East

19. அசோக் வடக்குத் திசையில் 15 கிமீ தூரம் சென்று, பின்னர் இடதுபுறம் திரும்பி மற்றொரு 4 கிமீ தூரம் செல்கின்றார். பின்னர் இடதுபுறம் திரும்பி மீண்டும் 12கிமீ தூரம் நடக்கின்றார். அவர் புறப்பட்ட இடத்திலிருந்து எவ்வளவு தொலைவில் எத்திசையில் உள்ளார்?

- 1) 7கிமீ, வடக்கு
- 2) 5 கிமீ, வடகிழக்கு
- 3) 5 கிமீ, வடமேற்கு
- 4) 11 கிமீ, தென்கிழக்கு

19. Ashok walked 15 Km towards North then turns left and having walked another 4 Km, he turned left again and waled 12 Km more. How far is he from the starting point and in which direction?

- 1) 7 Km North
- 2) 5 Km North East
- 3) 5 Km North West
- 4) 11 Km South East

20. இரு நபர்கள் எதிரெதிர் திசையில்
(முதுகுப்புறம் ஒட்டியவாறு) அமர்ந்துள்ளனர்.
முதல் நபரின் முகம் தெற்கு நோக்கி
உள்ளது. இரண்டாவது நபரின் இடது
கையானது எத்திசையில் அமையும்?

- | | |
|------------|-----------|
| 1) கிழக்கு | 2) மேற்கு |
| 3) வடக்கு | 4) தெற்கு |

20. Two persons are sitting back to
back. If the first persons face
towards the south. In which direc-
tion will be the left hand of the
second person?

- | | |
|----------|----------|
| 1) East | 2) West |
| 3) North | 4) South |



Thank You