

Matematika



**B**


*I*

U



# Bangun Datar

Segi Lima dan  
Segi Enam



# Bangun Datar: Segi Lima dan Segi Enam

Penyusun:

- Faisal Akbar
- Nurhayati
- Triyami

Penyunting Teks:

- Titis Nur Widiawati
- Ria Susanti

Untuk kebutuhan internal

Penerbit Yayasan Dayabunaya

Jl. Timbul IV B/1

Cipedak

Jagakarsa

Jakarta Selatan, 12630

Telp: 0819-0279-6842

Email: [tetum@sekolahetetum.org](mailto:tetum@sekolahetetum.org)

Diterbitkan pertama kali - 2024

Edisi Revisi 1 - 2025

Edisi Revisi 2 - 2026




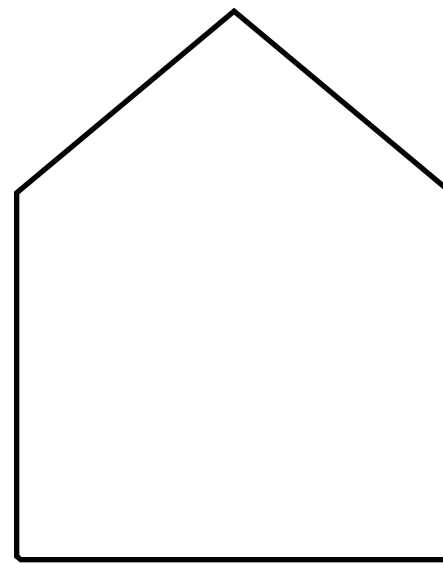
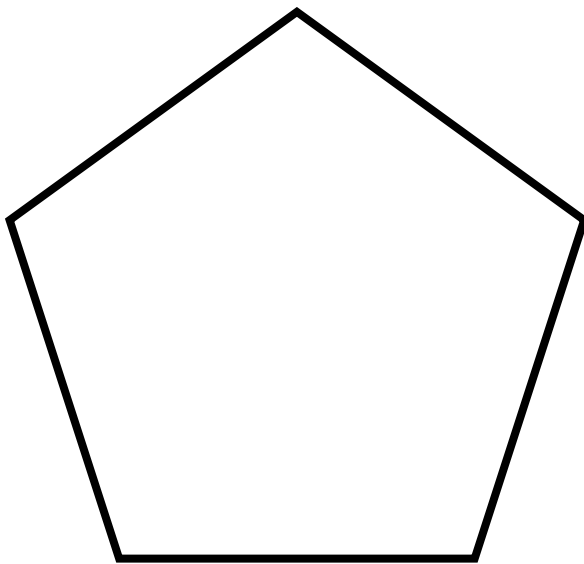
# MATEMATIKA KELAS VENUS

Pengajar: Nurhayati (Kak Aya)

## **Capaian Pembelajaran:**

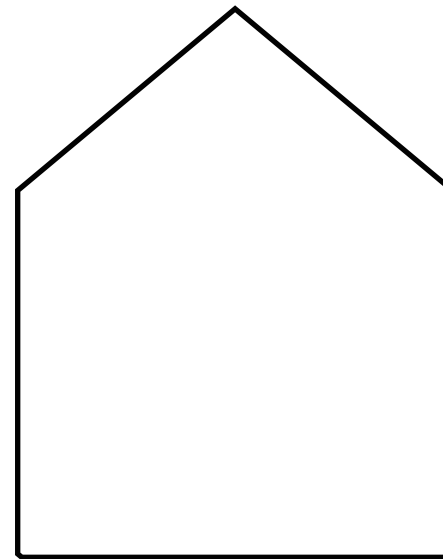
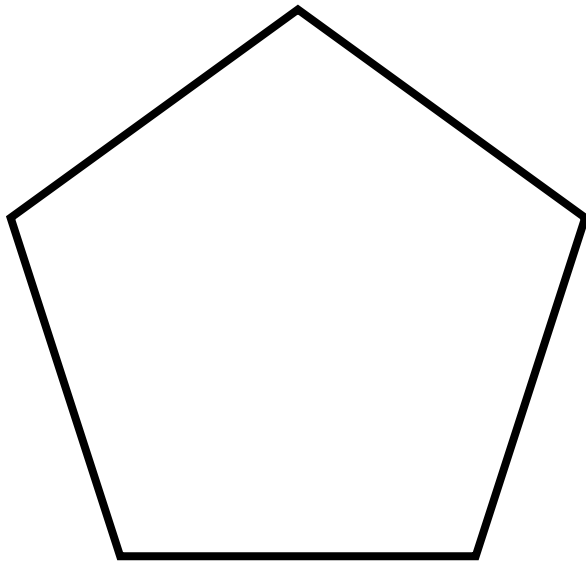
Peserta didik dapat mengenal berbagai bangun datar (segitiga, segi empat, segi banyak, lingkaran) dan bangun ruang (balok, kubus, kerucut, dan bola).



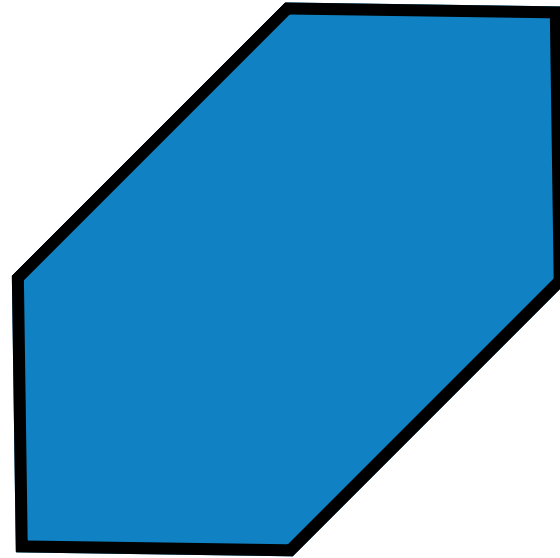
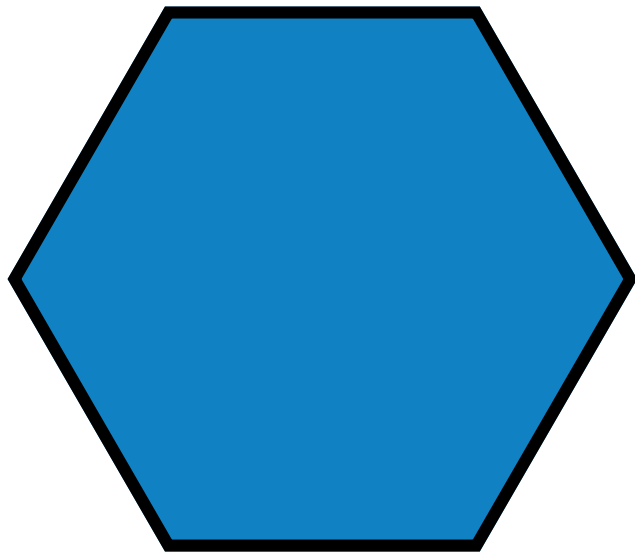


Adik-Adik, apa persamaan dari gambar di atas?

# Segi Lima

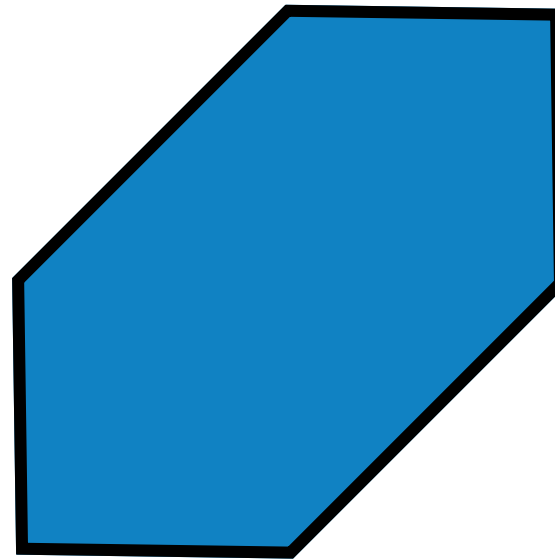
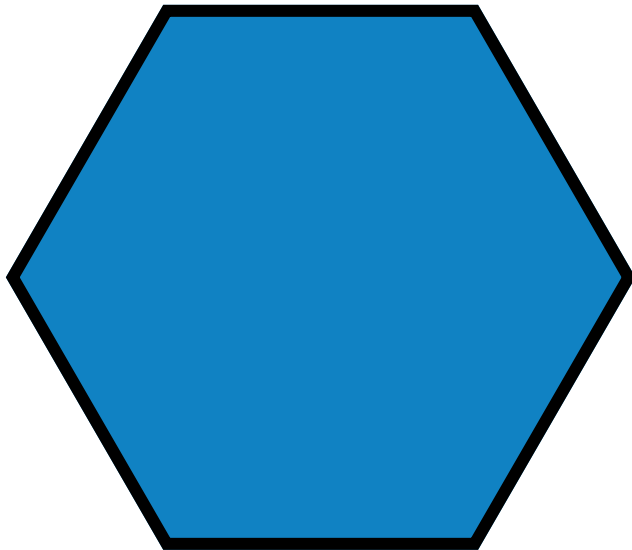


Segi lima adalah bangun datar yang dibatasi oleh **lima sisi garis lurus** dan **memiliki lima titik sudut**.



Adik-Adik, apa persamaan dari gambar di atas?

# Segi Enam



Segi enam adalah bangun datar yang dibatasi oleh **enam sisi garis lurus** dan **memiliki enam titik sudut**.

Adik-Adik, yuk sebutkan benda yang berbentuk segi lima dan segi enam.

Selamat Berkegiatan,  
Adik-Adik.





Sekolah Dasar Tetum Bunaya  
Yayasan Dayabunaya