



MODUL AJAR 9.16

EVALUASI MA 9.13-9.15

TANTANGAN PEMBANGUNAN INDONESIA



KELAS 9 [4 x 40']



SOCIAL STUDIES DIGITAL CLASS

2026 © Guru IPS SMPN 285 Jakarta
<www.guruipssmpn285jkt.online>

MODUL AJAR 9.16

SMPN 285 JAKARTA



by



Ady Lesmana - 2026



KEGIATAN PEMBELAJARAN AWAL

[40']



MENJELASKAN TUJUAN BELAJAR

[2']

ASESMEN MA 9.13 – 9.15

- Mengevaluasi kemampuan diri terhadap topik-topik yang telah dipelajari

**DAPAT DIJADIKAN ASESMEN
SUMATIF AKHIR SEMESTER**



SALAM PEMBUKA

[2']

*“Assalamu’alaikum Warahmatullahi Wabarakatuh,
Syalom, Salam Sejahtera, Om Swastyastu, Namu
Buddhaya, Salam Kebajikan, Salam Pancasila,
Salam Bahagia Bagi Kita Semua”*



DOA

UMUM/SESUAI KEPERCAYAAN & KEYAKINAN
[4']



MENYANYIKAN LAGU: NASIONAL/DAERAH/UMUM

JALANI MIMPI
(NOAH)
[4']



PRESENSI (MENGENAL PESERTA DIDIK) [8']



MULAI DARI DIRI ASESMEN FORMATIF/PERMAINAN/ICE BREAKING [18']

GAMES MORAL

PERHATIKAN GAMBAR
BERIKUT, GAMBAR APA?



PENJELASAN MORAL

- TIDAK ADA YANG SALAH DARI SUDUT PANDANG YANG DISAMPAIKAN
- HANYA KARENA KAMU BENAR BUKAN BERARTI AKU SALAH
- KAMU HANYA TIDAK MELIHATNYA DARI SISIKU



QUOTE OF THE DAY
(2')

*"Permata tidak dapat dipoles tanpa gesekan,
begitu pula manusia tidak dapat
disempurnakan tanpa cobaan."*

- Lucius Annaeus Seneca




**Ketekunan Adalah
Kekuatan Anda**



KESEPAKATAN KELAS IPS DIGITAL - SMPN 285 JAKARTA



Gawai
SKK**



KEGIATAN PEMBELAJARAN INTI (PELAKSANAAN ASESMEN)

[120']



SOAL NOMOR 1

Pada masa dimulainya orde lama, konflik internal dan eksternal masih kerap terjadi, maka karena hal tersebut pembangunan di masa Orde Lama lebih difokuskan pada bidang

- a. Pertanian
- b. Penataan Sistem Politik & Ekonomi
- c. Militer dan pertahanan
- d. Pendidikan dan kesehatan



SOAL NOMOR 2

Yang menjadi salah satu dari permasalahan ekonomi Indonesia pada masa akhir pemerintahan Orde Lama adalah

- a. Tingkat inflasi yang sangat tinggi
- b. Kelebihan produk pangan
- c. Surplus anggaran
- d. Tingkat pengangguran yang rendah



SOAL NOMOR 3

Pada masa orde lama, banyak badan usaha milik asing yang berada di Indonesia. Untuk itu, tujuan dari kebijakan ekonomi, pada masa tersebut, untuk mengatasi hal tersebut adalah dengan

- a. Membuka pasar bebas tanpa batas
- b. Menasionalisasi seluruh perusahaan asing
- c. Meningkatkan investasi asing tanpa syarat
- d. Mengurangi investasi negara dalam ekonomi



SOAL NOMOR 4

Berikut ini, merupakan suatu kebijakan yang dijalankan oleh pemerintahan Soekarno pada masa orde lama, di mana negara memegang kendali penuh atas alat produksi, sumber daya, dan distribusi barang serta jasa untuk mencapai tujuan pembangunan nasional, istilah yang sesuai dengan informasi tersebut adalah

- a. Repelita
- b. Rencana pembangunan 5 tahun
- c. Ekonomi terpimpin
- d. Stabilitas ekonomi



SOAL NOMOR 5

Dari data berikut, indikator yang menggambarkan keberhasilan pembangunan ekonomi pada masa Orde Baru adalah

- a. Tingkat korupsi yang rendah
- b. Tingginya tingkat pertumbuhan ekonomi
- c. Kemiskinan yang sepenuhnya teratasi
- d. Keadilan sosial yang merata



SOAL NOMOR 6

Regulasi-regulasi dalam kegiatan perekonomian, kerap menjadi problem terhadap pertumbuhan ekonomi. Untuk itu pembangunan ekonomi pada era reformasi, menekankan pada deregulasi dalam rangka

- a. Penetapan lebih banyak regulasi untuk mengendalikan pasar
- b. Pengurangan atau penghapusan aturan dan pembatasan yang menghambat pertumbuhan bisnis
- c. Peningkatan birokrasi untuk mengawasi aktivitas bisnis
- d. Pembatasan akses pasar untuk perusahaan asing



SOAL NOMOR 7

Yang menjadi tantangan utama dalam pembangunan infrastruktur di Indonesia pada era reformasi

- a. Keterbatasan dana dari sumber-sumber internal dan eksternal
- b. Kelebihan tenaga kerja terlatih dalam sektor konstruksi
- c. Terlalu banyak regulasi yang mempermudah proyek infrastruktur
- d. Ketersediaan infrastruktur yang memadai dari sebelumnya



SOAL NOMOR 8

Perhatikan pernyataan berikut!

- 1) Sumber Daya Manusia
- 2) Hubungan luar negeri
- 3) Teknologi
- 4) Ilmu Pengetahuan
- 5) Pendapatan perkapita masyarakat

Dari pernyataan tersebut, faktor-faktor yang berpengaruh terhadap pembangunan ekonomi adalah

- a. 1), 2), dan 3)
- b. 2), 3), dan 4)
- c. 1), 3), dan 4)
- d. 2), 4), dan 5)



SOAL NOMOR 9

Contoh perilaku yang dapat kita lakukan dalam keseharian untuk mendukung pembangunan di Indonesia

- a. Membayar dan mendistribusikan pajak secara rutin
- b. Membantu pekerjaan perangkat pemerintahan setempat
- c. Mencari solusi untuk permasalahan di lingkungan sekitar
- d. Membangun sarana infrastruktur di lingkungan masyarakat



SOAL NOMOR 10

Setiap negara di dunia saling mengupayakan pembangunan yang efektif di negaranya masing-masing. Suatu cara untuk mengukur keberhasilan dari sebuah pembangunan menggunakan indikator kemajuan ekonomi. Berikut ini yang dapat digunakan sebagai indikator kemajuan ekonomi suatu negara adalah

- a. Tingkat melek huruf
- b. Produk Domestik Bruto (PDB)
- c. Tingkat kelahiran
- d. Luas wilayah negara



**Perhatikan
Informasi berikut
dengan cermat!**



Pada 2045 Indonesia diprediksi akan menjadi negara maju. Indonesia akan mendapatkan bonus demografi dan menjadi negara berpendapatan tinggi dengan kekuatan ekonomi ke-5 terbesar di dunia. Dalam menunjang kesiapan tersebut, faktor yang paling menentukan adalah kontribusi dari para pemuda.

Semangat seperti masa sumpah pemuda yang herois dan patriotis sangat diperlukan, di mana seluruh pemuda yang berasal dari berbagai daerah dapat bersatu untuk mencapai satu tujuan yang sama. Mereka bekerja sama tanpa memedulikan agama, suku, ras, daerah dan golongan, dengan semangat pantang menyerah dan rela berkorban demi kepentingan bangsa.

Rasa satu bangsa itulah yang akan menghasilkan hubungan harmonis. Indonesia nantinya akan lebih kokoh dengan rasa kesatuan dan persatuan tersebut. Hal itu menjadi percepatan untuk menjadikan Indonesia Emas 2045 bukan mimpi semata, melainkan cita-cita yang pasti tercapai.



SOAL NOMOR 11

Dari informasi tersaji, mengapa peran pemuda sangat penting untuk mencapai kemajuan Indonesia maju di tahun 2045

- a. Pemuda dapat menjadi satu-satunya penggerak perubahan
- b. Pemuda adalah tenaga produktif yang potensial
- c. Pemuda selalu memiliki ide yang cemerlang
- d. Pemuda dan masa depan bangsa tidak bisa dipisahkan



SOAL NOMOR 12

Peran yang dapat dilakukan sebagai pemuda terhadap pembangunan Indonesia sesuai dengan penjelasan dalam wacana tersebut adalah

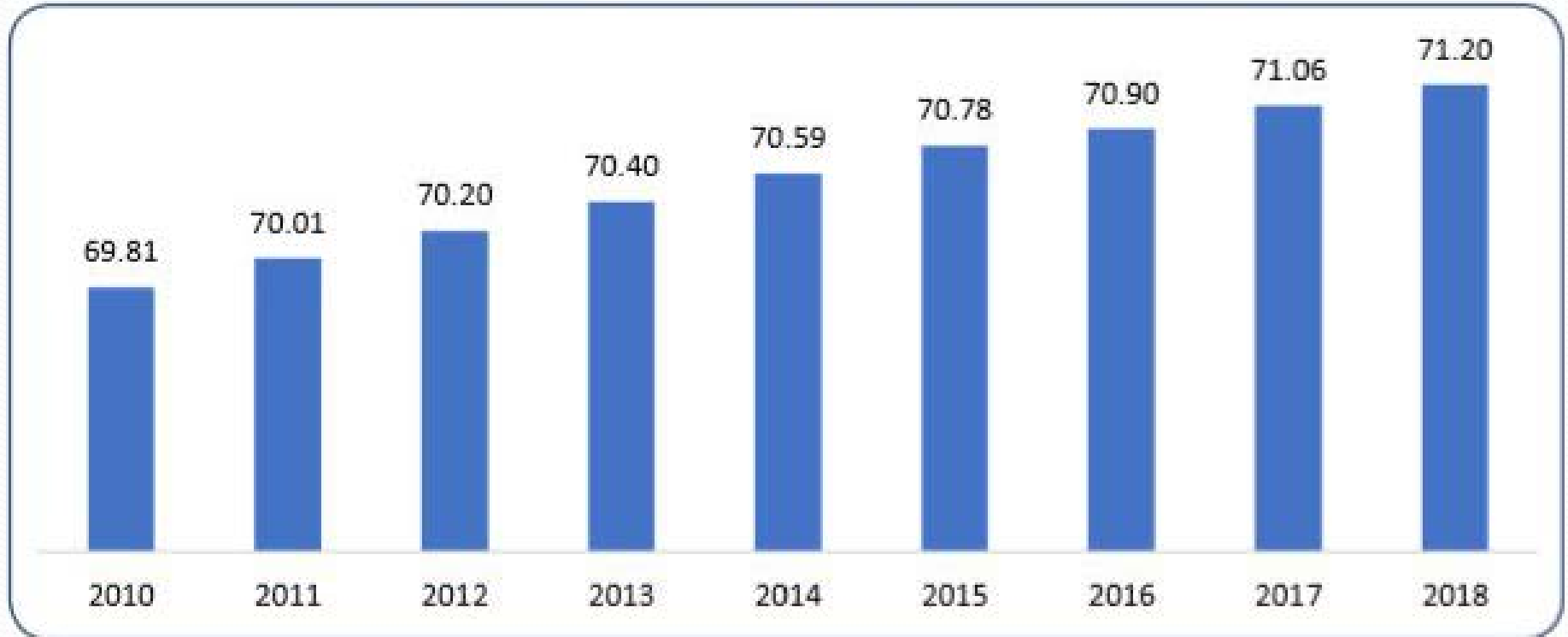
- a. Mengambil alih tugas untuk membangun bangsa
- b. Menjadi pengawal kebijakan pembangunan yang dilakukan oleh pemerintah
- c. Melestarikan semangat persatuan untuk mencapai kemajuan
- d. Mengelola program-program pembangunan negara



SOAL NOMOR 13 (1)

PERHATIKAN DIAGRAM BATANG BERIKUT:

Umur Harapan Hidup saat Lahir (UHH) Indonesia, 2010–2018



SOAL NOMOR 13 (2)

Pernyataan yang sesuai dengan apa yang digambarkan oleh diagram batang tersebut adalah

- a. Tingkat harapan hidup di Indonesia mengalami pasang surut
- b. Perkembangan pembangunan bidang kesehatan di Indonesia mengalami perkembangan dari tahun ke tahun
- c. Tingkat harapan hidup saat lahir di Indonesia menembus angka 70% sejak tahun 2010
- d. Umur harapan hidup bisa menjadi tolok ukur untuk melihat pertumbuhan ekonomi di Indonesia



SOAL NOMOR 14

Perhatikan beberapa pernyataan berikut:

1. Pantang menyerah
2. Rela Berkorban
3. Senang meraih keuntungan
4. Mendorong persatuan

Perwujudan semangat sumpah pemuda yang bisa menjadi kunci kesuksesan pembangunan ditunjukkan oleh pernyataan

- a. 1, 2, dan 3
- b. 1, 3, dan 4
- c. 2, 3, dan 4
- d. 2, 4, dan 1



SOAL NOMOR 15

Contoh perilaku yang bisa kita lakukan dalam keseharian untuk mendukung pembangunan di Indonesia

- a. Membayar dan mendistribusikan pajak secara rutin.
- b. Membantu pekerjaan perangkat pemerintahan setempat.
- c. Mencari solusi untuk permasalahan di lingkungan sekitar.
- d. Membangun sarana infrastruktur di lingkungan masyarakat.



SOAL NOMOR 16

Yang dimaksud dengan infrastruktur dalam konteks pembangunan ekonomi

- a. Sumber daya alam yang dimiliki suatu negara.
- b. Fasilitas dan layanan dasar yang mendukung aktivitas ekonomi.
- c. Hubungan diplomatik dengan negara lain.
- d. Jaringan sosial dalam masyarakat.



SOAL NOMOR 17

Pernyataan yang menggambarkan globalisasi

- a. Pertumbuhan ekonomi suatu negara.
- b. Penurunan hubungan dagang antar negara.
- c. Integrasi dan interkoneksi ekonomi, politik, dan budaya di seluruh dunia.
- d. Penutupan pasar bagi produk luar negeri.



SOAL NOMOR 18

Gambaran proses globalisasi dalam memengaruhi ekonomi Indonesia

- a. Membatasi akses terhadap pasar internasional.
- b. Memperkuat proteksi perdagangan.
- c. Membuka peluang investasi dan pasar baru.
- d. Menyebabkan penurunan pertumbuhan ekonomi.



SOAL NOMOR 19

Ciri-ciri yang dimiliki negara berkembang terdapat pada pernyataan

- a. angka kelahiran dan presentase usia muda rendah
- b. Persentase penduduk yang berada di wilayah perkotaan tinggi
- c. angka beban ketergantungan dan angka pertumbuhan penduduk tinggi
- d. sebagian besar penduduk bergerak di dalam bidang industri pertama



SOAL NOMOR 20

Salah satu indikator keberhasilan kemajuan suatu negara dapat dilihat dari income per kapita penduduknya, yang menunjukkan

....

- a. Pendapatan rata-rata per orang dalam satu tahun
- b. Pendapatan negara dalam satu tahun
- c. Upah yang diterima pekerja setiap bulan
- d. Pendapatan yang diperoleh penduduk suatu negara



SOAL NOMOR 21

Potensi utama yang dimiliki oleh Indonesia untuk dapat menjadi negara maju berupa

- a. Ketergantungan pada ekspor komoditas
- b. Kekurangan sumber daya alam
- c. Populasi yang kecil dan menua
- d. Kekayaan sumber daya alam yang melimpah



SOAL NOMOR 22

Berikut ini yang dapat menjadi suatu tantangan utama bagi Indonesia dalam mencapai status negara maju

- a. Pengelolaan yang berkelanjutan
- b. Kualitas pendidikan yang tinggi
- c. Ketergantungan pada sektor manufaktur
- d. Tingginya tingkat korupsi



SOAL NOMOR 23

Argumentasi yang mendukung pernyataan bahwa infrastruktur merupakan sebagai salah satu tantangan Indonesia dalam menuju negara maju

- a. Infrastruktur Indonesia sudah sangat baik dan modern
- b. Infrastruktur yang buruk dapat menghambat pertumbuhan ekonomi
- c. Infrastruktur tidak memiliki pengaruh signifikan terhadap pertumbuhan ekonomi
- d. Infrastruktur hanya diperlukan di sektor industri saja



SOAL NOMOR 24

Dampak positif dari perkembangan industri terhadap perekonomian Indonesia adalah

- a. Peran industri dalam pembangunan ekonomi di Indonesia adalah tidak signifikan dan tidak memberikan dampak positif apapun.
- b. Peran industri dalam pembangunan ekonomi di Indonesia adalah untuk mengeksploitasi sumber daya alam tanpa memperhatikan kesejahteraan masyarakat.
- c. Peran industri dalam pembangunan ekonomi di Indonesia adalah untuk menciptakan lapangan kerja, meningkatkan pendapatan masyarakat, dan mendorong pertumbuhan ekonomi.
- d. Peran industri dalam pembangunan ekonomi di Indonesia adalah untuk menekan pertumbuhan ekonomi dan kesejahteraan masyarakat.

SOAL NOMOR 25

Perhatikan pernyataan berikut:

- 1) Angka kematian rendah,
- 2) Angka pengangguran rendah,
- 3) Pertumbuhan penduduk stabil,
- 4) Angka kematian tinggi, dan
- 5) Pendapatan per kapita rendah

Pernyataan yang sesuai dengan ciri-ciri negara maju adalah

- a. 1), 2), dan 3)
- b. 1), 4), dan 5)
- c. 1), 3), dan 4)
- d. 2), 3), dan 5)



SOAL NOMOR 26

Program pembangunan pada masa Orde Baru di antaranya diarahkan untuk menanggulangi masalah kependudukan. Adapun hubungan antara masalah kependudukan dengan program pembangunan yang tampak pada korelasi berikut ini, yaitu

- a. Angka pertumbuhan penduduk : Program Transmigrasi, Persebaran penduduk tidak merata : Keluarga Berencana
- b. Angka pertumbuhan penduduk : Membatasi jumlah penduduk miskin, Persebaran penduduk tidak merata : Pengiriman tenaga kerja ke luar negeri
- c. Angka pertumbuhan penduduk : Meningkatkan mutu pendidikan dan kesehatan, Persebaran penduduk tidak merata : Mencegah terjadinya urbanisasi
- d. Angka pertumbuhan penduduk : Keluarga Berencana Persebaran penduduk tidak merata : Program Transmigrasi



SOAL NOMOR 27

Indeks Pembangunan Manusia (IPM) mencakup indikator apa

- a. Pertumbuhan ekonomi, inflasi, dan pengangguran
- b. Pendidikan, kesehatan, dan pendapatan
- c. Produksi barang dan jasa, konsumsi, dan investasi
- d. Pemerintahan, keamanan, dan infrastruktur



SOAL NOMOR 28

Penyebab runtuhnya Orde Baru adalah seperti tersebut di bawah ini, kecuali

- a. Kehidupan ekonomi rakyat semakin membaik
- b. Krisis ekonomi yang melanda masyarakat
- c. Meningkatnya angka pengangguran
- d. Terkuaknya praktik KKN di kalangan pejabat pemerintah



SOAL NOMOR 29

Yang menjadi tolak ukur kemajuan pembangunan suatu negara

....

- a. Jumlah penduduk
- b. Ketersediaan sumber daya alam
- c. Pertumbuhan ekonomi dan kualitas hidup
- d. Tingkat kekayaan negara



SOAL NOMOR 30

Pernyataan yang benar tentang pendapatan per kapita di negara berkembang adalah

- a. pendapatan per kapita yang rendah menyebabkan jumlah penduduk sedikit
- b. semakin rendah pendapatan per kapita maka semakin rendah tingkat pendidikan
- c. pendapatan per kapita yang tinggi tidak mempengaruhi kesejahteraan penduduk
- d. semakin tinggi pendapatan per kapita maka usia harapan hidup kurang dari 45 tahun



SOAL NOMOR 31

Berbagai upaya pembangunan infrastruktur gencar dilakukan di setiap periode pemerintahan di Indonesia. Dengan harapan pembangunan infrastruktur tersebut dapat meningkatkan taraf hidup masyarakat. Menurutmu, mengapa pembangunan infrastruktur dapat berdampak pada peningkatan taraf hidup masyarakat?



SOAL NOMOR 32

Bagaimana ciri-ciri dari proses pembangunan yang dilakukan di masa pemerintahan di Indonesia?

- a. Orde Lama
- b. Orde Baru
- c. Orde Reformasi
- d. Dari ciri-ciri tersebut, analisis dan berikan kesimpulan, pembangunan di orde manakah yang memberikan pengaruh terhadap kemajuan Indonesia



SOAL NOMOR 33



<https://islamic-center.or.id/ketimpangan-ekonomi-di-indonesia-mirip-kisah-kaum-tsamud/>

Pertumbuhan ekonomi sering digunakan sebagai tolok ukur pembangunan, namun pada realitanya pertumbuhan ekonomi yang tinggi tidak menjamin pemerataan kesejahteraan bagi seluruh masyarakat. Mengapa hal tersebut bisa terjadi? Berikan penjelasan terhadap stigma ini.



SOAL NOMOR 34

Karakteristik dari negara maju dapat dilihat dari berbagai hal, diantaranya: tingkat kesejahteraan, kualitas sumber daya manusia, perkembangan industri dan perdagangan, serta penguasaan ilmu pengetahuan dan teknologi. Dari keempat karakteristik tersebut, karakteristik kualitas sumber daya manusia adalah yang paling berkaitan dengan peran kita sebagai pelajar di Indonesia. Apa hal yang dapat kita lakukan sebagai pelajar untuk bisa mendukung pengembangan kualitas sumber daya manusia di Indonesia?



SOAL NOMOR 35

Proses pembangunan dalam berbagai bidang telah dilakukan oleh negara Indonesia sejak masa kemerdekaan hingga saat ini. Menurutmu, hingga sejauh ini, proses pembangunan yang sudah dilakukan tersebut apakah dapat dikatakan telah berhasil? Berikan argumentasimu!




ASESMEN MANDIRI

Berikan ceklis (✓) pada tabel berikut.

TUJUAN PEMBELAJARAN	TIDAK	BELUM YAKIN	YA
Saya dapat menjelaskan pengertian pembangunan dan dampaknya terhadap kehidupan masyarakat.			
Saya dapat mendeskripsikan upaya pembangunan yang sudah dilakukan di Indonesia sejak periode awal kemerdekaan hingga saat ini.			
Saya dapat menganalisis tolak ukur pembangunan.			
Saya dapat menganalisis tantangan pembangunan dan potensi Indonesia menjadi negara maju.			
Saya dapat mengevaluasi proses pembangunan yang dilakukan di lingkungan setempat.			
Saya dapat merancang kampanye dukungan terhadap pembangunan Indonesia untuk menjadi negara maju.			





*Pergi ke dapur mengambil ketumbar
Ditumbukkan di dalam nampan
Jangan berhenti untuk belajar
Hingga hayat masih tersemat dalam badan*

KELAS DIGITAL IPS SMPN 285

Tetap SEMANGAT, Raih PRESTASI, Namun Tetap RENDAH HATI!

SOCIAL STUDIES DIGITAL CLASS

2026 © Guru IPS SMPN 285 Jakarta

www.guruipssmpn285jkt.online