

உளவியல் வினா விடை

Malaikkann : A :: Scarvi : ?

மாலைக்கண் : A :: ஸ்கார்வி : ?

A) B

B) D

C) C

D) E

If + means \div , - means \times , \times means $-$, \div means $+$ then find the value of $15 - 3 \div 15 \times 12 + 3$

+ என்பது \div எனவும், - என்பது \times என்பது $-$ எனவும், \times என்பது $-$ எனவும், \div என்பது $+$ எனவும் கொண்டால் $15 - 3 \div 15 \times 12 + 3$ ன் மதிப்பு?

A) 50

B) 55

C) 54

D) 56

Find the next letter in the series: B, D, G, K, P,

தொடரில் அடுத்து வரும் எழுத்தை கண்டறிக: B, D, G, K, P,

- A) X B) W C) V D) S

If HEAVEN is coded as AEEHNV, then how will FLOWER be coded?

HEAVEN என்பதை AEEHNV என்று குறிப்பிட்டால் FLOWER என்பது எவ்வாறு குறிக்கப்படும்

- A) EFOLRW B) EFLOWRW C) ELFORW D) FEOLRW

The present age ratio of two sisters is 5:3. After six years their ratio becomes 4:3. What is the age ratio after 4 more years?

இரு சகோதரிகளின் தற்போதைய வயது விகிதம் 5:3 ஆறு வருடங்களுக்குப் பிறகு அவர்களின் விகிதங்கள் 4:3 எனில் 4 ஆண்டுகளுக்குப் பிறகு அவர்களின் வயது விகிதம் என்ன?

A) 7:4

B) 5:2

C) 6:3

D) 7:5

Find the word that comes first alphabetically: Flash, Flask, Flat, Flap

ஆங்கில அகராதியில் முதலாவதாக வரும் வார்த்தையை கண்டறிக: Flash, flask, flat, flap

- A) flash
- B) flask
- C) flat
- D) flap

Which of the following words can be formed from the letters of REASONABLE?

REASONABLE என்ற வார்த்தையில் இருந்து கீழ்க்காணும் எந்தச் சொல்லை உருவாக்க இயலும்?

- A) NOISE
- B) ELBOW
- C) SOLAR
- D) LEARNED

A man stands facing West. He turns 45° clockwise, then 180° clockwise, then 270° anticlockwise. Which direction is he now facing?

- A) West B) North-West C) South D) South-West

மனிதன் ஒருவன் மேற்கு நோக்கி நிற்கிறான் அவன் கடிகார திசையில் 45° திரும்புகிறான். மீண்டும் கடிகார திசையில் 180° திரும்புகிறான் மற்றும் அவன் எதிர்கடிகார திசையில் 270° திரும்புகிறான் எனில் அவன் எத்திசை நோக்கி நிற்பான்?

- A) மேற்கு B) வடமேற்கு C) தெற்கு D) தென்மேற்கு

The total cost of 2 books and 4 pens is Rs.480. At the same price, a person buys 1 book and 8 pens. How much money must he pay to buy 10 more pens?

10. இரண்டு புத்தகம் மற்றும் 4 பேனாக்களின் மொத்த மதிப்பு ரூ.480 அதே ரூபாய்க்கு ஒருவர் ஒரு புத்தகமும் 8 பேனாக்களையும் வாங்குகிறார் எனில் அவர் 10 பேனாக்கள் வாங்க எவ்வளவு ரூபாய் செலுத்த வேண்டும்?

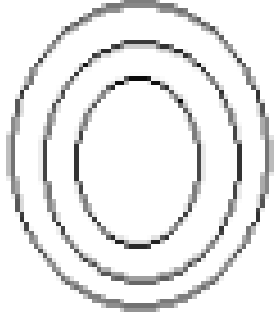
A) Rs.400

B) Rs.500

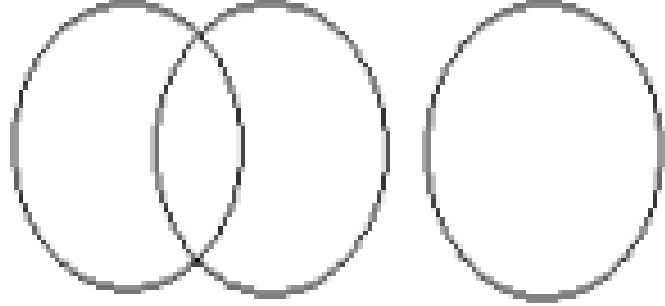
C) Rs.600

D) Rs.800

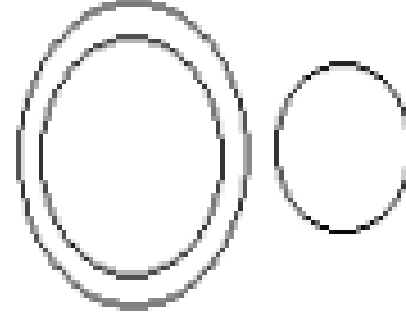
Find the correct picture for the given words: Cloth, Flower, White
கொடுக்கப்பட்ட வார்த்தைகளுக்கு ஏற்ற படம் எது? துணி, பூ, வெள்ளை



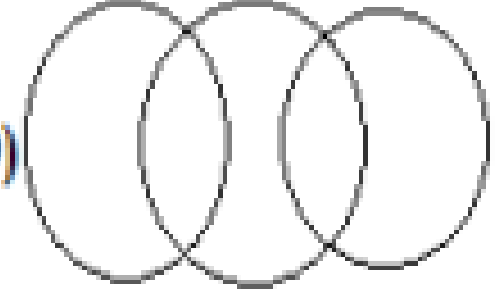
B)



C)



D)



In a party of 250 people, 220 had coffee and 60 had tea; some had both. 30 people had neither coffee nor tea. How many people had both coffee and tea?

250 பேர் கலந்து கொண்ட ஒரு விருந்தில் 220 பேர் காபியும், 60 பேர் தேநீரும் சிலர் இரண்டையும் பருகினர் 30 பேர் காபி அல்லது தேநீர் இவற்றை அருந்தவில்லை எனில் காபி (ம) தேநீர் இரண்டையும் பருகியவர்கள் எத்தனை பேர்?

A) 40

B) 50

C) 60

D) 70

In a secret language: 'Tom kun sud' = 'Dogs are Barking', 'Kun jo Mob' = 'Dogs and horses', 'Mut Tom Ko' = 'Donkeys are Mad'. What is the secret code for 'Barking'?

ஒரு ரகசிய மொழியில் Tom kun sud என்றால் Dogs are Barking என்றும், Kun jo Mob என்றால் Dogs and horses என்றும் Mut Tom Ko என்றால் Donkeys are Mad என்றும் பொருள் எனில் Barking என்பதன் ரகசிய மொழி என்ன?

- A) Sud
- B) Kun
- C) Jo
- D) Tom

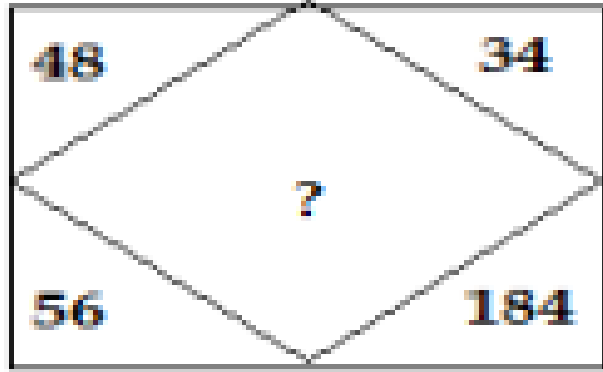
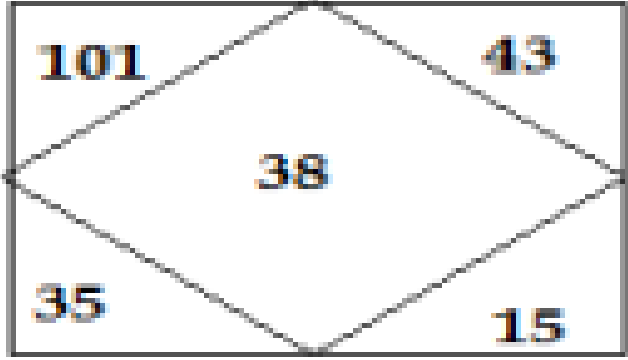
Find the next number in the series: 2, 4, 8, 16, 32, ?

தொடரில் அடுத்து வரும் எண்ணை கண்டறிக: 2, 4, 8, 16, 32, ?

- A) 60
- B) 62
- C) 64
- D) 66

Find the missing number.

விடுபட்ட எண்ணை காண்க.



- A) 127
- B) 142
- C) 158
- D) 198

Find the pair that does NOT belong together (Odd one out):

தவறாக பொருந்தியுள்ளதைக் காண்க:

- A) 86–99
- B) 16–18
- C) 56–63
- D) 96–108

Three liquids with densities D , $2D$, $3D$ are mixed in equal volumes. What is the density of the mixture?

மூன்று திரவங்களின் அடர்த்தி முறையே D , $2D$, $3D$ இவை மூன்றும் சம கன அளவில் கலக்கப்பட்டால் அக்கலவையின் அடர்த்தி என்ன?

- A) $6D$
- B) $1.4D$
- C) $2D$
- D) $3D$

The cost of painting 4 walls of a room is Rs.425. Another room has its length, breadth and height each tripled. What is the cost of painting the new room's walls?

ஒரு அறையின் நான்கு சுவர்களை வர்ணம் பூசுவதற்கு ஆகும் செலவு ரூ.425 இவ்வறையினை விட மற்றொரு அறையின் நீளம் அகலம் மற்றும் உயரம் ஒவ்வொன்றும் மும்மடங்கு எனில் புதிய அறையின் சுவர்களுக்கு வர்ணம் பூச ஆகும் செலவு?

- A) Rs.1,275
- B) Rs.850
- C) Rs.1,700
- D) Rs.3,825

$$\sqrt{248 + \sqrt{52 + \sqrt{144}}} = ?$$

- A) 14
- B) 16
- C) 18.8
- D) 16.6

A large, faint watermark logo for Weshine Academy is centered in the background. It is circular with an orange border. The text 'Weshine Academy' is written in a light blue font across the top. Below it, 'SINCE 2013' is written in a smaller font. At the bottom, 'Guiding you to get through' is written in a light blue font. The logo also lists various exam types: 'TNUSRB | TRB | TET | SSC | BANK EXAM'.

Thank You