


MATHS



$(1^3 + 2^3 + \dots + 15^3) - (1 + 2 + \dots + 15)$ ன் மதிப்பு

The value of $(1^3 + 2^3 + \dots + 15^3) - (1 + 2 + \dots + 15)$




$(1^3 + 2^3 + \dots + 15^3) - (1 + 2 + \dots + 15)$ ன் மதிப்பு

The value of $(1^3 + 2^3 + \dots + 15^3) - (1 + 2 + \dots + 15)$

- (A) 14400
- (C) 14280

- (B) 14200
- (D) 14520



+ என்பது \times , - என்பது \div , \times என்பது - மற்றும் \div என்பது + குறித்தால் $25 + 32 - 4 \times 12 \div 3$ என்பது

If + stands for \times , - stands for \div , \times stands for - and \div stands for + then

$$25 + 32 - 4 \times 12 \div 3$$



+ என்பது \times , - என்பது \div , \times என்பது - மற்றும் \div என்பது + குறித்தால் $25 + 32 - 4 \times 12 \div 3$ என்பது

If + stands for \times , - stands for \div , \times stands for - and \div stands for + then


$$25 + 32 - 4 \times 12 \div 3$$

(A) 137

(C) 191

(B) -125

(D) -197



"NGCH" என்ற வார்த்தை "LEAF" என்ற வார்த்தையை குறித்தால், "MPQY" என்ற சொற்றொடர் குறிக்கும் சொற்றொடர்

If "NGCH" stands for "LEAF", then "MPQY" stands for



"NGCH" என்ற வார்த்தை "LEAF" என்ற வார்த்தையை குறித்தால், "MPQY" என்ற சொற்றொடர் குறிக்கும் சொற்றொடர்

If "NGCH" stands for "LEAF", then "MPQY" stands for

- (A) JMNV
- (C) LOPX

- (B) KNOW
- (D) KOWN



A மற்றும் B இருவரும் ஒரு வேலையை 12 நாட்களில் செய்து முடிப்பர். B மற்றும் C அதே வேலையை 15 நாட்களில் முடிப்பர். C மற்றும் A அதே வேலையை 20 நாட்களில் முடிப்பர் எனில் A, B மற்றும் C மூவரும் சேர்ந்து அவ்வேலையை முடிக்க தேவைப்படும் நாட்கள்.

A and B together can complete in 12 days, B and C together can complete in 15 days, C and A together can complete in 20 days A, B and C together can complete in



A மற்றும் B இருவரும் ஒரு வேலையை 12 நாட்களில் செய்து முடிப்பர். B மற்றும் C அதே வேலையை 15 நாட்களில் முடிப்பர். C மற்றும் A அதே வேலையை 20 நாட்களில் முடிப்பர் எனில் A, B மற்றும் C மூவரும் சேர்ந்து அவ்வேலையை முடிக்க தேவைப்படும் நாட்கள்.

A and B together can complete in 12 days, B and C together can complete in 15 days, C and A together can complete in 20 days A, B and C together can complete in

- (A) 10 days
- (B) 12 days
- (C) 14 days
- (D) 15 days

9 சிலந்திகள் 9 வலையை 9 நாட்களில் பின்னுகிறது எனில் 1 சிலந்தி 1 வலையை எத்தனை நாளில் பின்னும்?

If 9 Spiders make 9 webs in 9 days, then 1 Spider will make 1 web in how many days?



9 சிலந்திகள் 9 வலையை 9 நாட்களில் பின்னுகிறது எனில் 1 சிலந்தி 1 வலையை எத்தனை நாளில் பின்னும்?

If 9 Spiders make 9 webs in 9 days, then 1 Spider will make 1 web in how many days?

(A) 1 day

(B) 9 days

(C) 18 days

(D) 12 days



கூம்பின் ஆரம் ' r ' என்றால் அதன் கனஅளவு ' V ' ஆகும். கூம்பின் ஆரத்தை இரட்டித்தால் அதன் கன அளவு V_1 ஆகும். அவ்வாறென்றால்.

If V is the volume of the cone of radius r and V_1 is the volume of the cone when the radius is doubled then



கூம்பின் ஆரம் ' r ' என்றால் அதன் கனஅளவு ' V ' ஆகும். கூம்பின் ஆரத்தை இரட்டித்தால் அதன் கன அளவு V_1 ஆகும். அவ்வாறென்றால்.

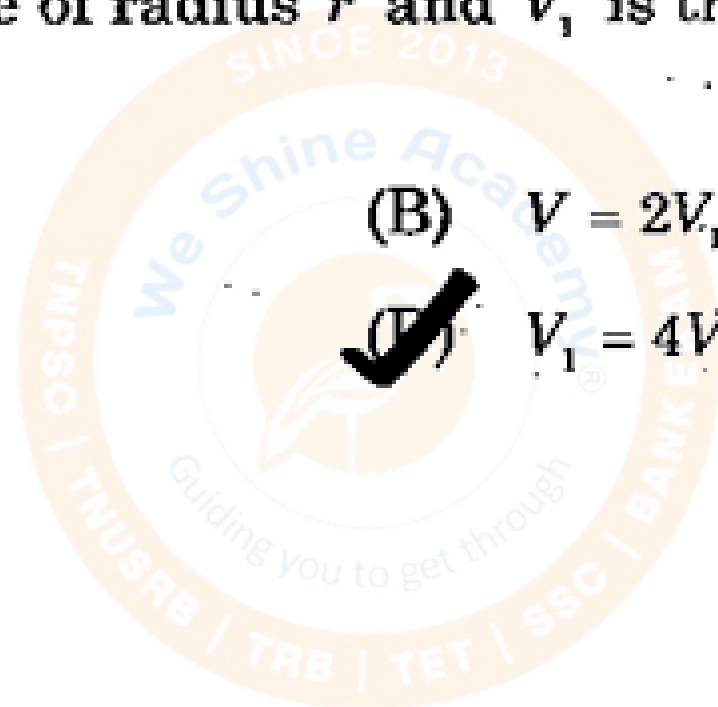
If V is the volume of the cone of radius r and V_1 is the volume of the cone when the radius is doubled then

(A) $V = 4V_1$

(C) $V_1 = 2V$

(B) $V = 2V_1$

(D) $V_1 = 4V$



ஒரு நேர் வட்ட உருளையின் அடிப்பரப்பு 30 செ.மீ² மற்றும் அதன் உயரம் 6 செ.மீ. எனில் அதன் கனஅளவு யாது?

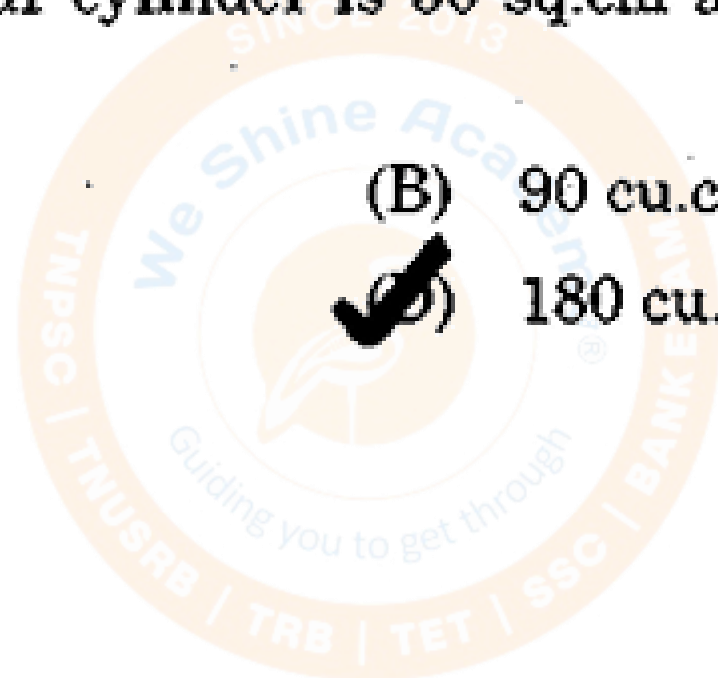
Base area of the right circular cylinder is 30 sq.cm and its height is 6 cm then the volume of the cylinder is



ஒரு நேர் வட்ட உருளையின் அடிப்பரப்பு 30 செ.மீ² மற்றும் அதன் உயரம் 6 செ.மீ. எனில் அதன் கனஅளவு யாது?

Base area of the right circular cylinder is 30 sq.cm and its height is 6 cm then the volume of the cylinder is

- (A) 60 cu.cm
(B) 90 cu.cm
(C) 120 cu.cm
(D) 180 cu.cm



ஒரு வகை பாக்டீரியா முதலாவது ஒரு மணி நேரத்தில் 5% வளர்ச்சியும், இரண்டாவது ஒரு மணி நேரத்தில் 8% வளர்ச்சி குன்றியும், மூன்றாவது ஒரு மணி நேரத்தில் 10% வளர்ச்சியும் அடைகிறது. முதலில் அதன் எண்ணிக்கை 10,000 ஆக இருந்ததெனில், மூன்று மணி நேரத்திற்குப் பிறகு அதன் எண்ணிக்கையைக் காண்க.

A type of bacteria grows. It increases at 5% in 1st hour, decreases at 8% in 2nd hour and again increases at 10% in 3rd hour. Find the number of bacteria at the end of 3rd hour if there were 10,000 in the beginning.

ஒரு வகை பாக்டீரியா முதலாவது ஒரு மணி நேரத்தில் 5% வளர்ச்சியும், இரண்டாவது ஒரு மணி நேரத்தில் 8% வளர்ச்சி குன்றியும், மூன்றாவது ஒரு மணி நேரத்தில் 10% வளர்ச்சியும் அடைகிறது. முதலில் அதன் எண்ணிக்கை 10,000 ஆக இருந்ததெனில், மூன்று மணி நேரத்திற்குப் பிறகு அதன் எண்ணிக்கையைக் காண்க.

A type of bacteria grows. It increases at 5% in 1st hour, decreases at 8% in 2nd hour and again increases at 10% in 3rd hour. Find the number of bacteria at the end of 3rd hour if there were 10,000 in the beginning.

- ✓ (A) 10626 (B) 10266
(C) 10622 (D) 11626

கீழ்க்காணும் விகிதங்களில் மிகப்பெரியது எது?

Find the largest ratio among

4 : 5, 8 : 15, 3 : 10, 1 : 2

கீழ்க்காணும் விகிதங்களில் மிகப்பெரியது எது?

Find the largest ratio among

4 : 5, 8 : 15, 3 : 10, 1 : 2



(A) 4 : 5

(B) 8 : 15

(C) 3 : 10

(D) 1 : 2

$$21 : x = y : 25 = 9 : 15$$

x, y -ன் மதிப்பு முறையே _____, _____ ஆகும்.

$$21 : x = y : 25 = 9 : 15$$

value of $x, y =$ _____, _____ respectively



$$21 : x = y : 25 = 9 : 15$$

x, y -ன் மதிப்பு முறையே _____, _____ ஆகும்.

$$21 : x = y : 25 = 9 : 15$$

value of $x, y =$ _____, _____ respectively

(A) 25, 15

(B) 35, 10

(C) 35, 15

(D) 15, 9

TNPSC COMBINED

**SINGLE FEE
MULTIPLE EXAMS**

₹19,999

**ADMISSION OPEN
JOIN NOW**

 **DIRECT CLASS**
 **ONLINE CLASS**
Available

-  **Time Tracker**
-  **Audio Study Materials**
-  **Easy EMI**
-  **Speed Maths**
-  **Book Set Materials - Count**

+91 8939 144 344 | +91 8939 244 344



SINCE 2013
We Shine Academy
guiding you to get through

TNPSC | TNUSRB | RRB | SSC | BANK EXAM



SINCE 2013
We Shine Academy®
 guiding you to get through
 ISO 9001-2015 Certified Educational Institution

உங்களின் அரசு வேலை கனவிற்கான முதற்படியை இன்றே தொடங்குங்கள்.!

*Guaranteed Central or State Government jobs
 within 6 months of course completion

**TNPSC
 GROUP I
 23rd
 RANK**

Our Central and State **GOVERNMENT OFFICERS** TNPSC | TNUSRB | TET | SSC | BANK EXAM

 Illakiya	 Suganya	 Alshwarya	 Kesavan K	 Mayuri Priya	 M Esther Angeline	 Shankarl	 Nantha kumar	 K Anu Priya
 Sakthi	 MadhuMathi	 Sri Ganesh	 Subanya S	 Kingsley J	 Arul Mozhi	 J Jeya	 M Umapathy	 P Balaji
 Dharani K	 Alex Pandian	 Kavitha	 Vishnu Priya	 Nisha	 Kalaiselvi	 Bala Vignesh Raj	 Muthu Selvi C	 Karthick
 Suresh	 B Jeenath	 by Joint Commissioner				 Kishore	 K Revathy	 Sankaragomathy S
 M Pandiyarajan	 S Thanga Mani					 Interview Panel Members	 D Parthiban	 M Mahindravarman
 Wasin N	 Sundar Rajan	 Rajasekar	 Vimala	 Lashmanan				

* Terms and conditions apply



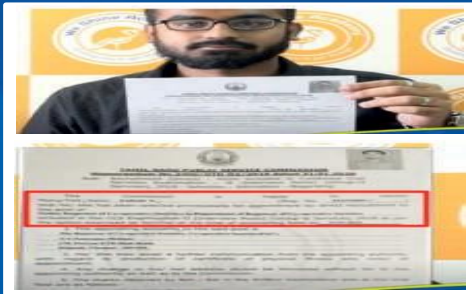
OUR GOVERNMENT OFFICERS

K. THANGA MEENA DEVI

இந்து சமய அறநிலையத் துறை,
உதவியாளர் பணி



STUDENTS WITH APPOINTMENT ORDER



CONGRATULATIONS
ON SUCCESSFULLY GETTING PLACED IN



Angaleswaran
Sub Inspector



Barkavi. K
Educational Dept.



Anandhalakshmi J
IBPS RRB clerk



Sankara Gomathy.S
Village
Administrative Officer



Jeeva. R
Chennai High court



Harisankar K
Police Contable



Vinoth
District Court



Adityan
Agriculture Dept.

Our Central and State GOVERNMENT OFFICERS



Thennarasu
TNUSRB Police



Sangeetha
TNPSC GROUP II
Exam Cleared



Aathithyan G
TNPSC Exam
Agriculture Dept.



Kumari
SBI (PO)



Bala Kumaran V
TNPSC Exam
Agriculture Dept.



Bhavya Shree R
Cleared NICL -
Prelims Exam



Kameshwaran
TNPSC GROUP II
Exam Cleared



Michael Priyanka
IBPS SCALE-II
Officer



Murali
Indian Bank



Jeyanthi
TNPSC GROUP IV



Nirmala S
Group II Interview
Post



Varun Kumar M
SSC GD



Anjali
IBPS SO
(IT OFFICER)



Manimegalai
TNPSC
Judery
Department



Pankajavalli
TNPSC
Stenographer



Parasuraman
Sub Inspector



Abdul Rahman
SSC - MTS



Pradeepraj N
Group 2 A prelims



Aswini
SSC & BANK



Thennarasu
TNUSRB Police



Veera Perumal
TNPSC GROUP II
Exam Cleared



Sivaranjani
TNPSC GROUP II
Exam Cleared



Manimozhi
TNPSC GROUP II
Exam Cleared



Harisankar K
Police Constable



Kavitha
TNUSRB Police
Exam Cleared



B. Benazir Banu
TNUSRB Police
Exam Cleared



Aswin Kumar
Tamilnadu
Post Office



Divya
TNPSC Group II
Exam Cleared



Mathumathi P
Assistant Inspector
of Labour



Manimaran N
Sub Inspector



KAMARAJ
Sub Inspector



N. PRASHANTH



THE WESHINE JOURNEY.

Our Central and State GOVERNMENT OFFICERS



Gayathri
RBI



Aswin Kumar, S
TN Postal Dept.



Yesu Amirtham
TNPSC HIGH COURT



M.Esther Angeline
Police Constable



Madhumathi
TNPSC GROUP 1
Exam Cleared



Sabeen Banu
TNPSC HIGH COURT



D.Vignesh
Police Constable



Rahmath Nisha
Labour Dept.



GOKUL S
SSC/BANK



JAI GANESH
SSC/BANK



C.Muthu Selvi
Police Constable



SOWMEYA.S
SSC/BANK



Fahad
Social Welfare
Dept.



KIRAN KUMAR
SSC/BANK



Hari Shankar. P
LIC



Parasuraman
Police Constable



PADMA PRIYA PT
LIC



SURESH .R
LIC



P. Bharathkumar
TNSRB SI



Naveen .D
SSC/BANK



HARI SHANKAR.P
LIC



S.Madhavan
Police Constable



Anjali .R
SSC/BANK



M. Sivasubbu
Police Constable



Also We provide internal coaching for

Trusted Partnership with



www.weshineacademy.com

8939 144 344 | 8939 244 344



SINCE 2013
We Shine Academy[®]

guiding you to get through

TNPSC | TNUSRB | TET | SSC | BANK EXAM

TNPSC GROUP-I Express TEST SERIES

Starts on:
Saturday | 07-02-2026

Features:

- ✓ 5000+ Questions
- ✓ 37 Total Tests
- ✓ 21 General Studies Tests
- ✓ 05 Revision Tests
- ✓ 11 Full-Length Mock Tests

Offline: ₹5,999/-

Online: ₹4,999/-

Offer:

We Shine Old Students -
FREE!





Teachers Recruitment Board

Perasiriyar Anbazhagan Kalvi Valagam, College Road, Chennai - 600006.

Hall Ticket for OMR Examination (Objective Type)

for the Tamil Nadu Teacher Eligibility Test, Paper - II - 2025

[Notification No. 03/2025 Dated: 11.08.2025]

விண்ணப்பதாரரின் பெயர் / Candidate's Name	SUBASHINI A	 
விண்ணப்பதாரரின் தேர்வு எண். / Candidate's Roll No.	25T21103570127	
விண்ணப்பதாரரின் விண்ணப்ப எண். / Candidate's Application No.	TETP2117329	
பிறந்த தேதி / Date of Birth	19-11-2002	
தந்தை / தாய் பெயர் Father / Mother Name	ANNADURAI R	
பாலினம் / Gender	FEMALE	
மாற்றுத்திறனாளி / Differently abled	NO	
சொல்வதை எழுதுபவர் / Scribe	-	
விண்ணப்பித்த மொழி / Language Applied for	Tamil	
விண்ணப்பித்த விருப்பப் பாடம் / Optional Subject for	Mathematics and Science	
விண்ணப்பதாரரின் முகவரி / Address of the Candidate:	7/128, ARUNTHATHIYAR STRRET, VANAKARANPUDUR, THATHAIYANGARPATTI (PO), NAMAKKAL, NAMAKKAL, NAMAKKAL, PIN - 637014	



Teachers Recruitment Board

Perasiriyar Anbazhagan Kalvi Valagam, College Road, Chennai - 600006.

Hall Ticket for OMR Examination (Objective Type)

for the Tamil Nadu Teacher Eligibility Test, Paper - II - 2025

[Notification No. 03/2025 Dated: 11.08.2025]

விண்ணப்பதாரரின் பெயர் / Candidate's Name	NAGAMMAL A	 	
விண்ணப்பதாரரின் தேர்வு எண். / Candidate's Roll No.	25T21103820131		
விண்ணப்பதாரரின் விண்ணப்ப எண். / Candidate's Application No.	TETP2132346		
பிறந்த தேதி / Date of Birth	10-04-1990		
தந்தை / தாய் பெயர் Father / Mother Name	AYYAPPAN PILLAI SS		
பாலினம் / Gender	FEMALE		
மாற்றுத்திறனாளி / Differently abled	NO		
சொல்வதை எழுதுபவர் / Scribe	-		
விண்ணப்பித்த மொழி / Language Applied for	Tamil		
விண்ணப்பித்த விருப்பப் பாடம் / Optional Subject for	Mathematics and Science		
விண்ணப்பதாரரின் முகவரி / Address of the Candidate:	FLAT.NO:148,TNHB COLONY,TAMBARAM SANATORIUM, CHENNAI, CHENGALPATTU, PIN - 600047		
மையக் குறியீட்டுடன் தேர்வு மையம் பெயர், முகவரி மற்றும் மாவட்டம்: / Centre code, Name and Address of the Examination Centre with District:	Centre Code: 0382 District: CHENNAI GRT MAHALAKSHMI VIDYALAYA MATRIC HSS,NO-76,7TH AVENU,ASHOK NAGAR,CHENNAI 600083.		
Schedule of Examination			
Date of Exam	Reporting Time	Gate Closing Time	Examination Timings
16.11.2025	8.30 a.m.	9.30 a.m.	10.00 a.m. to 01.00 p.m. - All candidates 10.00 a.m. to 02.00 p.m. - PWD candidates



Teachers Recruitment Board

Perasiriyar Anbazhagan Kalvi Valagam, College Road, Chennai - 600006.

Hall Ticket for OMR Examination (Objective Type)
for the Tamil Nadu Teacher Eligibility Test, Paper - II - 2025
[Notification No. 03/2025 Dated: 11.08.2025]

விண்ணப்பதாரரின் பெயர் / Candidate's Name	RAM PRIYA M
விண்ணப்பதாரரின் தேர்வு எண். / Candidate's Roll No.	25T21203240436
விண்ணப்பதாரரின் விண்ணப்ப எண். / Candidate's Application No.	TETP2196836
பிறந்த தேதி / Date of Birth	04-05-1993
தந்தை / தாய் பெயர் Father / Mother Name	MUTHURAJ G
பாலினம் / Gender	FEMALE
மாற்றுத்திறனாளி / Differently abled	NO
சொல்வதை எழுதுபவர் / Scribe	-
விண்ணப்பித்த மொழி / Language Applied for	Tamil
விண்ணப்பித்த விருப்பப் பாடம் / Optional Subject for	Social Science
விண்ணப்பதாரரின் முகவரி / Address of the Candidate:	1/525, 1ST FLOOR, 1ST BLOCK, MUGAPPAIR WEST, CHENNAI, THIRUVALLUR, PIN - 600037
மையக் குறியீட்டுடன் தேர்வு மையம் பெயர், முகவரி மற்றும் மாவட்டம்: / Centre code, Name and Address of the Examination Centre with District:	Centre Code: 0324 District: CHENNAI CHENNAI GIRLS HIGHER SECONDARY SCHOOL, NO-2A, SCHOOL ROAD, M H ROAD, PERAMBUR, CHENNAI-600 011.



M. S. S. S.



Schedule of Examination

Date of Exam	Reporting Time	Gate Closing Time	Examination Timings
16.11.2025	8.30 a.m.	9.30 a.m.	10.00 a.m. to 01.00 p.m. - All candidates 10.00 a.m. to 02.00 p.m. - PWD candidates



Teachers Recruitment Board

Perasiriyar Anbazhagan Kalvi Valagam, College Road, Chennai - 600006.

Hall Ticket for OMR Examination (Objective Type)
for the Tamil Nadu Teacher Eligibility Test, Paper - II - 2025
[Notification No. 03/2025 Dated: 11.08.2025]

விண்ணப்பதாரரின் பெயர் / Candidate's Name	GOWTHAMI S
விண்ணப்பதாரரின் தேர்வு எண். / Candidate's Roll No.	25T21133240072
விண்ணப்பதாரரின் விண்ணப்ப எண். / Candidate's Application No.	TETP2037725
பிறந்த தேதி / Date of Birth	16-05-1990
தந்தை / தாய் பெயர் Father / Mother Name	SOUNDARAJAN P
பாலினம் / Gender	FEMALE
மாற்றுத்திறனாளி / Differently abled	NO
சொல்வதை எழுதுபவர் / Scribe	-
விண்ணப்பித்த மொழி / Language Applied for	Tamil
விண்ணப்பித்த விருப்பப் பாடம் / Optional Subject for	Mathematics and Science
விண்ணப்பதாரரின் முகவரி / Address of the Candidate:	NO 268, NACHARKUPPAM, NACHARKUPPAM POST, TIRUPATHUR, TIRUPATHUR, PIN - 635710
மையக் குறியீட்டுடன் தேர்வு மையம் பெயர், முகவரி மற்றும் மாவட்டம்: / Centre code, Name and Address of the Examination Centre with District:	Centre Code: 3324 District: TIRUPATTUR MARY IMMACULATE GIRLS HR SEC SCHOOL TIRUPATTUR LONDON MISSION ROAD, TIRUPATTUR-635601



S. Gowthami





Teachers Recruitment Board

Perasiriyar Anbazhagan Kalvi Valagam, College Road, Chennai - 600006.

Hall Ticket for OMR Examination (Objective Type)
for the Tamil Nadu Teacher Eligibility Test, Paper – II - 2025
[Notification No. 03/2025 Dated: 11.08.2025]

விண்ணப்பதாரரின் பெயர் / Candidate's Name	PRABHA K
விண்ணப்பதாரரின் தேர்வு எண். / Candidate's Roll No.	25T21102160228
விண்ணப்பதாரரின் விண்ணப்ப எண். / Candidate's Application No.	TETP2077164
பிறந்த தேதி / Date of Birth	24-01-1988
தந்தை / தாய் பெயர் Father / Mother Name	KUMANAN C
பாலினம் / Gender	FEMALE
மாற்றுத்திறனாளி / Differently abled	NO
சொல்வதை எழுதுபவர் / Scribe	.
விண்ணப்பித்த மொழி / Language Applied for	Tamil
விண்ணப்பித்த விருப்பப் பாடம் / Optional Subject for	Mathematics and Science
விண்ணப்பதாரரின் முகவரி / Address of the Candidate:	NO 24. RAMAIYA NAGAR, MEDAVAKKAM, CHENNAI, KANCHEEPURAM, PIN - 600100



U. Prabha



Teachers Recruitment Board

Perasiriyar Anbazhagan Kalvi Valagam, College Road, Chennai - 600006.

Hall Ticket for OMR Examination (Objective Type)
for the Tamil Nadu Teacher Eligibility Test, Paper – II - 2025
[Notification No. 03/2025 Dated: 11.08.2025]

விண்ணப்பதாரரின் பெயர் / Candidate's Name	SHIVASANKARI S
விண்ணப்பதாரரின் தேர்வு எண். / Candidate's Roll No.	25T21138190024
விண்ணப்பதாரரின் விண்ணப்ப எண். / Candidate's Application No.	TETP2045008
பிறந்த தேதி / Date of Birth	18-08-1997
தந்தை / தாய் பெயர் Father / Mother Name	SIVANU M
பாலினம் / Gender	FEMALE
மாற்றுத்திறனாளி / Differently abled	NO
சொல்வதை எழுதுபவர் / Scribe	.
விண்ணப்பித்த மொழி / Language Applied for	Tamil
விண்ணப்பித்த விருப்பப் பாடம் / Optional Subject for	Mathematics and Science
விண்ணப்பதாரரின் முகவரி / Address of the Candidate:	1/884, PALANI ANDAVAR NAGAR, DHARAPURAM ROAD, K.CHETTIPALAYAM, TIRUPPUR, TIRUPPUR, PIN - 641604
மையக் குறியீட்டுடன் தேர்வு மையம் பெயர், முகவரி மற்றும் மையக் குறியீட்டுடன் தேர்வு மையம் பெயர், முகவரி மற்றும் District code, Name and Address of the Examination Centre with District:	Centre Code: 3819 District: VIRUDHUNAGAR CSI GIRLS HR SEC SCHOOL, CSI CHURCH COMPOUND, MADURAI MAINROAD, ARUPPUKOTTAI-626101



S. S. Sankari



Schedule of Examination

Date of Exam	Reporting Time	Gate Closing Time	Examination Timings
16.11.2025	8.30 a.m.	9.30 a.m.	10.00 a.m. to 01.00 p.m. – All candidates 10.00 a.m. to 02.00 p.m. – PWD candidates

PLEASE READ THE FOLLOWING IMPORTANT INSTRUCTIONS CAREFULLY

- Candidates should download their Hall Ticket through online only as no separate physical copy of this Hall Ticket will be dispatched.
- Candidates should check their Hall Ticket for the information furnished therein and in case of any discrepancy, it should be immediately reported to the TRB, Chennai for necessary action.
- The candidates appearing for the examination in their own interest, should check their eligibility in all respects to avoid disappointment if any at later stage and their candidature for this examination is "PURELY PROVISIONAL".
- Please note that this Hall Ticket does not constitute any offer of employment.
- NO REQUEST FOR CHANGE OF EXAMINATION CENTRE WILL BE CONSIDERED UNDER ANY CIRCUMSTANCES.
- No candidate will be allowed to enter into the Examination Hall after gate closing time 09:30 a.m. and should not leave the Examination Hall before 01:00 p.m. for all candidates and 02:00 p.m. for PWD candidates.
- The candidate must bring this Hall Ticket to the Examination Centre. No candidate will be allowed entry without this Hall Ticket.
- The candidate is also instructed to bring any one of the following Photo Identification Cards in original viz.
 - Aadhar Card
 - PAN Card



Teachers Recruitment Board

Perasiriyar Anbazhagan Kalvi Valagam, College Road, Chennai - 600006.

Hall Ticket for OMR Examination (Objective Type)
for the Tamil Nadu Teacher Eligibility Test, Paper - II - 2025
[Notification No. 03/2025 Dated: 11.08.2025]

விண்ணப்பதாரரின் பெயர் / Candidate's Name	DEEPA AM	 
விண்ணப்பதாரரின் தேர்வு எண். / Candidate's Roll No.	25T21103070159	
விண்ணப்பதாரரின் விண்ணப்ப எண். / Candidate's Application No.	TETP2331329	
பிறந்த தேதி / Date of Birth	30-04-1990	
தந்தை / தாய் பெயர் Father / Mother Name	MUNUSAMY A	
பாலினம் / Gender	FEMALE	
மாற்றுத்திறனாளி / Differently abled	NO	
சொல்வதை எழுதுபவர் / Scribe	-	
விண்ணப்பித்த மொழி / Language Applied for	Tamil	
விண்ணப்பித்த விருப்பப் பாடம் / Optional Subject for	Mathematics and Science	
விண்ணப்பதாரரின் முகவரி / Address of the Candidate:	NO 67 A THULUKKANATHAMMAN KOVIL STREET BHARATHI NAGAR ZAMIN PALLAVARAM, CHENNAI, KANCHEEPURAM CHENGALPET, PIN - 600043	
மையக் குறியீட்டுடன் தேர்வு மையம் பெயர், முகவரி மற்றும் மாவட்டம்: / Centre code, Name and Address of the Examination Centre with District:	Centre Code: 0307 District: CHENNAI PERUNTHALAIVAR KAMARAJAR GOVERNMENT GIRLS HIGHER SECONDARY SCHOOL,NORTH PARK STREET, VENKATAPURAM .AMBATTUR,CHENNAI-600 053.	

Schedule of Examination



Date of Exam	Reporting Time	Gate Closing Time	Examination Timings
16.11.2025	8.30 a.m.	9.30 a.m.	10.00 a.m. to 01.00 p.m. - All candidates 10.00 a.m. to 02.00 p.m. - PWD candidates



Teachers Recruitment Board

Perasiriyar Anbazhagan Kalvi Valagam, College Road, Chennai - 600006.

Hall Ticket for OMR Examination (Objective Type)
for the Tamil Nadu Teacher Eligibility Test, Paper - II - 2025
[Notification No. 03/2025 Dated: 11.08.2025]

விண்ணப்பதாரரின் பெயர் / Candidate's Name	NIRUBA MAYIL V	 
விண்ணப்பதாரரின் தேர்வு எண். / Candidate's Roll No.	25T21230060158	
விண்ணப்பதாரரின் விண்ணப்ப எண். / Candidate's Application No.	TETP2052064	
பிறந்த தேதி / Date of Birth	12-06-1981	
தந்தை / தாய் பெயர் Father / Mother Name	VEERAPERUMAL R	
பாலினம் / Gender	FEMALE	
மாற்றுத்திறனாளி / Differently abled	NO	
சொல்வதை எழுதுபவர் / Scribe	-	
விண்ணப்பித்த மொழி / Language Applied for	Tamil	
விண்ணப்பித்த விருப்பப் பாடம் / Optional Subject for	Social Science	
விண்ணப்பதாரரின் முகவரி / Address of the Candidate:	5/90 MIDDLE STREET SRI MOOLAKARAI SRIVAIKUNDAM TALUK, THOOTHUKUDI, THOOTHUKUDI, PIN - 628620	



Hall Ticket for OMR Examination (Objective Type)

for the Tamil Nadu Teacher Eligibility Test, Paper - II - 2025

[Notification No. 03/2025 Dated: 11.08.2025]

விண்ணப்பதாரரின் பெயர் / Candidate's Name	SANGEETHA R
விண்ணப்பதாரரின் தேர்வு எண். / Candidate's Roll No.	25T21127200028
விண்ணப்பதாரரின் விண்ணப்ப எண். / Candidate's Application No.	TETP2051771
பிறந்த தேதி / Date of Birth	01-07-1982
தாய் பெயர் / Mother Name	RAJA B
பாலினம் / Gender	FEMALE
பிற்பாடு உள்ளாள் / Differently abled	NO
எழுதுபவர் / Scribe	
பின்பிடித்த மொழி / Language Applied for	Tamil
பின்பிடித்த விருப்பப் பாடம் / Optional Subject for	Social Science
விண்ணப்பதாரரின் முகவரி / Address of the Candidate:	24/1 KANCHIPURAM HIGH ROAD , NO 65 PALUR VILLAGE AND POST, PALUR, CHENGALPATTU, PIN - 603101
மையக் குறியீட்டுடன் தேர்வு மையம் பெயர், முகவரி மற்றும் மாவட்டம்: / Centre code, Name and Address of the Examination Centre with District:	Centre Code: 0207 District: CHENGALPATTU GOVT GIRLS HR SEC SCHOOL, ORAGADAM SALAI(OPPOSITE TO TALUK OFFICE) THIRUKALUKUNDRAM, CHENGALPATTU DIST -603109



Teachers Recruitment Board

Perasiriyar Anbazhagan Kalvi Valagam, College Road, Chennai - 600006.

Hall Ticket for OMR Examination (Objective Type)

for the Tamil Nadu Teacher Eligibility Test, Paper - II - 2025

[Notification No. 03/2025 Dated: 11.08.2025]

விண்ணப்பதாரரின் பெயர் / Candidate's Name	LAKSHMI R
விண்ணப்பதாரரின் தேர்வு எண். / Candidate's Roll No.	25T21202070216
விண்ணப்பதாரரின் விண்ணப்ப எண். / Candidate's Application No.	TETP2145208
பிறந்த தேதி / Date of Birth	18-05-1985
தந்தை / தாய் பெயர் / Father / Mother Name	RASPAL P
பாலினம் / Gender	FEMALE
மாற்றுத்திறனாளி / Differently abled	NO
சொல்வதை எழுதுபவர் / Scribe	-
பின்பிடித்த மொழி / Language Applied for	Tamil
பின்பிடித்த விருப்பப் பாடம் / Optional Subject for	Social Science
விண்ணப்பதாரரின் முகவரி / Address of the Candidate:	24/1 KANCHIPURAM HIGH ROAD , NO 65 PALUR VILLAGE AND POST, PALUR, CHENGALPATTU, PIN - 603101
மையக் குறியீட்டுடன் தேர்வு மையம் பெயர், முகவரி மற்றும் மாவட்டம்: / Centre code, Name and Address of the Examination Centre with District:	Centre Code: 0207 District: CHENGALPATTU GOVT GIRLS HR SEC SCHOOL, ORAGADAM SALAI(OPPOSITE TO TALUK OFFICE) THIRUKALUKUNDRAM, CHENGALPATTU DIST -603109



L. Lakshmi





Teachers Recruitment Board

Perasiriyar Anbazhagan Kalvi Valagam, College Road, Chennai - 600006.

Hall Ticket for OMR Examination (Objective Type)
for the Tamil Nadu Teacher Eligibility Test, Paper - II - 2025
[Notification No. 03/2025 Dated: 11.08.2025]

விண்ணப்பதாரரின் பெயர் / Candidate's Name	DEEPA AM	 
விண்ணப்பதாரரின் தேர்வு எண். / Candidate's Roll No.	25T21103070159	
விண்ணப்பதாரரின் விண்ணப்ப எண். / Candidate's Application No.	TETP2331329	
பிறந்த தேதி / Date of Birth	30-04-1990	
தந்தை / தாய் பெயர் Father / Mother Name	MUNUSAMY A	
பாலினம் / Gender	FEMALE	
மாற்றுத்திறனாளி / Differently abled	NO	
சொல்வதை எழுதுபவர் / Scribe	-	
விண்ணப்பித்த மொழி / Language Applied for	Tamil	
விண்ணப்பித்த விருப்பப் பாடம் / Optional Subject for	Mathematics and Science	
விண்ணப்பதாரரின் முகவரி / Address of the Candidate:	NO 67 A THULUKKANATHAMMAN KOVIL STREET BHARATHI NAGAR ZAMIN PALLAVARAM, CHENNAI, KANCHEEPURAM CHENGALPET, PIN - 600043	
மையக் குறியீட்டுடன் தேர்வு மையம் பெயர், முகவரி மற்றும் மாவட்டம்: / Centre code, Name and Address of the Examination Centre with District:	Centre Code: 0307 District: CHENNAI PERUNTHALAIVAR KAMARAJAR GOVERNMENT GIRLS HIGHER SECONDARY SCHOOL,NORTH PARK STREET, VENKATAPURAM .AMBATTUR,CHENNAI-600 053.	

Schedule of Examination

Date of Exam	Reporting Time	Gate Closing Time	Examination Timings
16.11.2025	8.30 a.m.	9.30 a.m.	10.00 a.m. to 01.00 p.m. - All candidates 10.00 a.m. to 02.00 p.m. - PWD candidates



Teachers Recruitment Board

Perasiriyar Anbazhagan Kalvi Valagam, College Road, Chennai - 600006.

Hall Ticket for OMR Examination (Objective Type)
for the Tamil Nadu Teacher Eligibility Test, Paper - II - 2025
[Notification No. 03/2025 Dated: 11.08.2025]

விண்ணப்பதாரரின் பெயர் / Candidate's Name	NIRUBA MAYIL V	 
விண்ணப்பதாரரின் தேர்வு எண். / Candidate's Roll No.	25T21230060158	
விண்ணப்பதாரரின் விண்ணப்ப எண். / Candidate's Application No.	TETP2052064	
பிறந்த தேதி / Date of Birth	12-06-1981	
தந்தை / தாய் பெயர் Father / Mother Name	VEERAPERUMAL R	
பாலினம் / Gender	FEMALE	
மாற்றுத்திறனாளி / Differently abled	NO	
சொல்வதை எழுதுபவர் / Scribe	-	
விண்ணப்பித்த மொழி / Language Applied for	Tamil	
விண்ணப்பித்த விருப்பப் பாடம் / Optional Subject for	Social Science	
விண்ணப்பதாரரின் முகவரி / Address of the Candidate:	5/90 MIDDLE STREET SRI MOOLAKARAI SRIVAIKUNDAM TALUK, THOOTHUKUDI, THOOTHUKUDI, PIN - 628620	

இரு எண்களின் மீ.சி.ம ஆனது மீ.பெ.கா.யின் 6 மடங்காகும் மீ.பொ.கா 12 மற்றும் ஓர் எண் 36 எனில், மற்றொரு எண்ணைக் காண்க

LCM of two numbers is six times their HCF. If HCF is 12 and one number is 36 find the other number



இரு எண்களின் மீ.சி.ம ஆனது மீ.பெ.கா.யின் 6 மடங்காகும் மீ.பொ.கா 12 மற்றும் ஓர் எண் 36 எனில், மற்றொரு எண்ணைக் காண்க

LCM of two numbers is six times their HCF. If HCF is 12 and one number is 36 find the other number

- (A) 48
(C) 24

- (B) 36
(D) 12



$a^2 + b^2 = 234$ மற்றும் $ab = 108$ எனில் $\frac{a+b}{a-b}$ -ன் மதிப்பைக் காண்க.

If $a^2 + b^2 = 234$ and $ab = 108$ then find the value of $\frac{a+b}{a-b}$



$a^2 + b^2 = 234$ மற்றும் $ab = 108$ எனில் $\frac{a+b}{a-b}$ -ன் மதிப்பைக் காண்க.

If $a^2 + b^2 = 234$ and $ab = 108$ then find the value of $\frac{a+b}{a-b}$

(A) 10

(B) 8

(C) 5

(D) 4

$8\frac{1}{2}$ மீட்டர் என்பது $11\frac{1}{3}$ மீட்டரில் எத்தனை சதவீதம்?


$8\frac{1}{2}$ metres is what percent of $11\frac{1}{3}$ metres?



$8\frac{1}{2}$ மீட்டர் என்பது $11\frac{1}{3}$ மீட்டரில் எத்தனை சதவீதம்?

$8\frac{1}{2}$ metres is what percent of $11\frac{1}{3}$ metres?

- (A) 60%
- (B) 72%
- (C) 75%
- (D) 68%



பின்வரும் தொடர் வரிசையில் விடுபட்ட எண்ணைக் காண்க. $2^2, 3^2, 5^2, 7^2, \dots, 13^2$

Find the missing number in the following sequences. $2^2, 3^2, 5^2, 7^2, \dots, 13^2$



பின்வரும் தொடர் வரிசையில் விடுபட்ட எண்ணைக் காண்க. $2^2, 3^2, 5^2, 7^2, \dots, 13^2$

Find the missing number in the following sequences. $2^2, 3^2, 5^2, 7^2, \dots, 13^2$

(A) 9^2

(B) 10^2

(C) 11^2

(D) 84



ஒரு கனச்சதுரத்தின் மொத்த புறப்பரப்பு 486 செ.மீ^2 எனில் அதன் பக்கப் பரப்பும், கன அளவும் முறையே _____ ஆகும்.

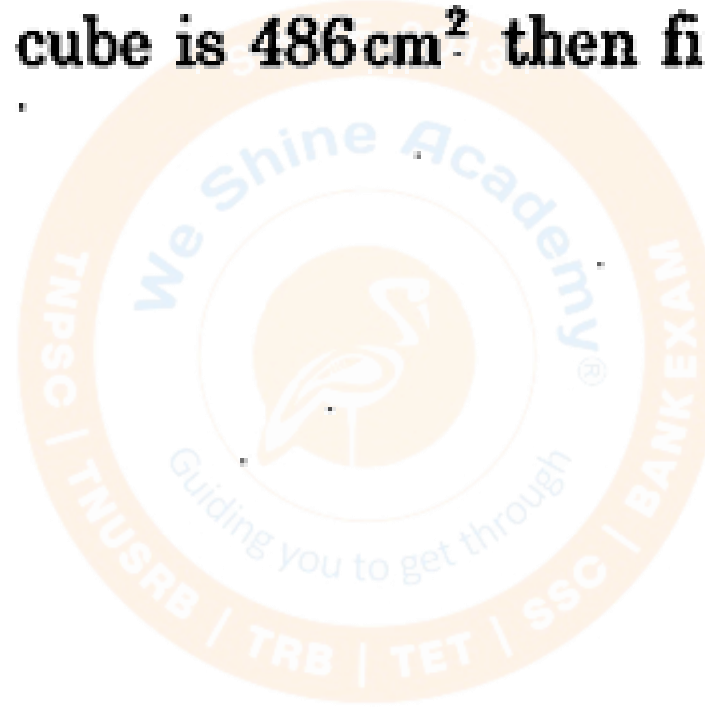
If the total surface area of a cube is 486 cm^2 then find the lateral surface area and volume respectively.



ஒரு கனச்சதுரத்தின் மொத்த புறப்பரப்பு 486 செ.மீ^2 எனில் அதன் பக்கப் பரப்பும், கன அளவும் முறையே _____ ஆகும்.

If the total surface area of a cube is 486 cm^2 then find the lateral surface area and volume respectively.

- (A) $729 \text{ cm}^2, 324 \text{ cm}^3$
- (B) $324 \text{ cm}^3, 729 \text{ cm}^2$
- (C) $324 \text{ cm}^2, 729 \text{ cm}^3$
- (D) $729 \text{ cm}^3, 324 \text{ cm}^2$



இரு கோளங்களின் ஆரங்களின் விகிதம் 4 : 7 எனில் கன அளவுகளின் விகிதம்

The ratio of radii of two spheres are 4 : 7 then the ratio of their volumes



இரு கோளங்களின் ஆரங்களின் விகிதம் 4 : 7 எனில் கன அளவுகளின் விகிதம்

The ratio of radii of two spheres are 4 : 7 then the ratio of their volumes

- (A) 4 : 7
- (B) 64 : 49
- (C) 16 : 49
- (D) 64 : 343



ரூ. 800 ஐ கூட்டு வட்டி வீதம் 3 ஆண்டுகளுக்கும், ரூ. 840 ஐ 4 ஆண்டுகளுக்கும் ஒரு வங்கியில் செலுத்தினால் கிடைக்கும் வட்டி வீதம் எவ்வளவு?

A sum of money invested at compound interest amounts to Rs. 800 in 3 yrs. and to 840 in 4 yrs. Find the rate of interest per annum?



ரூ. 800 ஐ கூட்டு வட்டி வீதம் 3 ஆண்டுகளுக்கும், ரூ. 840 ஐ 4 ஆண்டுகளுக்கும் ஒரு வங்கியில் செலுத்தினால் கிடைக்கும் வட்டி வீதம் எவ்வளவு?

A sum of money invested at compound interest amounts to Rs. 800 in 3 yrs. and to 840 in 4 yrs. Find the rate of interest per annum?

(A) $2\frac{1}{2}\%$

(B) 4%

(C) 5%

(D) $6\frac{2}{3}\%$

15% ஆண்டு வட்டியில், 3 ஆண்டுகளுக்கு கிடைத்த தனி வட்டிக்கும் கூட்டு வட்டிக்கும் இடையே உள்ள வித்தியாசம் ₹ 1134 எனில் அசலைக் காண்க.

Find the principal if the difference between compound interest and simple interest on it at 15% per annum for 3 years is Rs. 1134



15% ஆண்டு வட்டியில், 3 ஆண்டுகளுக்கு கிடைத்த தனி வட்டிக்கும் கூட்டு வட்டிக்கும் இடையே உள்ள வித்தியாசம் ₹ 1134 எனில் அசலைக் காண்க.

Find the principal if the difference between compound interest and simple interest on it at 15% per annum for 3 years is Rs. 1134

(A) ₹ 12,000

(B) ₹ 16,000

(C) ₹ 8,000

(D) ₹ 6,000



2 : 7-ன் இருபடி விகிதம் என்னவாக இருக்கும்?

What will be the duplicate ratio of 2 : 7?



2 : 7-ன் இருபடி விகிதம் என்னவாக இருக்கும்?

What will be the duplicate ratio of 2 : 7?

- (A) 4 : 49
- (B) 49 : 4
- (C) 4 : 14
- (D) 8 : 343

$$\frac{a^3 + b^3}{a^2 + 2ab + b^2}$$

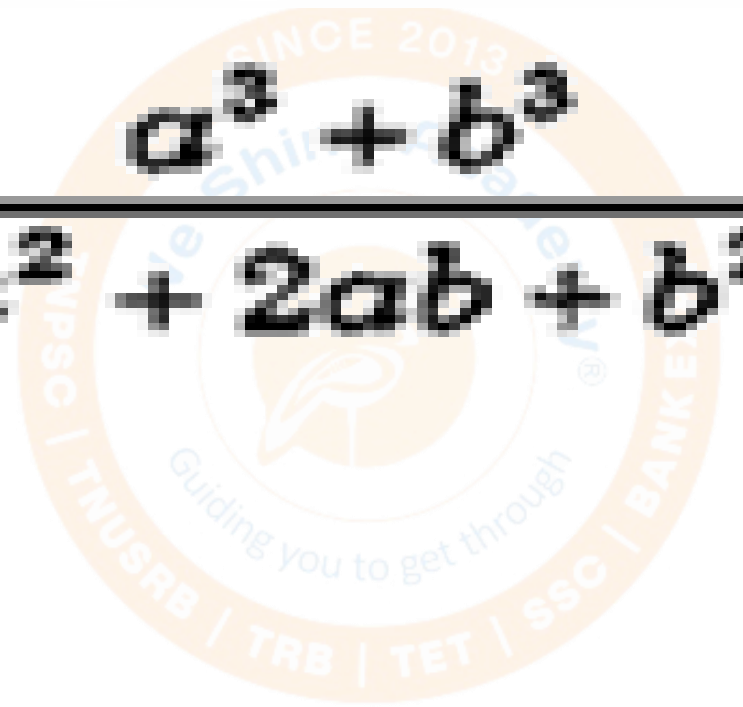
$$\frac{a^2 - b^2}{a - b}$$

ஆல் பெருக்க கிடைப்பது

Multiply

$$\frac{a^3 + b^3}{a^2 + 2ab + b^2}$$

by $\frac{a^2 - b^2}{a - b}$



$$\frac{a^3 + b^3}{a^2 + 2ab + b^2}$$


$$\frac{a^2 - b^2}{a - b}$$

ஆல் பெருக்க கிடைப்பது

Multiply

$$\frac{a^3 + b^3}{a^2 + 2ab + b^2}$$

by $\frac{a^2 - b^2}{a - b}$



(A) $a^2 - ab + b^2$

(B)

$a^3 + b^3$

(C)

$a^2 + ab + b^2$

(D)

$a^3 - b^3$

A large, faint watermark logo for Weshine Academy is centered in the background. It features a circular design with a star in the center. The text 'Weshine Academy' is written in a curved path around the star. Above the star, it says 'SINCE 2013'. Below the star, it says 'Guiding you to get through'. At the bottom of the circle, it lists various exam types: 'TNUSRB | TRB | TET | SSC | BANK EXAM'.

Thank You