



# உளவியல் வினா விடை

0, 8, 24, 48, 80, ? Find the next number.

- A) 110                      B) 96                      C) 120                      D) 140

0, 8, 24, 48, 80, ? அடுத்த எண்ணை காண்க.

- A) 110                      B) 96                      C) 120                      D) 140

Arrange the following words in meaningful order:

1. Poverty    2. Population growth    3. Death    4. Unemployment    5. Disease  
 A) 3,4,2,5,1    B) 2,4,1,5,3    C) 2,3,4,5,1    D) 1,2,3,4,5

கீழே கொடுக்கப்பட்ட வார்த்தைகளை பொருள்தரும் வகையில் வரிசைப்படுத்துக:

- 1)வறுமை    2) மக்கள்தொகை பெருக்கம்    3) இறப்பு  
 4) வேலையின்மை    5) நோய்  
 A) 3,4,2,5,1    B) 2,4,1,5,3    C) 2,3,4,5,1    D) 1,2,3,4,5

At 4:15, what is the angle between the hour hand and minute hand?

- A)  $37.5^\circ$       B)  $45^\circ$       C)  $90^\circ$       D)  $60^\circ$

மணி 4.15 ஆகும் போது மணிமுள்ளுக்கும் நிமிடமுள்ளுக்கும் இடைப்பட்ட கோணம் எவ்வளவு?

- A)  $37.5^\circ$       B)  $45^\circ$       C)  $90^\circ$       D)  $60^\circ$

Which word comes second alphabetically in English dictionary?

- A) Sunday                      B) Sunrise                      C) Sustain                      D) Super

ஆங்கில அகராதியில் இரண்டாவதாக இடம் பெறும் சொல் எது?

- A) Sunday                      B) Sunrise                      C) Sustain                      D) Super

Premise: Some books are pens. :

All pens are papers.

Conclusion: I. Some papers are books.      II. All books are papers.

A) Only I correct      B) Only II correct      C) I or II correct      D) Both wrong

தொடர்: சில புத்தகங்கள் பேனாக்கள் ஆகும். :

எல்லா பேனாக்களும் தாள்கள் ஆகும். முடிவு:

I. சில தாள்கள் புத்தகங்கள் ஆகும்.

II. எல்லாப் புத்தகங்களும் தாள்கள் ஆகும்.

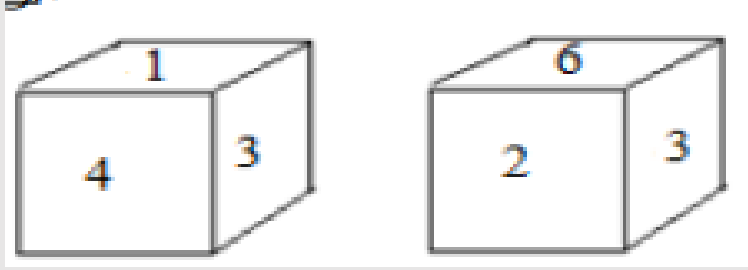
A) முடிவு I மட்டும் சரி

B) முடிவு II மட்டும் சரி

C) முடிவு I அல்லது முடிவு II சரி

D) இரண்டும் தவறு

In the cube shown, if number 5 is at the bottom, what number is on top?



- A) 1                      B) 2                      C) 3                      D) 4

கீழே கொடுக்கப்பட்டுள்ள கன சதுரத்தில் '5' என்ற எண் கீழே காணப்பட்டால் மேலே இருக்கும் எண் எது?

- A) 1                      B) 2                      C) 3                      D) 4

Find the missing number (from the matrix with 16, 14, 5, 70, ?)

	16	
14	5	70
	?	

- A) 80                      B) 60                      C) 40                      D) 20

விடுபட்ட எண் காண்க (16, 14, 5, 70, ?)

- A) 80                      B) 60                      C) 40                      D) 20

Eight friends J, K, L, M, N, O, P and Q are sitting in a circle facing the center. J is not adjacent to N. L is seated third to the right of K. Q is seated second to the left of N, and M is seated to the right of L. O is not adjacent to N or K, but is immediately to the left of P.

i) In which group is the first person sitting between the next two persons?

- A) PKJ                      B) JQL                      C) QNL                      D) None of the above

எட்டு நண்பர்கள் J, K, L, M, N, O, P மற்றும் Q வட்டவடிவில் வட்டத்தின் மையத்தை நோக்கி அமர்ந்துள்ளனர். J என்பவர் N க்கு அருகில் இல்லை. L என்பவர் K க்கு வலப்புறம் மூன்றாவதாக அமர்ந்துள்ளார். Q என்பவர் N க்கு இடப்புறம் இரண்டாவதாக அமர்ந்துள்ளார், மற்றும் M என்பவர் L க்கு வலப்புறம் அமர்ந்துள்ளார். O என்பவர் N அல்லது K க்கு அருகில் இல்லை. ஆனால் P க்கு இடப்புறம் உடனடியாக அமர்ந்துள்ளார்.

i) பின்வருவனவற்றில் எந்த தொகுதியில் முதல் நபர் அடுத்த இரு நபருக்கு நடுவில் அமர்ந்துள்ளார்?

- A) PKJ                      B) JQL                      C) QNL                      D) மேற்கண்ட எதுவும் இல்லை

The population of a city in 2013 is 1,25,000. If it increases by 7% the next year, find the population in 2014.

- A) 8750                      B) 133750                      C) 116250                      D) 125000

2013 ல் ஒரு நகரத்தின் மக்கள்தொகை 1,25,000. அடுத்த ஆண்டில் அது 7% பெருகுமானால் 2014 ல் மக்கள்தொகையை காண்க.

- A) 8750                      B) 133750                      C) 116250                      D) 125000



What is the base number of the Sexagesimal number system?

- A) 2                      B) 10                      C) 60                      D) 100

செக்சாஜெசிமல் (Sexagesimal) என்ற எண்முறைக்கு அடி எண் எது?

- A) 2                      B) 10                      C) 60                      D) 100

I start from a point, walk 3 km, then turn left and walk 4 km. What is my distance from the starting point?

A) 2 Km

B) 1 Km

C) 25 Km

D) 5 Km

நான் ஒரு புள்ளியிலிருந்து கிளம்பி 3 Km நடந்து, இடது புறம் திரும்பி 4km நடந்தால் ஆரம்பப்புள்ளியிலிருந்து நான் உள்ள தூரம்?

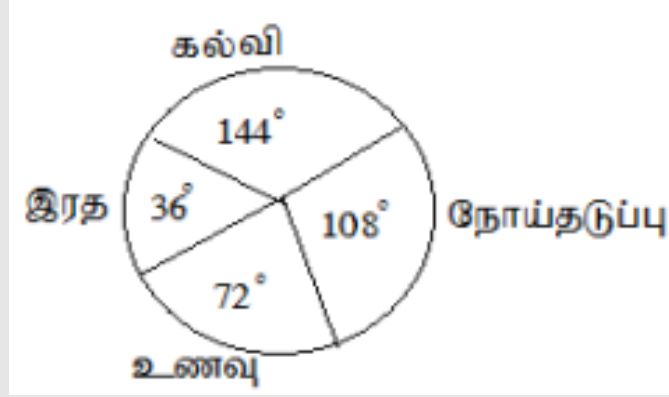
A) 2Km

B) 1 Km

C) 25Km

D) 5 Km

Revenue expenditures are shown in a pie chart. The percentage of revenue spent on disease prevention is? (Pie chart sectors: Education 144°, Transport 36°, Disease prevention 108°, Food 72°)



A) 40%

B) 30%

C) 20%

D) 10%

வருவாய் மூலம் செய்த செலவினங்களை வட்ட விளக்க படத்தில் விவரிக்கப்பட்டுள்ளது. நோய் தடுப்புக்கு செய்த வருவாய் செலவின் சதவீதம் ஆனது?

A) 40%

B) 30%

C) 20%

D) 10%

Find the missing number: 29, 40, 53, 68, .....

- A) 76                      B) 85                      C) 90                      D) 92

விடுபட்ட எண்ணை கண்டுபிடி: 29, 40, 53, 68, .....

- A) 76                      B) 85                      C) 90                      D) 92

Among the numbers 5, 7, 9, 11, 13, 17 — which is the odd one out?

- A) 17                      B) 9                      C) 11                      D) 13

5, 7, 9, 11, 13, 17 என்ற எண்களில் வித்தியாசமான எண்?

- A) 17                      B) 9                      C) 11                      D) 13

A, B, C represent 1, 2, 3 respectively. If EGG = 577, what number does CAB represent?

- A) 312                      B) 213                      C) 123                      D) 321

A, B, C முறையே 1, 2, 3 என்ற எண்களை குறிக்கும் EGG என்பதை 577 என்று குறித்தால், CAB என்பதை குறிக்கும் எண்?

- A) 312                      B) 213                      C) 123                      D) 321

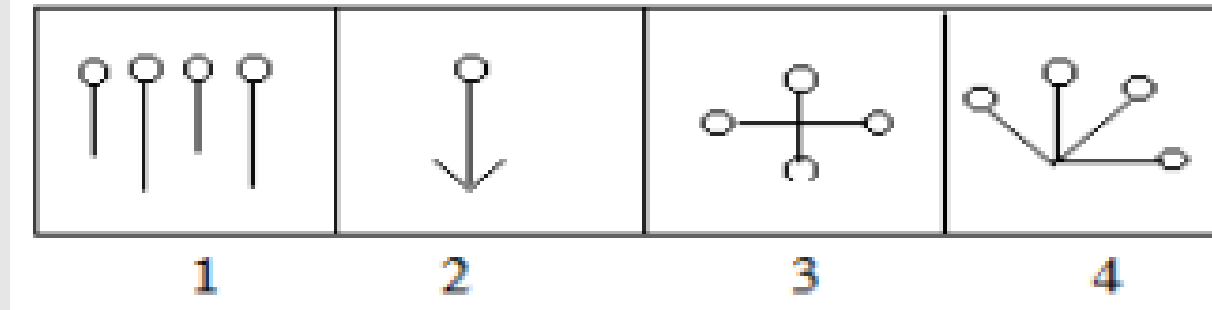
In a 24-hour clock, how many times do the two hands meet?

- A) 23 times                      B) 22 times                      C) 24 times                      D) 12 times

24 மணி நேரத்தின் கடிகாரத்தின் இரு முட்களும் எத்தனை முறை சந்திக்கும்?

- A) 23 முறை                      B) 22 முறை                      C) 24 முறை                      D) 12 முறை

Among the following figures, which one is unrelated?



A) 1

B) 2

C) 3

D) 4

பின்வரும் படங்களுள் தொடர்பற்ற படம் எது?

A) 1

B) 2

C) 3

D) 4

If you are 11th from both the front and the back of a queue, what is the total length of the queue?

- A) 20                      B) 21                      C) 19                      D) 22

நீ ஒரு வரிசையில் முன்பிருந்தும் பின்பிருந்தும் 11வது இடத்தில் இருந்தால், அந்த வரிசையில் நீளம்?

- A) 20                      B) 21                      C) 19                      D) 22

In front of two cats there is one cat, behind two cats there is one cat, and one cat is in the middle. How many cats are there in total?

- A) 5                      B) 3                      C) 7                      D) 9

இரண்டு பூனைகளின் முன்னே ஒரு பூனை இரண்டு பூனைகளின் பின்னே ஒரு பூனை ஒரு பூனை நடுவில் என்றால் மொத்த பூனைகள் எத்தனை?

- A) 5                      B) 3                      C) 7                      D) 9

A large, faint watermark of the Weshine Academy logo is centered in the background. It is a circular emblem with an orange border. Inside the border, the text "SINCE 2013" is at the top, "Weshine Academy" is in the middle, and "Guiding you to get through" is at the bottom. The outer ring of the logo contains the text "TNUSRB | TRB | TET | SSC | BANK EXAM".

# Thank You