


TNPSC COMBINED

**SINGLE FEE
MULTIPLE EXAMS**

₹19,999

**ADMISSION OPEN
JOIN NOW**

 **DIRECT CLASS**
 **ONLINE CLASS**
Available

-  **Time Tracker**
-  **Audio Study Materials**
-  **Easy EMI**
-  **Speed Maths**
-  **Book Set Materials - Count**

+91 8939 144 344 | +91 8939 244 344




We Shine Academy

guiding you to get through

TNPSC | TNUSRB | RRB | SSC | BANK EXAM

SINCE 2013

MATHS



ஒரு தாய் தன்னிடம் உள்ள ரூ. 207-ஐ கூட்டுத்தொடர் வரிசையில் அமையும் மூன்று பாகங்களாகப் பிரித்து தனது மூன்று குழந்தைகளுக்கும் கொடுக்க விரும்பினார். அவற்றுள் இரு சிறு தொகைகளின் பெருக்கற்பலன் ரூ. 4623 ஆகும். இதில் ஒவ்வொரு குழந்தையும் பெரும் தொகையினைக் காண்க.

A mother divides Rs. 207 into three parts such that the amount are in AP and give it to her three children. The product of the two least amounts that the children had Rs. 4623. Find the amount received by each child.

ஒரு தாய் தன்னிடம் உள்ள ரூ. 207-ஐ கூட்டுத்தொடர் வரிசையில் அமையும் மூன்று பாகங்களாகப் பிரித்து தனது மூன்று குழந்தைகளுக்கும் கொடுக்க விரும்பினார். அவற்றுள் இரு சிறு தொகைகளின் பெருக்கற்பலன் ரூ. 4623 ஆகும். இதில் ஒவ்வொரு குழந்தையும் பெரும் தொகையினைக் காண்க.

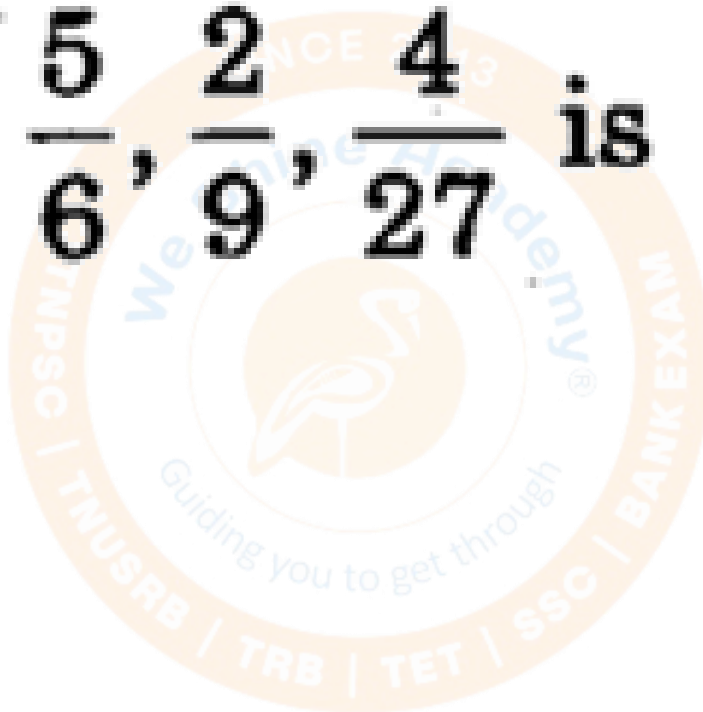
A mother divides Rs. 207 into three parts such that the amount are in AP and give it to her three children. The product of the two least amounts that the children had Rs. 4623. Find the amount received by each child.

(A) 64, 69, 74
~~(C)~~ 67, 69, 71

(B) 65, 69, 73
(D) 68, 69, 70

$\frac{1}{3}, \frac{5}{6}, \frac{2}{9}, \frac{4}{27}$ ன் மீ.பெ.ம. என்ன?

The LCM of $\frac{1}{3}, \frac{5}{6}, \frac{2}{9}, \frac{4}{27}$ is



$\frac{1}{3}, \frac{5}{6}, \frac{2}{9}, \frac{4}{27}$ ன் மீ.பெ.ம. என்ன?

The LCM of $\frac{1}{3}, \frac{5}{6}, \frac{2}{9}, \frac{4}{27}$ is

~~(A)~~ $\frac{20}{3}$

(C) $\frac{10}{18}$

(B) $\frac{40}{81}$

(D) $\frac{40}{27}$

ஒரு பொருளின் மீது வழங்கப்படும் இரு தொடர் தள்ளுபடிகள் முறையே 25% மற்றும் 20% எனில் இதற்கு நிகரான ஒரே சமானத் தள்ளுபடிச் சதவீதத்தினைக் காண்க.

Find the single discount in percentage which is equivalent to two successive discounts of 25% and 20% given for an article.



ஒரு பொருளின் மீது வழங்கப்படும் இரு தொடர் தள்ளுபடிகள் முறையே 25% மற்றும் 20% எனில் இதற்கு நிகரான ஒரே சமானத் தள்ளுபடிச் சதவீதத்தினைக் காண்க.

Find the single discount in percentage which is equivalent to two successive discounts of 25% and 20% given for an article.

(A) 30 %

(B) 50 %

~~(C)~~ 40 %

(D) 20 %

அடுத்த எண்ணைக் கண்டுபிடி.

Find the next term (number) of the series.



அடுத்த எண்ணைக் கண்டுபிடி.

Find the next term (number) of the series.

1, 5, 29, _____

(A) 71

(C) 73

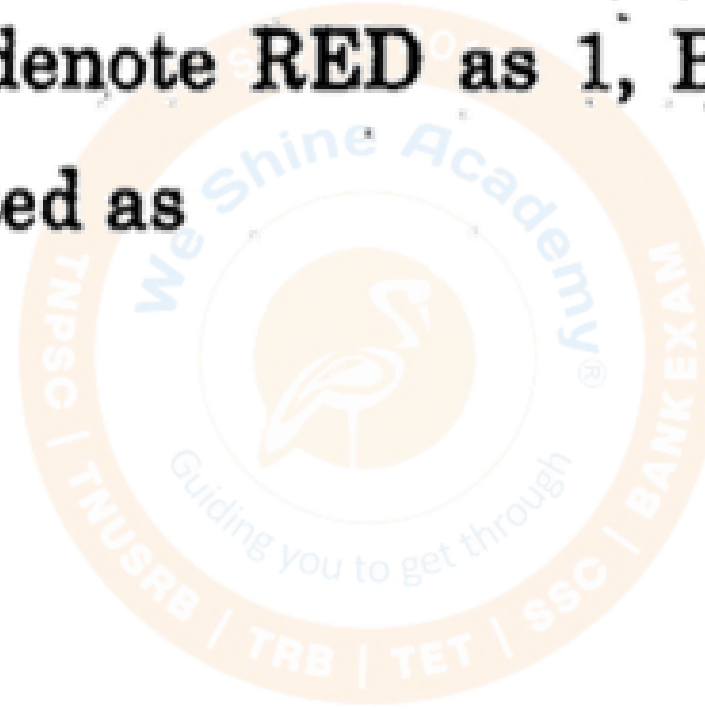
~~(B)~~ 259

(D) 257



ஒரு வித குறியீட்டில், 'RED' 1 எனவும், 'BLUE' 2 எனவும், 'VIOLET' 3 எனவும் குறிக்கப்பட்டால், 'ORANGE' எவ்வாறு குறிக்கப்படும்?

In a certain code, we denote RED as 1, BLUE as 2, VIOLET as 3 then ORANGE is denoted as



ஒரு வித குறியீட்டில், 'RED' 1 எனவும், 'BLUE' 2 எனவும், 'VIOLET' 3 எனவும் குறிக்கப்பட்டால், 'ORANGE' எவ்வாறு குறிக்கப்படும்?

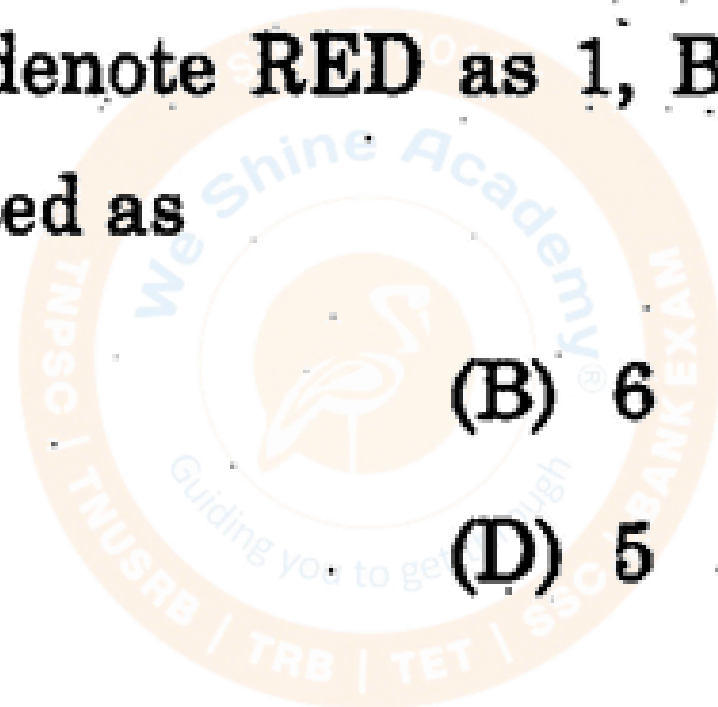
In a certain code, we denote RED as 1, BLUE as 2, VIOLET as 3 then ORANGE is denoted as

(A) 4

(B) 6

~~(C) 3~~

(D) 5



2, 2, 3, 4, 5, 6 முக மதிப்புகள் உடைய இரு பகடைகள் உருட்டப்படும் பொழுது, இரண்டு முக மதிப்புகளும் சார்பகா எண்களாக இருக்க வாய்ப்புகள் எத்தனை?

2 dice having face values 2, 2, 3, 4, 5, 6 are rolled. In how many cases the face values are relatively prime to each other?



2, 2, 3, 4, 5, 6 முக மதிப்புகள் உடைய இரு பகடைகள் உருட்டப்படும் பொழுது, இரண்டு முக மதிப்புகளும் சார்பகா என்களாக இருக்க வாய்ப்புகள் எத்தனை?

2 dice having face values 2, 2, 3, 4, 5, 6 are rolled. In how many cases the face values are relatively prime to each other?

(A) 12

~~(B) 16~~

(C) 20

(D) 24

704 ச.செ.மீ மொத்த புறப்பரப்பு கொண்ட ஒரு கூம்பின் சாயுயரம் 25 செ.மீ எனில் அதன் ஆரம் என்ன?

If the total surface area of a cone of slant height 25 cm is 704 cm², then find its radius.



704 ச.செ.மீ மொத்த புறப்பரப்பு கொண்ட ஒரு கூம்பின் சாயுயரம் 25 செ.மீ எனில் அதன் ஆரம் என்ன?

If the total surface area of a cone of slant height 25 cm is 704 cm^2 , then find its radius.

- ~~(A)~~ 7 cm
(C) 32 cm

- (B) 25 cm
(D) -32 cm

5 செ.மீ பக்க அளவுள்ள ஒரே மாதிரியான இரண்டு கனச்சதுரங்கள் ஒன்றுடன் ஒன்று பக்கவாட்டில் இணைக்கப்படும்போது கிடைக்கும் புதிய கனச்செவ்வகத்தின் மொத்தப்பரப்பைக் காண்க.

Two identical cubes of side 5 cm are joined end to end. Find the Total Surface Area of the new resulting cuboid.



5 செ.மீ பக்க அளவுள்ள ஒரே மாதிரியான இரண்டு கனச்சதுரங்கள் ஒன்றுடன் ஒன்று பக்கவாட்டில் இணைக்கப்படும்போது கிடைக்கும் புதிய கனச்செவ்வகத்தின் மொத்தப்பரப்பைக் காண்க.

Two identical cubes of side 5 cm are joined end to end. Find the Total Surface Area of the new resulting cuboid.

- (A) 225 cm^2
(B) 150 cm^2
~~(C) 250 cm^2~~
(D) 200 cm^2

ஒரு பின்னத்தின் தொகுதியை 50% அதிகரித்தும் பகுதியை 20% குறைத்தால் அந்த பின்னமானது $\frac{3}{5}$ ஆக மாறுகிறது எனில் அந்த பின்னத்தைக் காண்க.

If the numerator of a fraction is increased by 50% and the denominator is decreased by 20% then it becomes $\frac{3}{5}$, find the original fraction.

ஒரு பின்னத்தின் தொகுதியை 50% அதிகரித்தும் பகுதியை 20% குறைத்தால் அந்த பின்னமானது $\frac{3}{5}$ ஆக மாறுகிறது எனில் அந்த பின்னத்தைக் காண்க.

If the numerator of a fraction is increased by 50% and the denominator is decreased by 20% then it becomes $\frac{3}{5}$, find the original fraction.

(A) $\frac{3}{4}$

(C) $\frac{24}{25}$

~~(B)~~ $\frac{8}{25}$

(D) $\frac{3}{8}$

பின்வருவனவற்றுள் எந்த இணை எண்களானது அவற்றின் பெருக்குத் தொகையை மீச்சிறு பொது மடங்காக இருக்குமாறு அமைகிறது?

Which one pair of the following such that product of the pair is equal to LCM?



பின்வருவனவற்றுள் எந்த இணை எண்களானது அவற்றின் பெருக்குத் தொகையை மீச்சிறு பொது மடங்காக இருக்குமாறு அமைகிறது?

Which one pair of the following such that product of the pair is equal to LCM?

(A) 32, 162

(C) 40, 405

~~(B)~~ 32, 81

(D) 111, 39



SINCE 2013
We Shine Academy®
 guiding you to get through
 ISO 9001-2015 Certified Educational Institution

**உங்களின்
 அரசு வேலை
 கனவிற்கான முதற்படியை
 இன்றே தொடங்குங்கள்!***

*Guaranteed Central or State Government jobs
 within 6 months of course completion

**TNPSC
 GROUP I
 23rd
 RANK**

Our Central and State
GOVERNMENT OFFICERS
 TNPSC | TNUSRB | TET | SSC | BANK EXAM

 Illakiya	 Suganya	 Alshwarya	 Kesavan K	 Mayuri Priya	 M Esther Angeline	 Shankar	 Nantha Kumar	 K Anu Priya
 Sakthi	 MadhuMathi	 Sri Ganesh	 Subanya S	 Kingsley J	 Arul Mozhi	 J Jeya	 M Umamathy	 P Balaji
 Dharani K	 Alex Pandian	 Kavitha	 Vishnu Priya	 Nisha	 Kalaiselvi	 Bala Vignesh Raj	 Muthu Selvi C	 Karthick
 Suresh	 B Jeenath	 by Joint Commissioner			 Kishore	 K Revathy	 Sankaragomathy S	
 M Pandiyarajan	 S Thanga Mani				 D Parthiban	 M Mahindravarmam	 Michael Priyanka	
 Wasin N	 Sundar Rajan	 Interview Panel Members			 Rajasekar	 Vimala	 Lashmanan	

* Terms and conditions apply



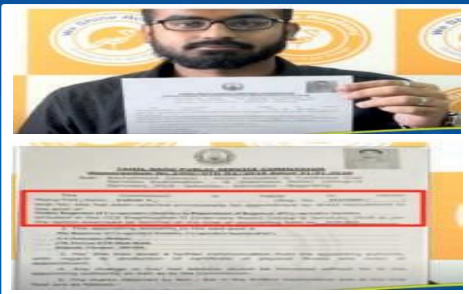
OUR GOVERNMENT OFFICERS

K. THANGA MEENA DEVI

இந்து சமய அறநிலையத் துறை,
உதவியாளர் பணி



STUDENTS WITH APPOINTMENT ORDER



CONGRATULATIONS
ON SUCCESSFULLY GETTING PLACED IN



Angaleswaran
Sub Inspector



Barkavi. K
Educational Dept.



Anandhalakshmi J
IBPS RRB clerk



Sankara Gomathy.S
Village
Administrative Officer



Jeeva. R
Chennai High court



Harisankar K
Police Contable



Vinoth
District Court



Adityan
Agriculture Dept.

Our Central and State GOVERNMENT OFFICERS



Thennarasu
TNUSRB Police



Sangeetha
TNPSC GROUP II
Exam Cleared



Aathithyan G
TNPSC Exam
Agriculture Dept.



Kumari
SBI (PO)



Bala Kumaran V
TNPSC Exam
Agriculture Dept.



Bhavya Shree R
Cleared NICL -
Prelims Exam



Kameshwaran
TNPSC GROUP II
Exam Cleared



Michael Priyanka
IBPS SCALE-II
Officer



Murali
Indian Bank



Jeyanthi
TNPSC GROUP IV



Nirmala S
Group II Interview
Post



Varun Kumar M
SSC GD



Anjali
IBPS SO
(IT OFFICER)



Manimegalai
TNPSC
Judery
Department



Pankajavalli
TNPSC
Stenographer



Parasuraman
Sub Inspector



Abdul Rahman
SSC - MTS



Pradeepraj N
Group 2 A prelims



Aswini
SSC & BANK



Thennarasu
TNUSRB Police



Veera Perumal
TNPSC GROUP II
Exam Cleared



Sivaranjani
TNPSC GROUP II
Exam Cleared



Manimozhi
TNPSC GROUP II
Exam Cleared



Harisankar K
Police Constable



Kavitha
TNUSRB Police
Exam Cleared



B. Benazir Banu
TNUSRB Police
Exam Cleared



Aswin Kumar
Tamilnadu
Post Office



Divya
TNPSC Group II
Exam Cleared



Mathumathi P
Assistant Inspector
of Labour



Manimaran N
Sub Inspector



KAMARAJ
Sub Inspector



THE WESHINE JOURNEY.

Our Central and State GOVERNMENT OFFICERS



Gayathri
RBI



Aswin Kumar. S
TN Postal Dept.



Yesu Amirtham
TNPSC HIGH COURT



M.Esther Angeline
Police Constable



Madhumathi
TNPSC GROUP 1
Exam Cleared



Sabeen Banu
TNPSC HIGH COURT



D.Vignesh
Police Constable



Rahmath Nisha
Labour Dept.



GOKUL S
SSC/BANK



JAI GANESH
SSC/BANK



C.Muthu Selvi
Police Constable



SOWMEYA.S
SSC/BANK



Fahad
Social Welfare
Dept.



KIRAN KUMAR
SSC/BANK



Hari Shankar. P
LIC



Parasuraman
Police Constable



PADMA PRIYA PT
LIC



SURESH .R
LIC



P. Bharathkumar
TNUSRB SI



Naveen .D
SSC/BANK



HARI SHANKAR.P
LIC



S.Madhavan
Police Constable



Anjali .R
SSC/BANK



M. Sivasubbu
Police Constable



Also We provide internal coaching for

Trusted Partnership with



www.weshineacademy.com

8939 144 344 | 8939 244 344



SINCE 2013
We Shine Academy[®]

guiding you to get through

TNPSC | TNUSRB | TET | SSC | BANK EXAM

TNPSC GROUP-I Express TEST SERIES

Starts on:
Saturday | 07-02-2026

Features:

- ✓ 5000+ Questions
- ✓ 37 Total Tests
- ✓ 21 General Studies Tests
- ✓ 05 Revision Tests
- ✓ 11 Full-Length Mock Tests

Offline: ₹5,999/-

Online: ₹4,999/-

Offer:



We Shine Old Students -
FREE!



Teachers Recruitment Board

Perasiriyar Anbazhagan Kalvi Valagam, College Road, Chennai - 600006.

Hall Ticket for OMR Examination (Objective Type)
for the Tamil Nadu Teacher Eligibility Test, Paper - II - 2025
[Notification No. 03/2025 Dated: 11.08.2025]

விண்ணப்பதாரரின் பெயர் / Candidate's Name	SUBASHINI A	 
விண்ணப்பதாரரின் தேர்வு எண். / Candidate's Roll No.	25T21103570127	
விண்ணப்பதாரரின் விண்ணப்ப எண். / Candidate's Application No.	TETP2117329	
பிறந்த தேதி / Date of Birth	19-11-2002	
தந்தை / தாய் பெயர் Father / Mother Name	ANNADURAI R	
பாலினம் / Gender	FEMALE	
மாற்றுத்திறனாளி / Differently abled	NO	
சொல்வதை எழுதுபவர் / Scribe	-	
விண்ணப்பித்த மொழி / Language Applied for	Tamil	
விண்ணப்பித்த விருப்பப் பாடம் / Optional Subject for	Mathematics and Science	
விண்ணப்பதாரரின் முகவரி / Address of the Candidate:	7/128, ARUNTHATHIYAR STRRET, VANAKARANPUDUR, THATHAIYANGARPATTI (PO), NAMAkkAL, NAMAkkAL, NAMAkkAL, PIN - 637014	



Teachers Recruitment Board

Perasiriyar Anbazhagan Kalvi Valagam, College Road, Chennai - 600006.

Hall Ticket for OMR Examination (Objective Type)
for the Tamil Nadu Teacher Eligibility Test, Paper - II - 2025
[Notification No. 03/2025 Dated: 11.08.2025]

விண்ணப்பதாரரின் பெயர் / Candidate's Name	NAGAMMAL A	 	
விண்ணப்பதாரரின் தேர்வு எண். / Candidate's Roll No.	25T21103820131		
விண்ணப்பதாரரின் விண்ணப்ப எண். / Candidate's Application No.	TETP2132346		
பிறந்த தேதி / Date of Birth	10-04-1990		
தந்தை / தாய் பெயர் Father / Mother Name	AYYAPPAN PILLAI SS		
பாலினம் / Gender	FEMALE		
மாற்றுத்திறனாளி / Differently abled	NO		
சொல்வதை எழுதுபவர் / Scribe	-		
விண்ணப்பித்த மொழி / Language Applied for	Tamil		
விண்ணப்பித்த விருப்பப் பாடம் / Optional Subject for	Mathematics and Science		
விண்ணப்பதாரரின் முகவரி / Address of the Candidate:	FLAT.NO:148,TNHB COLONY,TAMBARAM SANATORIUM, CHENNAI, CHENGALPATTU, PIN - 600047		
மையக் குறியீட்டுடன் தேர்வு மையம் பெயர், முகவரி மற்றும் மாவட்டம் / Centre code, Name and Address of the Examination Centre with District:	Centre Code: 0382 District: CHENNAI GRT MAHALAKSHMI VIDYALAYA MATRIC HSS,NO-76,7TH AVENU,ASHOK NAGAR,CHENNAI 600083.		
Schedule of Examination			
Date of Exam	Reporting Time	Gate Closing Time	Examination Timings
16.11.2025	8.30 a.m.	9.30 a.m.	10.00 a.m. to 01.00 p.m. - All candidates 10.00 a.m. to 02.00 p.m. - PWD candidates



Teachers Recruitment Board

Perasiriyar Anbazhagan Kalvi Valagam, College Road, Chennai - 600006.

Hall Ticket for OMR Examination (Objective Type)
for the Tamil Nadu Teacher Eligibility Test, Paper - II - 2025
[Notification No. 03/2025 Dated: 11.08.2025]

விண்ணப்பதாரரின் பெயர் / Candidate's Name	RAM PRIYA M
விண்ணப்பதாரரின் தேர்வு எண். / Candidate's Roll No.	25T21203240436
விண்ணப்பதாரரின் விண்ணப்ப எண். / Candidate's Application No.	TETP2196836
பிறந்த தேதி / Date of Birth	04-05-1993
தந்தை / தாய் பெயர் Father / Mother Name	MUTHURAJ G
பாலினம் / Gender	FEMALE
மாற்றுத்திறனாளி / Differently abled	NO
சொல்வதை எழுதுபவர் / Scribe	-
விண்ணப்பித்த மொழி / Language Applied for	Tamil
விண்ணப்பித்த விருப்பப் பாடம் / Optional Subject for	Social Science
விண்ணப்பதாரரின் முகவரி / Address of the Candidate:	1/525, 1ST FLOOR, 1ST BLOCK, MUGAPPAIR WEST, CHENNAI, THIRUVALLUR, PIN - 600037
மையக் குறியீட்டுடன் தேர்வு மையம் பெயர், முகவரி மற்றும் மாவட்டம்: / Centre code, Name and Address of the Examination Centre with District.	Centre Code: 0324 District: CHENNAI CHENNAI GIRLS HIGHER SECONDARY SCHOOL, NO-2A, SCHOOL ROAD, M H ROAD, PERAMBUR, CHENNAI-600 011.



Ram Priya M



Schedule of Examination

Date of Exam	Reporting Time	Gate Closing Time	Examination Timings
16.11.2025	8.30 a.m.	9.30 a.m.	10.00 a.m. to 01.00 p.m. - All candidates 10.00 a.m. to 02.00 p.m. - PWD candidates



Teachers Recruitment Board

Perasiriyar Anbazhagan Kalvi Valagam, College Road, Chennai - 600006.

Hall Ticket for OMR Examination (Objective Type)
for the Tamil Nadu Teacher Eligibility Test, Paper - II - 2025
[Notification No. 03/2025 Dated: 11.08.2025]

விண்ணப்பதாரரின் பெயர் / Candidate's Name	GOWTHAMI S
விண்ணப்பதாரரின் தேர்வு எண். / Candidate's Roll No.	25T21133240072
விண்ணப்பதாரரின் விண்ணப்ப எண். / Candidate's Application No.	TETP2037725
பிறந்த தேதி / Date of Birth	16-05-1990
தந்தை / தாய் பெயர் Father / Mother Name	SOUNDARAJAN P
பாலினம் / Gender	FEMALE
மாற்றுத்திறனாளி / Differently abled	NO
சொல்வதை எழுதுபவர் / Scribe	-
விண்ணப்பித்த மொழி / Language Applied for	Tamil
விண்ணப்பித்த விருப்பப் பாடம் / Optional Subject for	Mathematics and Science
விண்ணப்பதாரரின் முகவரி / Address of the Candidate:	NO 268, NACHARKUPPAM, NACHARKUPPAM POST, TIRUPATHUR, TIRUPATHUR, PIN - 635710
மையக் குறியீட்டுடன் தேர்வு மையம் பெயர், முகவரி மற்றும் மாவட்டம்: / Centre code, Name and Address of the Examination Centre with District:	Centre Code: 3324 District: TIRUPATTUR MARY IMMACULATE GIRLS HR SEC SCHOOL TIRUPATTUR LONDON MISSION ROAD, TIRUPATTUR-635601



S. Gowthami





Teachers Recruitment Board

Perasiriyar Anbazhagan Kalvi Valagam, College Road, Chennai - 600006.

Hall Ticket for OMR Examination (Objective Type)
for the Tamil Nadu Teacher Eligibility Test, Paper - II - 2025
[Notification No. 03/2025 Dated: 11.08.2025]

விண்ணப்பதாரரின் பெயர் / Candidate's Name	PRABHA K
விண்ணப்பதாரரின் தேர்வு எண். / Candidate's Roll No.	25T21102160228
விண்ணப்பதாரரின் விண்ணப்ப எண். / Candidate's Application No.	TETP2077164
பிறந்த தேதி / Date of Birth	24-01-1988
தந்தை / தாய் பெயர் Father / Mother Name	KUMANAN C
பாலினம் / Gender	FEMALE
மாற்றுத்திறனாளி / Differently abled	NO
சொல்வதை எழுதுபவர் / Scribe	-
விண்ணப்பித்த மொழி / Language Applied for	Tamil
விண்ணப்பித்த விருப்பப் பாடம் / Optional Subject for	Mathematics and Science
விண்ணப்பதாரரின் முகவரி / Address of the Candidate:	NO 24. RAMAIYA NAGAR, MEDAVAKKAM, CHENNAI, KANCHEEPURAM, PIN - 600100



U. Prabha



Teachers Recruitment Board

Perasiriyar Anbazhagan Kalvi Valagam, College Road, Chennai - 600006.

Hall Ticket for OMR Examination (Objective Type)
for the Tamil Nadu Teacher Eligibility Test, Paper - II - 2025
[Notification No. 03/2025 Dated: 11.08.2025]

விண்ணப்பதாரரின் பெயர் / Candidate's Name	SHIVASANKARI S
விண்ணப்பதாரரின் தேர்வு எண். / Candidate's Roll No.	25T21138190024
விண்ணப்பதாரரின் விண்ணப்ப எண். / Candidate's Application No.	TETP2045008
பிறந்த தேதி / Date of Birth	18-08-1997
தந்தை / தாய் பெயர் Father / Mother Name	SIVANU M
பாலினம் / Gender	FEMALE
மாற்றுத்திறனாளி / Differently abled	NO
சொல்வதை எழுதுபவர் / Scribe	-
விண்ணப்பித்த மொழி / Language Applied for	Tamil
விண்ணப்பித்த விருப்பப் பாடம் / Optional Subject for	Mathematics and Science
விண்ணப்பதாரரின் முகவரி / Address of the Candidate:	1/884, PALANI ANDAVAR NAGAR, DHARAPURAM ROAD, K.CHETTIPALAYAM, TIRUPPUR, TIRUPPUR, PIN - 641604
மையக் குறியீட்டுடன் தேர்வு மையம் பெயர், முகவரி மற்றும் பகுதி: / Centre code, Name and Address of the Examination Centre with District:	Centre Code: 3819 District: VIRUDHUNAGAR CSI GIRLS HR SEC SCHOOL, CSI CHURCH COMPOUND, MADURAI MAINROAD, ARUPPUKOTTAI-626101



U. Prabha



Schedule of Examination

Date of Exam	Reporting Time	Gate Closing Time	Examination Timings
16.11.2025	8.30 a.m.	9.30 a.m.	10.00 a.m. to 01.00 p.m. - All candidates 10.00 a.m. to 02.00 p.m. - PWD candidates

PLEASE READ THE FOLLOWING IMPORTANT INSTRUCTIONS CAREFULLY

- Candidates should download their Hall Ticket through online only as no separate physical copy of this Hall Ticket will be dispatched.
- Candidates should check their Hall Ticket for the information furnished therein and in case of any discrepancy, it should be immediately reported to the TRB, Chennai for necessary action.
- The candidates appearing for the examination in their own interest, should check their eligibility in all respects to avoid disappointment if any at later stage and their candidature for this examination is "PURELY PROVISIONAL".
- Please note that this Hall Ticket does not constitute any offer of employment.
- NO REQUEST FOR CHANGE OF EXAMINATION CENTRE WILL BE CONSIDERED UNDER ANY CIRCUMSTANCES.
- No candidate will be allowed to enter into the Examination Hall after gate closing time 09:30 a.m. and should not leave the Examination Hall before 01:00 p.m. for all candidates and 02:00 p.m. for PWD candidates.
- The candidate must bring this Hall Ticket to the Examination Centre. No candidate will be allowed entry without this Hall Ticket.
- The candidate is also instructed to bring any one of the following Photo Identification Cards in original viz.
 - Aadhar Card
 - PAN Card



Teachers Recruitment Board

Perasiriyar Anbazhagan Kalvi Valagam, College Road, Chennai - 600006.

Hall Ticket for OMR Examination (Objective Type)
for the Tamil Nadu Teacher Eligibility Test, Paper – II - 2025
[Notification No. 03/2025 Dated: 11.08.2025]

விண்ணப்பதாரரின் பெயர் / Candidate's Name	DEEPA AM	 
விண்ணப்பதாரரின் தேர்வு எண். / Candidate's Roll No.	25T21103070159	
விண்ணப்பதாரரின் விண்ணப்ப எண். / Candidate's Application No.	TETP2331329	
பிறந்த தேதி / Date of Birth	30-04-1990	
தந்தை / தாய் பெயர் Father / Mother Name	MUNUSAMY A	
பாலினம் / Gender	FEMALE	
மாற்றுத்திறனாளி / Differently abled	NO	
சொல்வதை எழுதுபவர் / Scribe	-	
விண்ணப்பித்த மொழி / Language Applied for	Tamil	
விண்ணப்பித்த விருப்பப் பாடம் / Optional Subject for	Mathematics and Science	
விண்ணப்பதாரரின் முகவரி / Address of the Candidate:	NO 67 A THULUKKANATHAMMAN KOVIL STREET BHARATHI NAGAR ZAMIN PALLAVARAM, CHENNAI, KANCHEEPURAM CHENGALPET, PIN - 600043	
மையக் குறியீட்டுடன் தேர்வு மையம் பெயர், முகவரி மற்றும் மாவட்டம்: / Centre code, Name and Address of the Examination Centre with District:	Centre Code: 0307 District: CHENNAI PERUNTHALAIVAR KAMARAJAR GOVERNMENT GIRLS HIGHER SECONDARY SCHOOL,NORTH PARK STREET, VENKATAPURAM .AMBATTUR,CHENNAI-600 053.	

Schedule of Examination



Date of Exam	Reporting Time	Gate Closing Time	Examination Timings
16.11.2025	8.30 a.m.	9.30 a.m.	10.00 a.m. to 01.00 p.m. – All candidates 10.00 a.m. to 02.00 p.m. – PWD candidates



Teachers Recruitment Board

Perasiriyar Anbazhagan Kalvi Valagam, College Road, Chennai - 600006.

Hall Ticket for OMR Examination (Objective Type)
for the Tamil Nadu Teacher Eligibility Test, Paper – II - 2025
[Notification No. 03/2025 Dated: 11.08.2025]

விண்ணப்பதாரரின் பெயர் / Candidate's Name	NIRUBA MAYIL V	 
விண்ணப்பதாரரின் தேர்வு எண். / Candidate's Roll No.	25T21230060158	
விண்ணப்பதாரரின் விண்ணப்ப எண். / Candidate's Application No.	TETP2052064	
பிறந்த தேதி / Date of Birth	12-06-1981	
தந்தை / தாய் பெயர் Father / Mother Name	VEERAPERUMAL R	
பாலினம் / Gender	FEMALE	
மாற்றுத்திறனாளி / Differently abled	NO	
சொல்வதை எழுதுபவர் / Scribe	-	
விண்ணப்பித்த மொழி / Language Applied for	Tamil	
விண்ணப்பித்த விருப்பப் பாடம் / Optional Subject for	Social Science	
விண்ணப்பதாரரின் முகவரி / Address of the Candidate:	5/90 MIDDLE STREET SRI MOOLAKARAI SRIVAUKUNDAM TALUK, THOOTHUKUDI, THOOTHUKUDI, PIN - 628620	



Hall Ticket for OMR Examination (Objective Type)

for the Tamil Nadu Teacher Eligibility Test, Paper - II - 2025

[Notification No. 03/2025 Dated: 11.08.2025]

விண்ணப்பதாரரின் பெயர் / Candidate's Name	SANGEETHA R
விண்ணப்பதாரரின் தேர்வு எண். / Candidate's Roll No.	25T21127200028
விண்ணப்பதாரரின் விண்ணப்ப எண். / Candidate's Application No.	TETP2051771
பிறந்த தேதி / Date of Birth	01-07-1982
தாய் பெயர் / Mother Name	RAJA B
பாலினம் / Gender	FEMALE
மாற்றுத்திறனாளி / Differently abled	NO
சொல்வதை எழுதுபவர் / Scribe	-
விண்ணப்பித்த மொழி / Language Applied for	Tamil
விண்ணப்பித்த விருப்பப் பாடம் / Optional Subject for	Social Science
விண்ணப்பதாரரின் முகவரி / Address of the Candidate:	24/1 KANCHIPURAM HIGH ROAD , NO 65 PALUR VILLAGE AND POST, PALUR, CHENGALPATTU, PIN - 603101
மையக் குறியீட்டுடன் தேர்வு மையம் பெயர், முகவரி மற்றும் மாவட்டம்: / Centre code, Name and Address of the Examination Centre with District:	Centre Code: 0207 District: CHENGALPATTU GOVT GIRLS HR SEC SCHOOL, ORAGADAM SALAI(OPPOSITE TO TALUK OFFICE) THIRUKALUKUNDRAM, CHENGALPATTU DIST -603109



Teachers Recruitment Board

Perasiriyar Anbazhagan Kalvi Valagam, College Road, Chennai - 600006.

Hall Ticket for OMR Examination (Objective Type)

for the Tamil Nadu Teacher Eligibility Test, Paper - II - 2025

[Notification No. 03/2025 Dated: 11.08.2025]

விண்ணப்பதாரரின் பெயர் / Candidate's Name	LAKSHMI R
விண்ணப்பதாரரின் தேர்வு எண். / Candidate's Roll No.	25T21202070216
விண்ணப்பதாரரின் விண்ணப்ப எண். / Candidate's Application No.	TETP2145208
பிறந்த தேதி / Date of Birth	18-05-1985
தந்தை / தாய் பெயர் / Father / Mother Name	RASPAL P
பாலினம் / Gender	FEMALE
மாற்றுத்திறனாளி / Differently abled	NO
சொல்வதை எழுதுபவர் / Scribe	-
விண்ணப்பித்த மொழி / Language Applied for	Tamil
விண்ணப்பித்த விருப்பப் பாடம் / Optional Subject for	Social Science
விண்ணப்பதாரரின் முகவரி / Address of the Candidate:	24/1 KANCHIPURAM HIGH ROAD , NO 65 PALUR VILLAGE AND POST, PALUR, CHENGALPATTU, PIN - 603101
மையக் குறியீட்டுடன் தேர்வு மையம் பெயர், முகவரி மற்றும் மாவட்டம்: / Centre code, Name and Address of the Examination Centre with District:	Centre Code: 0207 District: CHENGALPATTU GOVT GIRLS HR SEC SCHOOL, ORAGADAM SALAI(OPPOSITE TO TALUK OFFICE) THIRUKALUKUNDRAM, CHENGALPATTU DIST -603109



L. Lakshmi





Teachers Recruitment Board

Perasiriyar Anbazhagan Kalvi Valagam, College Road, Chennai - 600006.

Hall Ticket for OMR Examination (Objective Type)
for the Tamil Nadu Teacher Eligibility Test, Paper - II - 2025
[Notification No. 03/2025 Dated: 11.08.2025]

விண்ணப்பதாரரின் பெயர் / Candidate's Name	DEEPA AM	 
விண்ணப்பதாரரின் தேர்வு எண். / Candidate's Roll No.	25T21103070159	
விண்ணப்பதாரரின் விண்ணப்ப எண். / Candidate's Application No.	TETP2331329	
பிறந்த தேதி / Date of Birth	30-04-1990	
தந்தை / தாய் பெயர் Father / Mother Name	MUNUSAMY A	
பாலினம் / Gender	FEMALE	
மாற்றுத்திறனாளி / Differently abled	NO	
சொல்வதை எழுதுபவர் / Scribe	-	
விண்ணப்பித்த மொழி / Language Applied for	Tamil	
விண்ணப்பித்த விருப்பப் பாடம் / Optional Subject for	Mathematics and Science	
விண்ணப்பதாரரின் முகவரி / Address of the Candidate:	NO 67 A THULUKKANATHAMMAN KOVIL STREET BHARATHI NAGAR ZAMIN PALLAVARAM, CHENNAI, KANCHEEPURAM CHENGALPET, PIN - 600043	
மையக் குறியீட்டுடன் தேர்வு மையம் பெயர், முகவரி மற்றும் மாவட்டம்: / Centre code, Name and Address of the Examination Centre with District:	Centre Code: 0307 District: CHENNAI PERUNTHALAIVAR KAMARAJAR GOVERNMENT GIRLS HIGHER SECONDARY SCHOOL,NORTH PARK STREET, VENKATAPURAM .AMBATTUR,CHENNAI-600 053.	

Schedule of Examination



Date of Exam	Reporting Time	Gate Closing Time	Examination Timings
16.11.2025	8.30 a.m.	9.30 a.m.	10.00 a.m. to 01.00 p.m. - All candidates 10.00 a.m. to 02.00 p.m. - PWD candidates



Teachers Recruitment Board

Perasiriyar Anbazhagan Kalvi Valagam, College Road, Chennai - 600006.

Hall Ticket for OMR Examination (Objective Type)
for the Tamil Nadu Teacher Eligibility Test, Paper - II - 2025
[Notification No. 03/2025 Dated: 11.08.2025]

விண்ணப்பதாரரின் பெயர் / Candidate's Name	NIRUBA MAYIL V	 
விண்ணப்பதாரரின் தேர்வு எண். / Candidate's Roll No.	25T21230060158	
விண்ணப்பதாரரின் விண்ணப்ப எண். / Candidate's Application No.	TETP2052064	
பிறந்த தேதி / Date of Birth	12-06-1981	
தந்தை / தாய் பெயர் Father / Mother Name	VEERAPERUMAL R	
பாலினம் / Gender	FEMALE	
மாற்றுத்திறனாளி / Differently abled	NO	
சொல்வதை எழுதுபவர் / Scribe	-	
விண்ணப்பித்த மொழி / Language Applied for	Tamil	
விண்ணப்பித்த விருப்பப் பாடம் / Optional Subject for	Social Science	
விண்ணப்பதாரரின் முகவரி / Address of the Candidate:	5/90 MIDDLE STREET SRI MOOLAKARAI SRIVAUKUNDAM TALUK, THOOTHUKUDI, THOOTHUKUDI, PIN - 628620	

A மற்றும் B என்பவர்களின் ஊதியங்களின் கூட்டுத்தொகையானது C மற்றும் D என்பவர்களின் ஊதியங்களின் கூட்டுத்தொகையை விட அதிகம். A மற்றும் C என்பவர்களின் ஊதியங்களின் கூட்டுத்தொகை B மற்றும் D என்பவர்களின் ஊதியங்களின் கூட்டுத்தொகைக்குச் சமம். A என்பவர் B மற்றும் D என்பவர்களின் ஊதியங்களின் கூட்டுதலில் பாதியைப் பெறுகிறார். அதிக ஊதியம் பெறுபவர் யார்?

Sum of the incomes of A and B is greater than the sum of the incomes of C and D. Sum of the incomes of A and C equals the sum of the incomes of B and D. A gets half the sum of incomes of B and D. Who gets the highest income?

A மற்றும் B என்பவர்களின் ஊதியங்களின் கூட்டுத்தொகையானது C மற்றும் D என்பவர்களின் ஊதியங்களின் கூட்டுத்தொகையை விட அதிகம். A மற்றும் C என்பவர்களின் ஊதியங்களின் கூட்டுத்தொகை B மற்றும் D என்பவர்களின் ஊதியங்களின் கூட்டுத்தொகைக்குச் சமம். A என்பவர் B மற்றும் D என்பவர்களின் ஊதியங்களின் கூட்டுதலில் பாதியைப் பெறுகிறார். அதிக ஊதியம் பெறுபவர் யார்?

Sum of the incomes of A and B is greater than the sum of the incomes of C and D. Sum of the incomes of A and C equals the sum of the incomes of B and D. A gets half the sum of incomes of B and D. Who gets the highest income?

- (A) A (B) B
- (C) C (D) D

ஒரு சதுரத்தின் உள்வட்டம் மற்றும் வெளிவட்டம் ஆகியவற்றின் பரப்பளவுகளின் விகிதத்தைக் காண்க.

Find the ratio of the areas of the incircle and circumcircle of a square.



ஒரு சதுரத்தின் உள்வட்டம் மற்றும் வெளிவட்டம் ஆகியவற்றின் பரப்பளவுகளின் விகிதத்தைக் காண்க.

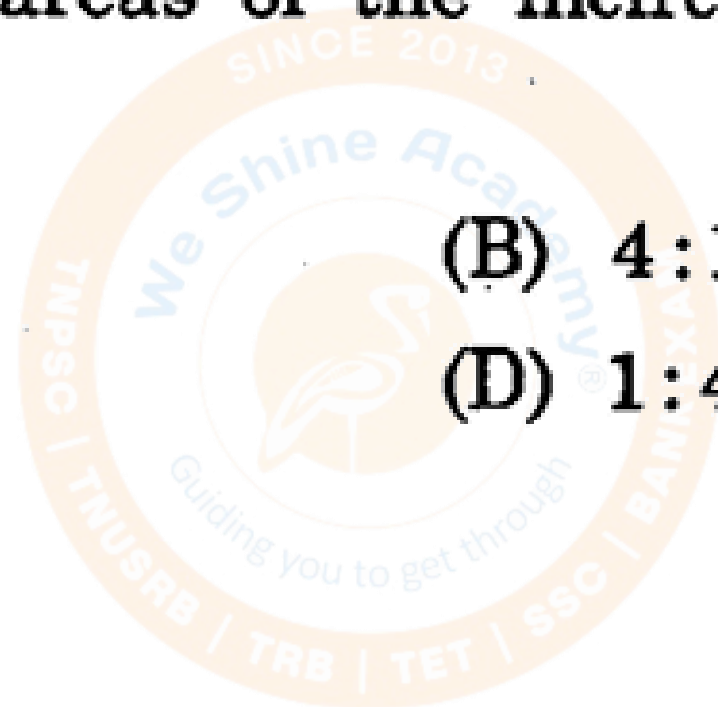
Find the ratio of the areas of the incircle and circumcircle of a square.

(A) 2:1

~~(C)~~ 1:2

(B) 4:1

(D) 1:4



இரண்டு சதுரங்களின் சுற்றளவுகள் முறையே 40 செ.மீ மற்றும் 32 செ.மீ. இரண்டு சதுரங்களின் பரப்பளவுகளின் வித்தியாசத்திற்கு சமமான பரப்பளவு கொண்ட மூன்றாவது சதுரத்தின் சுற்றளவைக் காண்க.

The perimeter of two squares are 40 cm and 32 cm. Find the perimeter of a third square whose area is equal to the difference of the areas of the two squares.

இரண்டு சதுரங்களின் சுற்றளவுகள் முறையே 40 செ.மீ மற்றும் 32 செ.மீ. இரண்டு சதுரங்களின் பரப்பளவுகளின் வித்தியாசத்திற்கு சமமான பரப்பளவு கொண்ட மூன்றாவது சதுரத்தின் சுற்றளவைக் காண்க.

The perimeter of two squares are 40 cm and 32 cm. Find the perimeter of a third square whose area is equal to the difference of the areas of the two squares.

- (A) 12 cm
- ~~(B) 24 cm~~
- (C) 36 cm
- (D) 48 cm

ஒரு குடும்பத்தில் ஒரு குடும்பத் தலைவர் அவருடைய மனைவி, இரு மகன்கள் மற்றும் அவர்களுடைய மனைவிகள் உள்ளனர். ஒவ்வொரு மகனுக்கும் இரு மகள்கள் உள்ளனர் எனில் அக்குடும்பத்தில் உள்ள பெண்கள் எத்தனை பேர்?

A family has a man and his wife, their two sons and their wives the family of every son also has two daughters. Then how many female members are there in the family?

ஒரு குடும்பத்தில் ஒரு குடும்பத் தலைவர் அவருடைய மனைவி, இரு மகன்கள் மற்றும் அவர்களுடைய மனைவிகள் உள்ளனர். ஒவ்வொரு மகனுக்கும் இரு மகள்கள் உள்ளனர் எனில் அக்குடும்பத்தில் உள்ள பெண்கள் எத்தனை பேர்?

A family has a man and his wife, their two sons and their wives the family of every son also has two daughters. Then how many female members are there in the family?

- ~~(A)~~ 7
(C) 5

- (B) 6
(D) 4

$x^2 + 4y^2 = 4xy$ எனில் $x : y$ என்பது

If $x^2 + 4y^2 = 4xy$, then $x : y$ is



$x^2 + 4y^2 = 4xy$ எனில் $x : y$ என்பது

If $x^2 + 4y^2 = 4xy$, then $x : y$ is

(A) 1 : 2

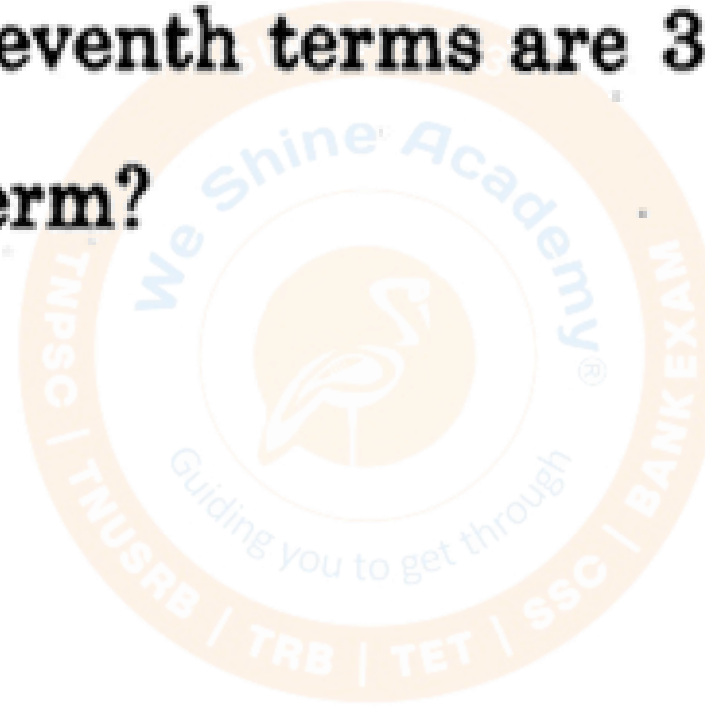
~~(B) 2 : 1~~

(C) 1 : 4

(D) 4 : 1

ஒரு கூட்டுத்தொடரில் நான்காவது மற்றும் ஏழாவது உறுப்புகள் முறையே $3a + 2d$ மற்றும் $4a + 4d$ எனில் பத்தொன்பதாவது உறுப்பு என்ன?

If in a A.P fourth and seventh terms are $3a + 2d$ and $4a + 4d$, then what is the nineteenth term?



ஒரு கூட்டுத்தொடரில் நான்காவது மற்றும் ஏழாவது உறுப்புகள் முறையே $3a + 2d$ மற்றும் $4a + 4d$ எனில் பத்தொன்பதாவது உறுப்பு என்ன?

If in a A.P fourth and seventh terms are $3a + 2d$ and $4a + 4d$, then what is the nineteenth term?

~~(A)~~ $8a + 12d$

(B) $7a + 12d$

(C) $8a + 13d$

(D) $7a + 13d$

ஒரு பகடை உருட்டப்படும் போது, 6ஐ விடப் பெரிய எண் கிடைப்பதற்கான நிகழ்தகவு என்ன?

When a die is rolled, find the probability to get the number which is greater than 6?



ஒரு பகடை உருட்டப்படும் போது, 6ஐ விடப் பெரிய எண் கிடைப்பதற்கான நிகழ்தகவு என்ன?

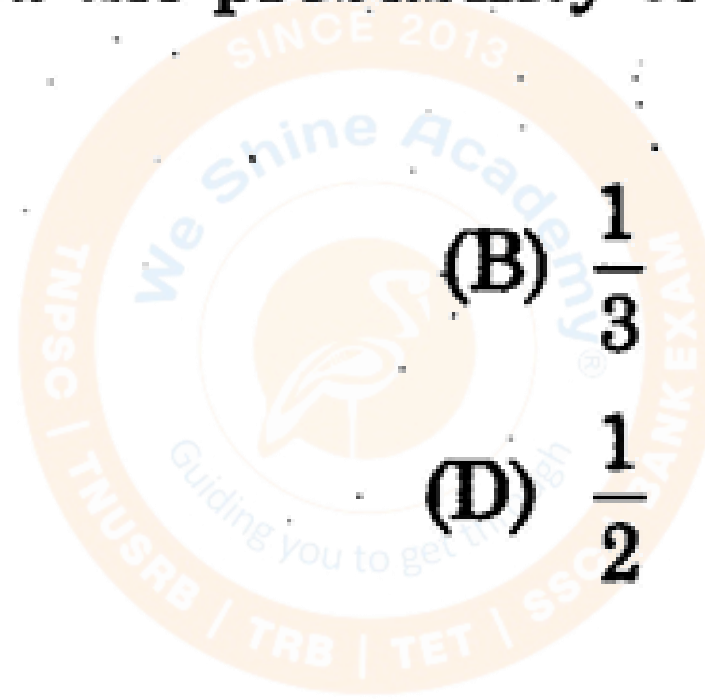
When a die is rolled, find the probability to get the number which is greater than 6?

(A) 1

~~(C)~~ 0

(B) $\frac{1}{3}$

(D) $\frac{1}{2}$



A என்பவர் B என்பவரைக் காட்டிலும் 2 மடங்கு வேகமாக வேலை செய்பவர். மேலும் A என்பவர் C என்பவரைக் காட்டிலும் 3 மடங்கு வேகமாக வேலை செய்பவர். ஒரு வேலையை A, B இருவரும் சேர்ந்து பத்து நாட்களில் முடிப்பர் எனில் அதே வேலையை C மட்டும் எத்தனை நாட்களில் முடிப்பார்?

A is twice as fast as B and A is thrice as fast as C. If A and B together can do a work in 10 days. Then find the number of days C alone will take to complete that work?

A என்பவர் B என்பவரைக் காட்டிலும் 2 மடங்கு வேகமாக வேலை செய்பவர். மேலும் A என்பவர் C என்பவரைக் காட்டிலும் 3 மடங்கு வேகமாக வேலை செய்பவர். ஒரு வேலையை A, B இருவரும் சேர்ந்து பத்து நாட்களில் முடிப்பர் எனில் அதே வேலையை C மட்டும் எத்தனை நாட்களில் முடிப்பார்?

A is twice as fast as B and A is thrice as fast as C. If A and B together can do a work in 10 days. Then find the number of days C alone will take to complete that work?

(A) 20

(B) 30

(C) 60

~~(D)~~ 45

கீழே கொடுக்கப்பட்ட விவரங்களுக்கு கூட்டு வட்டியைக் காண்க

அசல் = ரூ. 12,000, ஆண்டு வட்டி வீதம் $r = 8\%$ $n = 2\frac{1}{4}$ ஆண்டுகள், ஆண்டுக்கு

ஒரு முறை வட்டி கணக்கிடப்படுகிறது

Find compound interest for the following data $P = \text{Rs. } 12,000$

$r = 8\%$ p.a. $n = 2\frac{1}{4}$ years, interest compounded yearly

கீழே கொடுக்கப்பட்ட விவரங்களுக்கு கூட்டு வட்டியைக் காண்க

அசல் = ரூ. 12,000, ஆண்டு வட்டி வீதம் $r = 8\%$ $n = 2\frac{1}{4}$ ஆண்டுகள், ஆண்டுக்கு

ஒரு முறை வட்டி கணக்கிடப்படுகிறது

Find compound interest for the following data $P = \text{Rs. } 12,000$

$r = 8\%$ p.a. $n = 2\frac{1}{4}$ years, interest compounded yearly

(A) Rs. 2261.74

(B) Rs. 2266.74

(C) Rs. 2271.74

~~(D) Rs. 2276.74~~

ஆண்டொன்றிற்கு 20% தனி வட்டி வீதத்தில் எத்தனை ஆண்டுகளில் தொகை இருமடங்கு ஆகும்?

In how many years will a sum of money double itself at 20% per annum simple interest



ஆண்டொன்றிற்கு 20% தனி வட்டி வீதத்தில் எத்தனை ஆண்டுகளில் தொகை இருமடங்கு ஆகும்?

In how many years will a sum of money double itself at 20% per annum simple interest

- (A) 5 years 3 months
- (B) 5 years
- (C) 5 years 6 months
- (D) 5 years 9 months



Thank You