






TNPSC COMBINED

**SINGLE FEE
MULTIPLE EXAMS**

₹19,999

**ADMISSION OPEN
JOIN NOW**

 **DIRECT CLASS**
 **ONLINE CLASS**
Available

-  **Time Tracker**
-  **Audio Study Materials**
-  **Easy EMI**
-  **Speed Maths**
-  **Book Set Materials - 17**

+91 8939 144 344 | +91 8939 244 344



SINCE 2013
We Shine Academy
guiding you to get through

TNPSC | TNUSRB | RRB | SSC | BANK EXAM

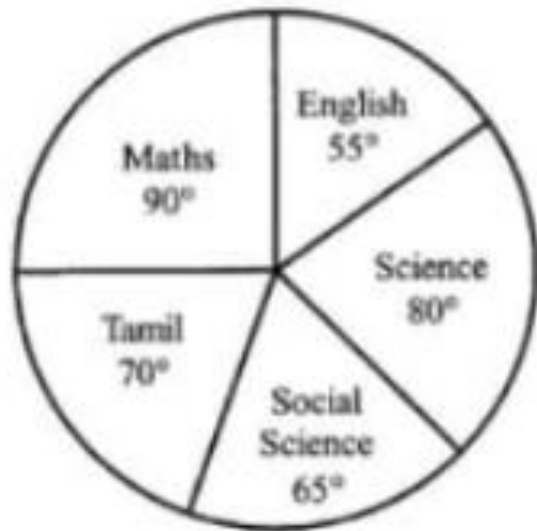
Psychology







118.



If the full marks of the examination is 540, what is the percentage marks in Mathematics of the full marks ?

- (A) 20%
- (B) 30%
- (C) 35%
- (D) 25%



If the full marks of the examination is 540, what is the percentage marks in Mathematics of the full marks ?

- (A) 20%
- (B) 30%
- (C) 35%
- (D) 25%



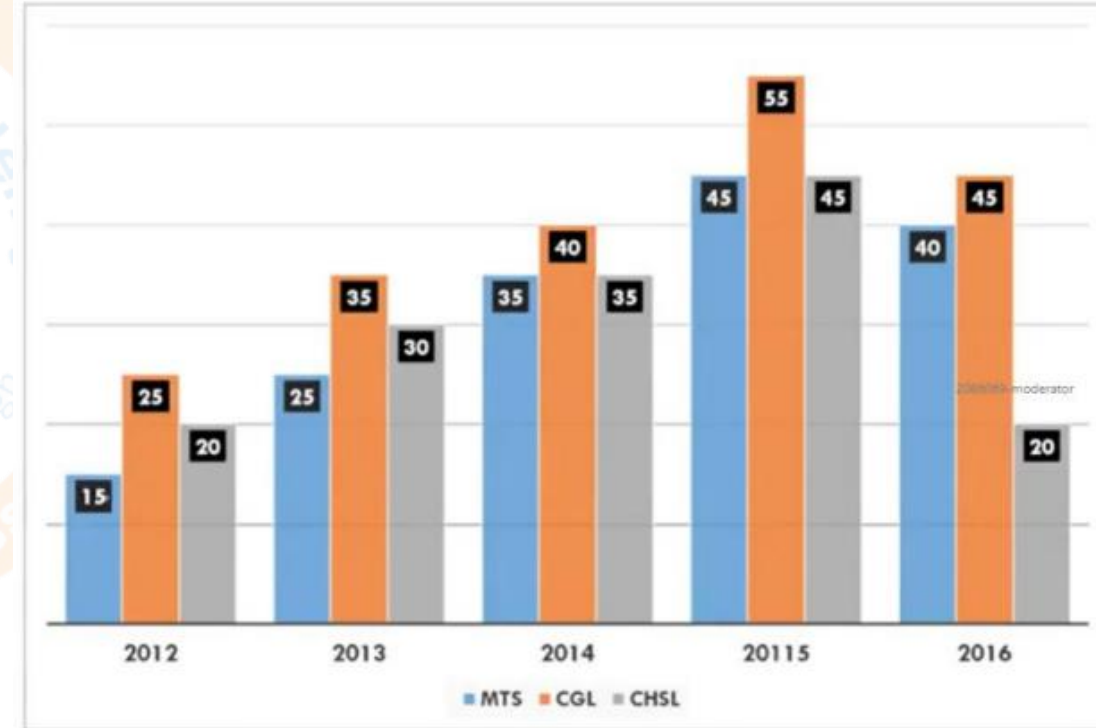
Bar-chart given below shows students registered for three different exams in five different years. Study the data carefully and answer the following questions

கீழே கொடுக்கப்பட்டுள்ள பார்-சார்ட், ஐந்து வெவ்வேறு ஆண்டுகளில் மூன்று வெவ்வேறு தேர்வுகளுக்குப் பதிவுசெய்த மாணவர்களைக் காட்டுகிறது. தரவை கவனமாகப் படித்து பின்வரும் கேள்விகளுக்கு பதிலளிக்கவும்.

1. Total number of students registered for CGL in all the five years is what percent more than total number of students registered for CHSL in all the five years together?

ஐந்து ஆண்டுகளிலும் CGL-ல் பதிவுசெய்த மொத்த மாணவர்களின் எண்ணிக்கை, ஐந்து ஆண்டுகளிலும் CHSL-ல் பதிவுசெய்த மொத்த மாணவர்களின் எண்ணிக்கையை விட எத்தனை சதவீதம் அதிகம்?

A) 25% B) $33\frac{1}{3}\%$ C) $66\frac{2}{3}\%$ D) 50% E) $37\frac{1}{2}\%$



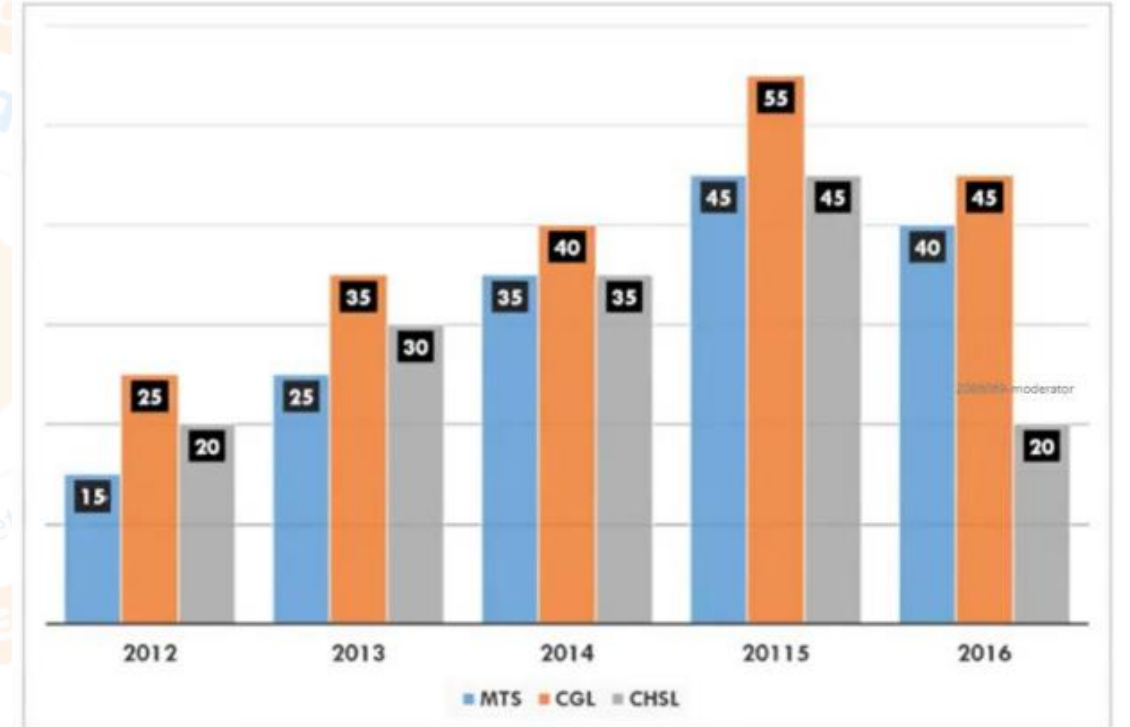
Bar-chart given below shows students registered for three different exams in five different years. Study the data carefully and answer the following questions

கீழே கொடுக்கப்பட்டுள்ள பார்-சார்ட், ஐந்து வெவ்வேறு ஆண்டுகளில் மூன்று வெவ்வேறு தேர்வுகளுக்குப் பதிவுசெய்த மாணவர்களைக் காட்டுகிறது. தரவை கவனமாகப் படித்து பின்வரும் கேள்விகளுக்கு பதிலளிக்கவும்.

2. Find the ratio of total students registered for all the three exams in 2012 and 2013 together to total students registered for all the three exams in 2014 and 2015 together?

2012 மற்றும் 2013 ஆம் ஆண்டுகளில் மூன்று தேர்வுகளுக்கும் பதிவுசெய்த மொத்த மாணவர்களின் விகிதத்தை 2014 மற்றும் 2015 ஆம் ஆண்டுகளில் மூன்று தேர்வுகளுக்கும் பதிவுசெய்த மொத்த மாணவர்களின் விகிதத்தைக் காண்டியவும்?

A) 9:1 B) 2:3 C) 3:5 D) 5:8 E) 10:1



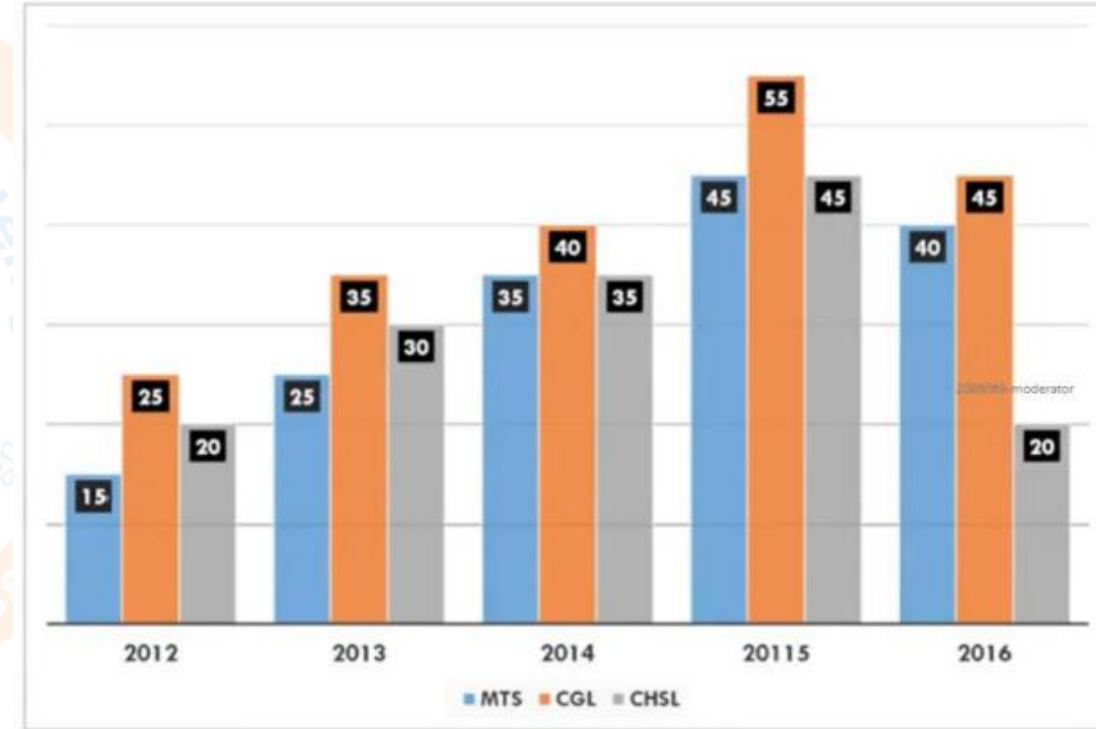
Bar-chart given below shows students registered for three different exams in five different years. Study the data carefully and answer the following questions

கீழே கொடுக்கப்பட்டுள்ள பார்-சார்ட், ஐந்து வெவ்வேறு ஆண்டுகளில் மூன்று வெவ்வேறு தேர்வுகளுக்குப் பதிவுசெய்த மாணவர்களைக் காட்டுகிறது. தரவை கவனமாகப் படித்து பின்வரும் கேள்விகளுக்கு பதிலளிக்கவும்.

3. Average number of students registered for MTS exam in all the five years together is how much less/more than average number of students registered for CHSL exam in all the five years together?

ஐந்து ஆண்டுகளிலும் MTS தேர்வுக்கு பதிவுசெய்த மாணவர்களின் சராசரி எண்ணிக்கை, ஐந்து ஆண்டுகளிலும் CHSL தேர்வுக்கு பதிவுசெய்த மாணவர்களின் சராசரி எண்ணிக்கையை விட எவ்வளவு குறைவு/அதிகம்?

- A) 4 B) 0 C) 2
D) 6 E) 8



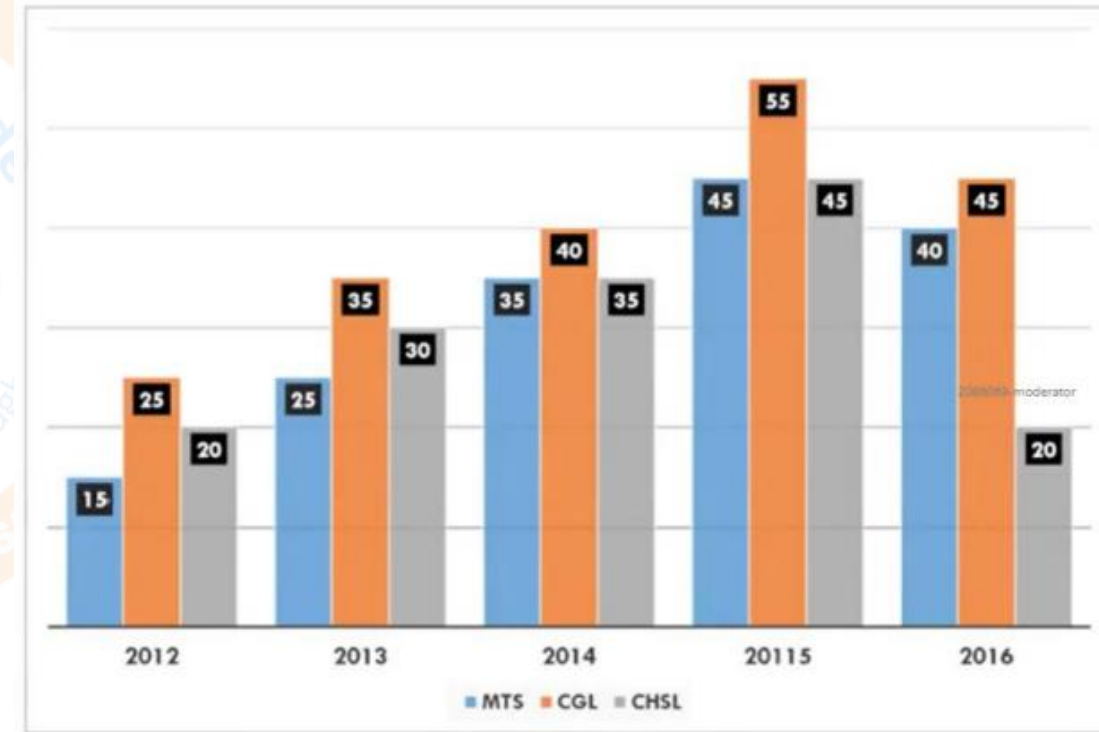
Bar-chart given below shows students registered for three different exams in five different years. Study the data carefully and answer the following questions

கீழே கொடுக்கப்பட்டுள்ள பார்-சார்ட், ஐந்து வெவ்வேறு ஆண்டுகளில் மூன்று வெவ்வேறு தேர்வுகளுக்குப் பதிவுசெய்த மாணவர்களைக் காட்டுகிறது. தரவை கவனமாகப் படித்து பின்வரும் கேள்விகளுக்கு பதிலளிக்கவும்.

4. In 2013, out of total students registered for all the three exams, 80% appeared out of which only 25% qualified the exams. Find the number of students appeared in exam but disqualified. (in Lakh)

2013 ஆம் ஆண்டில், மூன்று தேர்வுகளுக்கும் பதிவு செய்த மொத்த மாணவர்களில், 80% பேர் தேர்வு எழுதினர், அதில் 25% பேர் மட்டுமே தேர்வுகளில் தேர்ச்சி பெற்றனர். தேர்வில் பங்கேற்று ஆனால் தகுதி நீக்கம் செய்யப்பட்ட மாணவர்களின் எண்ணிக்கையை காண்டியவும். (லட்சத்தில்)

A) 18 B) 36 C) 72 D) 54 E) 63



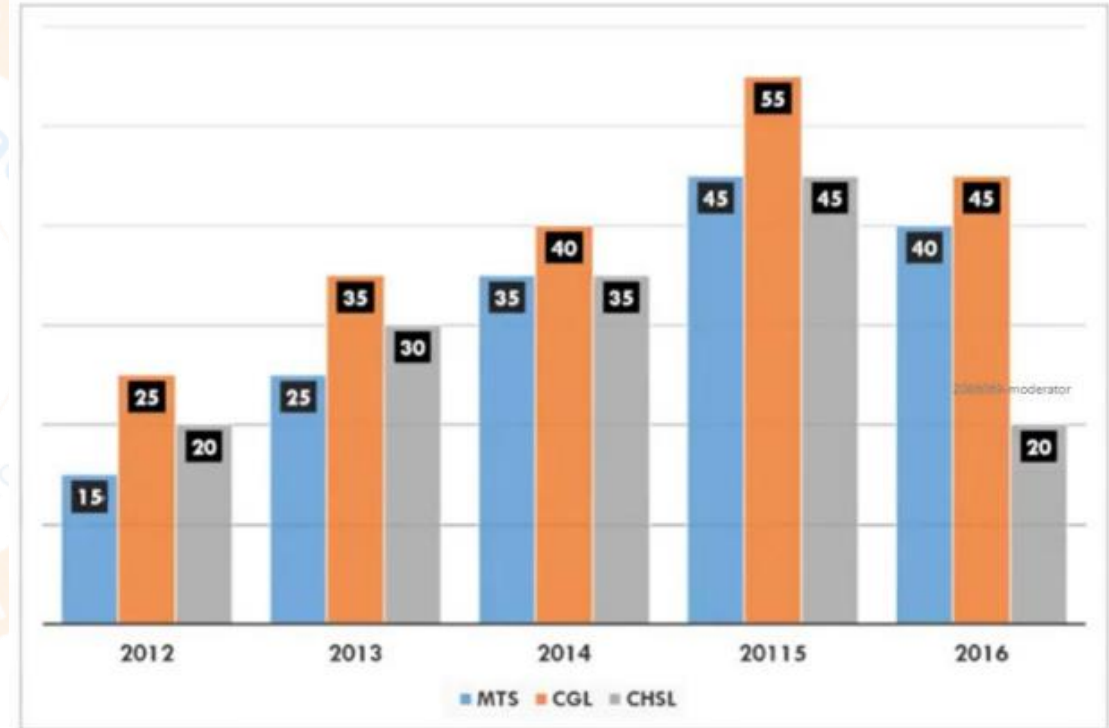
Bar-chart given below shows students registered for three different exams in five different years. Study the data carefully and answer the following questions

கீழே கொடுக்கப்பட்டுள்ள பார்-சார்ட், ஐந்து வெவ்வேறு ஆண்டுகளில் மூன்று வெவ்வேறு தேர்வுகளுக்குப் பதிவுசெய்த மாணவர்களைக் காட்டுகிறது. தரவை கவனமாகப் படித்து பின்வரும் கேள்விகளுக்கு பதிலளிக்கவும்.

5. Out of total students registered for all the exams in 2016, 80% appeared for exam. Students appeared in MTS, CGL and CHSL are in the ratio 2:3:1. Find how much percent of students appeared for exam MTS out of students registered for MTS exam in that year?

2016 ஆம் ஆண்டில் அனைத்து தேர்வுகளுக்கும் பதிவு செய்த மொத்த மாணவர்களில், 80% பேர் தேர்வு எழுதினர். MTS, CGL மற்றும் CHSL தேர்வு எழுதியவர்களின் விகிதம் 2:3:1 என்ற விகிதத்தில் உள்ளனர். அந்த ஆண்டில் MTS தேர்வுக்கு பதிவுசெய்த மாணவர்களில் எத்தனை சதவீதம் மாணவர்கள் MTS தேர்வு எழுதினர் என்பதை காண்டியவும்?

- A) 90% B) 80% C) 60%
D) 70% E) 20%



Study the following table carefully and answer the given questions: The number of various crimes, as supplied by national crime record, reported in different states in the year (2020)

பின்வரும் அட்டவணையை கவனமாகப் படித்து, கொடுக்கப்பட்டுள்ள கேள்விகளுக்கு பதிலளிக்கவும்: தேசிய குற்றப் பதிவேட்டில் வழங்கப்பட்ட பல்வேறு குற்றங்களின் எண்ணிக்கை, 2020 ஆம் ஆண்டில் வெவ்வேறு மாநிலங்களில் பதிவாகியுள்ளது.

States	Murder	Theft	Assault	Stakling
HP	1300	6000	2400	1000
Bihar	1298	2000	4500	2100
Delhi	1202	3000	3200	1500
Haryana	1200	2900	2200	4100
Rajasthan	1000	3500	2330	2000
Punjab	2600	6900	3290	3000

The Total number of various crimes in HP is

HP-யில் பல்வேறு குற்றங்களின் மொத்த எண்ணிக்கை

A) 10700

B) 11200

C) 12000

D) 14300

E) None of these

Study the following table carefully and answer the given questions: The number of various crimes, as supplied by national crime record, reported in different states in the year (2020)

பின்வரும் அட்டவணையை கவனமாகப் படித்து, கொடுக்கப்பட்டுள்ள கேள்விகளுக்கு பதிலளிக்கவும்: தேசிய குற்றப் பதிவேட்டில் வழங்கப்பட்ட பல்வேறு குற்றங்களின் எண்ணிக்கை, 2020 ஆம் ஆண்டில் வெவ்வேறு மாநிலங்களில் பதிவாகியுள்ளது.

States	Murder	Theft	Assault	Stakling
HP	1300	6000	2400	1000
Bihar	1298	2000	4500	2100
Delhi	1202	3000	3200	1500
Haryana	1200	2900	2200	4100
Rajasthan	1000	3500	2330	2000
Punjab	2600	6900	3290	3000

Find the ratio of Murder in Bihar and Delhi together to Theft in HP and Delhi together.

பீகார் மற்றும் டெல்லியில் கொலை மற்றும் HP மற்றும் டெல்லியில் திருட்டு பற்றிய வானொலியைக் கண்டறியவும்.

- A) 18:5 B) 1:5 C) 8:5 D) 5:18 E) None of these

Study the following table carefully and answer the given questions: The number of various crimes, as supplied by national crime record, reported in different states in the year (2020)

பின்வரும் அட்டவணையை கவனமாகப் படித்து, கொடுக்கப்பட்டுள்ள கேள்விகளுக்கு பதிலளிக்கவும்: தேசிய குற்றப் பதிவேட்டில் வழங்கப்பட்ட பல்வேறு குற்றங்களின் எண்ணிக்கை, 2020 ஆம் ஆண்டில் வெவ்வேறு மாநிலங்களில் பதிவாகியுள்ளது.

States	Murder	Theft	Assault	Stakling
HP	1300	6000	2400	1000
Bihar	1298	2000	4500	2100
Delhi	1202	3000	3200	1500
Haryana	1200	2900	2200	4100
Rajasthan	1000	3500	2330	2000
Punjab	2600	6900	3290	3000

Find the Approximately what percentage of the total number of crimes in Rajasthan is the total number of crimes in Haryana?

ராஜஸ்தானில் மொத்த குற்றங்களில் ஹரியானாவில் மொத்த குற்றங்களின் எண்ணிக்கை தோராயமாக எத்தனை சதவீதம்?

- A) 100% B) 130% C) 120% D) 140% E) 155%

Study the following table carefully and answer the given questions: The number of various crimes, as supplied by national crime record, reported in different states in the year (2020)

பின்வரும் அட்டவணையை கவனமாகப் படித்து, கொடுக்கப்பட்டுள்ள கேள்விகளுக்கு பதிலளிக்கவும்: தேசிய குற்றப் பதிவேட்டில் வழங்கப்பட்ட பல்வேறு குற்றங்களின் எண்ணிக்கை, 2020 ஆம் ஆண்டில் வெவ்வேறு மாநிலங்களில் பதிவாகியுள்ளது.

States	Murder	Theft	Assault	Stakling
HP	1300	6000	2400	1000
Bihar	1298	2000	4500	2100
Delhi	1202	3000	3200	1500
Haryana	1200	2900	2200	4100
Rajasthan	1000	3500	2330	2000
Punjab	2600	6900	3290	3000

Find the average number of Theft in all the states.

அனைத்து மாநிலங்களிலும் சராசரி திருட்டு எண்ணிக்கையைக் கண்டறியவும்.

- A) 4000 B) 3000 C) 4050 D) 4300 E) None of these

Study the following table carefully and answer the given questions: The number of various crimes, as supplied by national crime record, reported in different states in the year (2020)

பின்வரும் அட்டவணையை கவனமாகப் படித்து, கொடுக்கப்பட்டுள்ள கேள்விகளுக்கு பதிலளிக்கவும்: தேசிய குற்றப் பதிவேட்டில் வழங்கப்பட்ட பல்வேறு குற்றங்களின் எண்ணிக்கை, 2020 ஆம் ஆண்டில் வெவ்வேறு மாநிலங்களில் பதிவாகியுள்ளது.

States	Murder	Theft	Assault	Stakling
HP	1300	6000	2400	1000
Bihar	1298	2000	4500	2100
Delhi	1202	3000	3200	1500
Haryana	1200	2900	2200	4100
Rajasthan	1000	3500	2330	2000
Punjab	2600	6900	3290	3000

Find the Difference between the number of various crimes committed in Haryana that in Rajasthan?

ராஜஸ்தானில் நடந்த பல்வேறு குற்றங்களின் எண்ணிக்கைக்கும் ஹரியானாவில் நடந்த பல்வேறு குற்றங்களின் எண்ணிக்கைக்கும் உள்ள வேறுபாட்டைக் கண்டறியவும்?

- A) 1480 B) 1570 C) 1200 D) 1380 E) None of these

Table given below shows the number of male and female participated in an event from five different schools (A, B, C, D & E). Study the table carefully and answer the following questions.

கீழே கொடுக்கப்பட்டுள்ள அட்டவணை, ஐந்து வெவ்வேறு பள்ளிகளிலிருந்து (A, B, C, D & E) ஒரு நிகழ்வில் பங்கேற்ற ஆண் மற்றும் பெண் எண்ணிக்கையைக் காட்டுகிறது. அட்டவணையை கவனமாகப் படித்து பின்வரும் கேள்விகளுக்கு பதிலளிக்கவும்.

SCHOOL	MALE	FEMALE
A	650	450
B	540	420
C	720	500
D	560	450
E	680	320

Find average number of females participated from school - A, B & D?

பள்ளியிலிருந்து பங்கேற்ற பெண்களின் சராசரி எண்ணிக்கையைக் கண்டறியவும் - A, B & D?

- A) 400 B) 380 C) 350 D) 440 E) 450

Table given below shows the number of male and female participated in an event from five different schools (A, B, C, D & E). Study the table carefully and answer the following questions.

கீழே கொடுக்கப்பட்டுள்ள அட்டவணை, ஐந்து வெவ்வேறு பள்ளிகளிலிருந்து (A, B, C, D & E) ஒரு நிகழ்வில் பங்கேற்ற ஆண் மற்றும் பெண் எண்ணிக்கையைக் காட்டுகிறது. அட்டவணையை கவனமாகப் படித்து பின்வரும் கேள்விகளுக்கு பதிலளிக்கவும்.

SCHOOL	MALE	FEMALE
A	650	450
B	540	420
C	720	500
D	560	450
E	680	320

Total male participated from school-B & D together are how much more or less than total female participated from school - A & C together?

பள்ளி-B & D இல் பங்கேற்ற மொத்த ஆண்கள், பள்ளியிலிருந்து பங்கேற்ற மொத்த பெண்களின் எண்ணிக்கையை விட எவ்வளவு அதிகமாகவோ அல்லது குறைவாகவோ இருக்கும் - A & C இல் சேர்ந்த மொத்த பெண்களின் எண்ணிக்கையை விட எவ்வளவு அதிகமாகவோ அல்லது குறைவாகவோ இருக்கும்?

A) 150

B) 110

C) 170

D) 120

E) 240

Table given below shows the number of male and female participated in an event from five different schools (A, B, C, D & E).

Study the table carefully and answer the following questions.

கீழே கொடுக்கப்பட்டுள்ள அட்டவணை, ஐந்து வெவ்வேறு பள்ளிகளிலிருந்து (A, B, C, D & E) ஒரு நிகழ்வில் பங்கேற்ற ஆண் மற்றும் பெண் எண்ணிக்கையைக் காட்டுகிறது.

அட்டவணையை கவனமாகப் படித்து பின்வரும் கேள்விகளுக்கு பதிலளிக்கவும்.

SCHOOL	MALE	FEMALE
A	650	450
B	540	420
C	720	500
D	560	450
E	680	320

Total male participated from school-B & C together are what percent more or less than total female participated from school - A & D together?

பள்ளி-B & C இல் பங்கேற்ற மொத்த ஆண்கள், பள்ளியிலிருந்து பங்கேற்ற மொத்த பெண்களின் எண்ணிக்கையை விட எத்தனை சதவீதம் அதிகமாகவோ அல்லது குறைவாகவோ இருக்கும் - A & D இல் சேர்ந்த மொத்த பெண்களின் எண்ணிக்கையை விட எத்தனை சதவீதம் அதிகமாகவோ அல்லது குறைவாக இருக்கும்?

A) 20%

B) 60%

C) 50%

D) 40%

E) 30%

Table given below shows the number of male and female participated in an event from five different schools (A, B, C, D & E).

Study the table carefully and answer the following questions.

கீழே கொடுக்கப்பட்டுள்ள அட்டவணை, ஐந்து வெவ்வேறு பள்ளிகளிலிருந்து (A, B, C, D & E) ஒரு நிகழ்வில் பங்கேற்ற ஆண் மற்றும் பெண் எண்ணிக்கையைக் காட்டுகிறது.

அட்டவணையை கவனமாகப் படித்து பின்வரும் கேள்விகளுக்கு பதிலளிக்கவும்.

SCHOOL	MALE	FEMALE
A	650	450
B	540	420
C	720	500
D	560	450
E	680	320

If total male participated from school - F are 40% more than that of from school - A and ratio of female participated from school-B to that of from school - F is 21:32, then find total students participated from school - F.

பள்ளியிலிருந்து பங்கேற்ற மொத்த ஆண்கள் - F பள்ளியிலிருந்து பங்கேற்றதை விட 40% அதிகமாகவும், பள்ளியிலிருந்து பங்கேற்ற பெண்களின் விகிதம் - A பள்ளியிலிருந்து பங்கேற்றதை விட - F is 21:32

ஆகவும் இருந்தால், பள்ளியிலிருந்து பங்கேற்ற மொத்த மாணவர்களின் எண்ணிக்கையைக் கண்டறியவும் - F.

A) 1420

B) 1550

C) 1580

D) 1460

E) 1490

Table given below shows the number of male and female participated in an event from five different schools (A, B, C, D & E).

Study the table carefully and answer the following questions.

கீழே கொடுக்கப்பட்டுள்ள அட்டவணை, ஐந்து வெவ்வேறு பள்ளிகளிலிருந்து (A, B, C, D & E) ஒரு நிகழ்வில் பங்கேற்ற ஆண் மற்றும் பெண் எண்ணிக்கையைக் காட்டுகிறது.

அட்டவணையை கவனமாகப் படித்து பின்வரும் கேள்விகளுக்கு பதிலளிக்கவும்.

SCHOOL	MALE	FEMALE
A	650	450
B	540	420
C	720	500
D	560	450
E	680	320

Find total number of male students participated from all the five schools together.

ஐந்து பள்ளிகளிலிருந்தும் பங்கேற்ற மொத்த ஆண் மாணவர்களின் எண்ணிக்கையைக் கண்டறியவும்.

A) 2860

B) 3150

C) 2940

D) 3200

E) 3020



SINCE 2013
We Shine Academy®
 guiding you to get through
 ISO 9001-2015 Certified Educational Institution

**உங்களின்
 அரசு வேலை
 கனவிற்கான முதற்படியை
 இன்றே தொடங்குங்கள்!***

*Guaranteed Central or State Government jobs
 within 6 months of course completion

**TNPSC
 GROUP I
 23rd
 RANK**

Our Central and State
GOVERNMENT OFFICERS
 TNPSC | TNUSRB | TET | SSC | BANK EXAM

 Illakiya	 Suganya	 Alshwarya	 Kesavan K	 Mayuri Priya	 M Esther Angeline	 Shankarl	 Nantha kumar	 K Anu Priya
 Sakthi	 MadhuMathi	 Sri Ganesh	 Subanya S	 Kingsley J	 Arul Mozhi	 J Jeya	 M Umapathy	 P Balaji
 Dharani K	 Alex Pandian	 Kavitha	 Vishnu Priya	 Nisha	 Kalaiselvi	 Bala Vignesh Raj	 Muthu Selvi C	 Karthick
 Suresh	 B Jeenath	 by Joint Commissioner			 Kishore	 K Revathy	 Sankaragomathy S	
 M Pandiyarajan	 S Thanga Mani				 D Parthiban	 M Mahindravarman	 Michael Priyanka	
 Wasin N	 Sundar Rajan	 Interview Panel Members			 Rajasekar	 Vimala	 Lashmanan	

* Terms and conditions apply



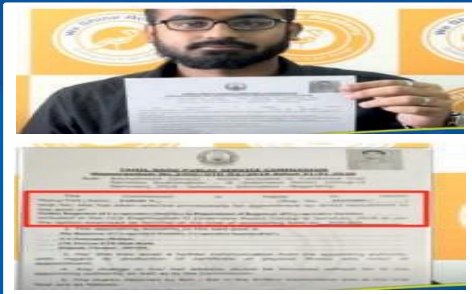
OUR GOVERNMENT OFFICERS

K. THANGA MEENA DEVI

இந்து சமய அறநிலையத் துறை,
உதவியாளர் பணி



STUDENTS WITH APPOINTMENT ORDER



CONGRATULATIONS
ON SUCCESSFULLY GETTING PLACED IN



Angaleswaran
Sub Inspector



Barkavi. K
Educational Dept.



Anandhalakshmi J
IBPS RRB clerk



Sankara Gomathy.S
Village
Administrative Officer



Jeeva. R
Chennai High court



Harisankar K
Police Contable



Vinoth
District Court



Adityan
Agriculture Dept.

Our Central and State GOVERNMENT OFFICERS



Thennarasu
TNUSRB Police



Sangeetha
TNPSC GROUP II
Exam Cleared



Aathithyan G
TNPSC Exam
Agriculture Dept.



Kumari
SBI (PO)



Bala Kumaran V
TNPSC Exam
Agriculture Dept.



Bhavya Shree R
Cleared NICL -
Prelims Exam



Kameshwaran
TNPSC GROUP II
Exam Cleared



Michael Priyanka
IBPS SCALE-II
Officer



Murali
Indian Bank



Jeyanthi
TNPSC GROUP IV



Nirmala S
Group II Interview
Post



Varun Kumar M
SSC GD



Anjali
IBPS SO
(IT OFFICER)



Manimegalai
TNPSC
Judery
Department



Pankajavalli
TNPSC
Stenographer



Parasuraman
Sub Inspector



Abdul Rahman
SSC - MTS



Pradeepraj N
Group 2 A prelims



Aswini
SSC & BANK



Thennarasu
TNUSRB Police



Veera Perumal
TNPSC GROUP II
Exam Cleared



Sivaranjani
TNPSC GROUP II
Exam Cleared



Manimozhi
TNPSC GROUP II
Exam Cleared



Harisankar K
Police Constable



Kavitha
TNUSRB Police
Exam Cleared



B. Benazir Banu
TNUSRB Police
Exam Cleared



Aswin Kumar
Tamilnadu
Post Office



Divya
TNPSC Group II
Exam Cleared



Mathumathi P
Assistant Inspector
of Labour



Manimaran N
Sub Inspector



KAMARAJ
Sub Inspector



N. PRASHANTH



THE WESHINE JOURNEY.

Our Central and State GOVERNMENT OFFICERS



Gayathri
RBI



Aswin Kumar, S
TN Postal Dept.



Yesu Amirtham
TNPSC HIGH COURT



M.Esther Angeline
Police Constable



Madhumathi
TNPSC GROUP 1
Exam Cleared



Sabeen Banu
TNPSC HIGH COURT



D.Vignesh
Police Constable



Rahmath Nisha
Labour Dept.



GOKUL S
SSC/BANK



JAI GANESH
SSC/BANK



C.Muthu Selvi
Police Constable



SOWMEYA.S
SSC/BANK



Fahad
Social Welfare
Dept.



KIRAN KUMAR
SSC/BANK



Hari Shankar. P
LIC



Parasuraman
Police Constable



PADMA PRIYA PT
LIC



SURESH .R
LIC



P. Bharathkumar
TNSRB SI



Naveen .D
SSC/BANK



HARI SHANKAR.P
LIC



S.Madhavan
Police Constable



Anjali .R
SSC/BANK



M. Sivasubbu
Police Constable



Also We provide internal coaching for

Trusted Partnership with



www.weshineacademy.com

8939 144 344 | 8939 244 344



SINCE 2013
We Shine Academy[®]

guiding you to get through

TNPSC | TNUSRB | TET | SSC | BANK EXAM

TNPSC GROUP-I Express TEST SERIES

Starts on:
Saturday | 07-02-2026

Features:

- ✓ 5000+ Questions
- ✓ 37 Total Tests
- ✓ 21 General Studies Tests
- ✓ 05 Revision Tests
- ✓ 11 Full-Length Mock Tests

Offline: ₹5,999/-

Online: ₹4,999/-

Offer:

We Shine Old Students -
FREE!






Teachers Recruitment Board

Perasiriyar Anbazhagan Kalvi Valagam, College Road, Chennai - 600006.

Hall Ticket for OMR Examination (Objective Type)

for the Tamil Nadu Teacher Eligibility Test, Paper - II - 2025

[Notification No. 03/2025 Dated: 11.08.2025]

விண்ணப்பதாரரின் பெயர் / Candidate's Name	SUBASHINI A	 
விண்ணப்பதாரரின் தேர்வு எண். / Candidate's Roll No.	25T21103570127	
விண்ணப்பதாரரின் விண்ணப்ப எண். / Candidate's Application No.	TETP2117329	
பிறந்த தேதி / Date of Birth	19-11-2002	
தந்தை / தாய் பெயர் Father / Mother Name	ANNADURAI R	
பாலினம் / Gender	FEMALE	
மாற்றுத்திறனாளி / Differently abled	NO	
சொல்வதை எழுதுபவர் / Scribe	-	
விண்ணப்பித்த மொழி / Language Applied for	Tamil	
விண்ணப்பித்த விருப்பப் பாடம் / Optional Subject for	Mathematics and Science	
விண்ணப்பதாரரின் முகவரி / Address of the Candidate:	7/128, ARUNTHATHIYAR STRRET, VANAKARANPUDUR, THATHAIYANGARPATTI (PO), NAMAkkAL, NAMAkkAL, NAMAkkAL, PIN - 637014	



Teachers Recruitment Board

Perasiriyar Anbazhagan Kalvi Valagam, College Road, Chennai - 600006.

Hall Ticket for OMR Examination (Objective Type)

for the Tamil Nadu Teacher Eligibility Test, Paper - II - 2025

[Notification No. 03/2025 Dated: 11.08.2025]

விண்ணப்பதாரரின் பெயர் / Candidate's Name	NAGAMMAL A	 	
விண்ணப்பதாரரின் தேர்வு எண். / Candidate's Roll No.	25T21103820131		
விண்ணப்பதாரரின் விண்ணப்ப எண். / Candidate's Application No.	TETP2132346		
பிறந்த தேதி / Date of Birth	10-04-1990		
தந்தை / தாய் பெயர் Father / Mother Name	AYYAPPAN PILLAI SS		
பாலினம் / Gender	FEMALE		
மாற்றுத்திறனாளி / Differently abled	NO		
சொல்வதை எழுதுபவர் / Scribe	-		
விண்ணப்பித்த மொழி / Language Applied for	Tamil		
விண்ணப்பித்த விருப்பப் பாடம் / Optional Subject for	Mathematics and Science		
விண்ணப்பதாரரின் முகவரி / Address of the Candidate:	FLAT.NO:148,TNHB COLONY,TAMBARAM SANATORIUM, CHENNAI, CHENGALPATTU, PIN - 600047		
மையக் குறியீட்டுடன் தேர்வு மையம் பெயர், முகவரி மற்றும் மாவட்டம்: / Centre code, Name and Address of the Examination Centre with District:	Centre Code: 0382 District: CHENNAI GRT MAHALAKSHMI VIDYALAYA MATRIC HSS,NO-76,7TH AVENU,ASHOK NAGAR,CHENNAI 600083.		
Schedule of Examination			
Date of Exam	Reporting Time	Gate Closing Time	Examination Timings
16.11.2025	8.30 a.m.	9.30 a.m.	10.00 a.m. to 01.00 p.m. - All candidates 10.00 a.m. to 02.00 p.m. - PWD candidates



Teachers Recruitment Board

Perasiriyar Anbazhagan Kalvi Valagam, College Road, Chennai - 600006.

Hall Ticket for OMR Examination (Objective Type)
for the Tamil Nadu Teacher Eligibility Test, Paper - II - 2025
[Notification No. 03/2025 Dated: 11.08.2025]

விண்ணப்பதாரரின் பெயர் / Candidate's Name	RAM PRIYA M
விண்ணப்பதாரரின் தேர்வு எண். / Candidate's Roll No.	25T21203240436
விண்ணப்பதாரரின் விண்ணப்ப எண். / Candidate's Application No.	TETP2196836
பிறந்த தேதி / Date of Birth	04-05-1993
தந்தை / தாய் பெயர் Father / Mother Name	MUTHURAJ G
பாலினம் / Gender	FEMALE
மாற்றுத்திறனாளி / Differently abled	NO
சொல்வதை எழுதுபவர் / Scribe	-
விண்ணப்பித்த மொழி / Language Applied for	Tamil
விண்ணப்பித்த விருப்பப் பாடம் / Optional Subject for	Social Science
விண்ணப்பதாரரின் முகவரி / Address of the Candidate:	1/525, 1ST FLOOR, 1ST BLOCK, MUGAPPAIR WEST, CHENNAI, THIRUVALLUR, PIN - 600037
மையக் குறியீட்டுடன் தேர்வு மையம் பெயர், முகவரி மற்றும் மாவட்டம்: / Centre code, Name and Address of the Examination Centre with District:	Centre Code: 0324 District: CHENNAI CHENNAI GIRLS HIGHER SECONDARY SCHOOL, NO-2A, SCHOOL ROAD, M H ROAD, PERAMBUR, CHENNAI-600 011.



M. S. S. S.



Schedule of Examination

Date of Exam	Reporting Time	Gate Closing Time	Examination Timings
16.11.2025	8.30 a.m.	9.30 a.m.	10.00 a.m. to 01.00 p.m. - All candidates 10.00 a.m. to 02.00 p.m. - PWD candidates



Teachers Recruitment Board

Perasiriyar Anbazhagan Kalvi Valagam, College Road, Chennai - 600006.

Hall Ticket for OMR Examination (Objective Type)
for the Tamil Nadu Teacher Eligibility Test, Paper - II - 2025
[Notification No. 03/2025 Dated: 11.08.2025]

விண்ணப்பதாரரின் பெயர் / Candidate's Name	GOWTHAMI S
விண்ணப்பதாரரின் தேர்வு எண். / Candidate's Roll No.	25T21133240072
விண்ணப்பதாரரின் விண்ணப்ப எண். / Candidate's Application No.	TETP2037725
பிறந்த தேதி / Date of Birth	16-05-1990
தந்தை / தாய் பெயர் Father / Mother Name	SOUNDARAJAN P
பாலினம் / Gender	FEMALE
மாற்றுத்திறனாளி / Differently abled	NO
சொல்வதை எழுதுபவர் / Scribe	-
விண்ணப்பித்த மொழி / Language Applied for	Tamil
விண்ணப்பித்த விருப்பப் பாடம் / Optional Subject for	Mathematics and Science
விண்ணப்பதாரரின் முகவரி / Address of the Candidate:	NO 268, NACHARKUPPAM, NACHARKUPPAM POST, TIRUPATHUR, TIRUPATHUR, PIN - 635710
மையக் குறியீட்டுடன் தேர்வு மையம் பெயர், முகவரி மற்றும் மாவட்டம்: / Centre code, Name and Address of the Examination Centre with District:	Centre Code: 3324 District: TIRUPATTUR MARY IMMACULATE GIRLS HR SEC SCHOOL TIRUPATTUR LONDON MISSION ROAD, TIRUPATTUR-635601



S. Gowthami





Teachers Recruitment Board

Perasiriyar Anbazhagan Kalvi Valagam, College Road, Chennai - 600006.

Hall Ticket for OMR Examination (Objective Type)
for the Tamil Nadu Teacher Eligibility Test, Paper – II - 2025
[Notification No. 03/2025 Dated: 11.08.2025]

விண்ணப்பதாரரின் பெயர் / Candidate's Name	PRABHA K
விண்ணப்பதாரரின் தேர்வு எண். / Candidate's Roll No.	25T21102160228
விண்ணப்பதாரரின் விண்ணப்ப எண். / Candidate's Application No.	TETP2077164
பிறந்த தேதி / Date of Birth	24-01-1988
தந்தை / தாய் பெயர் Father / Mother Name	KUMANAN C
பாலினம் / Gender	FEMALE
மாற்றுத்திறனாளி / Differently abled	NO
சொல்வதை எழுதுபவர் / Scribe	.
விண்ணப்பித்த மொழி / Language Applied for	Tamil
விண்ணப்பித்த விருப்பப் பாடம் / Optional Subject for	Mathematics and Science
விண்ணப்பதாரரின் முகவரி / Address of the Candidate:	NO 24. RAMAIYA NAGAR, MEDAVAKKAM, CHENNAI, KANCHEEPURAM, PIN - 600100



U. Prabha



Teachers Recruitment Board

Perasiriyar Anbazhagan Kalvi Valagam, College Road, Chennai - 600006.

Hall Ticket for OMR Examination (Objective Type)
for the Tamil Nadu Teacher Eligibility Test, Paper – II - 2025
[Notification No. 03/2025 Dated: 11.08.2025]

விண்ணப்பதாரரின் பெயர் / Candidate's Name	SHIVASANKARI S
விண்ணப்பதாரரின் தேர்வு எண். / Candidate's Roll No.	25T21138190024
விண்ணப்பதாரரின் விண்ணப்ப எண். / Candidate's Application No.	TETP2045008
பிறந்த தேதி / Date of Birth	18-08-1997
தந்தை / தாய் பெயர் Father / Mother Name	SIVANU M
பாலினம் / Gender	FEMALE
மாற்றுத்திறனாளி / Differently abled	NO
சொல்வதை எழுதுபவர் / Scribe	.
விண்ணப்பித்த மொழி / Language Applied for	Tamil
விண்ணப்பித்த விருப்பப் பாடம் / Optional Subject for	Mathematics and Science
விண்ணப்பதாரரின் முகவரி / Address of the Candidate:	1/884, PALANI ANDAVAR NAGAR, DHARAPURAM ROAD, K.CHETTIPALAYAM, TIRUPPUR, TIRUPPUR, PIN - 641604
மையக் குறியீட்டுடன் தேர்வு மையம் பெயர், முகவரி மற்றும் மையக் குறியீட்டுடன் தேர்வு மையம் பெயர், முகவரி மற்றும் District code, Name and Address of the Examination Centre with District:	Centre Code: 3819 District: VIRUDHUNAGAR CSI GIRLS HR SEC SCHOOL, CSI CHURCH COMPOUND, MADURAI MAINROAD, ARUPPUKOTTAI-626101



S. S. Sankari



Schedule of Examination

Date of Exam	Reporting Time	Gate Closing Time	Examination Timings
16.11.2025	8.30 a.m.	9.30 a.m.	10.00 a.m. to 01.00 p.m. – All candidates 10.00 a.m. to 02.00 p.m. – PWD candidates

PLEASE READ THE FOLLOWING IMPORTANT INSTRUCTIONS CAREFULLY

- Candidates should download their Hall Ticket through online only as no separate physical copy of this Hall Ticket will be dispatched.
- Candidates should check their Hall Ticket for the information furnished therein and in case of any discrepancy, it should be immediately reported to the TRB, Chennai for necessary action.
- The candidates appearing for the examination in their own interest, should check their eligibility in all respects to avoid disappointment if any at later stage and their candidature for this examination is "PURELY PROVISIONAL".
- Please note that this Hall Ticket does not constitute any offer of employment.
- NO REQUEST FOR CHANGE OF EXAMINATION CENTRE WILL BE CONSIDERED UNDER ANY CIRCUMSTANCES.
- No candidate will be allowed to enter into the Examination Hall after gate closing time 09:30 a.m. and should not leave the Examination Hall before 01:00 p.m. for all candidates and 02:00 p.m. for PWD candidates.
- The candidate must bring this Hall Ticket to the Examination Centre. No candidate will be allowed entry without this Hall Ticket.
- The candidate is also instructed to bring any one of the following Photo Identification Cards in original viz.
 - Aadhar Card
 - PAN Card



Teachers Recruitment Board

Perasiriyar Anbazhagan Kalvi Valagam, College Road, Chennai - 600006.

Hall Ticket for OMR Examination (Objective Type)
for the Tamil Nadu Teacher Eligibility Test, Paper – II - 2025
[Notification No. 03/2025 Dated: 11.08.2025]

விண்ணப்பதாரரின் பெயர் / Candidate's Name	DEEPA AM	
விண்ணப்பதாரரின் தேர்வு எண். / Candidate's Roll No.	25T21103070159	
விண்ணப்பதாரரின் விண்ணப்ப எண். / Candidate's Application No.	TETP2331329	
பிறந்த தேதி / Date of Birth	30-04-1990	
தந்தை / தாய் பெயர் Father / Mother Name	MUNUSAMY A	
பாலினம் / Gender	FEMALE	
மாற்றுத்திறனாளி / Differently abled	NO	
சொல்வதை எழுதுபவர் / Scribe	-	
விண்ணப்பித்த மொழி / Language Applied for	Tamil	
விண்ணப்பித்த விருப்பப் பாடம் / Optional Subject for	Mathematics and Science	
விண்ணப்பதாரரின் முகவரி / Address of the Candidate:	NO 67 A THULUKKANATHAMMAN KOVIL STREET BHARATHI NAGAR ZAMIN PALLAVARAM, CHENNAI, KANCHEEPURAM CHENGALPET, PIN - 600043	
மையக் குறியீட்டுடன் தேர்வு மையம் பெயர், முகவரி மற்றும் மாவட்டம்: / Centre code, Name and Address of the Examination Centre with District:	Centre Code: 0307 District: CHENNAI PERUNTHALAIVAR KAMARAJAR GOVERNMENT GIRLS HIGHER SECONDARY SCHOOL,NORTH PARK STREET, VENKATAPURAM .AMBATTUR,CHENNAI-600 053.	

Schedule of Examination



Date of Exam	Reporting Time	Gate Closing Time	Examination Timings
16.11.2025	8.30 a.m.	9.30 a.m.	10.00 a.m. to 01.00 p.m. – All candidates 10.00 a.m. to 02.00 p.m. – PWD candidates



Teachers Recruitment Board

Perasiriyar Anbazhagan Kalvi Valagam, College Road, Chennai - 600006.

Hall Ticket for OMR Examination (Objective Type)
for the Tamil Nadu Teacher Eligibility Test, Paper – II - 2025
[Notification No. 03/2025 Dated: 11.08.2025]

விண்ணப்பதாரரின் பெயர் / Candidate's Name	NIRUBA MAYIL V	
விண்ணப்பதாரரின் தேர்வு எண். / Candidate's Roll No.	25T21230060158	
விண்ணப்பதாரரின் விண்ணப்ப எண். / Candidate's Application No.	TETP2052064	
பிறந்த தேதி / Date of Birth	12-06-1981	
தந்தை / தாய் பெயர் Father / Mother Name	VEERAPERUMAL R	
பாலினம் / Gender	FEMALE	
மாற்றுத்திறனாளி / Differently abled	NO	
சொல்வதை எழுதுபவர் / Scribe	-	
விண்ணப்பித்த மொழி / Language Applied for	Tamil	
விண்ணப்பித்த விருப்பப் பாடம் / Optional Subject for	Social Science	
விண்ணப்பதாரரின் முகவரி / Address of the Candidate:	5/90 MIDDLE STREET SRI MOOLAKARAI SRIVAIKUNDAM TALUK, THOOTHUKUDI, THOOTHUKUDI, PIN - 628620	



Hall Ticket for OMR Examination (Objective Type)

for the Tamil Nadu Teacher Eligibility Test, Paper - II - 2025

[Notification No. 03/2025 Dated: 11.08.2025]

விண்ணப்பதாரரின் பெயர் / Candidate's Name	SANGEETHA R
விண்ணப்பதாரரின் தேர்வு எண். / Candidate's Roll No.	25T21127200028
விண்ணப்பதாரரின் விண்ணப்ப எண். / Candidate's Application No.	TETP2051771
பிறந்த தேதி / Date of Birth	01-07-1982
தாய் பெயர் / Mother Name	RAJA B
பாலினம் / Gender	FEMALE
பிற்பாடு உள்ளாள் / Differently abled	NO
எழுதுபவர் / Scribe	
பின்பிடித்த மொழி / Language Applied for	Tamil
பின்பிடித்த விருப்பப் பாடம் / Optional Subject for	Social Science
விண்ணப்பதாரரின் முகவரி / Address of the Candidate:	24/1 KANCHIPURAM HIGH ROAD , NO 65 PALUR VILLAGE AND POST, PALUR, CHENGALPATTU, PIN - 603101
மையக் குறியீட்டுடன் தேர்வு மையம் பெயர், முகவரி மற்றும் மாவட்டம்: / Centre code, Name and Address of the Examination Centre with District:	Centre Code: 0207 District: CHENGALPATTU GOVT GIRLS HR SEC SCHOOL, ORAGADAM SALAI(OPPOSITE TO TALUK OFFICE) THIRUKALUKUNDRAM, CHENGALPATTU DIST -603109



Teachers Recruitment Board

Perasiriyar Anbazhagan Kalvi Valagam, College Road, Chennai - 600006.

Hall Ticket for OMR Examination (Objective Type)

for the Tamil Nadu Teacher Eligibility Test, Paper - II - 2025

[Notification No. 03/2025 Dated: 11.08.2025]

விண்ணப்பதாரரின் பெயர் / Candidate's Name	LAKSHMI R
விண்ணப்பதாரரின் தேர்வு எண். / Candidate's Roll No.	25T21202070216
விண்ணப்பதாரரின் விண்ணப்ப எண். / Candidate's Application No.	TETP2145208
பிறந்த தேதி / Date of Birth	18-05-1985
தந்தை / தாய் பெயர் / Father / Mother Name	RASPAL P
பாலினம் / Gender	FEMALE
மாற்றுத்திறனாளி / Differently abled	NO
சொல்வதை எழுதுபவர் / Scribe	-
பின்பிடித்த மொழி / Language Applied for	Tamil
பின்பிடித்த விருப்பப் பாடம் / Optional Subject for	Social Science
விண்ணப்பதாரரின் முகவரி / Address of the Candidate:	24/1 KANCHIPURAM HIGH ROAD , NO 65 PALUR VILLAGE AND POST, PALUR, CHENGALPATTU, PIN - 603101
மையக் குறியீட்டுடன் தேர்வு மையம் பெயர், முகவரி மற்றும் மாவட்டம்: / Centre code, Name and Address of the Examination Centre with District:	Centre Code: 0207 District: CHENGALPATTU GOVT GIRLS HR SEC SCHOOL, ORAGADAM SALAI(OPPOSITE TO TALUK OFFICE) THIRUKALUKUNDRAM, CHENGALPATTU DIST -603109



L. Lakshmi





Teachers Recruitment Board

Perasiriyar Anbazhagan Kalvi Valagam, College Road, Chennai - 600006.

Hall Ticket for OMR Examination (Objective Type)
for the Tamil Nadu Teacher Eligibility Test, Paper - II - 2025
[Notification No. 03/2025 Dated: 11.08.2025]

விண்ணப்பதாரரின் பெயர் / Candidate's Name	DEEPA AM	 
விண்ணப்பதாரரின் தேர்வு எண். / Candidate's Roll No.	25T21103070159	
விண்ணப்பதாரரின் விண்ணப்ப எண். / Candidate's Application No.	TETP2331329	
பிறந்த தேதி / Date of Birth	30-04-1990	
தந்தை / தாய் பெயர் Father / Mother Name	MUNUSAMY A	
பாலினம் / Gender	FEMALE	
மாற்றுத்திறனாளி / Differently abled	NO	
சொல்வதை எழுதுபவர் / Scribe	-	
விண்ணப்பித்த மொழி / Language Applied for	Tamil	
விண்ணப்பித்த விருப்பப் பாடம் / Optional Subject for	Mathematics and Science	
விண்ணப்பதாரரின் முகவரி / Address of the Candidate:	NO 67 A THULUKKANATHAMMAN KOVIL STREET BHARATHI NAGAR ZAMIN PALLAVARAM, CHENNAI, KANCHEEPURAM CHENGALPET, PIN - 600043	
மையக் குறியீட்டுடன் தேர்வு மையம் பெயர், முகவரி மற்றும் மாவட்டம்: / Centre code, Name and Address of the Examination Centre with District:	Centre Code: 0307 District: CHENNAI PERUNTHALAIVAR KAMARAJAR GOVERNMENT GIRLS HIGHER SECONDARY SCHOOL,NORTH PARK STREET, VENKATAPURAM .AMBATTUR,CHENNAI-600 053.	

Schedule of Examination



Date of Exam	Reporting Time	Gate Closing Time	Examination Timings
16.11.2025	8.30 a.m.	9.30 a.m.	10.00 a.m. to 01.00 p.m. - All candidates 10.00 a.m. to 02.00 p.m. - PWD candidates



Teachers Recruitment Board

Perasiriyar Anbazhagan Kalvi Valagam, College Road, Chennai - 600006.

Hall Ticket for OMR Examination (Objective Type)
for the Tamil Nadu Teacher Eligibility Test, Paper - II - 2025
[Notification No. 03/2025 Dated: 11.08.2025]

விண்ணப்பதாரரின் பெயர் / Candidate's Name	NIRUBA MAYIL V	 
விண்ணப்பதாரரின் தேர்வு எண். / Candidate's Roll No.	25T21230060158	
விண்ணப்பதாரரின் விண்ணப்ப எண். / Candidate's Application No.	TETP2052064	
பிறந்த தேதி / Date of Birth	12-06-1981	
தந்தை / தாய் பெயர் Father / Mother Name	VEERAPERUMAL R	
பாலினம் / Gender	FEMALE	
மாற்றுத்திறனாளி / Differently abled	NO	
சொல்வதை எழுதுபவர் / Scribe	-	
விண்ணப்பித்த மொழி / Language Applied for	Tamil	
விண்ணப்பித்த விருப்பப் பாடம் / Optional Subject for	Social Science	
விண்ணப்பதாரரின் முகவரி / Address of the Candidate:	5/90 MIDDLE STREET SRI MOOLAKARAI SRIVAIKUNDAM TALUK, THOOTHUKUDI, THOOTHUKUDI, PIN - 628620	

Read the following data carefully and answer the following questions. Three schools A, B, and C teach two different languages Madrin and German. The given table shows the number of students learning the Madrin language and the total number of boys and girls studying in these three different schools.

Note: Total number of students = Total number of boys + Total number of girls.

School	Madrin	Total No. Of Boys	Total No. Of Girls
A	300	500	400
B	360	500	300
C	400	640	480

Find the total number of students learning German in all the schools together?

- (a) 1840 (b) 1880 (c) 1900 (d) 1760 (e) 1960

Read the following data carefully and answer the following questions. Three schools A, B, and C teach two different languages Madrin and German. The given table shows the number of students learning the Madrin language and the total number of boys and girls studying in these three different schools.

Note: Total number of students = Total number of boys + Total number of girls.

School	Madrin	Total No. Of Boys	Total No. Of Girls
A	300	500	400
B	360	500	300
C	400	640	480

The number of students learning German in B from two different cities Chennai and Bangalore in the ratio of 15:7. Find the number of students learning German in B from Bangalore?

- (a) 80 (b) 90 (c) 110 (d) 100 (e) 140

Read the following data carefully and answer the following questions. Three schools A, B, and C teach two different languages Madrin and German. The given table shows the number of students learning the Madrin language and the total number of boys and girls studying in these three different schools.

Note: Total number of students = Total number of boys + Total number of girls.

School	Madrin	Total No. Of Boys	Total No. Of Girls
A	300	500	400
B	360	500	300
C	400	640	480

The number of students learning German in D is 25% more than that of C and the number of boys in D is 20% more than that of A and the number of girls in D is twice that of the number of girls in B. Find the number of students learning Madrin in D?

- (a) 300 (b) 320 (c) 380 (d) 250 (e) 200

Read the following data carefully and answer the following questions. Three schools A, B, and C teach two different languages Madrin and German. The given table shows the number of students learning the Madrin language and the total number of boys and girls studying in these three different schools.

Note: Total number of students = Total number of boys + Total number of girls.

School	Madrin	Total No. Of Boys	Total No. Of Girls
A	300	500	400
B	360	500	300
C	400	640	480

The ratio of the number of boys to girls learning German and Madrin in C is 7:5 and 5:3 respectively. Find the difference between the number of boys learning German and Madrin in C?

- (a) 130 (b) 140 (c) 150 (d) 160 (e) None of these

Read the following data carefully and answer the following questions. Three schools A, B, and C teach two different languages Madrin and German. The given table shows the number of students learning the Madrin language and the total number of boys and girls studying in these three different schools.

Note: Total number of students = Total number of boys + Total number of girls.

School	Madrin	Total No. Of Boys	Total No. Of Girls
A	300	500	400
B	360	500	300
C	400	640	480

The number of boys learning German in A is 60% of the total number of boys in the same school and the number of girls learning Madrin in A is 30% of the total number of girls in the same school. Find the ratio of the number of girls learning German in A to the number of boys learning Madrin in A?

- (a) 20:9 (b) 19:5 (c) 21:8 (d) 5:3 (e) 7:5

Table given below shows total three types (Apple, Watermelon and Papaya) of fruits used by an event management company in three different months. Read the data carefully and answer the questions.

Fruit	March	April	May
Apple	34	56	48
Watermelon	42	32	20
Papaya	36	44	59

Total number of Papaya used in May is how much more than total number of Apple used in March?

- (a) 45 (b) 40 (c) 25 (d) 20 (e) 30

Table given below shows total three types (Apple, Watermelon and Papaya) of fruits used by an event management company in three different months. Read the data carefully and answer the questions.

Fruit	March	April	May
Apple	34	56	48
Watermelon	42	32	20
Papaya	36	44	59

Find the total number of Apple used in all the given three months?

(a) 138

(b) 137

(c) 134

(d) 136

(e) 132

Table given below shows total three types (Apple, Watermelon and Papaya) of fruits used by an event management company in three different months. Read the data carefully and answer the questions.

Fruit	March	April	May
Apple	34	56	48
Watermelon	42	32	20
Papaya	36	44	59

Find the ratio of total number of Papaya used in March to total number of Watermelon used in March?

- (a) 7:6 (b) 9:4 (c) 6:7 (d) 6:5 (e) 4:3

Table given below shows total three types (Apple, Watermelon and Papaya) of fruits used by an event management company in three different months. Read the data carefully and answer the questions.

Fruit	March	April	May
Apple	34	56	48
Watermelon	42	32	20
Papaya	36	44	59

Find the average number of all three types of fruits used by event management company in May?

(a) 40.4

(b) 44.3

(c) 42.3

(d) 43.3

(e) 41.3

Table given below shows total three types (Apple, Watermelon and Papaya) of fruits used by an event management company in three different months. Read the data carefully and answer the questions.

Fruit	March	April	May
Apple	34	56	48
Watermelon	42	32	20
Papaya	36	44	59

Total number of Apples used in March & May together are what percentage more than total number of Papaya used in March & April together?

- (a) 2.5% (b) 5% (c) 1.5% (d) 4% (e) 3%

Read the following data carefully and answer the following questions. Three schools A, B, and C teach two different languages Madrin and German. The given table shows the number of students learning the Madrin language and the total number of boys and girls studying in these three different schools.

Note: Total number of students = Total number of boys + Total number of girls.

School	Madrin	Total No. Of Boys	Total No. Of Girls
A	300	500	400
B	360	500	300
C	400	640	480

The ratio of the number of boys and girls students learning German in A is 13:7. The number of boys learning German in A is what percent of the total number of students in C?

- (a) 28.57% (b) 35% (c) 42.35% (d) 20% (e) 34.82%



Thank You