



MODUL AJAR 9.20

ASESMEN SUMATIF MA 9.17-9.19

KERJA SAMA DUNIA



KELAS 9 [4 x 40']



SOCIAL STUDIES DIGITAL CLASS

2026 © Guru IPS SMPN 285 Jakarta

<www.guruipssmpn285jkt.online>

MODUL AJAR 9.20

SMPN 285 JAKARTA



by



Ady Lesmana - 2026



KEGIATAN PEMBELAJARAN AWAL

[50']



MENJELASKAN TUJUAN BELAJAR

[1']

ASESMEN MA 9.17 – 9.19

- Mengevaluasi kemampuan diri terhadap topik-topik yang telah dipelajari terkait kerjasama dunia.

**DAPAT DIJADIKAN ASESMEN
SUMATIF PTS/AKHIR SEMESTER
DIGABUNG DENGAN SUMATIF
SEBELUMNYA**



SALAM PEMBUKA

[1']

***“Assalamu’alaikum Warahmatullahi Wabarakatuh,
Syalom, Salam Sejahtera, Om Swastyastu, Namu
Buddhaya, Salam Kebajikan, Salam Pancasila,
Salam Bahagia Bagi Kita Semua”***



DOA



UMUM/SESUAI KEPERCAYAAN & KEYAKINAN
[4']



MENYANYIKAN LAGU NASIONAL/DAERAH/UMUM

JALAN PANJANG
(SYAKOJI)
[5']



PRESENSI
(MENGENAL PESERTA DIDIK)
[7']



MULAI DARI DIRI

ASESMEN FORMATIF/PERMAINAN/ICE BREAKING [30']

TEKA-TEKI + MOTIVASI

Persiapan Alat:



MULAI DARI DIRI

ASESMEN FORMATIF/PERMAINAN/ICE BREAKING [30']

Next Question

INI APA?



INTRUKSI 1:

**TUNJUKKAN
BASKOM/KOTAK
PLASTIK, LALU
TANYAKAN, INI APA?**



MULAI DARI DIRI

ASESMEN FORMATIF/PERMAINAN/ICE BREAKING [30']

Next Question

INI APA?



INTRUKSI 2:

**TUNJUKKAN BOTOL
KOSONG [DAPAT
BERUPA BOTOL BEKAS
APA SAJA], LALU
TANYAKAN, INI APA?**



MULAI DARI DIRI

ASESMEN FORMATIF/PERMAINAN/ICE BREAKING [30']

Next Question

INI APA?



INTRUKSI 3:

**TUNJUKKAN
TEKO/WADAH APAPUN
YANG BERISI AIR, LALU
TANYAKAN, INI APA?**



MULAI DARI DIRI

ASESMEN FORMATIF/PERMAINAN/ICE BREAKING [30']

Next Question

INI APA?




INTRUKSI 4:
TUNJUKKAN TISU,
PERTANYAAN:
INI APA?



MULAI DARI DIRI

ASESMEN FORMATIF/PERMAINAN/ICE BREAKING [30']

SEKARANG APA YANG KAMU LIHAT?



INTRUKSI 5:
Letakkan Botol kosong
kedalam baskom/kotak
lalu tuangkan air dari
teko/ wadah dan
penuhi airnya
Sambil bertanya pada
PD:

PERTANYAAN:
SEKARANG APA YANG
KAMU LIHAT?



MULAI DARI DIRI

ASESMEN FORMATIF/PERMAINAN/ICE BREAKING [30']



**KALAU SAYA TUTUP BOTOL INI
DENGAN TISU, MENURUT
KAMU TISU INI, BISA TIDAK
DIGUNAKAN MENAHAN AIR?**


INTRUKSI 6:
Ambil Sehelai tisu,
kemudian letakkan
diatas botol menutupi
lubang botol tersebut

PERTANYAAN:
KALAU SAYA TUTUP
BOTOL INI DENGAN
TISU INI, BISA TIDAK
DIGUNAKAN
MENAHAN AIR?



MULAI DARI DIRI ASESMEN FORMATIF/PERMAINAN/ICE BREAKING [30']

MARI KITA COBA



INTRUKSI :

TUTUP BOTOL DENGAN
TISU, PASTIKAN TISU
MENUTUPI BOTOL DAN
BASA, KEMUDIAN
TARIK PERLAHAN
KEBAWAH SAMPAI TISU
ROBEK DAN TERPISAH.

(Bersama-sama
memperhatikan proses
yang terjadi)



MULAI DARI DIRI ASESMEN FORMATIF/PERMAINAN/ICE BREAKING [30']

NAH TERYATA BISA KAN!



INTRUKSI 7:

**BALIK BOTOL YANG
TELAH TERTUTUP OLEH
ROBEKAN TISU**

**FEEDBACK:
NAH BISA KAN?!**



MULAI DARI DIRI

ASESMEN FORMATIF/PERMAINAN/ICE BREAKING [30']

PENJELASAN



JADI ARTINYA,

Jangan terlalu cepat mengambil kesimpulan, LEMBUT itu BUKAN BERARTI LEMAH, Kadang Kamu tidak menyadari, bahwa Di DALAM SEBUAH KELEMBUTAN TERNYATA ADA KEKUATAN LUAR BIASA YANG SANGGUP MENAHAN TEKANAN



QUOTE OF THE DAY

(2')

“Kita harus berarti untuk diri kita sendiri dulu sebelum kita menjadi orang yang berharga bagi orang lain.”

-Ralph Waldo Emerson-



KESEPAKATAN KELAS IPS DIGITAL - SMPN 285 JAKARTA



Gawai
SKK**





**SELALU JADI VERSI TERBAIK
DARI DIRIMU SENDIRI BUKAN
VERSI KELAS DUA DARI
ORANG LAIN**

SOAL NOMOR 1

Fenomena yang mempengaruhi iklim dan cuaca, diantaranya adalah terperangkapnya panas matahari akibat terjebak oleh polusi udara yang tebal sehingga suhu bumi menjadi panas disebut

- a. Pemanasan Global
- b. Efek rumah kaca
- c. Rusaknya ozon
- d. Kebakaran



SOAL NOMOR 2

Hal yang berakibat fatal untuk manusia jika terjadi fenomena hilangnya lapisan ozon di atmosfer adalah

- a. Masuknya radiasi sinar ultraviolet
- b. Berkurangnya jumlah oksigen di udara
- c. Terjadinya hujan badai terus menerus
- d. Adanya meteor yang jatuh ke bumi



SOAL NOMOR 3

Negara-negara di Asia yang dikelompokkan sebagai negara maju adalah

- a. Jepang dan Indonesia
- b. India dan Pakistan
- c. Jepang dan Korea Selatan
- d. Cina dan Malaysia



SOAL NOMOR 4

Keragaman lingkungan yang **menciptakan beragam kondisi hidup bagi berbagai organisme, seperti** hutan hujan tropis, padang rumput, gurun, lautan, masuk kedalam aspek

- a. Ekosistem
- b. Genetika
- c. Interaksi antar spesies
- d. Ekologi Perilaku



SOAL NOMOR 5

Keragaman lingkungan yang terjadi karena aktivitas manusia seperti deforestasi, polusi, perubahan iklim, dan aktivitas manusia lainnya yang dapat menyebabkan penurunan keragaman bahkan kepunahan spesies, masuk kedalam aspek

- a. Ekosistem
- b. Pengaruh Manusia
- c. Interaksi antar spesies
- d. Ekologi Perilaku



SOAL NOMOR 6

Posisi geografis Benua Asia diapit oleh tiga samudera, diantaranya

- a. Samudera Hindia, Samudera Pasifik dan Samudera Arktik
- b. Samudera Hindia, Samudera Pasifik dan Samudera Atlantik
- c. Samudera Hindia, Samudera Atlantik dan Samudera Artik
- d. Samudera Atlantik, Samudera Pasifik dan Samudera Artik



SOAL NOMOR 7

Dari benua-benua yang ada, benua terluas di permukaan bumi adalah

- a. Asia
- b. Afrika
- c. Eropa
- d. Australia



SOAL NOMOR 8

Penduduk asli yang ada di Negara Amerika Serikat adalah

- a. Aborigin
- b. Hamit
- c. Ainu
- d. Indian



SOAL NOMOR 9

Penduduk di Benua Asia terdiri atas tiga ras utama namun ras tersebut telah bercampur sehingga mengalami proses asimilasi antara satu dan lainnya. Ras yang mendominasi kawasan Asia Timur dan Asia Tenggara adalah

- a. Kaukasoid
- b. Mongoloid
- c. Negroid
- d. Europoid



SOAL NOMOR 10

Perhatikan data terkait kondisi penduduk berikut:

- 1) jumlah penduduknya terbanyak di dunia
- 2) sebagian besar penduduknya tergolong usia produktif
- 3) mata pencaharian mayoritas penduduknya masih mengandalkan sektor pertanian

Data tersebut menggambarkan kondisi penduduk yang berada di benua

- a. Asia
- b. Amerika
- c. Afrika
- d. Eropa



SOAL NOMOR 11

Benua yang dijuluki Benua Hitam adalah

- a. Asia
- b. Afrika
- c. Australia
- d. Amerika



SOAL NOMOR 12

Luas Benua Afrika 30.290.000 km², luas Benua Eropa 10.355.000 km², luas Benua Asia 44.000.000 km², luas Benua Australia 8.945.000 km², luas Benua Amerika 42.057.100 km². Dari data luas benua-benua di dunia tersebut, Benua Amerika menduduki peringkat ke

- a. 1
- b. 2
- c. 3
- d. 4



SOAL NOMOR 13

Kelompok masyarakat yang memiliki ciri-ciri budaya yang sama, dan di Indonesia lebih dikenal sebagai suku bangsa, merupakan aspek keragaman masyarakat dunia terkait dengan

- a. Ras
- b. Etnik
- c. Agama
- d. Bahasa



SOAL NOMOR 14

Perhatikan data ciri-ciri fisik berikut

- 1) Warna kulit coklat kehitaman,
- 2) Warna mata gelap,
- 3) Rambut bergelombang hingga keriting,
- 4) Tulang alis menonjol,
- 5) Rahang besar dan tebal,
- 6) Bentuk muka dolichocephalic (lonjong atau oval).

Dari data yang ada, menunjukkan aspek keragaman masyarakat yang terdapat pada

- a. Ras Negroid
- b. Ras Mongoloid
- c. Ras Kaukasoid
- d. Ras Australoid

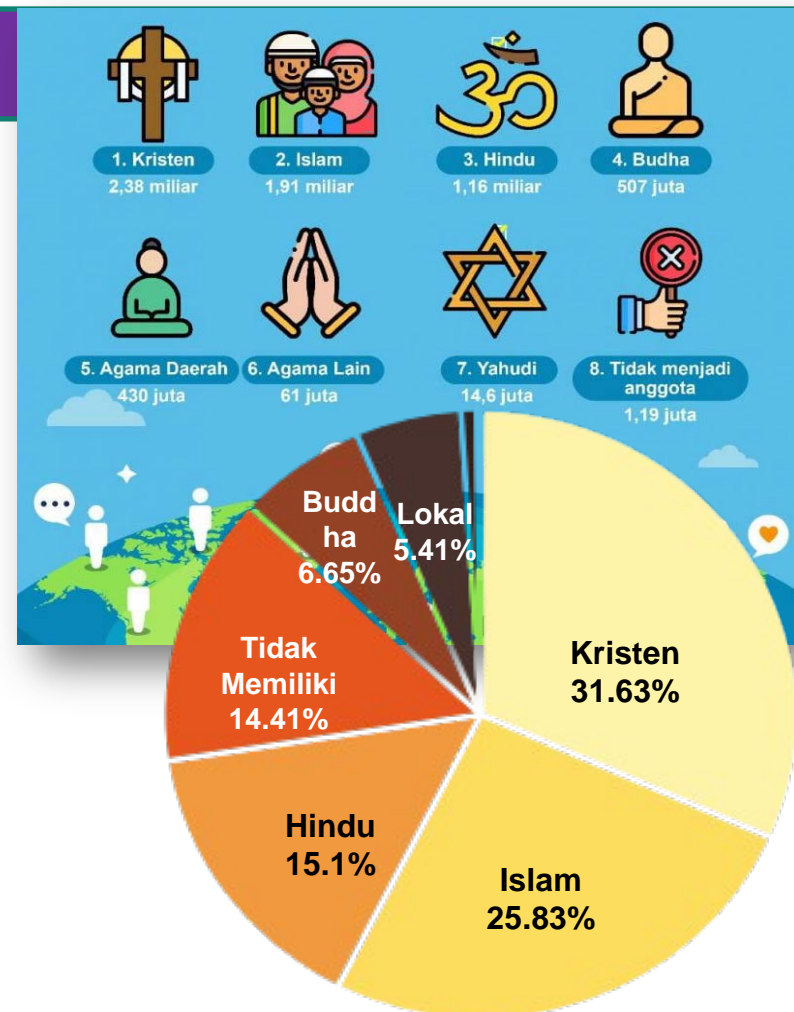


SOAL NOMOR 15

Perhatikan infografik berikut:

Keragaman masyarakat dunia ditinjau dari aspek agama, dari data infografis tersebut, maka Agama terbanyak kedua di dunia adalah

- a. Kristen
- b. Islam
- c. Hindu
- d. Lokal



<https://www.inews.id/multimedia/infografis/infografis-8-agama-terbesar-di-dunia-2022>



SOAL NOMOR 16

Mengapa aspek keragaman bahasa lebih sedikit dari aspek keragaman ras maupun etnik

- a. karena faktor persamaan budaya masa lalu
- b. karena banyak kelompok etnik dengan bahasa yang sama
- c. karena bahasa awal masyarakat adalah dalam bentuk isyarat
- d. dalam perkembangan bahasa manusia tidak semua mau belajar bahasa



SOAL NOMOR 17

Hasil interaksi kebudayaan di Lembah Sungai Indus dengan peradaban mesopotamia adalah

- a. Bangunan kota Mohenjo Daro dan Harappa
- b. Taman Gantung Babilonia
- c. Tembok Raksasa
- d. Segel Sharkalisharri



SOAL NOMOR 18

Berkembangnya peradaban bangsa Tiongkok, pada aspek ilmu pengetahuan dan teknologi, ditunjukkan dengan penemuan

....

- a. Mumi
- b. Kompas dan bubuk mesiu
- c. Great wall
- d. Segel Sharkalisharri



SOAL NOMOR 19

Jejak interaksi peradaban India dengan Indonesia yang kala itu disebut nusantara, dapat dilihat dari literatur kuno yang memuat adanya

- a. Interaksi perdagangan dengan Sumatera
- b. Ekspansi kerajaan India ke Nusantara
- c. Pembangunan borobudur
- d. Pernikahan campur India dan Nusantara



SOAL NOMOR 20

Kerja sama internasional memberi kesempatan bagi suatu negara untuk dapat berinvestasi di negara lain yang berdampak positif langsung pada

- a. lapangan pekerjaan yang semakin luas
- b. berdirinya perusahaan asing besar
- c. kualitas iptek meningkat
- d. kelangsungan usaha dalam negeri terjamin



SOAL NOMOR 21

Indonesia mengekspor karet ke Jepang, sebaliknya Jepang baja ke Indonesia. Perdagangan yang terjadi ini, dikarenakan oleh perbedaan

- a. produk industri
- b. sumber daya alam
- c. sumber daya manusia
- d. penggunaan teknologi



SOAL NOMOR 22

Letak geografis kawasan Asia tenggara sangat menguntungkan bagi negara-negara yang terletak di kawasan tersebut, keuntungan posisi geografis tersebut pada kegiatan kerjasama regional berupa

- a. beraneka ragam industri berkembang
- b. hasil tambang melimpah
- c. kegiatan perdagangan dan pelayaran berkembang
- d. kegiatan ekspor bahan baku meningkat



SOAL NOMOR 23

Yang dimaksud dengan Kerja sama regional adalah bentuk kerjasama

- a. suatu negara dengan negara lain
- b. negara-negara dalam satu kawasan
- c. banyak negara
- d. dua negara



SOAL NOMOR 24

Keuntungan mengirimkan tenaga kerja Indonesia ke luar negeri adalah

- a. memperluas wilayah pemasaran produk dalam negeri
- b. Pengurangan populasi penduduk di Indonesia
- c. meningkatkan penerimaan terhadap devisa negara
- d. Terjadinya pertukaran budaya yang mengayakan budaya Indonesia



SOAL NOMOR 25

Yang merupakan salah satu alasan mendasar dari munculnya kerjasama regional ASEAN, yakni

- a. berideologi yang sama.
- b. kesamaan berpenduduk yang padat.
- c. merupakan negara yang luas.
- d. berada dalam satu kawasan.



SOAL NOMOR 26

ASEAN didirikan oleh Lima negara, meliputi

- a. Indonesia, Malaysia, Singapura, Vietnam, Kamboja
- b. Indonesia, Malaysia, Singapura, Filipina, Thailand
- c. Indonesia, Malaysia, Thailand, Brunai, Kamboja
- d. Indonesia, Singapura, Brunai, Vietnam, Myanmar



SOAL NOMOR 27

Negara anggota ASEAN yang termasuk dalam kategori negara maju berdasarkan tingkat perekonomian yang tinggi adalah

- a. Singapura.
- b. Filipina.
- c. Brunei Darussalam.
- d. Indonesia.



SOAL NOMOR 28

Singapura, memiliki luas wilayah kurang lebih 719,1 km², dengan fakta geografis ini, sulit menemukan Singapura pada peta dunia. Singapura berupaya melakukan **reklamasi**, istilah ini merupakan upaya Singapura dalam

- a. Memanfaatkan lahan yang ada dengan semaksimal mungkin
- b. Memperluas lahan dengan cara membeli tanah dari negara tetangga untuk menimbun laut
- c. Membuat lahan hijau di daerah perkotaan untuk memperindah diantara padatnya daerah perkotaan.
- d. Membuat kebijakan penduduk harus tinggal dirumah susun untuk mengurangi penyempitan lahan



SOAL NOMOR 29

Pembangunan berkelanjutan berprinsip bahwa pemanfaatan sumber daya alam harus memperhatikan kepentingan generasi mendatang. Contoh tindakan yang sesuai prinsip tersebut adalah

- a. Memperluas hutan tanaman industri untuk meningkatkan ekspor kertas
- b. Memanfaatkan kekayaan sumber daya flora dan fauna di hutan secara eksploitatif
- c. Menetapkan sebagian hutan sebagai taman nasional dan daerah cagar alam
- d. Memperbanyak penangkaran buaya untuk diambil kulitnya sebagai bahan baku tas dan sepatu



SOAL NOMOR 30

Deklarasi SDGs menghasilkan tujuan Pembangunan Berkelanjutan, sebanyak

- a. 15 poin
- b. 17 poin
- c. 169 poin
- d. 120 poin



SOAL NOMOR 31

Satu contoh tindakan yang dapat kita lakukan untuk turut mengampanyekan SDGs adalah

- a. mendorong pemerintah untuk melaksanakan program SDGs.
- b. mempelajari secara mandiri setiap isu yang dijadikan sasaran dalam SDGs.
- c. meminta pihak PBB untuk mengevaluasi SDGs secara rutin.
- d. menyebarkan informasi mengenai SDGs melalui berbagai cara.



SOAL NOMOR 32 (1)

Bacalah informasi berikut dengan seksama.

Kampanye SDGs melalui Media

DIREKTUR United Nations Information Centre (UNIC) Francyne Harrigan berkunjung ke sejumlah media massa di Jakarta, termasuk Media Group. Kunjungan itu berkaitan dengan program SDGs Media Compact yang akan dilakukan bersama media-media.

Kampanye sustainable development goals (SDGs) atau tujuan pembangunan berkelanjutan dari Perserikatan Bangsa-Bangsa itu memiliki sejumlah isu strategis. Misalnya, perubahan iklim, ketersediaan air bersih, masalah sampah, kesetaraan gender, dan kesehatan.



SOAL NOMOR 32 (2)

SDGs Media Compact diluncurkan September 2018. PBB mengajak perusahaan-perusahaan media dan hiburan di seluruh dunia untuk mengoptimalkan sumber daya mereka demi mewujudkan tujuan-tujuan pembangunan berkelanjutan di 2030. Diungkap dalam situs PBB, pada peluncuran SDGs Media Compact, telah bergabung sejumlah perusahaan media di 80 negara di 4 benua dan diperkirakan akan terus bertambah. Sifat SDGs Media Compact bersifat inklusif dan bertujuan merangkul perusahaan-perusahaan media dari semua wilayah dan berbagai *platform*.

Sumber: <https://mediaindonesia.com/read/detail/227636-kampanye-sdgmelalui-media>



SOAL NOMOR 32 (3)

Dari informasi dalam bacaan, dapat disimpulkan bahwa SDGs Media Compact adalah

- a. lembaga internasional untuk kampanye SDGs.
- b. badan kerja sama dunia untuk kampanye SDGs.
- c. program kerja sama untuk kampanye SDGs.
- d. rencana peningkatan kampanye SDGs.



SOAL NOMOR 33

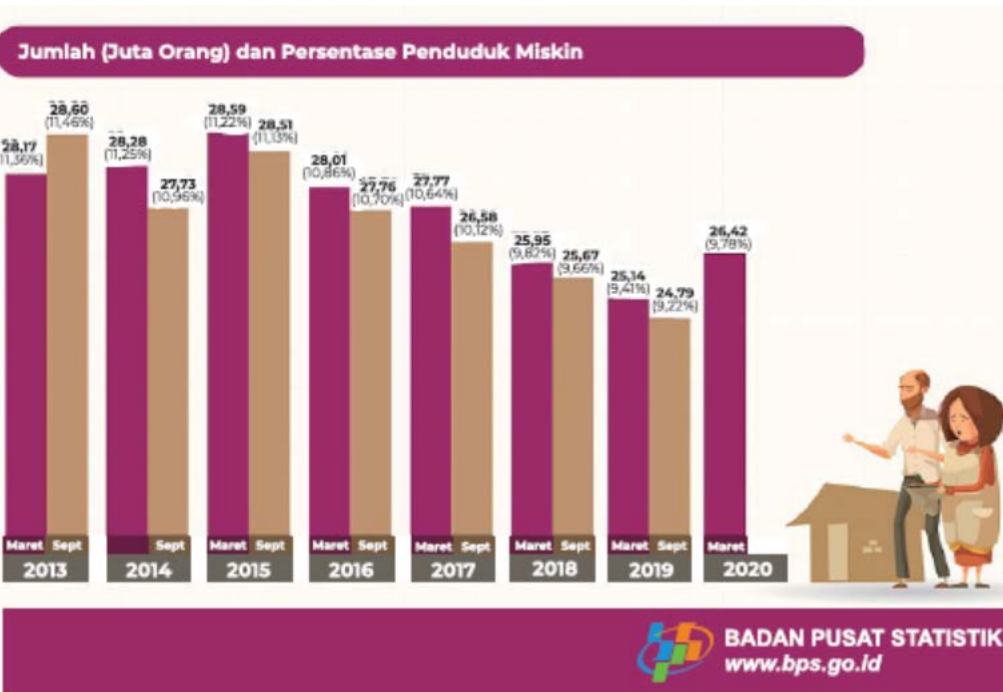
Direktur UNIC Francyne Harrigan mengajak semua media di seluruh dunia untuk ikut mengkampanyekan SDGs. Program SDGs dinilai perlu dikampanyekan secara optimal untuk

- a. meningkatkan keterlibatan dari pemerintah.
- b. mengoptimalkan partisipasi dari seluruh kalangan masyarakat.
- c. mendorong peningkatan kesadaran di wilayah yang tidak terjangkau media.
- d. mengembangkan perusahaan media di seluruh dunia.



SOAL NOMOR 34

Perhatikan grafik berikut:



Sumber: bps.go.id (2020)

Pernyataan yang paling sesuai dengan informasi di dalam grafik

- Tingkat kemiskinan di Indonesia terus menurun sepanjang tahun.
- Profil kemiskinan adalah salah satu indikator keberhasilan SDGs.
- Pandemi di tahun 2020 menyebabkan penurunan angka kemiskinan.
- Tantangan pencapaian SDGs meningkat di tahun 2020.



SOAL NOMOR 35

Contoh aksi yang dapat dilakukan oleh masyarakat untuk mengurangi angka kemiskinan di Indonesia

- a. Memberikan bantuan uang kepada orang tidak mampu untuk membeli makanan.
- b. Membuat program pemberdayaan masyarakat dalam berbagai bentuk.
- c. Menuntut pemerintah untuk melakukan program pengentasan kemiskinan.
- d. Meminta dana kepada lembaga kerja sama internasional.



SOAL NOMOR 36

Seperti yang sudah kita pelajari, masyarakat di dunia memiliki keragaman dalam berbagai hal seperti ciri fisik dan budayanya.

- a) Menurutmu, mengapa hal tersebut bisa terjadi?
- b) Bagaimana kita harus menyikapi perbedaan tersebut?



SOAL NOMOR 37

Dunia kita terbagi ke dalam beberapa wilayah yang terdiri dari banyak negara. Meskipun demikian, setiap negara saling bekerja sama satu sama lain dalam berbagai bentuk kerja sama internasional. Apa penyebab terjadinya kerja sama internasional?



SOAL NOMOR 38

Melalui politik bebas aktif, Indonesia selalu mencoba untuk berperan dalam berbagai bentuk kerja sama internasional. Indonesia aktif melakukan hubungan bilateral dengan berbagai negara dan ikut berkontribusi dalam berbagai kerja sama di lingkup kawasan dan dunia.

- a) Apa saja peran yang telah dilakukan oleh Indonesia dalam kerja sama internasional
- b) Apa manfaat yang telah Indonesia dapatkan dari kerja sama tersebut?



SOAL NOMOR 39

Terdapat 17 isu dalam Tujuan Pembangunan Berkelanjutan (*Sustainable Development Goals/SDGs*) yang sedang diupayakan oleh negara-negara di dunia untuk bisa tercapai di tahun 2030. Pilih salah satu isu SDGs tersebut yang terjadi di lingkungan atau daerah sekitarmu, lalu uraikanlah informasinya melalui beberapa poin berikut:

- a. Nama Isu
- b. Keterangan/Penjelasan
- c. Contoh permasalahan yang terjadi
- d. Solusi yang dapat dilakukan



SOAL NOMOR 40 (1)

Perhatikan informasi berikut.

RI Penghasil Sampah Plastik Terbesar Kedua di Dunia Jakarta - Indonesia menjadi produsen negara kedua terbesar

penghasil sampah plastik ke laut setelah China. Sampah plastik tersebut didominasi oleh plastik yang sulit terurai. Banyaknya sampah yang dihasilkan oleh masyarakat menjadi penyebab utama terkontaminasinya lautan yang ada di Indonesia. Kepala Dinas Lingkungan Hidup DKI Jakarta Andono Warih, saat ditemui di kantornya menyampaikan jika, “Kita dikenal sebagai negara kedua terbesar menghasilkan sampah plastik ke laut sebanyak 1,3 juta ton per tahun. Hal ini dapat membahayakan ekosistem laut dan membahayakan generasi yang akan datang,” ujar Andono.

Sumber: <https://travel.detik.com/travel-news/d-5079304/ri-penghasilsampah-plastik-terbesar-kedua-di-dunia-bahayakan-wisata>



SOAL NOMOR 40 (2)

- a. Menurutmu, mengapa masyarakat Indonesia bisa menghasilkan sampah plastik yang begitu banyak dibandingkan dengan negara-negara lainnya di dunia?
- b. Apa solusi yang dapat kita lakukan untuk menghadapi isu tersebut?



SOAL NOMOR 41

ASEAN merupakan organisasi negara-negara yang berada di kawasan Asia Tenggara. Negara-negara kawasan tersebut menjalin kerjasama untuk mencapai tujuan tertentu.

Tuliskan tiga faktor adanya kerjasama antar negara/ terbentuknya organisasi ASEAN



SOAL NOMOR 42

Apa yang dimaksud Kerjasama multilateral? Berikan contohnya!



SOAL NOMOR 43

Tuliskan dengan bahasamu sendiri sejarah peradaban, bersumber dari apa yang telah kamu pelajari, dan bagaimana interaksi peradaban tersebut membawa negara-negara kedalam kerja sama antar negara, minimal 125 kata.



SOAL NOMOR 44

Bagaimana cara untuk mengatasi pemanasan global, berdasarkan pemikiranmu?



SOAL NOMOR 45

Tuliskan 1 buah doa ungkapan syukur pada Sang Pencipta Alam Semesta, akan karunia yang diberikannya sehingga hadir benua-benua di dunia dan keragaman masyarakat dunia. Memohon tuntunan Tuhan agar masyarakat dunia aman dan damai serta negara-negara dapat mengatasi segala permasalahan masyarakat dunia dengan baik dengan penuh kedamaian, termasuk peranmu di masa mendatang.



SEMANGAT



*Beli pulpen sama zikir
Zikir suka memelihara kucing
Kalau jawab soal ujian dipikir
Bukan degan menghitung kancing*

KELAS DIGITAL IPS SMPN 285

Tetap **SEMANGAT**, Raih **PRESTASI**, Namun Tetap **RENDAH HATI!**

SOCIAL STUDIES DIGITAL CLASS

2026 © Guru IPS SMPN 285 Jakarta

www.guruipssmpn285jkt.online